

Устный счёт

Математика, 1 класс

Найди «соседей» числа
Запиши в тетрадь



**Расставь числа в порядке
возрастания**

4 2 1 6 3 5

Заполни таблицу

10	9	8	7	6	5

2

1

3

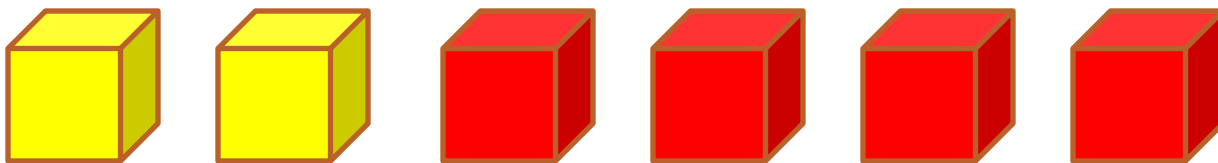
4

5

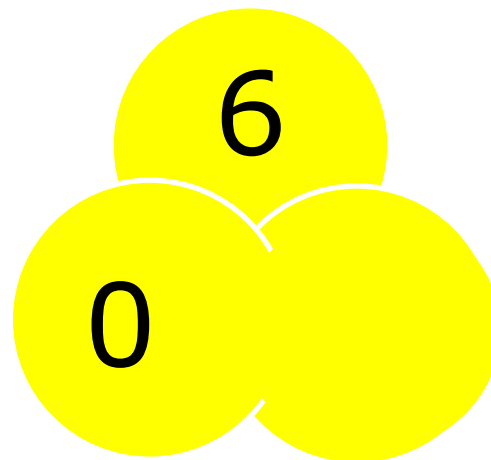
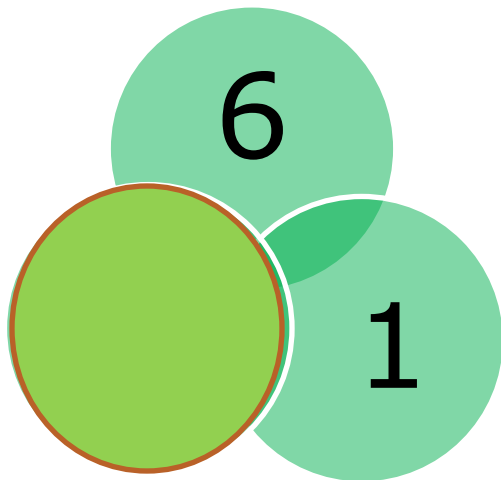

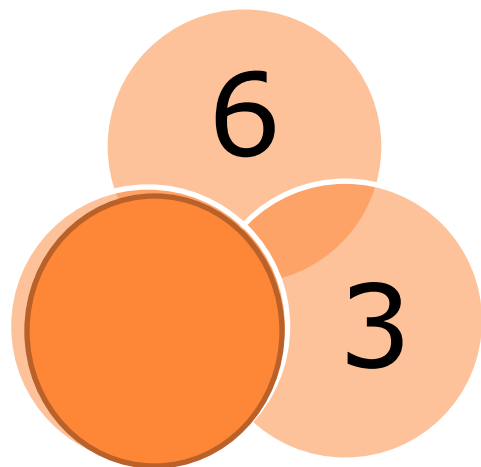
Реши задачу
Запиши решение в тетрадь

Два кубика у Миши,
Четыре – у Наташи.
Вы кубики все эти
Скорей считайте, дети!

$$2 + 4 = 6$$



Заполни пропуски



Реши задачу

Во дворе гуляли утки и овцы.
Мальчик посчитал их лапы. Всего 8
лап. Сколько было уток и сколько
было овец?



МОЛОДЦЫ!

