




Электронная игра по ПДД

# « Школа дорожных знаков »





# Дорогой друг!



Ты знаешь, что улицы современного города заполнены автомобилями, автобусами и грузовыми машинами. Беспорядок на улицах сделал бы жизнь трудной и опасной. Чтобы беспорядка не было, составлены правила уличного движения – законы улиц и дорог. Они сделаны в виде знаков и понятны без слов жителям всех стран.




Предлагаю тебе познакомиться с ними.



# Познакомься с правилами навигации (передвижения)

Для перехода на следующий слайд нажми на 

Чтобы получить ответ на вопрос, нажми 

Подробную информацию ты сможешь узнать, кликнув на 

Нажав на , ты можешь вернуться назад. Чтобы выйти из игры, жми  .

Удачи!



На какие группы можно разделить  
эти дорожные знаки?



Какие названия имеют данные группы?

Чтобы проверить, нажми на прямоугольник с вопросом.  
Подробную информацию о группе знаков можно узнать, обратившись  
к сотруднику дорожной службы (кликни на него).



# Предупреждающие знаки



Нажав на знак, ты можешь прочитать его название.

Эти знаки предупреждают водителя о приближении к опасному участку дороги. Они представляют собой белые треугольники с красной каймой.



# Запрещающие знаки



Нажав на знак, ты можешь прочитать его название.

Эти знаки что-либо запрещают водителю (въезд, остановку, обгон). Они представляют собой белые круги с красной каймой. На многих есть красная перечёркивающая линия.



# Предписывающие знаки



Нажав на знак, ты можешь прочитать его название.

Эти знаки предписывают водителю в какую сторону можно двигаться по дороге. Они представляют собой синие круги с белым рисунком.






# Информационно-указательные знаки



Нажав на знак, ты можешь прочитать его название.

Эти знаки указывают, где находится пешеходный переход, остановка и т.д. Они представляют собой синие прямоугольники или квадраты с различными рисунками.



# Знаки сервиса




Нажав на знак, ты можешь прочитать его название.

Сервис – это обслуживание. Знаки сервиса показывают водителю, где можно поесть и отдохнуть, починить машину, где находится больница и т.д. Они представляют собой синие прямоугольники



# Проверь себя.



**Рассмотри картинки  
и определи, к какой  
группе относятся  
дорожные знаки.**



?



?



?



?



?





Какой цифрой обозначен знак  
“Пешеходный переход”?



1



2



3

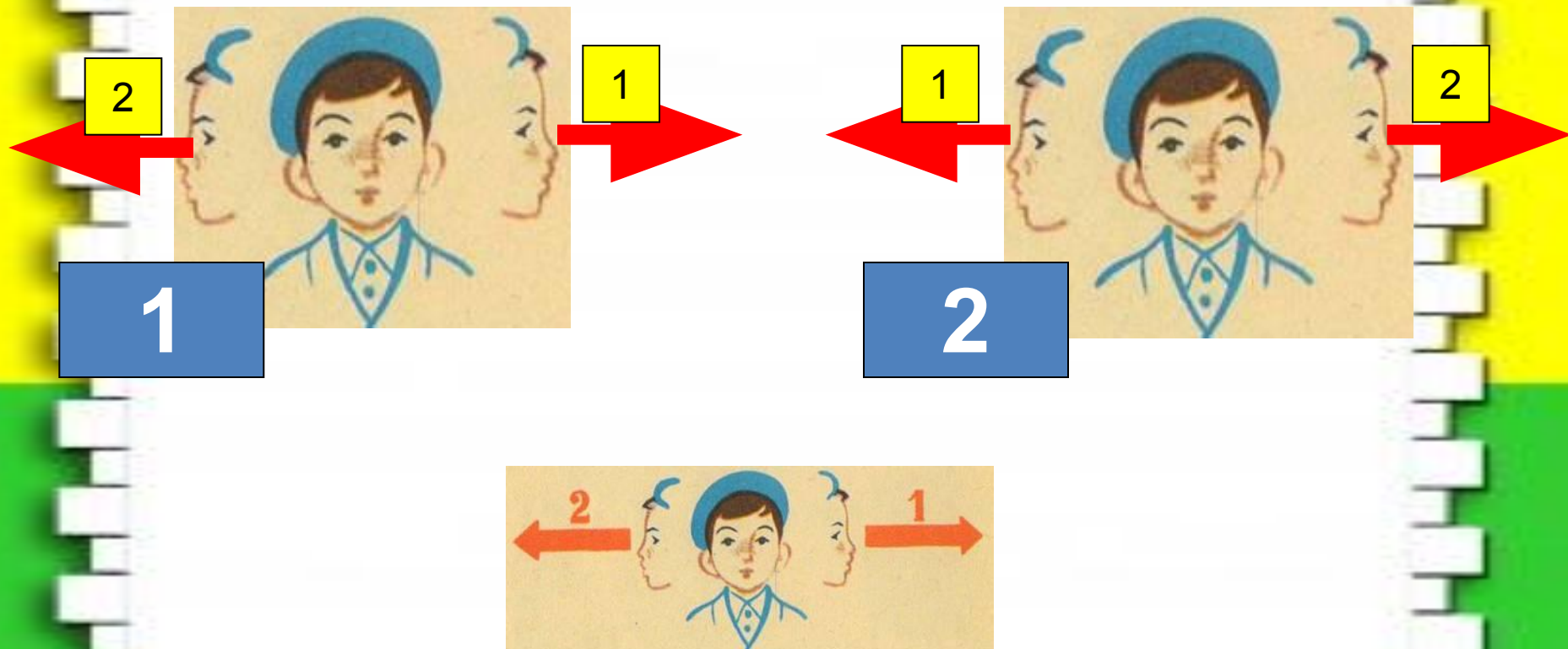


4



5

**Переходя дорогу, куда  
нужно посмотреть  
сначала, куда потом?**



Какой из этих знаков запрещает движение на велосипеде?



1



2



3



4



5



6



*Подведение итогов*

**МОЛОДЦЫ!**