



Сравниваем двузначные числа



Урок математики 1 класс
УМК «Планета знаний»

Устный счет


- $2+6-3=$ $8-3-4=$ $3+5-4=$ $9-6+5=$
- $5+4-2=$ $9-2+3=$ $7-2+4=$ $8-6-2=$

• Назовите геометрические фигуры.

• Какая фигура занимает большую площадь?

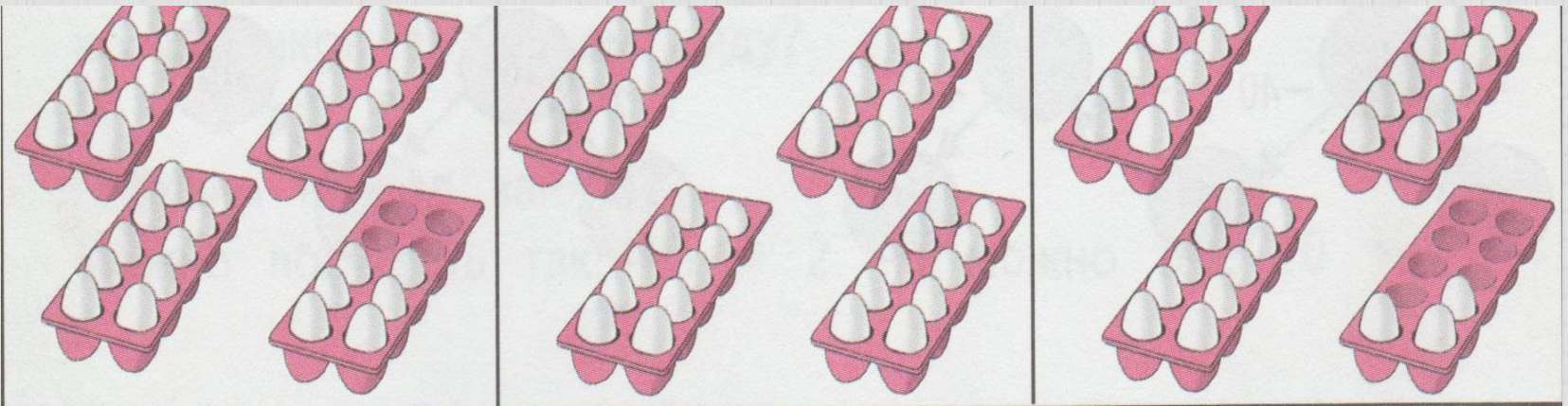


Повторим...



- Назови только двузначные числа:
14, 24, 6, 75, 17,8, 28, 56.
- Сколько десятков в каждом числе? Сколько единиц?
- Какое число самое маленькое? Как ты это определил?
- Вспомни правила сравнения чисел, которые ты знаешь.

Узнаём новое...



- На каком рисунке больше всего яиц? На каком меньше всего?
- Объясни, как ты это определил.
- Чтобы сравнить два двузначных числа, нужно сначала сравнить количество десятков. Например:

- **38...42**

3д. < 4 д., значит, 38 < 42.

- Если количество десятков в числах одинаково, то сравнивают количество единиц. Например:

- **57...54**

5д.=5д., 7 > 4 , значит, 57 > 54.

Будем сравнивать...



- Сравни числа. Объясни своё решение.
39...51 82...47 8...18 81...18 46...43
75...79
- У белки в одном тайнике 60 орехов, а в другом- на 20 орехов больше. Сколько орехов во втором тайнике? В каком тайнике больше?
- Ёжик нашёл 48 грибов, а диких яблок на 40 меньше. Сколько яблок нашёл ёжик? Чего меньше нашёл ёжик?

№5 (а)

- I тайник-60 ор.
- II тайник - ? ор., на 20 >
- Решение.
- $60 + 20 = 80$ (ор.)
- Ответ: 80 орехов во II тайнике.

№5 (б)

- Грибы – 48 шт.
- Яблоки - ? шт., на 40 <
- Решение .
- $48 - 40 = 8$ (ябл.)
- Ответ: 8 яблок нашёл ёжик.

Самостоятельная работа

- **Вычисли:**

$2+3$

$1+7$

$4-2$

$8-6$

$12+3$

$11+7$

$14-2$

$18-6$

$42+3$

$21+7$

$54-2$

$78-6$



- **Реши задачи:**

Возле кормушки 35 воробьёв, а галок на 30 меньше. Сколько галок у кормушки?

Таня весит 32 килограмма. Рюкзак весит 4 килограмма. Сколько весит Таня с рюкзаком?

- **Воробьи – 35 п.**
- **Галки - ?пт., на 30 <**
- **Решение .**
- **$35 - 30 = 5$ (пт.)**
- **Ответ: 5 галок у
кормушки.**

- **Таня – 32 кг**
- **Рюкзак – 4 кг**
- **Всего - ? кг**
- **Решение.**
- **$32 + 4 = 36$ (кг)**
- **Ответ: 36 кг весит Таня вместе с рюкзаком.**

Оцени свою работу...

- Если ты всё усвоил и выполнил все задания, то ты



- У тебя :



Задания по желанию...

- Учебник с. 81 № 6 и 7



Спасибо за урок!