

ТРЕНАЖЁР

ДЛЯ ПОДГОТОВКИ
К ВПР 6 КЛАСС

1 2 3 4 5



МАТЕМАТИКА

Туезова Лариса Николаевна

учитель математики

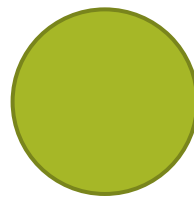
ГБОУ лицея №389 «ЦЭО»

Кировского района Санкт - Петербурга

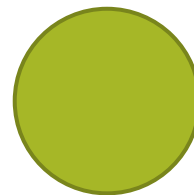


Вычислите: $1,315 + 8,79$.

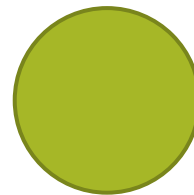
Молодец!



10,105



9,105




9,15






Вычислите: $(6 - 13) \cdot (32 - 41)$

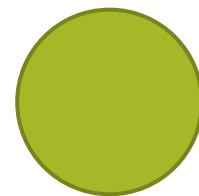
Молодец!



16




- 63




63




Вычислите: $\frac{20}{3} : 4\frac{4}{9} - 2.$




Молодец!



3



1,5




1



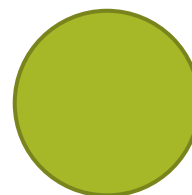


Вычислите: $-17 - (28 - 53)$.


Молодец!



8



42



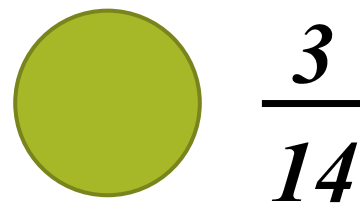
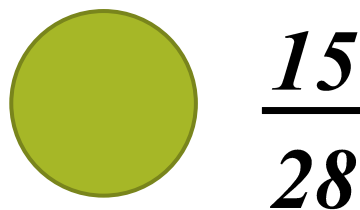

64





Вычислите: $(\frac{2}{7} + \frac{1}{4}) \cdot \frac{2}{5}$.


Молодец!






Вычислите: $(3\frac{2}{5} - 3,6) : \frac{1}{10}$.


Молодец!



0,2



- 0,2



- 2



Вычислите: $(5\frac{1}{4} - 5,45) : \frac{1}{20}$



•

Молодец!

0,4

40


4






Вычислите: $0,003 : 0,1 \cdot 0,02$.

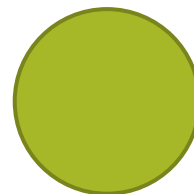
Молодец!



0,006



0,15



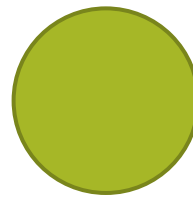
6



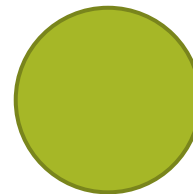


Вычислите: $0,003 \cdot 0,0003 \cdot 300000$.

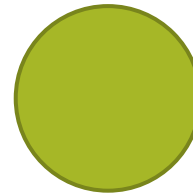
Молодец!



0,27



27




2,7





Решите уравнение: $-3,5 - x = 0,7$

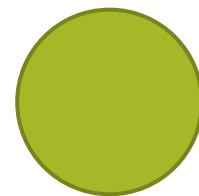
Молодец!



2,8



- 2,8




- 4,2






Решите уравнение: $x + 4,1 = 5,6$


Молодец!



9,7




- 9,7



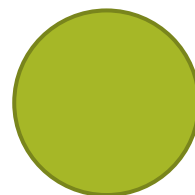
1,5




Найдите $\frac{5}{6}$ от числа 132.




Молодец!



158,4



160




110



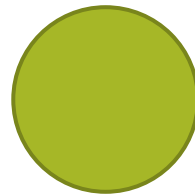


В магазине было 28 холодильников. За день продали седьмую их часть. Сколько холодильников остались нераспроданными?

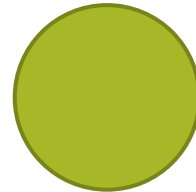
Молодец!



4



24




7




*В кинотеатре занято три четверти
всех мест. Сколько мест в кинотеатре,
если занято 150 мест?*



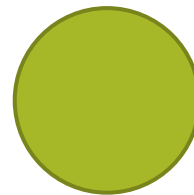
Молодец!



200




450




600

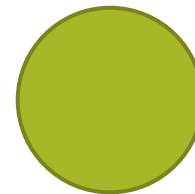


В альбоме 120 фотографий, 15% из них - 
чёрно - белые, остальные цветные. Сколько
чёрно - белых фотографий в альбоме?

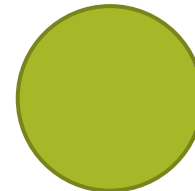
Молодец!



18



180



105





Источники информации:

1. https://mathematics-tests.com/matematika/1-klass/1kl_chislovoy_ryad-new.jpg - картинка человечка
2. <https://vpr.statgrad.org/#vpr2017/> - Официальный сайт ВПР
3. О.А. Виноградова, Е.А. Коновалов. Под редакцией И.В. Ященко. Математика 6 класс. 12 вариантов итоговых работ для подготовки к ВПР. Московский центр непрерывного математического образования. М. «Интеллект – Центр». 2018
4. Под редакцией Ф.Ф. Лысенко, Е.Г. Конновой, Д.И. Ханина. Математика 6 класс ВПР. 14 тренировочных вариантов. Учебно – методическое пособие. Ростов - на – Дону «Легион». 2018