




Закрепление. Решение задач

СТР. 74



К уроку № 113

«Школа России» 3 класс

Устный счёт



1. Найди сумму чисел **460** и **40**.
2. Найдите разность **389** и **80**.
3. Найдите произведение **200** и **3**.
4. Найдите частное **180** и **6**.
5. Из какого числа нужно вычесть **70**, чтобы получить **330** ?
6. К какому числу нужно прибавить **110**, чтобы получить **550** ?
7. Найдите **$1/5$** от числа **500**.
8. **$1/3$** это число **150**. Найдите всё число.
9. Сколько десятков в числе **289** ?
10. Сколько сотен в числе **709** ?
11. Какое число больше числа **350** на **3** десятка.
12. Уменьшите **490** на **4** сотни.
13. **5 м 48 см** переведи в см.

Отвeты:



500, 309, 600, 30,
400, 440, 100, 450,
28, 7, 380, 90,
548, 2


Назовите предыдущие и последующие числа.



780 500 398 609

379 601 902 499

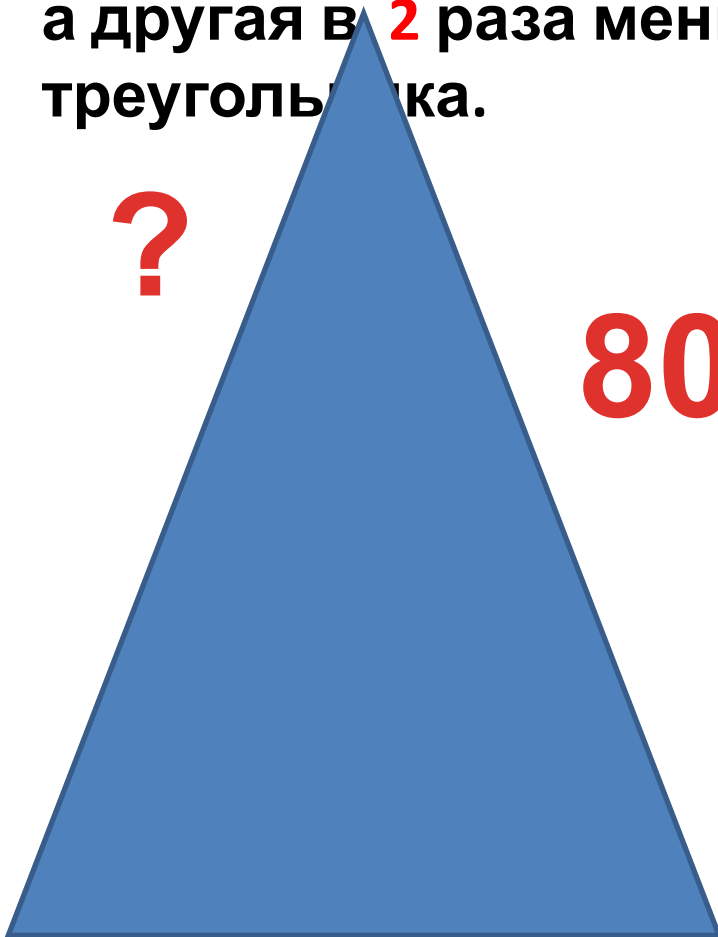
Сумма длин всех сторон пятиугольника равна **80 см**, найдите длину стороны, если все стороны пятиугольника одинаковые.



16 см

Одна сторона равнобедренного треугольника равна **80 мм**,

а другая в **2** раза меньше. Найдите периметр треугольника.



80 мм

?

200 мм = 20

В первый день туристы прошли **10 км**, а во второй на **2 км** меньше, чем в первый. А в третий день на **3 км** меньше, чем в 1 и 2 вместе. Сколько км туристы прошли в 3 день?



15 км

Группа туристов взяла для похода **10 банок** мясных консервов, это в **3** раза меньше, чем овощных консервов.

Сколько всего банок овощных и мясных консервов **вместе**?

$$10 \bullet 3 + 10 = 40 \text{ (б.)}$$

40 банок



Рюкзак дяди Пети весит **16 кг**, а рюкзак дяди Вани **на 2 кг** меньше, чем дяди Пети. А рюкзак Васи **в 2 раза** меньше,

$$(16 - 2) : 2 = 7 \text{ (кг)}$$



7 кг

Задания на смекалку



В двух бочках было одинаковое количество воды. После того, как из 1 бочки взяли $\frac{1}{3}$ часть, а со 2 бочки 18 литров, воды в бочках осталось поровну. Сколько воды было в каждой бочке?



54 л

конец