

**Задачи на разностное  
сравнение.**

# Сравните числа.

**6 и 10**

**18 и 10**

**44 и 30**

**13 и 8**

**19 и 5**

**40 и 2**

**80 и 6**

**48 и 20**

**59 и 9**

**Учебник стр.129 №1**

**Решите задачу.**

**На одном дереве сидит 10 грачей,  
а на другом 14 грачей.**

**На сколько меньше грачей сидит  
на первом дереве?**

**Чтобы узнать на сколько одно  
число больше или меньше  
другого нужно ...**


**Трудная задача.**

Учебник стр.72 з.4

**Сделаем из трудной  
простую задачу.**

У Тани - 8 од.

У Светы- 7 од.



# Решите самостоятельно примеры.

$62-8$


$34-5$

$45-7$

$78-9$

$81-3$


$14-8$





Задание из геометрической  
страны.

**Начертите прямоугольник со  
сторонами  
3 см и 4 см.**



**Возьми одну сторону  
прямоугольника и начерти  
квадрат.**

# Домашнее задание.

Р.Т. стр.30 з.1,2.

Учебник с.130 №1 (1)

