

# УСТНЫЙ СЧЕТ

к учебнику «Математика» часть 1.  
Автор учебника Л.Г. Петерсон


## 1 класс

---

### Урок № 38

«Области и границы. Нахождение  
неизвестного компонента  
сложения».





**1 2 3 4 5 6 7 8 9 10**  
**11 12 13 14 15 16 17 18 19 20**

---

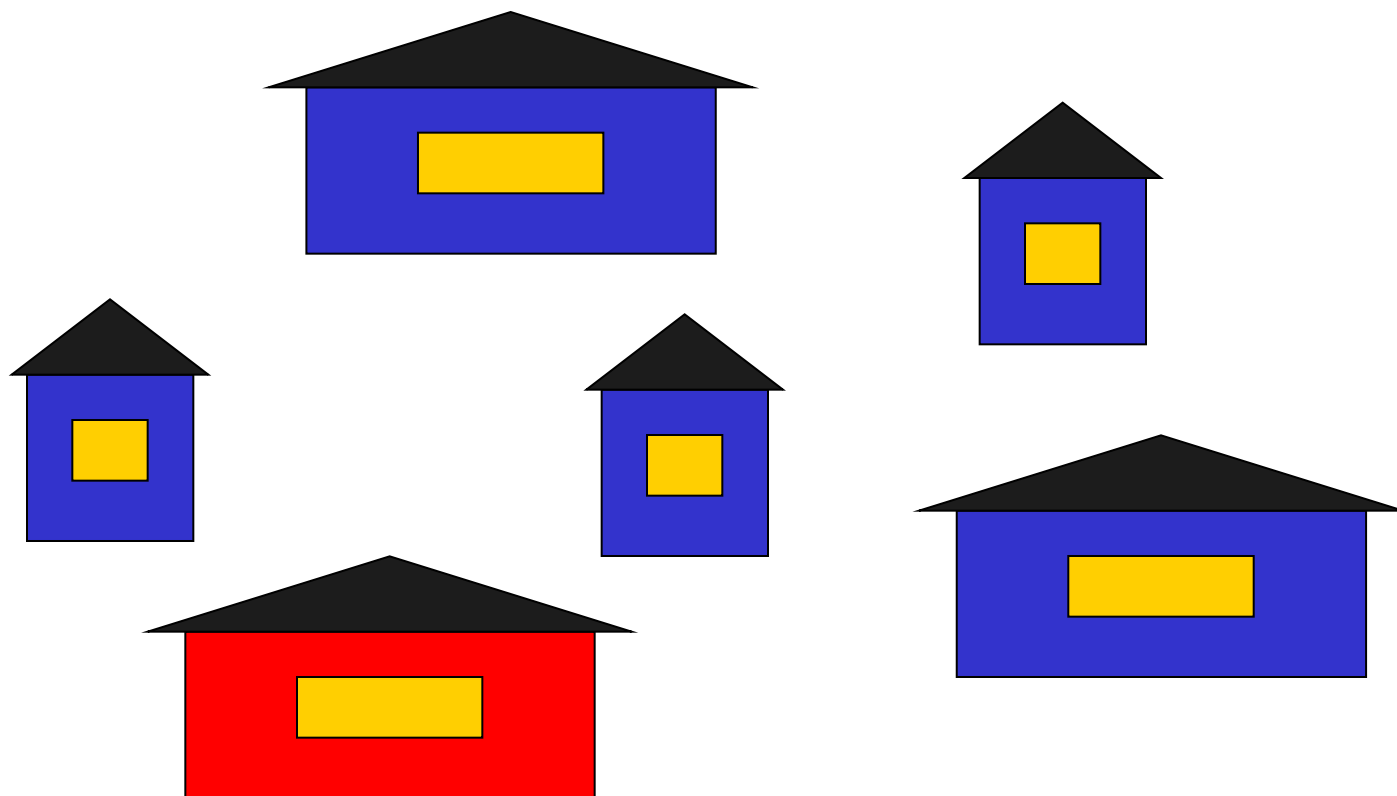
- **Посчитай до 20 и обратно.**
- **Сосчитай от 14 до 17, от 19 до 13.**
- **Назови следующее число числу 15, 11.**
- **Назови предыдущее число числу 14, 19.**
- **Какое число стоит между 15 и 17?**  
**Между 13 и 15?**
- **Какое число стоит справа от 17?**  
**Слева от 19?**
- **Назови соседей числа 15.**
- **Какое число больше 13, меньше 16,  
но не 14?**



Определи по какому признаку  
разделили фигуры на части, дополни  
числовые и буквенные выражения.

$$K + C = \Phi$$

$$1 + 5 = 6$$

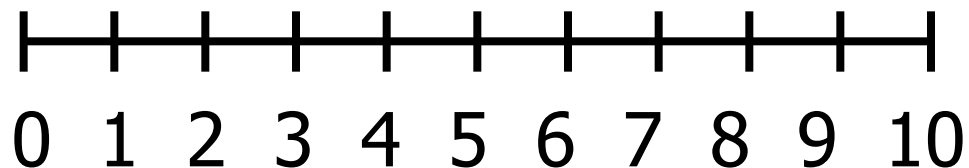




# Игра «День – ночь».

---

$$5 - 3 + 4 - 3 + 2 - 3$$



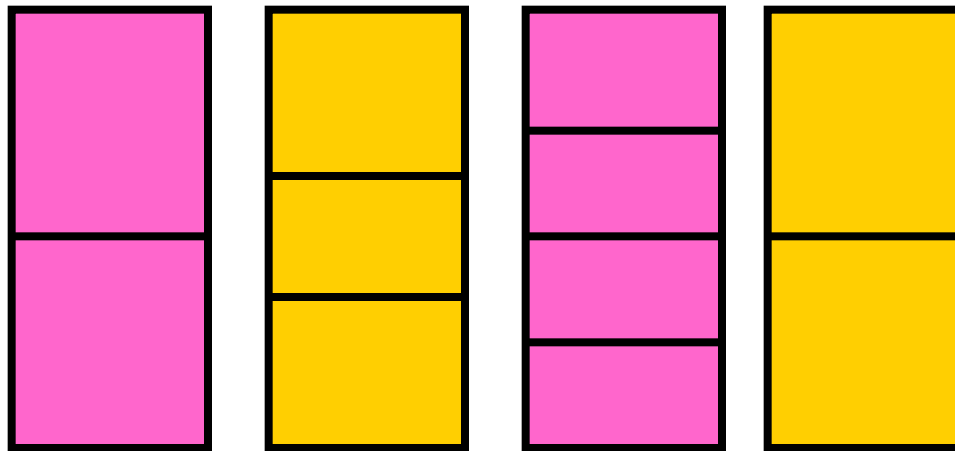
**Используя закономерность,  
впиши недостающие числа.**

<b>1</b>	<b>3</b>	<b>2</b>
<b>1</b>	<b>4</b>	<b>1</b>
<b>2</b>	<b>2</b>	<b>?</b>


<b>2</b>	<b>3</b>	<b>0</b>
<b>2</b>	<b>1</b>	<b>1</b>
<b>3</b>	<b>1</b>	<b>?</b>



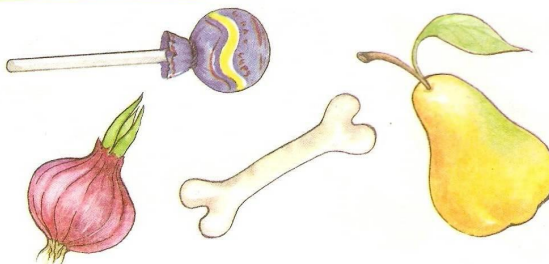
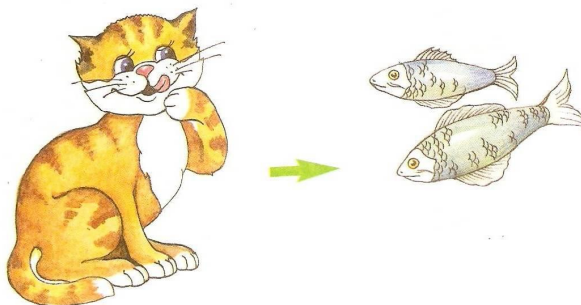
# Продолжи ряд, используя закономерность.



# Дорисуй недостающие фигуры.



# Установи смысловые отношения и подбери пару.








# Реши задачу.



**Белка, лиса и заяц живут в домах синего, красного и зелёного цвета. Лиса живет не в зелёном и не в синем доме, белка живёт не в зелёном и не в красном доме. В каком доме живет заяц?**





# Реши задачу.

**Мама вышила ковер.  
Посмотри, какой узор!  
Две большие клеточки,  
В каждой по три веточки.  
Села Маша на кровать,  
Хочет веточки считать,  
Да никак не может!  
Кто же ей поможет?**





# Найди отличия.

---

