




УМК «Начальная школа 21 века»  
Урок математики в 1 классе №  
98

Тема: «**УВЕЛИЧЕНИЕ И  
УМЕНЬШЕНИЕ ЧИСЛА  
НА НЕСКОЛЬКО ЕДИНИЦ**»



# Самостоятельная работа

$5 + 4$

$7 + 6$

$13 - 4$

$9 - 3$

$5 + 6$

$12 - 6$

$8 + 6$

$10 - 8$

$9 + 3$

$5 + 7$

$10 - 7$

$5 + 6$

$12 - 4$

$14 - 10$

$6 + 4$

$15 - 6$

$14 - 4$

$10 - 9$

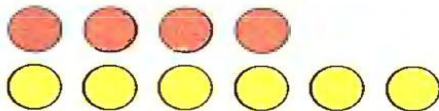


# Работа по учебнику, стр.100

В группе детского сада 4 мальчика, а девочек на две больше. Сколько девочек в группе?



Объясни, почему выполнено сложение.



$$4 + 2 = 6$$






# Работа по учебнику, №2




В террариуме 8 ужей, а черепах на 3 больше. Сколько черепах в террариуме?





# Проверь и оцени себя!



В террариуме 8 ужей, а черепах на 3 больше. Сколько черепах в террариуме?

**$8 + 3 = 11$  (ч.) – в  
террариуме.**

**Ответ: 11 черепах.**





# Работа по учебнику, №3



В шахматном турнире Коля набрал 5 очков, а Серёжа на 3 очка больше.

Сколько очков набрали оба мальчика? Сколько очков набрал Серёжа?

На какой из этих вопросов легче ответить и почему?







В шахматном турнире Коля набрал 5 очков, а Серёжа на 3 очка больше. Сколько очков набрали оба мальчика? Сколько очков набрал Серёжа? На какой из этих вопросов легче ответить и почему?

**$5 + 3 = 8$  (о.) – набрал Серёжа.**





# Проверь и оцени себя!



В шахматном турнире Коля набрал 5 очков, а Серёжа на 3 очка больше. Сколько очков набрали оба мальчика? Сколько очков набрал Серёжа? На какой из этих вопросов легче ответить и почему?

**$5 + 3 = 8$  (о.) – набрал Серёжа.**

**$5 + 8 = 13$  (о.) – набрали мальчики.**


**Ответ: 13 очков.**






# Работа по учебнику, стр.105


У Пети 8 книг, а тетрадей на 3 меньше.  
Сколько тетрадей у Пети?




Объясни, почему выполнено вычитание.



$$8 - 3 = 5$$




# Работа по учебнику №2



Для ремонта дачи приготовили 9 досок, а брёвен на 4 меньше. Сколько брёвен приготовили для ремонта?





Проверь и оцени себя!



Для ремонта дачи приготовили 9 досок, а брёвен на 4 меньше. Сколько брёвен приготовили для ремонта?

**$9 - 4 = 5$  (б.) – приготовили  
для**


**ремонта.**

**Ответ: 5 брёвен.**






# Работа по учебнику № 3




На вешалке 9 шляп, а шапочек на 5 меньше.  
Сколько шапочек на вешалке? Сколько всего  
головных уборов?





# Проверь и оцени себя!




На вешалке 9 шляп, а шапочек на 5 меньше.  
Сколько шапочек на вешалке? Сколько всего  
головных уборов?

**1)  $9 - 5 = 4$  (ш.) – на  
вешалке.**

**2)  $9 + 4 = 13$  (г. у.) – всего.**

**Ответ: 13 головных  
уборов.**





Быстро встали, улынулись.

Выше-выше потянулись.

Ну-ка, плечи распрямите,

Поднимите, опустите.

Вправо, влево повернитесь,

Рук коленями коснитесь.

Сели, встали. Сели, встали.

И на месте побежали.



# Работа по тетради, стр.67

Увеличь на 6 каждое из чисел и запиши результат.

2	4	5	7	9	0



# Проверь и оцени себя!



Увеличь на 6 каждое из чисел и запиши результат.

2	4	5	7	9	0
<b>8</b>	<b>10</b>	<b>11</b>	<b>13</b>	<b>15</b>	<b>6</b>





# Работа по тетради №3



Под мухомором от дождя спрятались на две  
мышки больше, чем под белым грибом.  
Сколько мышек под мухомором?



Решение:

--	--	--	--	--	--	--	--

Ответ:



# Проверь и оцени себя!



Под мухомором от дождя спрятались на две мышки больше, чем под белым грибом. Сколько мышек под мухомором?



Решение:



$$3 + 2 = 5(\text{м.})$$

Ответ: **5 мышек.**



# Работа по тетради, стр. 68 №3

Найди высоту стакана.



На 6 см выше

Решение:

--	--	--	--	--	--	--	--

Ответ:



--	--



# Проверь и оцени себя!



Найди высоту стакана.



Решение:

$$7 + 6 = 13 \text{ (см)}$$

Ответ: **13 см.**

На 6 см выше





# Проверь и оцени себя!




1. Нарисуй зелёные, синие и жёлтые фишки.



На 3 меньше

На 2 больше

На 4 меньше



# Работа по тетради № 2



Для большого скворечника Пете понадобилось 15 гвоздей, а для маленького — на 6 гвоздей меньше. Придумай вопрос и реши задачу.



*Решение:*

--	--	--	--	--	--	--	--	--	--

*Ответ:*

--	--



# Проверь и оцени себя!



Для большого скворечника Пете понадобилось 15 гвоздей, а для маленького — на 6 гвоздей меньше. Придумай вопрос и реши задачу.



Решение:

$$15 - 6 = 9$$

(г.) 9

гвоздей.





# Работа по тетради № 3



Уменьши на 5 каждое число и запиши результаты.

12	10	5	13	9	11	14





# Проверь и оцени себя!



Уменьши на 5 каждое число и запиши результаты.

12	10	5	13	9	11	14
<b>7</b>	<b>5</b>	<b>0</b>	<b>8</b>	<b>4</b>	<b>6</b>	<b>9</b>





Домашнее задание

***Д. м. – В тетради***

***стр. 68-69, стр.71-72***

***По выбору***



***номера.***

