

Повторение по теме: "Натуральные числа"



6 класс
Часть 1



Незнайка плохо умеет решать некоторые упражнения.




**Давайте
объясним ему
их решение!**





*Помогите Незнайке
определить неизвестное
число. Как Вы его получили?*



21

20

19

Кликните мышкой на нужное число.

Если верно, то число займет свое место, а неверный ответ улетит из слайда



*Помогите Незнайке
правильно назвать порядок
действий в примере.*

$$32 + 204 \cdot (739 - 147) : 8$$

Сложение

4

Умножение

2

Вычитание

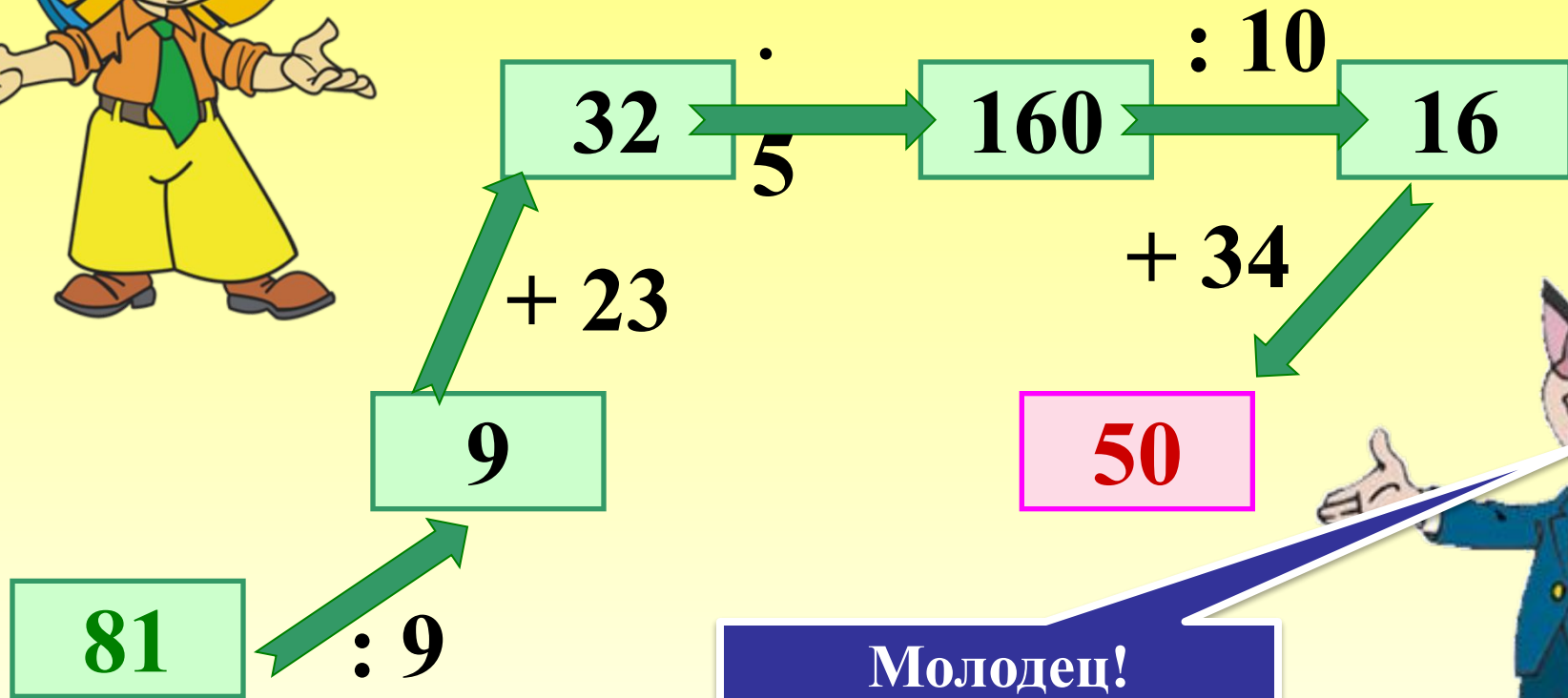
1

Деление

3

Какое действие будет 1, какое 2 и т.д. Ответ появляется по щелчку мыши

*Помогите Незнайке
заполнить схему № 1*

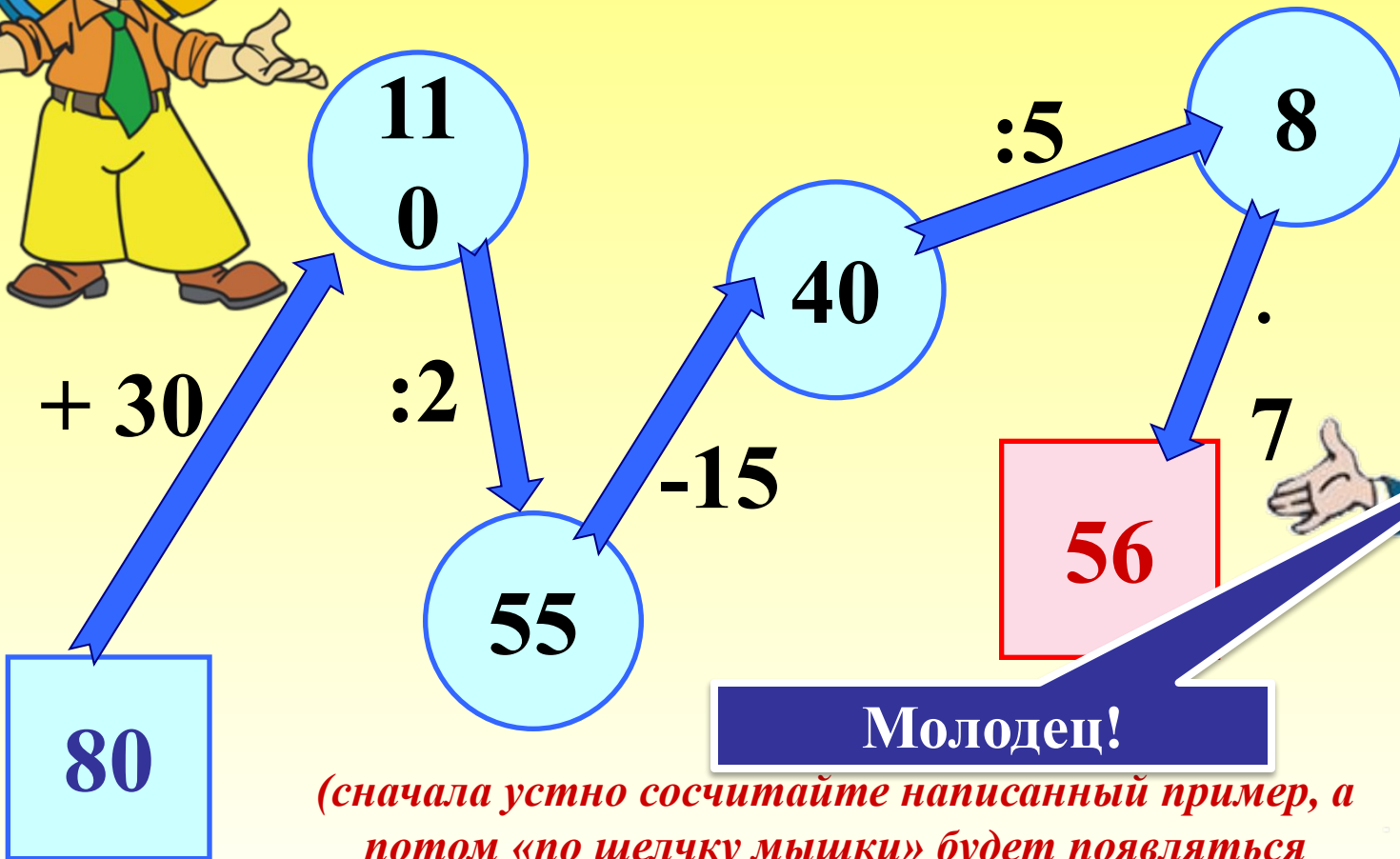


Молодец!



(сначала устно сосчитайте написанный пример, а потом «по щелчку мышки» будет появляться следующий прямоугольник уже с ответом)

*Помогите Незнайке
заполнить схему № 2*



Молодец!

(сначала устно сосчитайте написанный пример, а потом «по щелчку мышки» будет появляться следующий прямоугольник уже с ответом)



*Помогите Незнайке указать
натуральный ряд в
предложенных рядах чисел.*

Молодец!

1, 3, 5, 7...

0, 1, 2, 3...

1, 2, 3, 4...



*Кликните мышкой на ответ в прямоугольнике. Правильный ответ
останется, а неправильный улетит из слайда. Знайка будет оценивать
твою работу*



*Помогите Незнайке
показать числа,
расположенные в порядке
убывания*

Молодец!

155; 99; 74; 50; 33

15; 28; 61; 88; 129

297; 102; 5; 75; 20



Кликните мышкой на ответ в прямоугольнике. Правильный ответ останется, а неправильный улетит из слайда. Знайка будет оценивать твою работу

Найдите среди данных чисел четырехзначные



104

77

4

5 928

444

72

2 247

333

Молодец!



Кликните мышкой на четырехзначное число в звезде. Правильный ответ будет танцевать, а неправильный улетит из слайда



Помогите Незнайке найти
число восемнадцать
миллионов три тысячи сто
семьдесят пять

Молодец!

1. 183 001 75

2. 18 003 175

3. 750 0 1 831



Кликните мышкой на ответ в прямоугольнике. Правильный ответ останется, а неправильный улетит из слайда. Знайка будет оценивать твою работу



Выбери правильный вариант ответа

10 км 15 м

Молодец!

1015 м

10 015 м

10 150 м



Кликните мышкой на ответ в прямоугольнике. Правильный ответ останется, а неправильный улетит из слайда. Знайка будет оценивать твою работу

*Выбери правильный
вариант ответа*



3 м 2 дм 4 см

Молодец!

3240 мм

3024 мм

3204 мм



Кликните мышкой на ответ в прямоугольнике. Правильный ответ останется, а неправильный улетит из слайда. Знайка будет оценивать твою работу