

Внутренние воды Африки

Внутренние воды Африки

```
graph TD; A[Внутренние воды Африки] --> B[Реки]; A --> C[Озера];
```

Реки

р. Нил
р. Конго
р. Нигер
р. Замбези
р. Оранжевая
р. Лимпопо

Озера

оз. Виктория
оз. Чад
оз. Танганьика
оз. Ньяса

р.НИЛ



Одна из самых длинных рек мира и
Африканского континента.

дельта р. Нил



Водопад на реке Голубой Нил



берега Нила




р. Конго



- Заир (Конго)- река расположена в экваториальной Африке, занимает первое место в Африке и второе место в мире после Амазонки. Впадает в Атлантический океан.


р. Замбези

- Четвёртая по протяжённости река в Африке.
- Исток реки находится в Замбии и впадает в Индийский океан.
- На реке Замбези расположен водопад Виктория.



вдп. Виктория


**Ступенчатость
поверхности вызывает
порожистость многих
рек и образование
водопадов.
Крупнейший
и красивейший водопад
в Африке - Виктория
на реке Замбези.**



р. Нигер

Важнейшая река в Западной Африки. Третья по величине в Африке после Нила и Конго.

Исток находится в Гвинее и впадает в Гвинейский залив.



Озера из космоса



Оз. Виктория

Оз. Танганьика

Оз. Ньяса

Image NASA
Image © 2007 TerraMetrics

© 2007 Google

Координаты 7°06'27.71" Ю 31°11'03.42" В

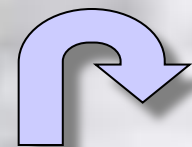
Потоковая передача: ||||| 100%

Высота камеры: 2619.03 км



оз. Виктория

Озеро в Восточной Африке, на территории Танзании, Кении и Уганды. Расположено в тектоническом прогибе Восточно - Африканской платформы. 2-е по величине пресное озеро мира после Верхнего озера и самое большое озеро в Африке.

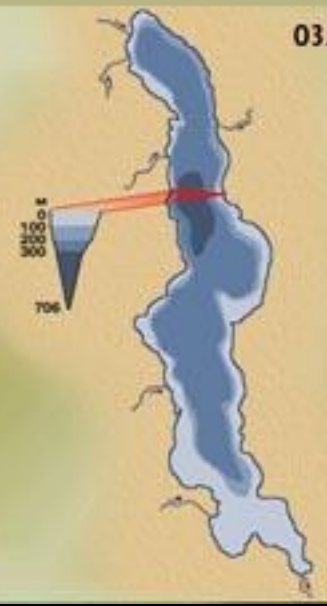


оз. Ньяса





оз. Ньяса



оз. Танганьика





оз. Танганьика



Подготовься к опросу по теме:

1. Самое длинное из пресноводных озёр мира -
2. Вторая по длине река Африки - ...
3. Самое большое озеро Африки - ...
4. Мелководное озеро, берега сильно заболочены и поросли папирусом - ...
5. Самая длинная река мира - ...
6. Особенность реки Замбези - ...
7. Река Западной Африки, впадающая в Гвинейский залив - ...
8. Озеро, которое вытянуто с севера на юг, протяженностью 650 км - ...

ДОМАШНЕЕ ЗАДАНИЕ:

- п.19 читать, учить по тетради, номенклатура в к/карте