
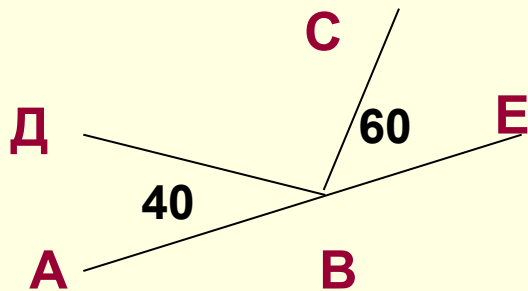


"Математика уступает свои стены только сильным и смелым!"

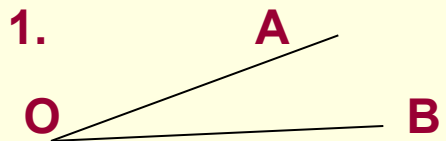


Математический диктант

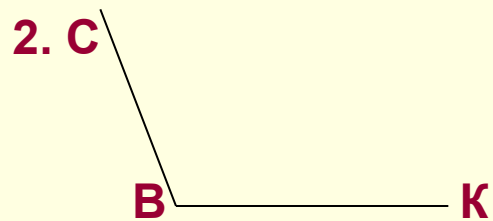
1. Постройте острый угол. Измерьте его величину.
2. Постройте угол величиной 100 градусов. Обозначьте и определите его вид.
3. Определите величину угла ДВС



Давайте проверим




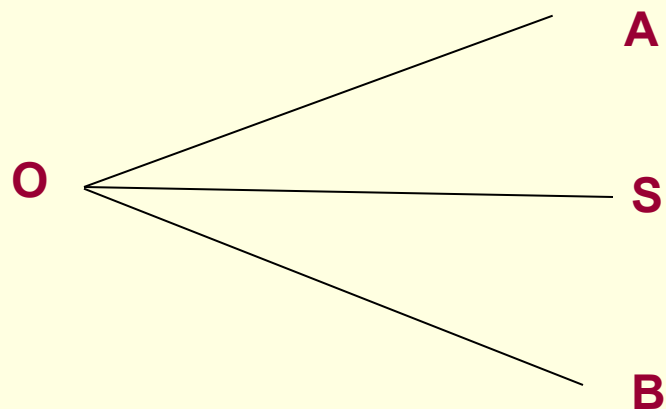
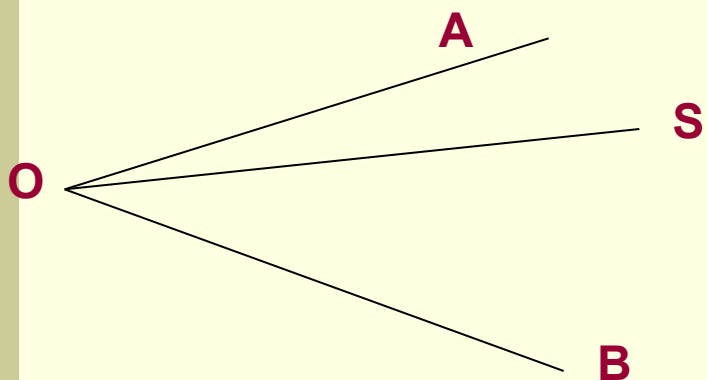
величина угла меньше 90 градусов.



угол СВК тупой

3. $\angle ДВС = \angle АВЕ - (\angle АВД + \angle СВЕ) = 180^\circ - (40^\circ + 60^\circ) = 80^\circ$



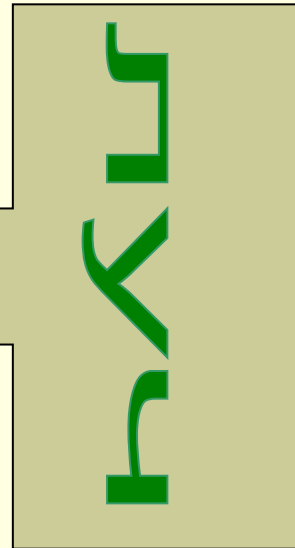
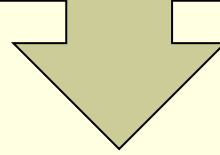


OS - биссектриса угла

Тема урока: «Биссектриса угла».






биссектриса



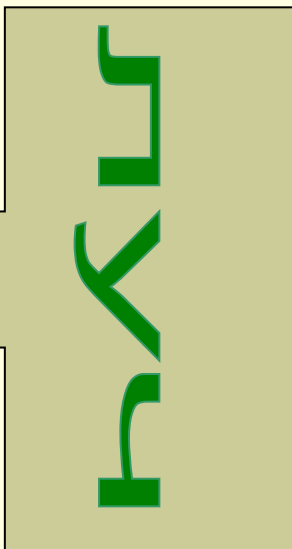
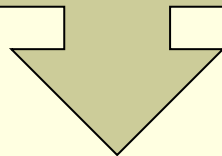
*который
выходит из
вершины
угла*

*и делит
этот угол
пополам*

на каком рисунке ты видишь биссектрису?



биссектриса



*который
выходит из
вершины
угла*

*и делит
этот угол
пополам*



Задают вопрос Борису:

- Что такое биссектриса?

Математик-виртуоз

Так ответил на вопрос:

- Это луч, который нам

Делит угол пополам.

Он выходит на века

Из вершины уголка.



Домашнее задание:

П. 42

№1685, №1687.

Подведение итогов

Наш урок подходит к концу, подумайте о том с какой пользой для вас прошёл этот урок, начните свой ответ с любого из предложений:

Я знаю, что ...

Я хорошо знаю, что ...

Я должен знать, что ...

Я умею...



Все сегодня молодцы!
Спасибо за урок!

