

# Кладоискатели

Викторина по математике для 5-6  
классов.



А знаете ли вы?

**«Математику уже затем  
учить надо,  
Что она ум в порядок приводит»**



**Лобачевский Н.И.**



**Ломоносов М.В.**



**Пифагор**



# Краткие правила викторины:


- Команды кладоискателей отвечают на вопросы по очереди.
- Отвечать на вопрос может только тот участник команды, который не отвечал на прошлый вопрос.
- За каждый верный ответ команда получает некоторое количество монет.
- Команда набравшая наибольшее количество монет объявляется победителем.



# Карта сокровищ:



# [ Последний клад! ]




1



2




3




# [ Красный сейф (5 золотых) ]

- Один кирпич весит 1 килограмм и еще пол кирпича. Сколько весит один кирпич?
- Птица, в которой сорок «а», называется...




# [ Чёрный сейф (5 золотых) ]

- Чему равно произведение всех цифр?
- Инна живет в квартире №51. В ее доме 5 этажей по 4 квартиры на каждом этаже. В каком подъезде и на каком этаже живет Инна?



# Белый сейф (5 золотых)

- Что ищем, решая уравнение?
- Сережа на рыбалке поймал 3х окуней. Масса первого – 400 грамм, второго – на 60 грамм больше первого, а третьего – в 2 раза меньше общей массы первых двух. Найдите массу всех трех окуней.






[ Конец.

]

СПАСИБО ЗА ИГРУ!


[ Клад 1 (1 золотой) ]

- Сколько метров в 3 километрах?




[ Клад 2 (2 золотых) ]

■ В комнате 4 угла. В каждом углу сидит кошка. Против кошки сидит по 3 кошки. Сколько кошек всего в комнате?




[ Клад 3 (1 золотой) ]

- Как называется фигура с четырьмя равными сторонами?




[ Клад 4 (1 золотой) ]

- Вычисли, чему равно  $33+25+27$ .




[ Клад 5 (1 золотой) ]

- Сколько будет  
 $2+2*2?$




[ Клад 6 (1 золотой) ]

- Произведи умножение числа 4 на число 9.




# [ Клад 7 (2 золотых) ]

- Около столовой, где обедали лыжники, пришедшие из похода, стояли 20 лыж, а в снег было воткнуто 20 палок. Сколько лыжников ходило в поход?






[ Клад 8 (1 золотой) ]




[ Клад 9 (1 золотой) ]

- В тарелке лежали три морковки и четыре яблока. Сколько фруктов было в тарелке?




[ Клад 10 (1 золотой) ]

- Сестре 4 года, брату 6 лет. Сколько лет будет брату, когда сестре исполнится 6 лет?




[ Клад 11 (2 золотых) ]

- Какое число делится на все числа без остатка?




[ Клад 12 (1 золотой) ]

- Сколько дырок окажется в клеёнке, если во время обеда 12 раз проткнуть её вилкой с 4 зубчиками?




## [ Клад 13 (1 золотой) ]

- Человек шел в Ленинград, ему навстречу отряд ребят. У каждого по лукошку, а в лукошке по кошке, у кошки по пять котят. Сколько человек шло в Ленинград?




[ Клад 14 (1 золотой) ]

- Вычисли, чему равно  $11+5*4$ .



[Клад 15 (1 золотой)]


- Сколько будет  $5+5*5$ ?






[ Клад 16 (1 золотой) ]

- Соль стоит 7 рублей, а сахар – на 13 рублей дороже. Сколько стоит сахар?




[ Клад 17 (1 золотой) ]

- Если сложить возраст Димы, Паши и Саши, то получится всего 15 лет. Сколько им лет будет всем вместе через 2 года?




[ Клад 18 (2 золотых) ]

- В семье 5 сыновей и у каждого есть сестра. Сколько детей в этой семье?




[ Клад 19 (1 золотой) ]

- Наименьшее четное  
число.




[ Клад 20 (1 золотой) ]


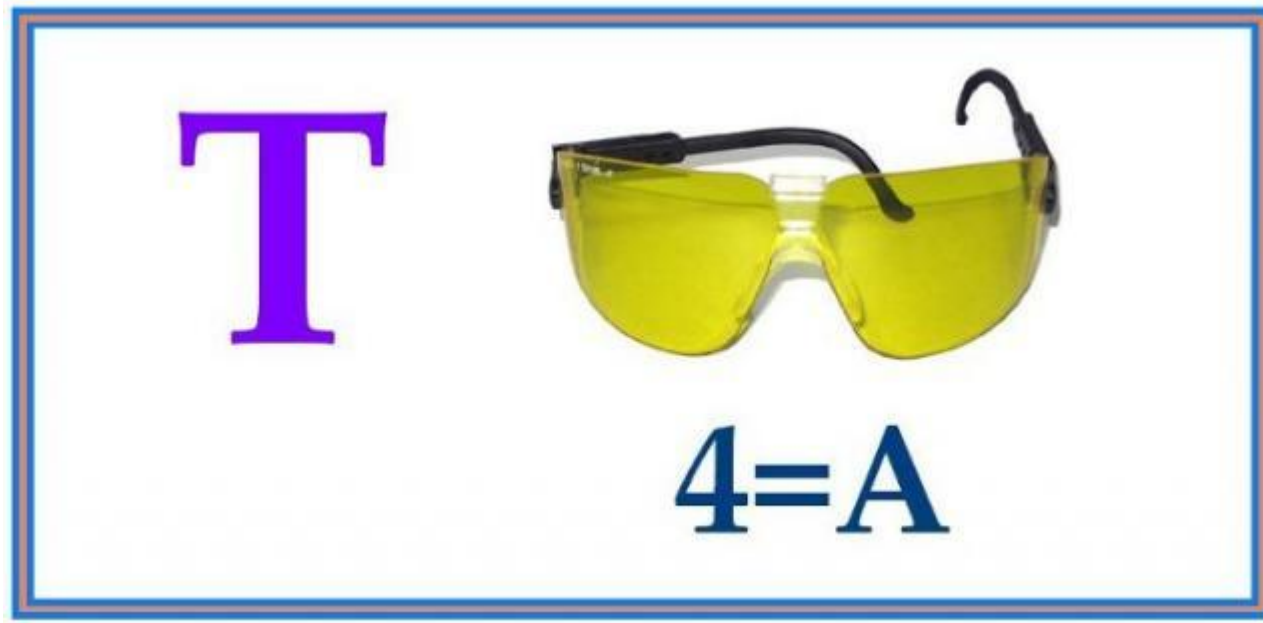
- Раздели 121 на 11.



[ Клад 21 (1 золотой) ]




[ Клад 22 (1 золотой) ]



[ Клад 23 (1 золотой) ]


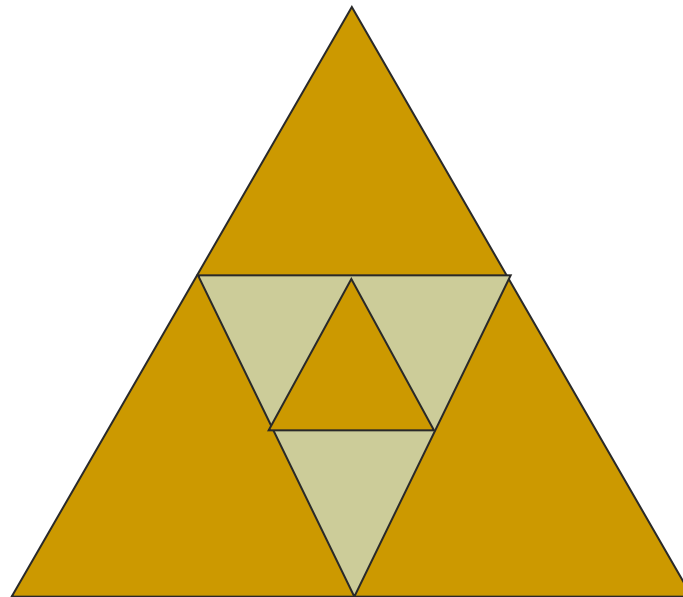
- Произведи умножение числа 9 на число 8.






# [ Клад 24 (1 золотой) ]

- Сколько треугольников на рисунке?




# [ Клад 25 (2 золотых) ]

- В корзине 4 яблока. Разделите их между четырьмя учениками так, что бы одно яблоко осталось в корзине.




[ Клад 26 (1 золотой) ]

- Раздели 56 на 8.




[ Клад 27 (1 золотой) ]

- Какая цифра, если ее перевернуть кверху ногами станет на 3 меньше, чем была?



[ Клад 28 (2 золотых) ]

- Какие три числа, если их сложить или перемножить дают один и тот же результат?



# [ Ломоносов М.В. ]

