

Случаи сложения

вида  $+ 4$

стр. 67

Урок № 107



*Школа России*  
*Математика 1 класс*





Устный счёт



$$\square - 3 = 8$$

$$11 - \square = 9$$

$$\square - 3 = 9$$

Вставь пропущенные числа.

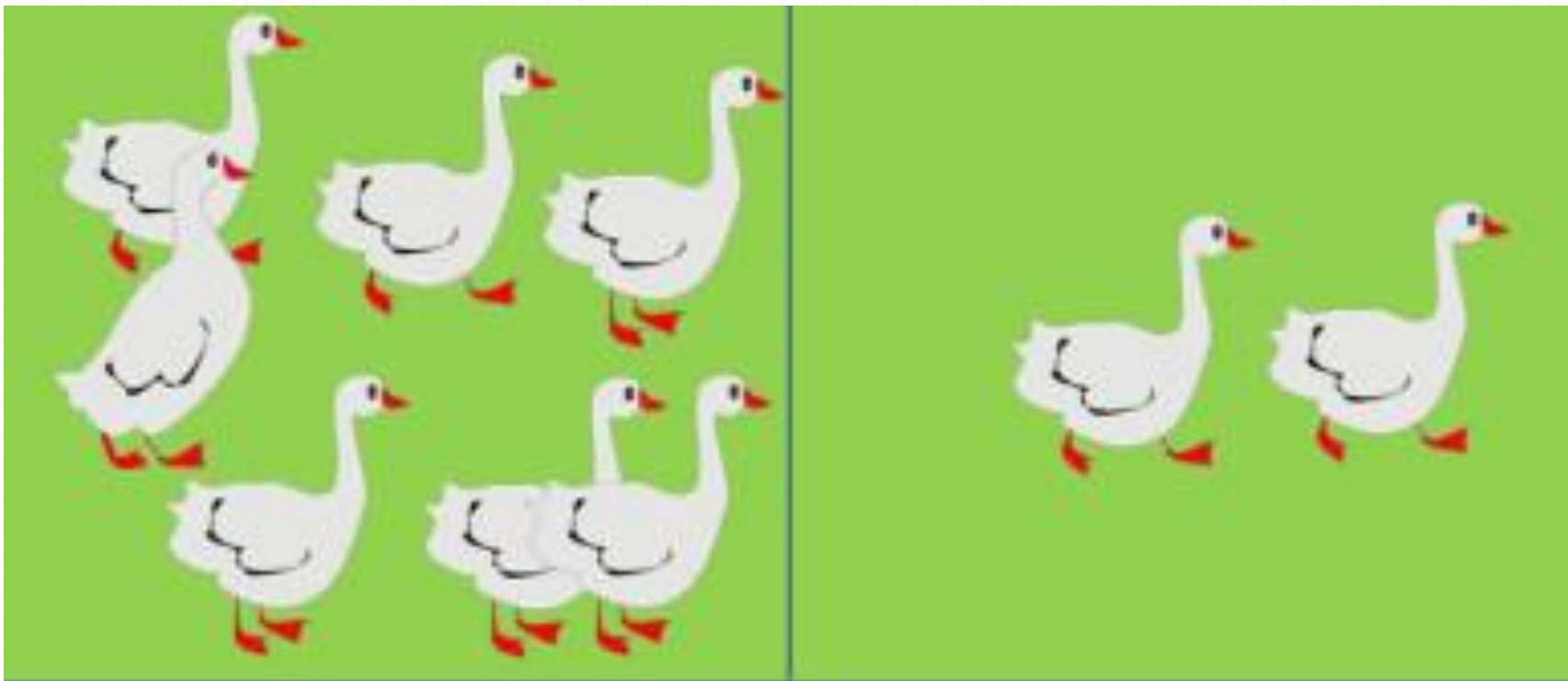
Прочитай примеры разными способами.



$$11 - 3 = 8$$

$$8 + 4 = 12$$

Составь задачи по решению.



$$9 - 2 = 7$$

$$7 - 2 = 5$$


$$7 + 2 = 9$$

Для детского сада купили 4 мишки, 5 собачек и 3 утёнка. Сколько всего игрушек купили для детского сада?



12

$$4 + 5 + 3 = 12$$




Купили **7** машинок, **4** зайки, а мишек столько, сколько машинок и зайчат вместе. Сколько купили мишек?

**11**

$$7 + 4 = 11$$

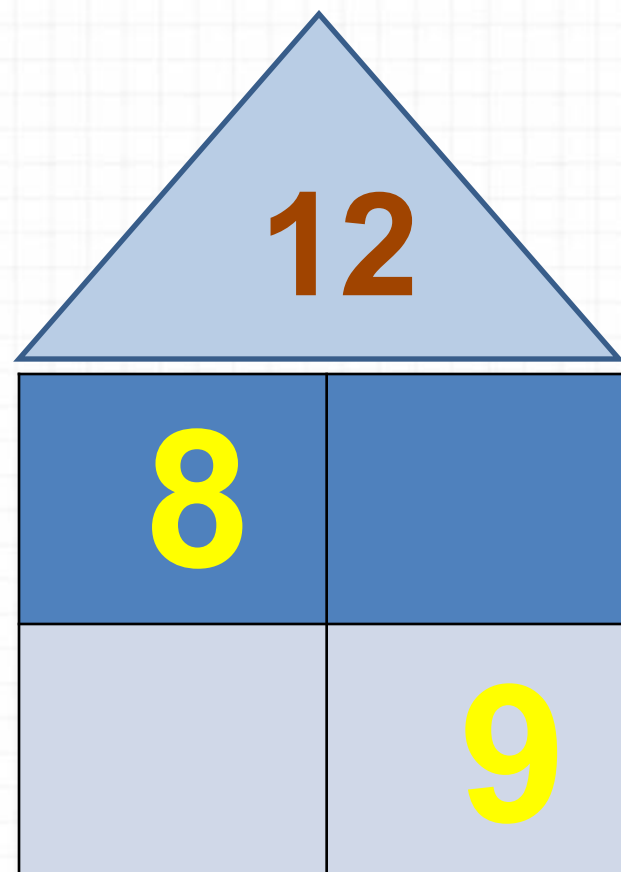
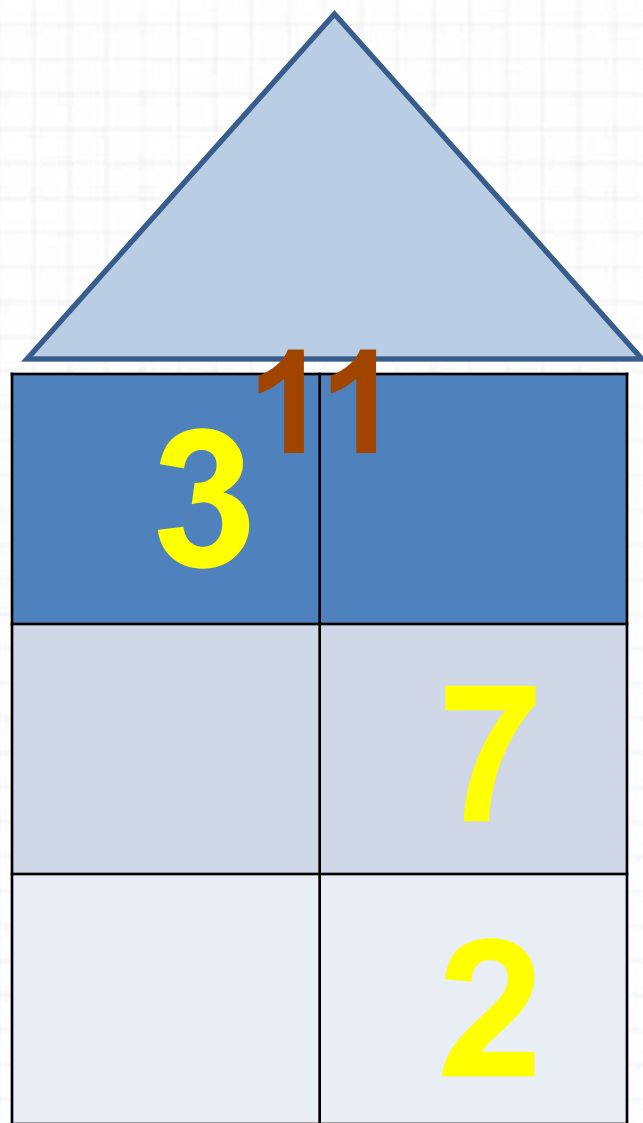



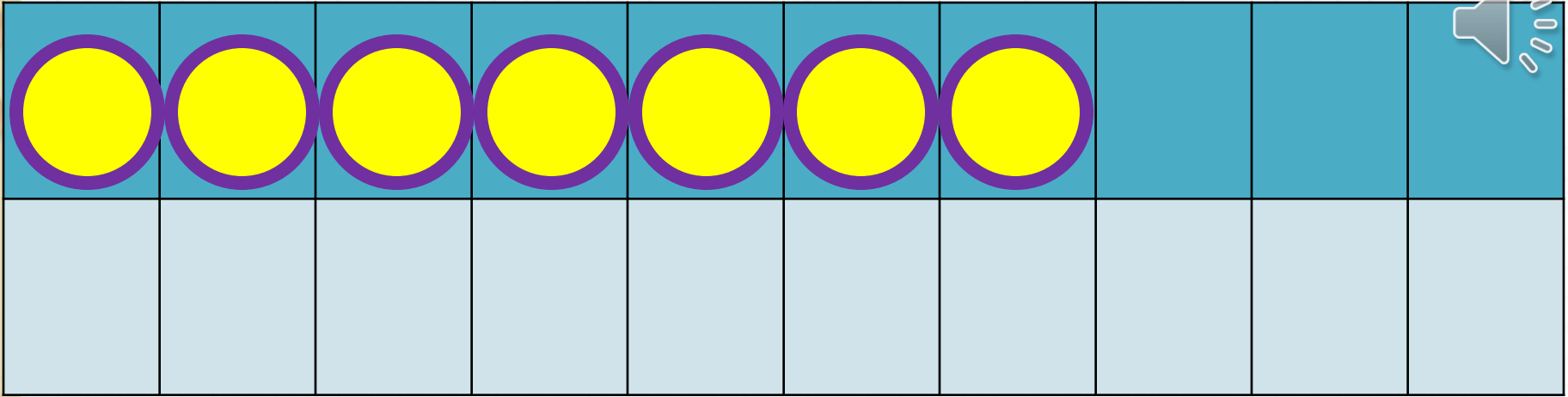
# Новый материал






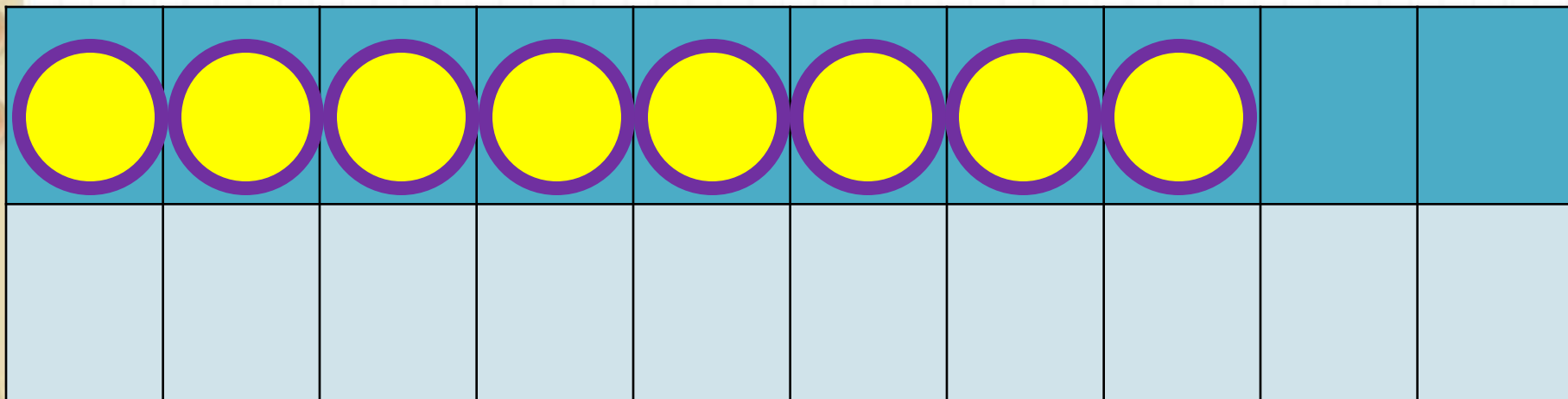
Засели домики.






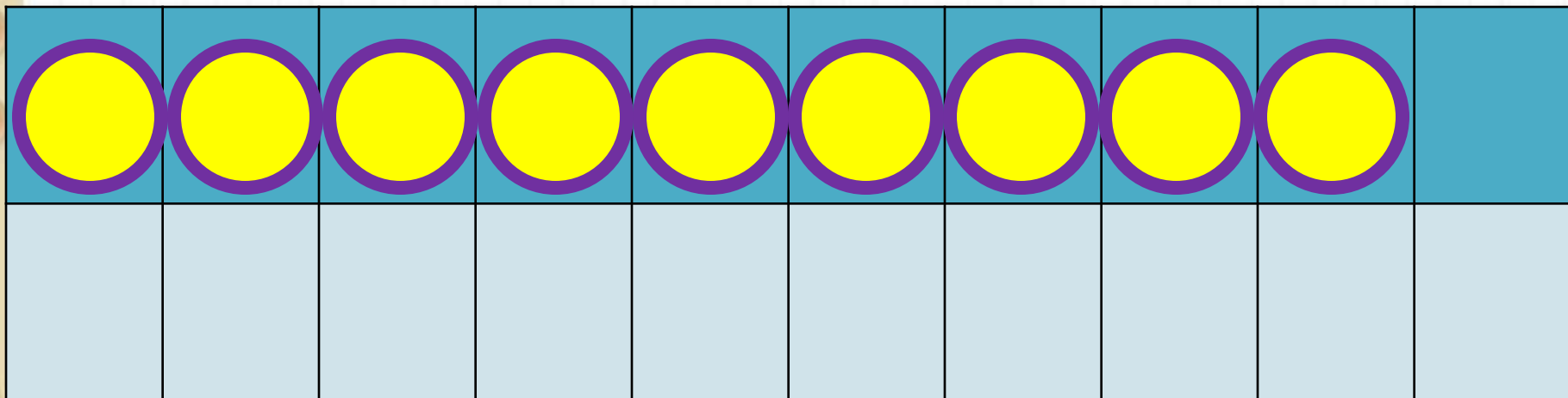
$$7 + 4$$

$$7 + 3 + 1$$



$$8 + 4$$

$$8 + 2 + 2$$



$$9 + 4$$

$$9 + 1 + 3$$

**Запомни!**

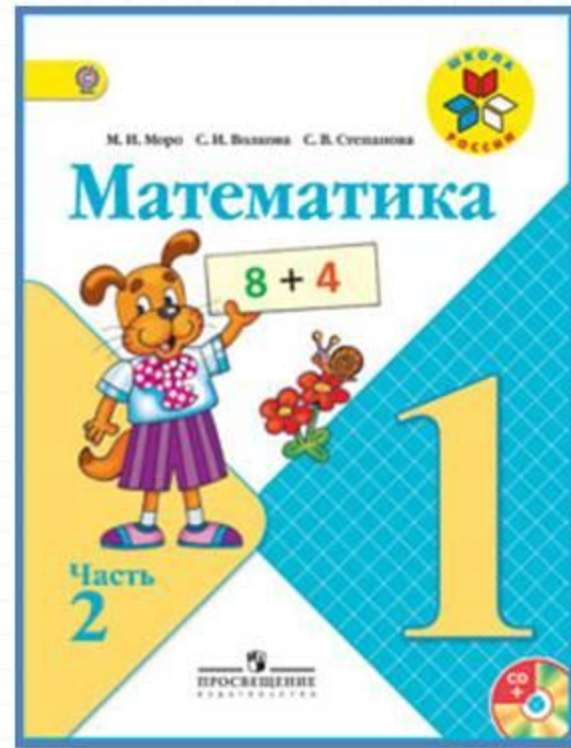
$$7 + 4 = 11$$

$$8 + 4 = 12$$

$$9 + 4 = 13$$

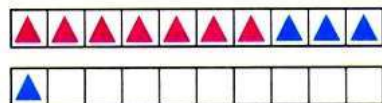
**Какое число учимся сегодня прибавлять?**

# Работа по учебнику



стр. 67

Объясни, как к числу 7 прибавить 4.



$$\begin{array}{r} 7 + 4 \\ 7 + 3 + 1 \end{array}$$

Рассуждая так же, вычисли.

$$\begin{array}{r} 8 + 4 \\ 8 + 2 + \square \end{array}$$

$$\begin{array}{r} 9 + 4 \\ 9 + \square + \square \end{array}$$

**Запомни!**

$$7 + 4 = 11$$

$$8 + 4 = 12$$

$$9 + 4 = 13$$

1.  $7 + 3 + 2$   
 $8 + 2 + 3$

$6 + 4 + 3$   
 $5 + 5 + 1$

$9 + 1 + 6$   
 $9 + 1 + 7$

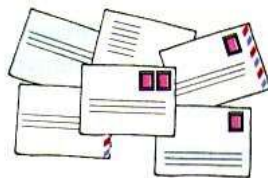
2. Составь задачи и реши их.

Было



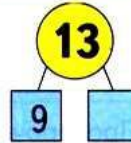
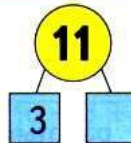
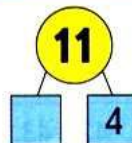
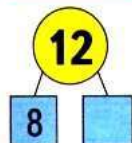
Стало на 2 больше.  
Сколько стало ... ?

Было



Стало на 1 меньше.  
Сколько стало ... ?


3. Узнай разными способами, на сколько сантиметров длина одного отрезка меньше длины другого.



$$\square + 4$$



Объясни, как к числу 7 прибавить 4.



$$\begin{array}{r} 7 + 4 \\ \hline 7 + 3 + 1 \end{array}$$

Рассуждая так же, вычисли.

$$\begin{array}{r} 8 + 4 \\ \hline 8 + 2 + \square \end{array}$$

$$\begin{array}{r} 9 + 4 \\ \hline 9 + \square + \square \end{array}$$

**Запомни!**

$$7 + 4 = 11$$

$$8 + 4 = 12$$

$$9 + 4 = 13$$



1.  $7 + 3 + 2$   
 $8 + 2 + 3$

$6 + 4 + 3$   
 $5 + 5 + 1$

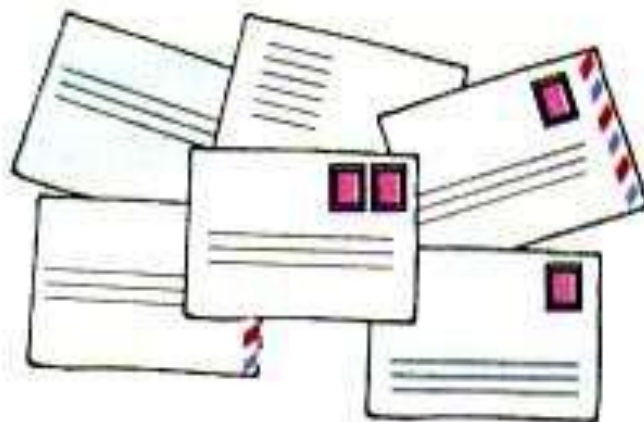
$9 + 1 + 6$   
 $9 + 1 + 7$

2. Составь задачи и реши их.

Было

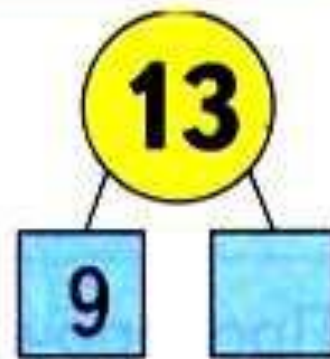
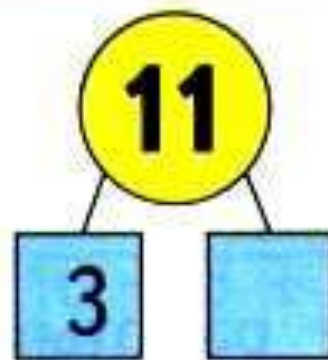
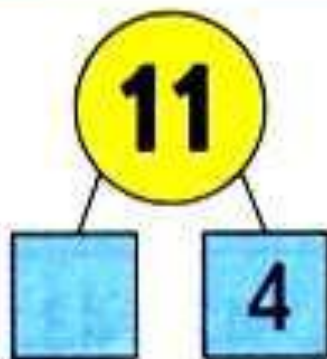
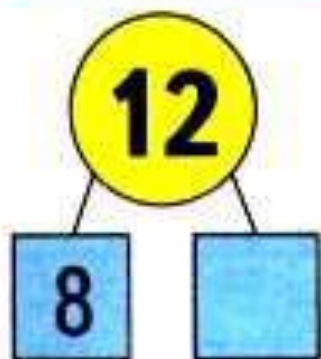


Было



3. Узнай разными способами, на сколько сантиметров длина одного отрезка меньше длины другого.

---



# Физкультминутка

Яблоня в моём саду  
Гнётся низко на ветру.  
Наклонилась вправо, влево.  
Покачаться захотела.  
Ветки вниз и вверх качнула  
И вперёд их протянула.  
А как стихнет ветерок  
Моя яблонька заснёт.



# Закрепление изученного



Найдите примеры с ответом

12.

$$9 + 3 =$$

$$9 + 4 =$$

$$8 + 4 =$$

$$10 + 2 =$$


$$10 - 2$$

$$9 + 2 =$$

$$5 + 5 =$$

$$10 + 7 =$$

$$14 - 2 =$$



# Работа в тетради

стр. 35






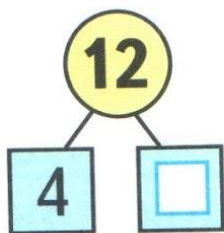
$$\square + 4$$

$$\square + 5$$

- 1 У Саши было 8 красных воздушных шаров и 4 синих. Один шар лопнул. Сколько шаров осталось?

Answer: *Ответ:*

2

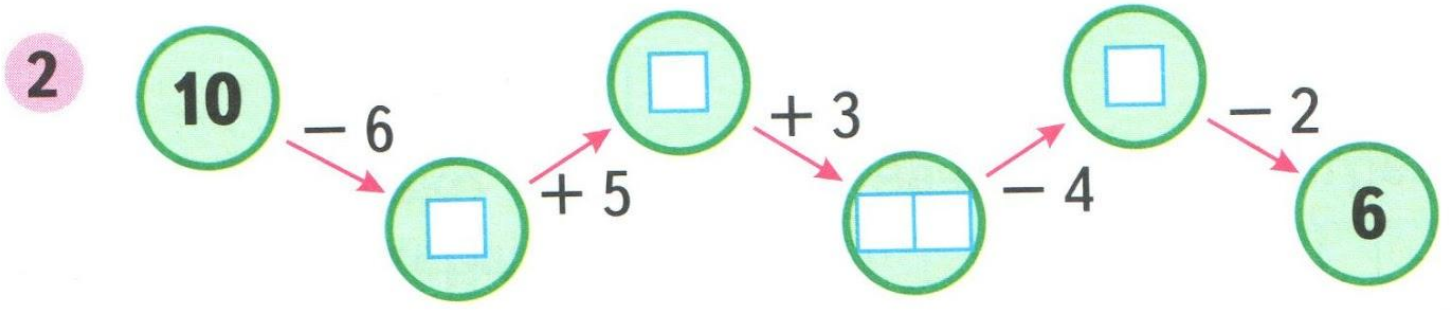


1) Красным цветом закрась карточки, на которых записаны примеры с ответом 11, а синим — с ответом 12.



|                     |          |          |                     |
|---------------------|----------|----------|---------------------|
| $6 + 5$             | $11 + 1$ | $7 + 5$  | $10 + 2$            |
|                     | $8 + 4$  | $10 + 1$ | $\square + \square$ |
| $\square + \square$ | $9 + 2$  | $6 + 6$  | $8 + 3$             |

2) Запиши на свободных карточках новые суммы с ответами 11 и 12.






# Задания на смекалку



В первой клетке сидят **4** цыплёнка и **2** кролика, а во второй **5** цыплят. Где больше глаз и на сколько?

**на 2 больше в 1**

**клетке**



Каким этажом сверху будет **пяты́й** этаж десятиэтажного дома?



**ШЕСТИ**

# Рефлексия

Какие примеры мы решали сегодня на уроке?

Почему они записаны в красной рамочке?

Кто смог их запомнить?

Оцените свою работу на уроке?



