

Работа с картами

19 – 20 век продолжение



Россия к середине XIX в.-
континентальная страна,
6-я часть суши

- 18 млн. кв. км.
- Разделена на 69 губерний
- Губернии- на 10-12 уездов

ТЕРРИТОРИИ, ПРИСОЕДИНЕННЫЕ К РОССИИ В ПЕРВОЙ ПОЛОВИНЕ XIX ВЕКА

❖ ГРУЗИЯ, СЕВЕРНЫЙ
АЗЕРБАЙДЖАН,
ДАГЕСТАН

1804-1813 гг.

❖ ФИНЛЯНДИЯ

1808-1809 гг.

❖ ЦАРСТВО ПОЛЬСКОЕ

1814-1815 гг.

❖ БЕССАРАБИЯ

(до р.Прут)-1812 г.

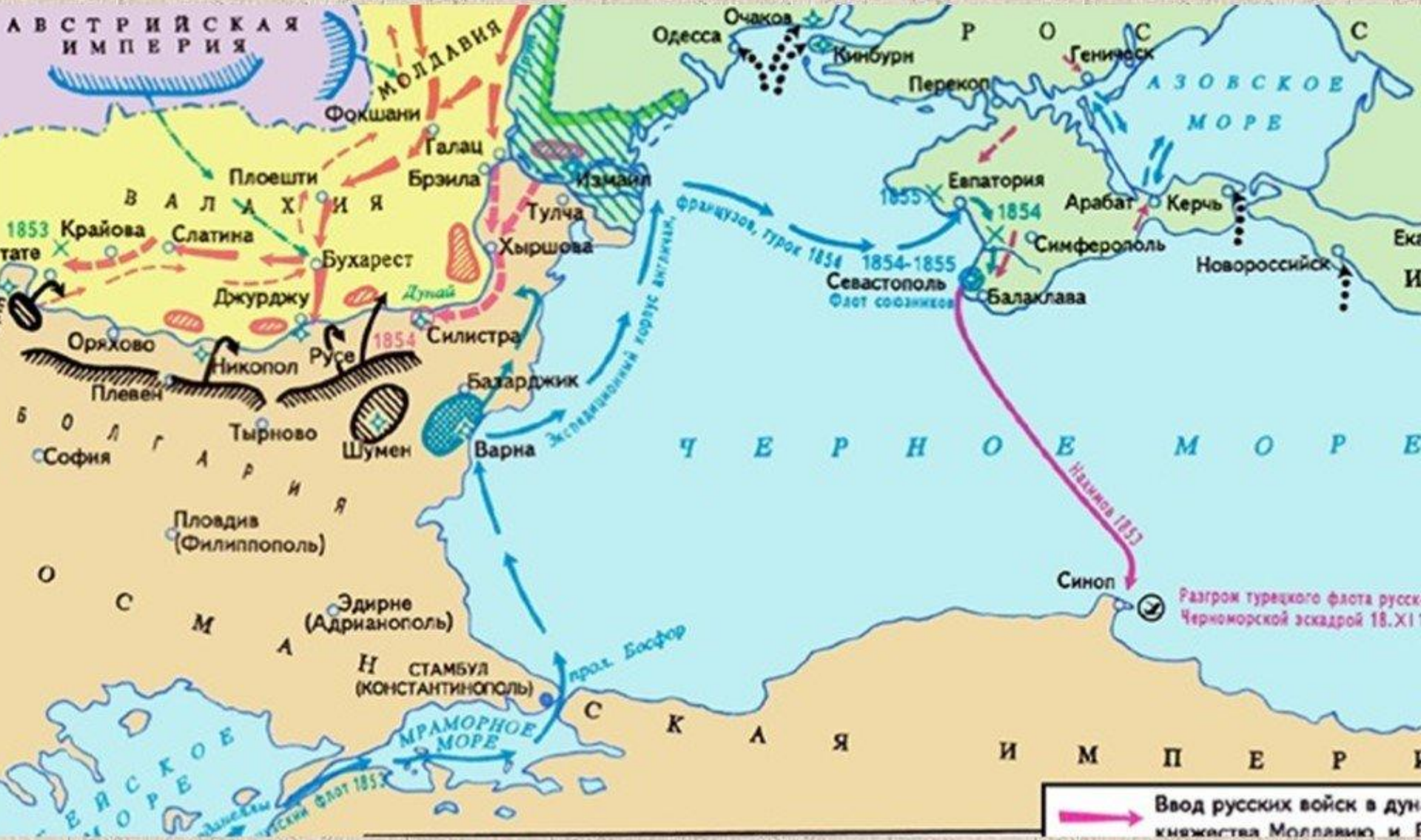
Выступление 14 декабря 1825 г.

Схема расстановки войск

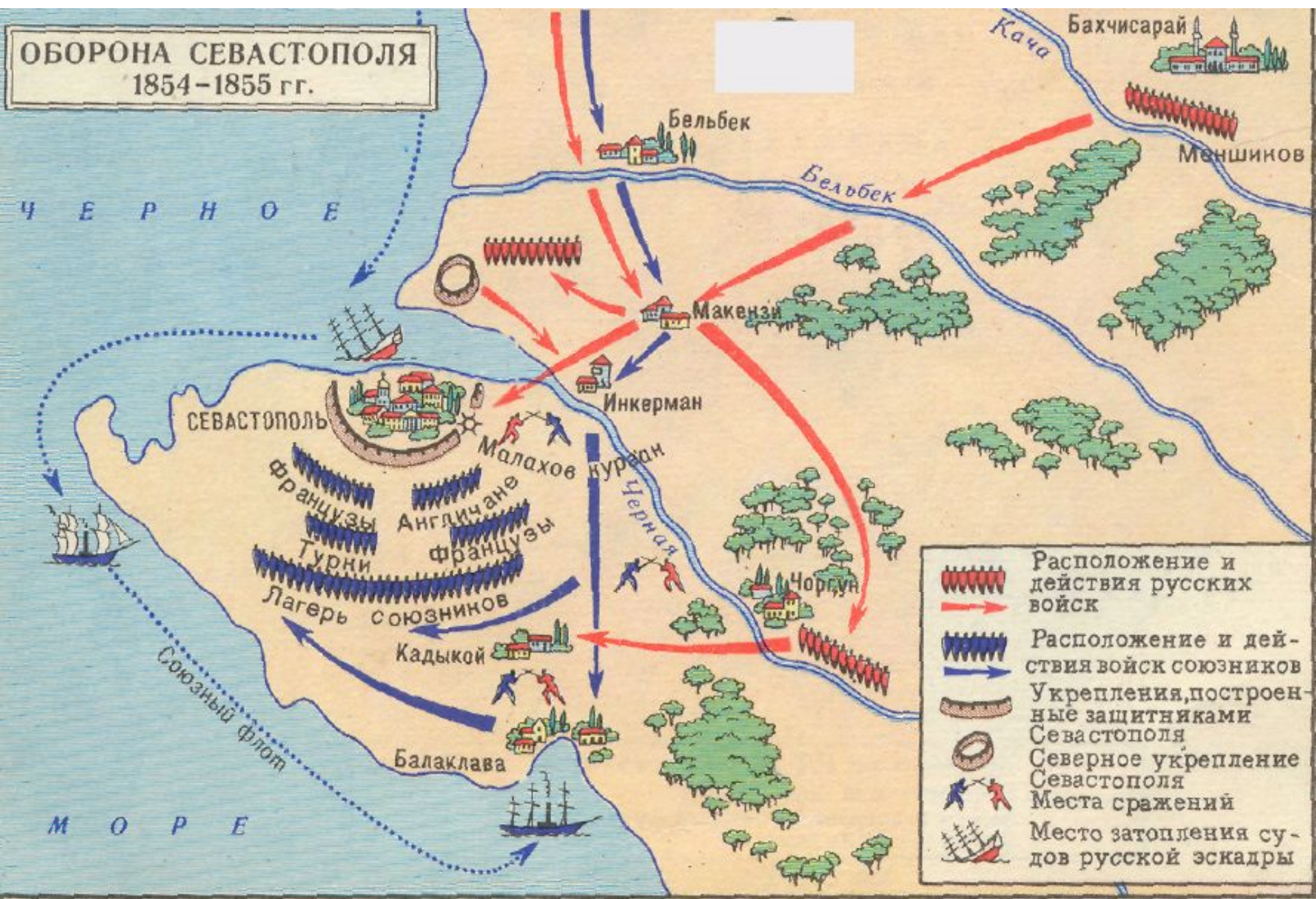


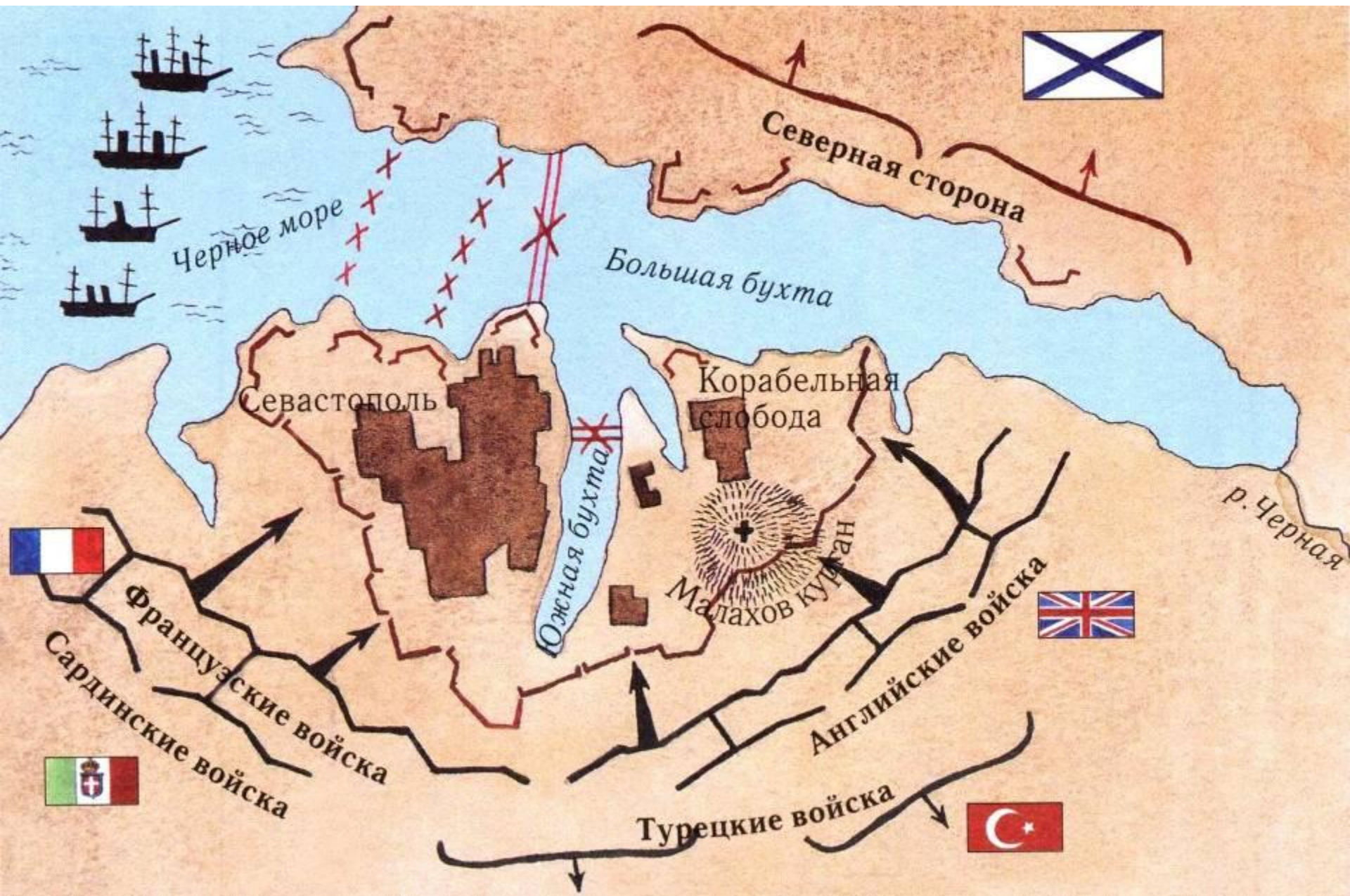
Крымская война 1853-1856

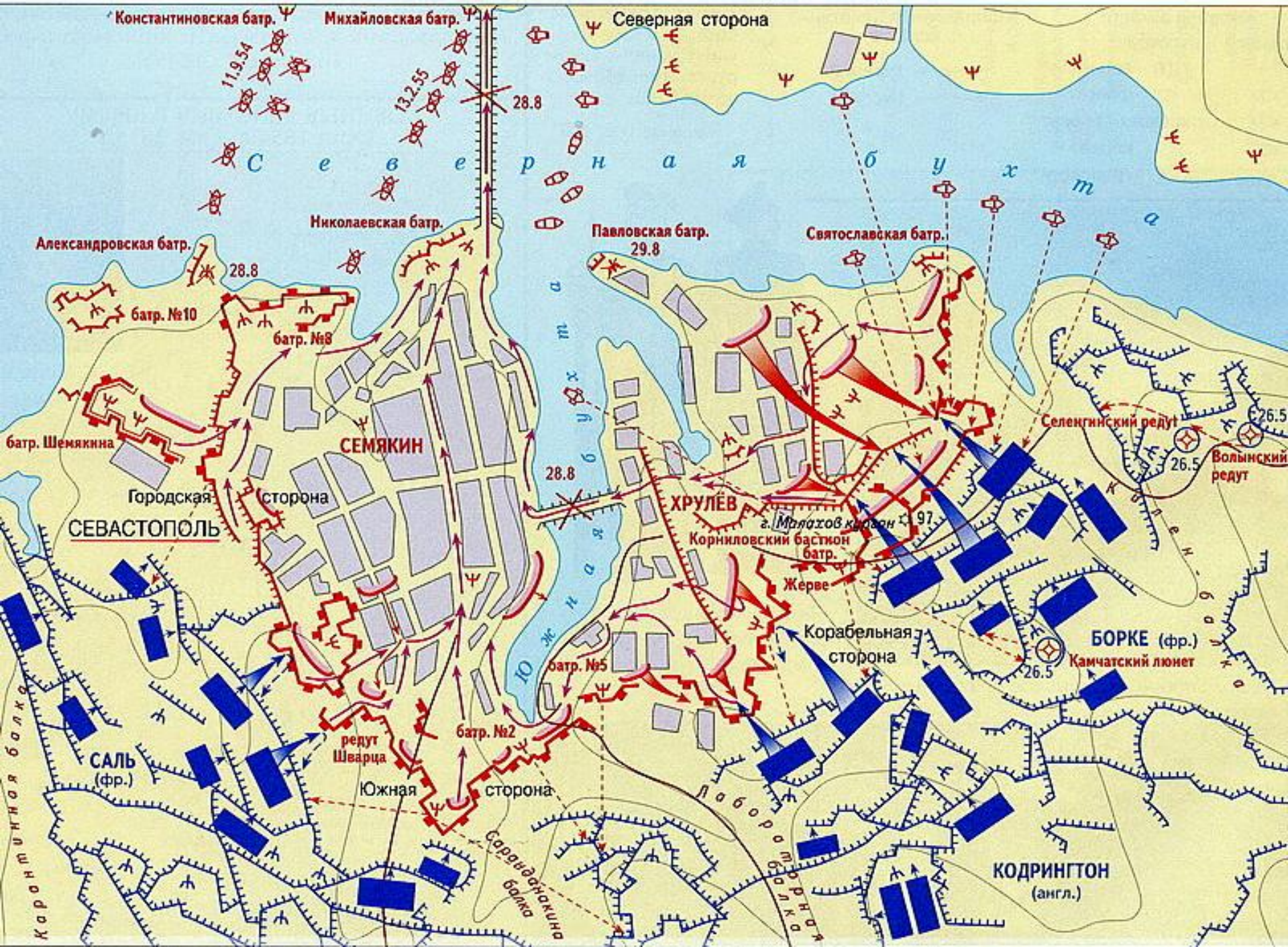
Карта военных действий



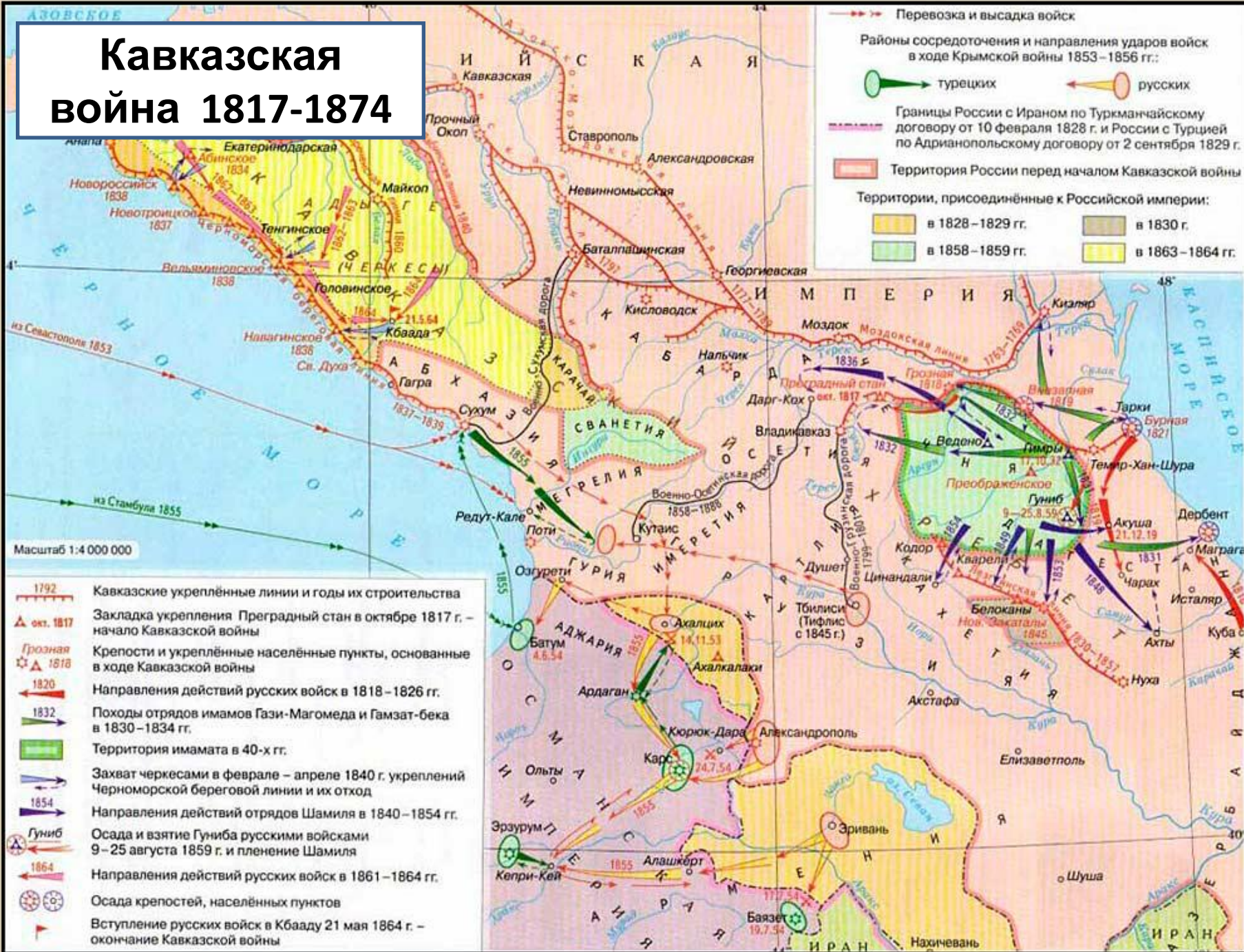
ОБОРОНА СЕВАСТОПОЛЯ 1854-1855 гг.







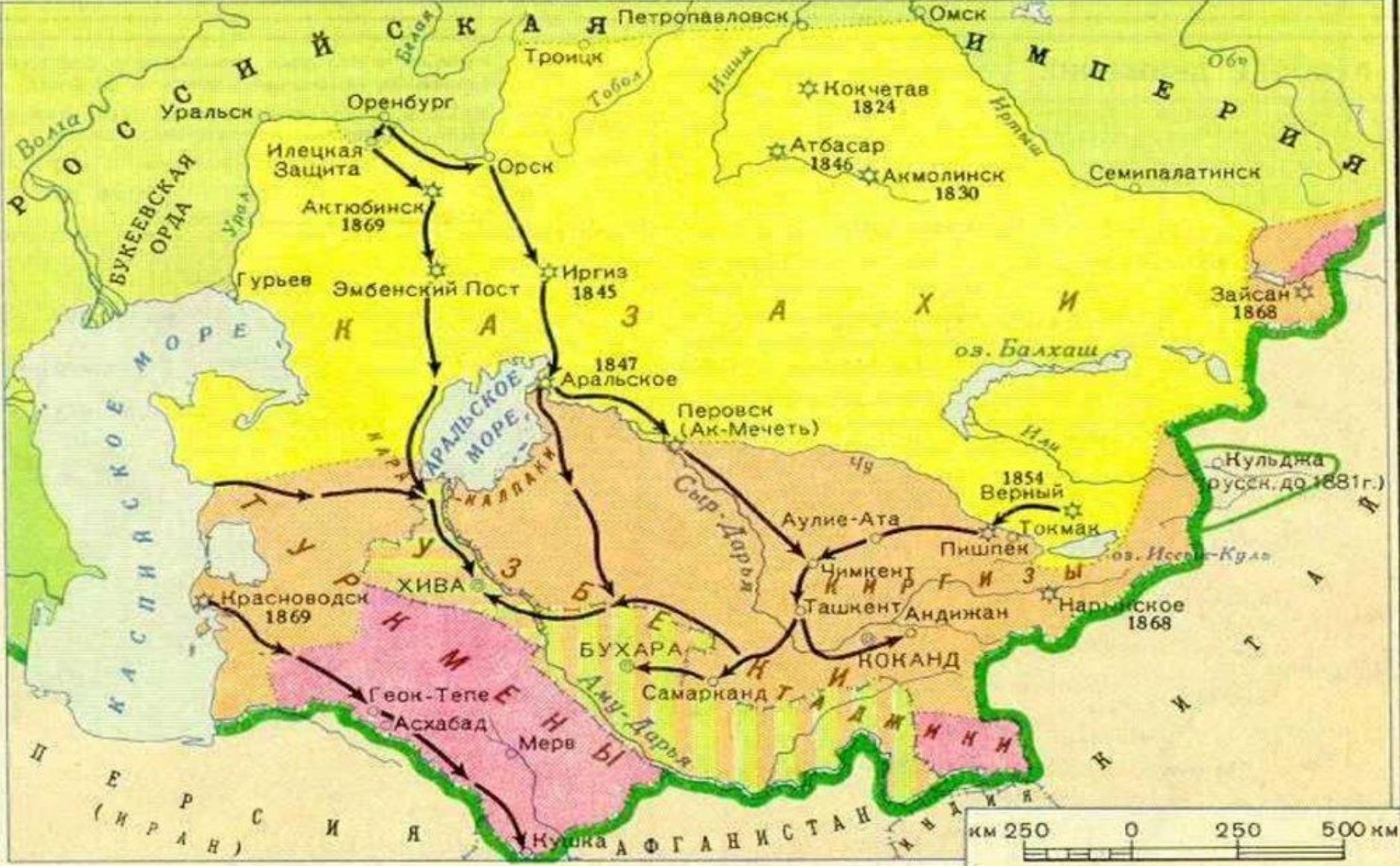
Кавказская война 1817-1874



→ → Перевозка и высадка войск
 Районы сосредоточения и направления ударов войск в ходе Крымской войны 1853 – 1856 гг.:
→ турецких → русских
 Границы России с Ираном по Туркманчайскому договору от 10 февраля 1828 г. и России с Турцией по Адрианопольскому договору от 2 сентября 1829 г.
 Территория России перед началом Кавказской войны
 Территории, присоединённые к Российской империи:
 в 1828 – 1829 гг. в 1830 г.
 в 1858 – 1859 гг. в 1863 – 1864 гг.

1792 Кавказские укрепленные линии и годы их строительства
▲ окт. 1817 Закладка укрепления Преградный стан в октябре 1817 г. – начало Кавказской войны
★ Грозная 1818 Крепости и укрепленные населенные пункты, основанные в ходе Кавказской войны
← 1820 Направления действий русских войск в 1818 – 1826 гг.
← 1832 Походы отрядов имамов Гази-Магомеда и Гамзат-бека в 1830 – 1834 гг.
 Территория имамата в 40-х гг.
← Захват черкесами в феврале – апреле 1840 г. укреплений Черноморской береговой линии и их отход
← 1854 Направления действий отрядов Шамиля в 1840 – 1854 гг.
⊙ Гуниб Осада и взятие Гуниба русскими войсками 9 – 25 августа 1859 г. и пленение Шамиля
← 1864 Направления действий русских войск в 1861 – 1864 гг.
 Осада крепостей, населенных пунктов
▲ Вступление русских войск в Кбааду 21 мая 1864 г. – окончание Кавказской войны





- | | |
|--|---|
| <ul style="list-style-type: none"> Территория Российской империи в 1800 г. Присоединения к Российской империи: с 1801 г. по 1855 г. с 1856 г. по 1876 г. с 1877 г. по 1900 г. Граница Российской империи к 1900 г. | <p>Ханства, признавшие зависимость от России:</p> <ul style="list-style-type: none"> Бухарское ханство с 1868 г. Хивинское ханство с 1873 г. <p> → Направление походов царских войск</p> <p> ☆1824 Русские укрепления и годы их основания</p> |
|--|---|

КАВКАЗСКИЙ ФРОНТ
Масштаб 1:5 000 000



Сосредоточение и наступление войск
 русских — (red arrow) — турецких — (blue arrow)
 Осада русскими войсками Карса (18.IV–28.VI и 9.X–6.XI 1877 г.)



Границы государств к началу войны
 Районы восстания славян против гнета Османской империи в 1875–1876 гг.
 Сосредоточение войск к началу войны

русских — (red arrow) — турецких — (blue arrow)
 Основные направления действий русских войск в 1877–1878 гг.
 Основные направления действий турецких войск и их отступление
 Осада Плевны русскими войсками 8.VII–28.XI 1877 г.
 Героическая оборона Шипкинского перевала 8.VIII–28.XII 1877 гг.
 Границы государств по Сан-Стефанскому договору 19.II 1878 г.
 Государства, получившие независимость в результате русско-турецкой войны
 Границы государств по Берлинскому трактату 1.VII 1878 г.
 Места важнейших сражений
 Крепости



Масштаб 1:5 000 000 (в 1 см 50 км)
 50 0 50 100 км

РУССКО-ЯПОНСКАЯ ВОЙНА 1904–1905 гг.

#Твой_историк

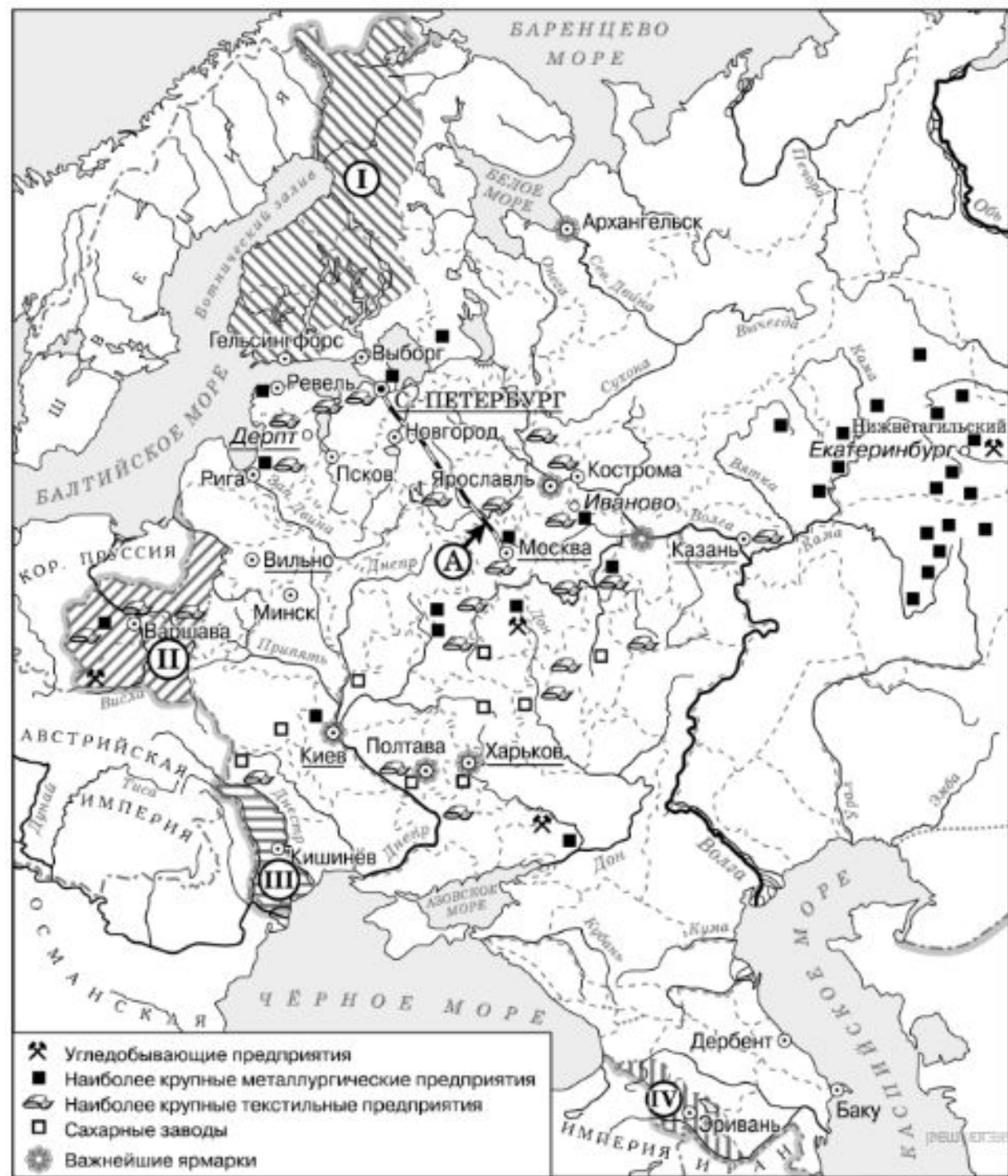


ОБОРОНА ПОРТ-АРТУРА 13.V–20.XII 1904 г.



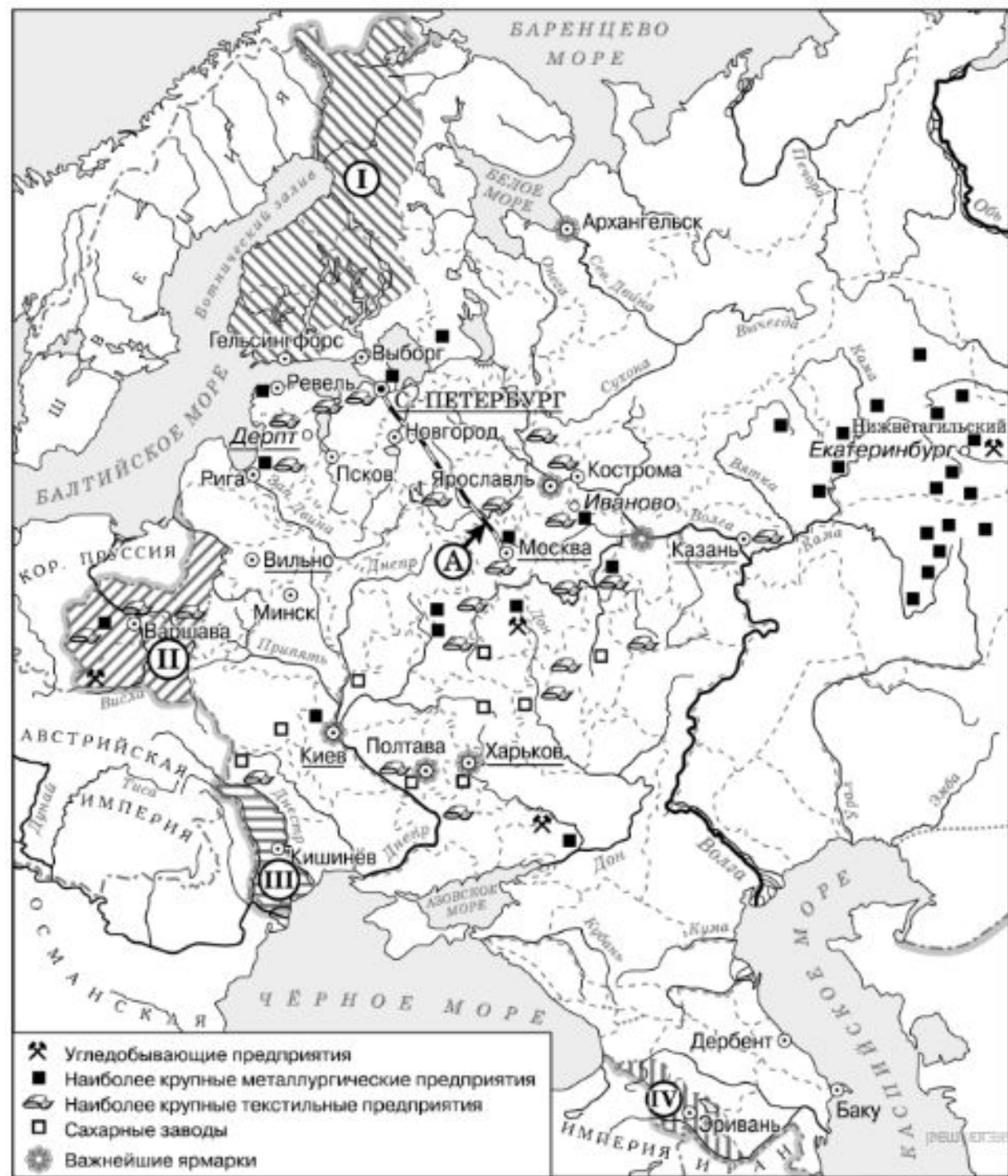
1. Укажите век, когда произошли события, изображенные на схеме.

2. Укажите название территории, обозначенной на карте цифрой «I».

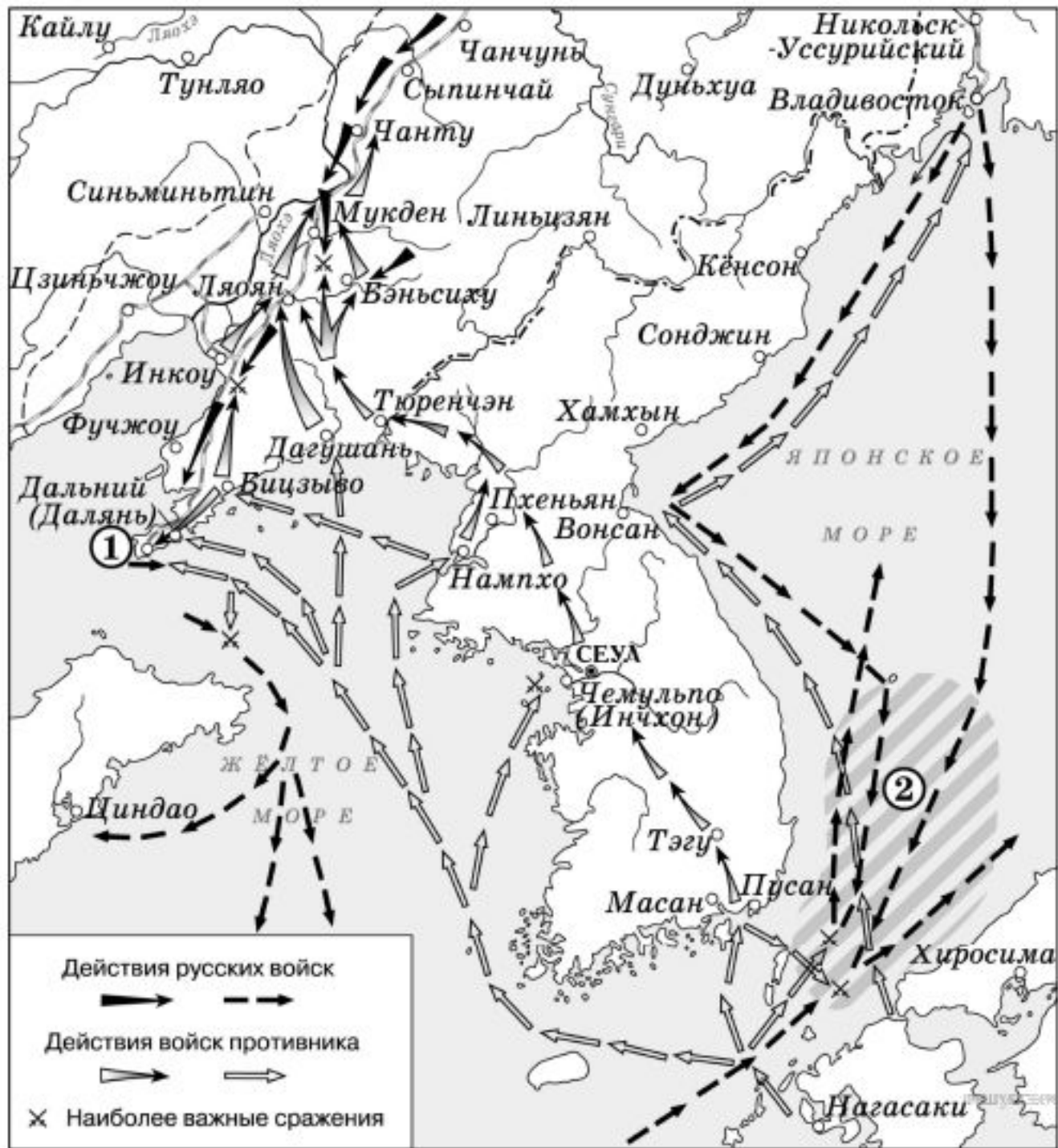


1. Укажите век, когда произошли события, изображенные на схеме.

2. Укажите название территории, обозначенной на карте цифрой «I».

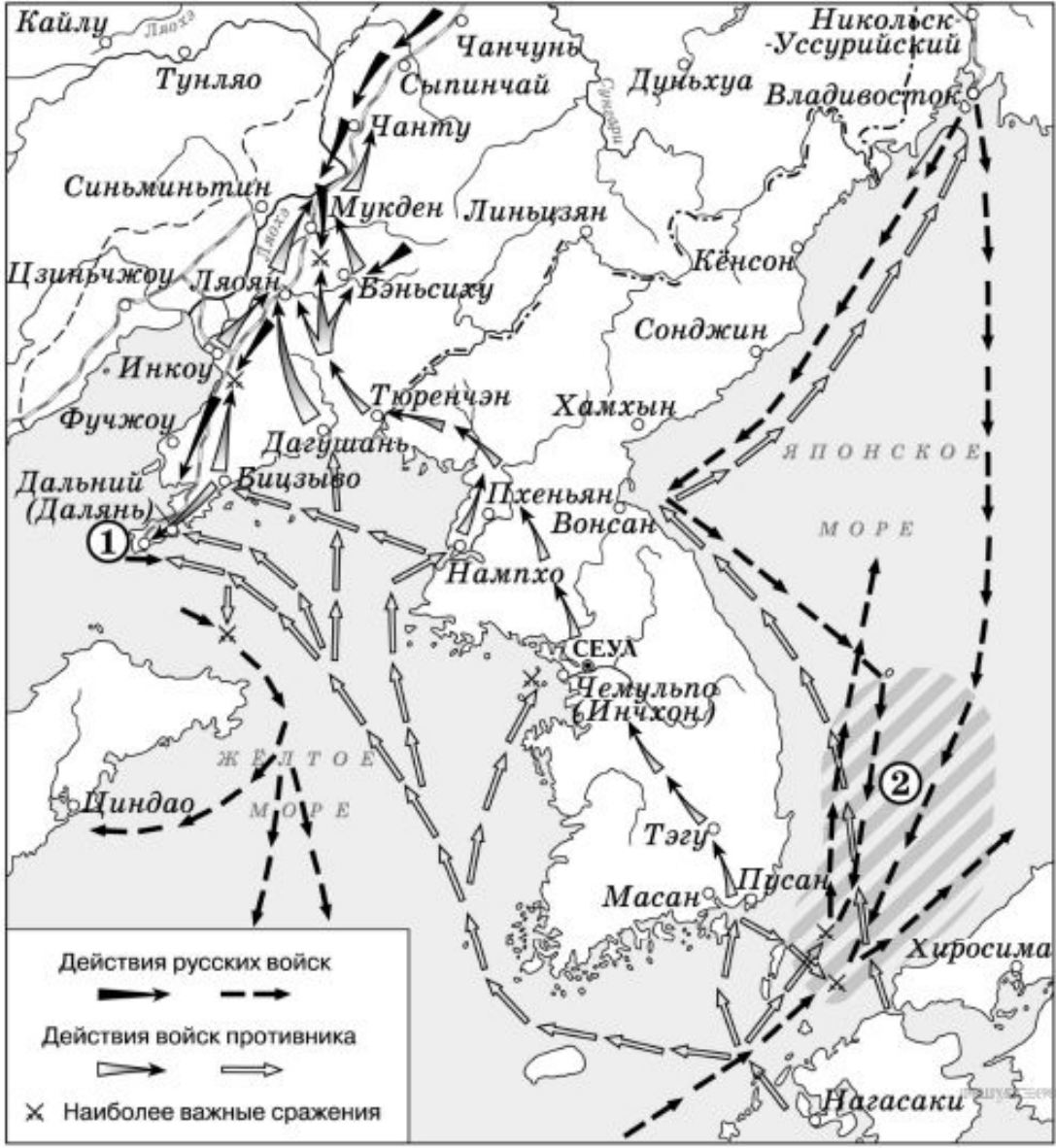


- Укажите век, когда произошли события, изображенные на схеме
- Укажите название страны, которая была противником России в боевых действиях, обозначенных на схеме.



« _____ произошло в мае.

В ходе него российская 2-я эскадра флота Тихого океана под командованием вице-адмирала Рожественского потерпела сокрушительное поражение от Императорского флота под командованием адмирала Хэйхатиро Того. Последнее, решающее морское сражение войны, в ходе которой русская эскадра была полностью разгромлена. Большая часть кораблей была потоплена противником или затоплена собственными экипажами, часть капитулировала, некоторые интернировались в нейтральных портах, и лишь четырём удалось



- Назовите российского императора, в годы правления которого был заключён мирный договор, место подписания которого обозначено на схеме. В ответ запишите его имя и порядковый номер (например, Александр Третий).

- Назовите государство, территория которого дважды обозначена



Территория, присоединённая к России по Туркманчайскому мирному договору

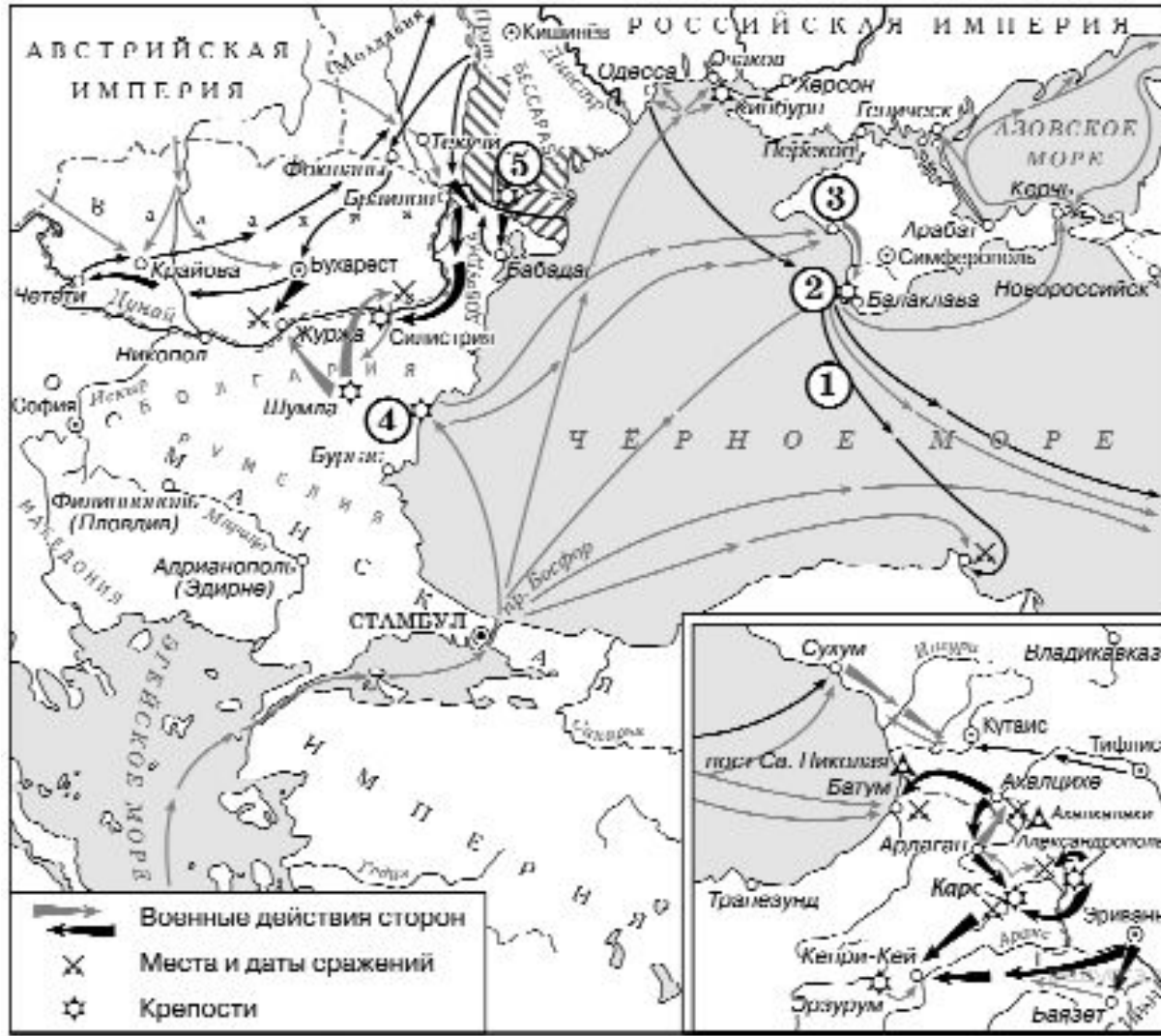


Место подписания Туркманчайского мирного договора

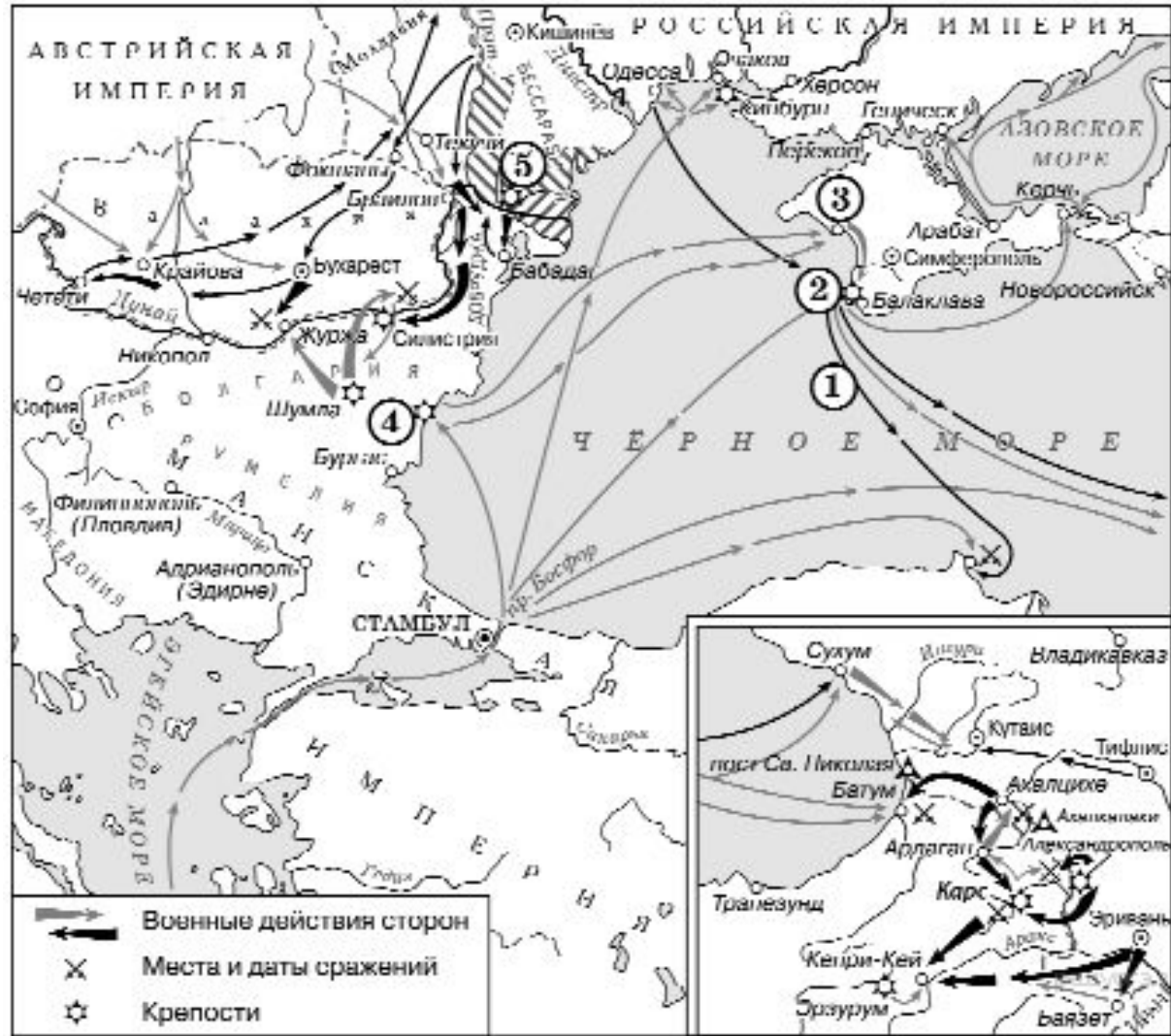
- Заполните пропуск в предложении (укажите десятилетие): «Война, события которой обозначены на схеме, произошла в тысяча восемьсот _____ годах».

Ответ запишите словом.

- Укажите фамилию вице-адмирала, командовавшего русским флотом в походе, обозначенном на схеме цифрой «1».



«5 сентября первая группа англо-французской эскадры вышла из Варны и направилась в сторону Крыма. В её составе находилось и 9 турецких кораблей, на которых размещался турецкий экспедиционный корпус. 14 сентября войска союзников беспрепятственно высадились в районе _____ . Вместе с ними на берег сошла турецкая дивизия численностью в 7 тыс. человек пехоты с 12 полевыми и 9 осадными орудиями».



• Назовите российского императора, в правление которого к России была присоединена большая часть земель, обозначенных в легенде схемы цифрой «1». В ответ запишите его имя и порядковый номер. (Например, Иван Четвертый).

• Укажите название государства, территория которого обозначена на схеме



- «В конце XIX века при строительстве Транссибирской магистрали на Иртыше был возведён железнодорожный мост. Мост создан по проекту выдающегося русского инженера-строителя Н.А. Белелюбского. Мост построен с шестью пролётами по 100 м каждый, а два береговых пролёта протяжённостью по 22 м. Основание мостовых быков – на кессонах, фермы изготовлены из сварочного железа Боткинского завода. Работы по постройке моста производились контрагентом Березиным под наблюдением инженеров Залусского и



Напишите название обозначенной на схеме цифрой «1» крепости, обороне которой российскими войсками посвящена схема.

Назовите российского императора, ко времени правления которого относится война, событиям которой посвящена схема. В ответе укажите имя и порядковый

