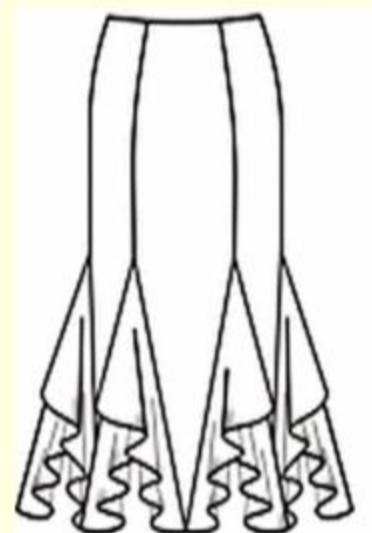
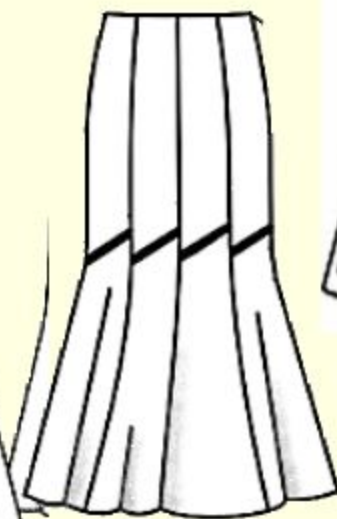

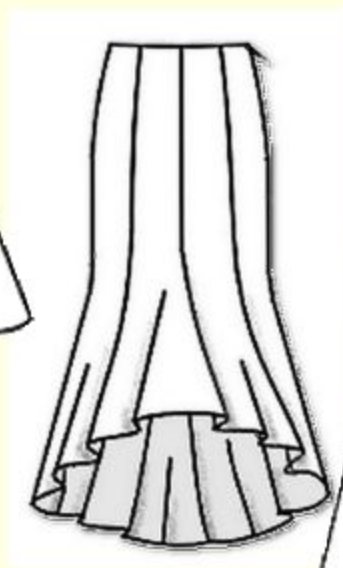
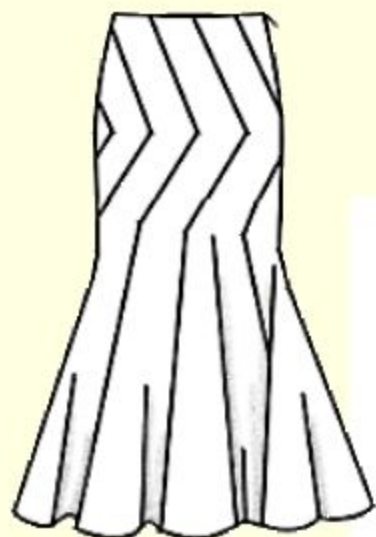


# Построение юбки из шести клиньев

# Модели клиньевых юбок



# Последовательность построение чертежа

<b>№</b>	<b>Обозначение на чертеже</b>	<b>Ход работы</b>	<b>Формула для расчета</b>
<b>1</b>	<b>Т</b>	<b>Провести вертикальную линию, т.е. <u>линию середины</u> <u>клина.</u> Обозначить т. Т</b>	<b>Построение</b>

# Построения чертежа юбки из клиньев

## Мерки

№	Название мерок	Обозначение мерок	Мерки	Мерки на себя
1		Ст	36	
2		Сб	50	
3		Ди	60	
4		Вб	18	
5	<b>Прибавки</b>			
1	Прибавка к обхвату талии	Пт	1	
2	Прибавка к обхвату бёдер	Пб	1	

## Последовательность построения чертежа

№	Ход работы	Формула для расчета Расчет на 42-й размер Расчет на себя
1	Провести вертикальную линию, т.е.	Построение


# Чертеж юбки из шести клиньев



# Последовательность построение

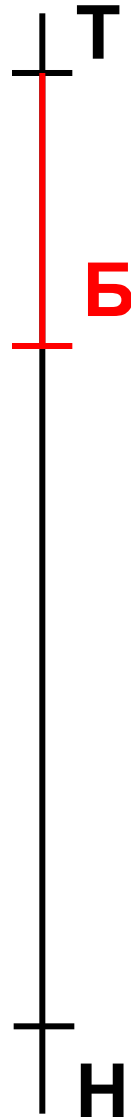
№	Обозначение на чертеже	Ход работы	Формула для расчета
1	Т	Провести вертикальную линию, т.е. <u>линию середины клина.</u> Обозначить т. Т	Построение
2	ТН	Определить длину клина. Обозначить т. Н	$\downarrow \text{ТН} = \text{Ди}$ $\downarrow \text{ТН} = 60 \text{ см}$

# Чертеж юбки из шести клиньев в масштабе 1:4



2	ТН	Определить длину клина. Обозначить т. Н	$\downarrow \text{ТН} = \text{Ди}$ 1) $\downarrow \text{ТН} = 60 \text{ см}$
3	ТБ	Определить положение линии бёдер. Обозначить т. Б	$\downarrow \text{ТБ} = \text{Вб}$ 1) $\downarrow \text{ТБ} = 18$

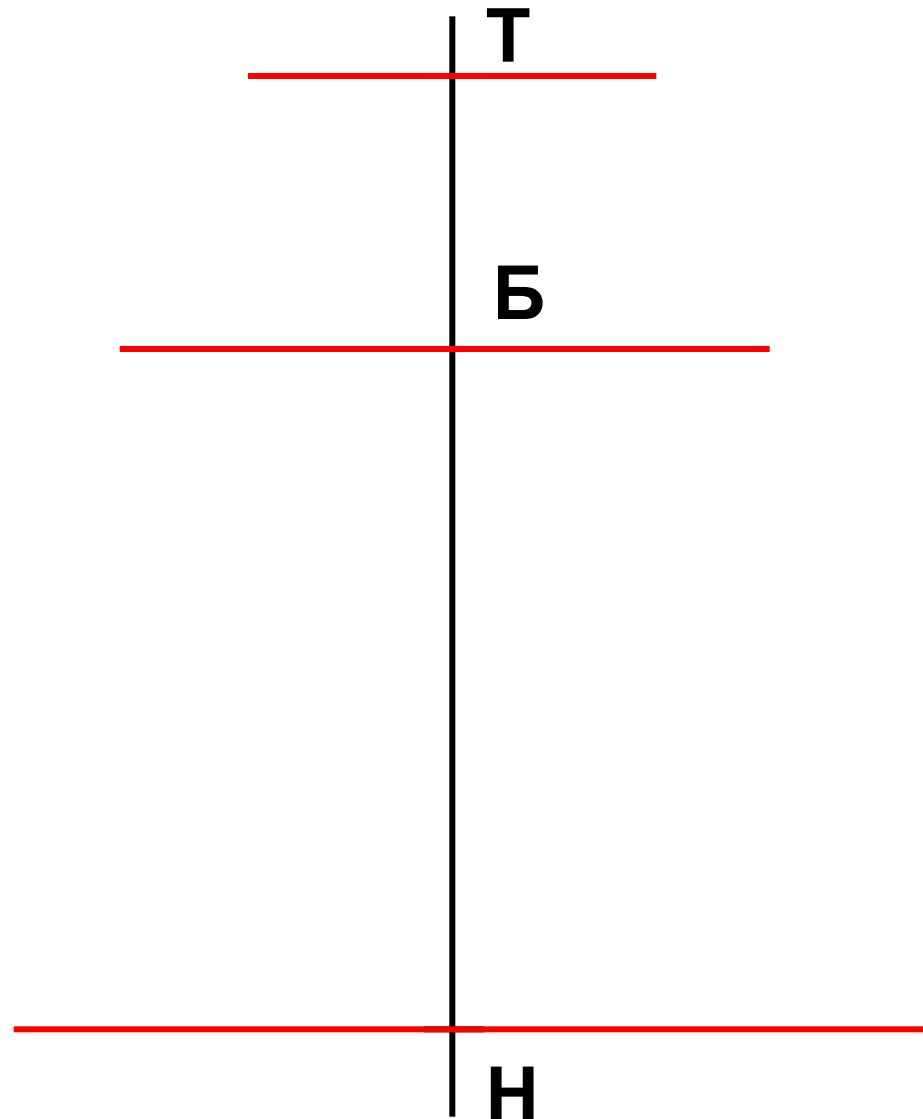
# Чертеж юбки из шести клиньев в масштабе 1:4





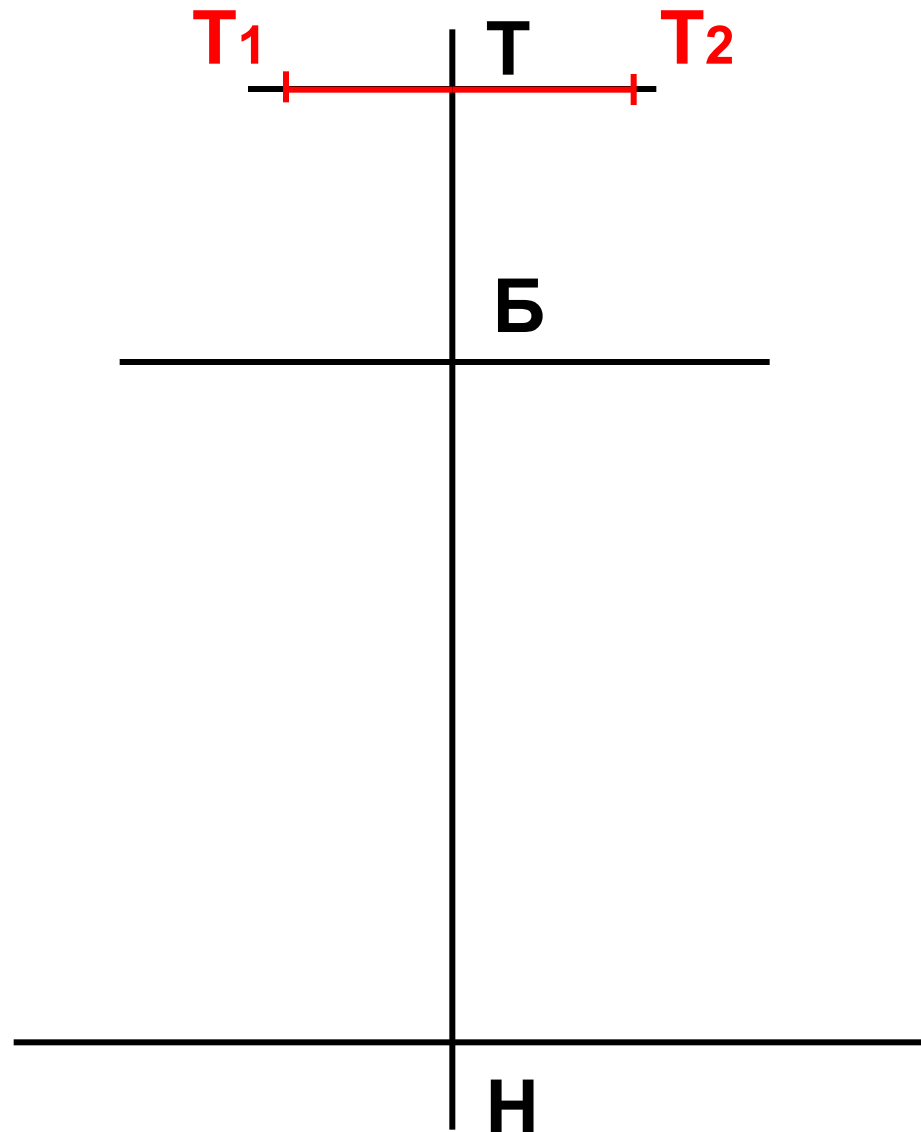
2	ТН	<p>Определить длину клина. Обозначить т. Н</p>	<p><math>\downarrow \text{ТН} = \text{Ди}</math> 1) <math>\downarrow \text{ТН} = 60 \text{ см}</math></p>
3	ТБ	<p>Определить положение линии бёдер. Обозначить т. Б</p>	<p><math>\downarrow \text{ТБ} = \text{Вб}</math> 1) <math>\downarrow \text{ТБ} = 18</math></p>
4		<p><b>Провести горизонтальные линии через точки Т, Б, Н</b></p>	<p><b>Построение</b></p>

# Чертеж юбки из шести клиньев в масштабе 1:4



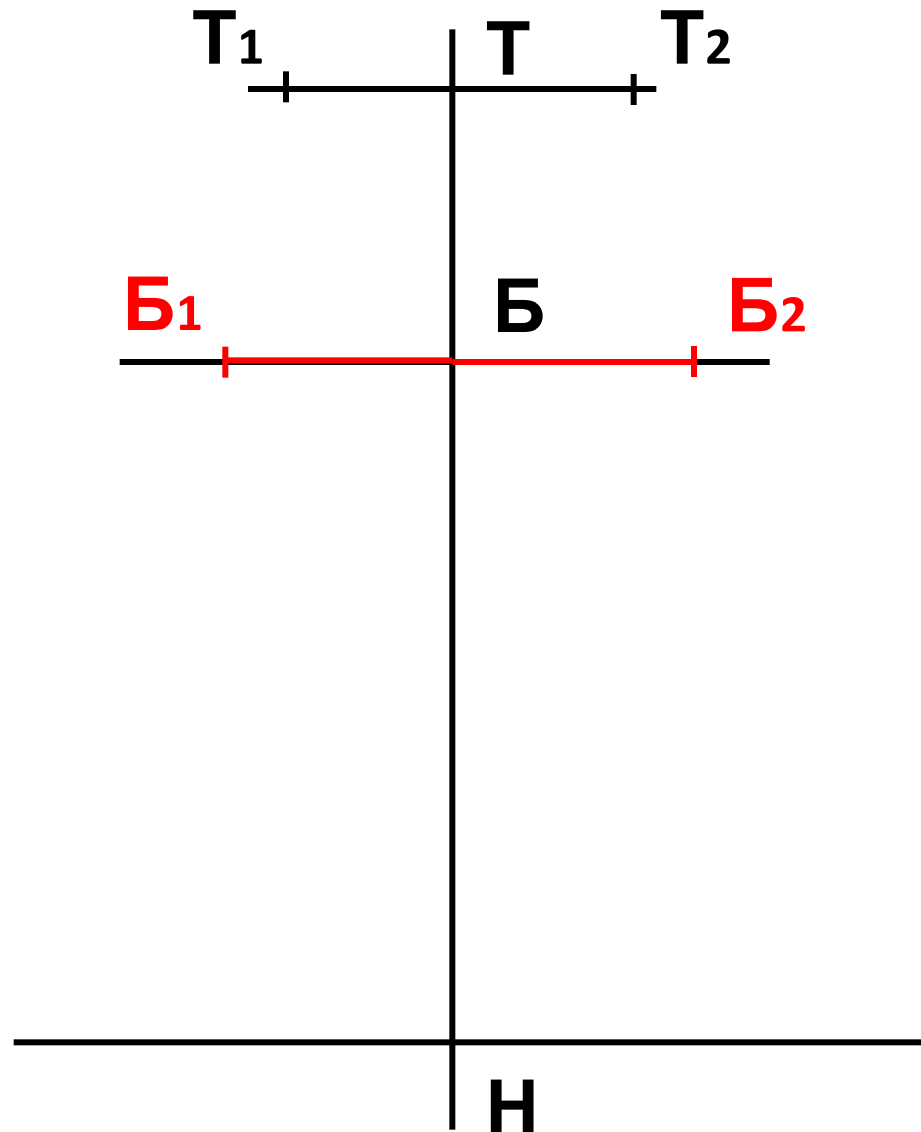
5		<p>Рассчитать ширину клина 1) по линии талии</p>	<p><math>T_1T_2 = 2 * (C_T + П_T) : N</math> 1) <math>T_1T_2 = 2 * (36 + 1) : 6</math> <math>= 12,5 \text{ см}</math></p>
6	<p>T T1 T T2</p>	<p>Отложить от т. T влево и вправо <u>половину</u> <u>ширины</u> клина по линии талии, обозначить т. T1 и т. T2</p>	<p><math>TT_1 = TT_2 = T_1T_2 : 2</math> 1) <math>TT_1 = TT_2 = 12,5 : 2 =</math> <math>= 6,3 \text{ см}</math></p>

# Чертеж юбки из шести клиньев в масштабе 1:4



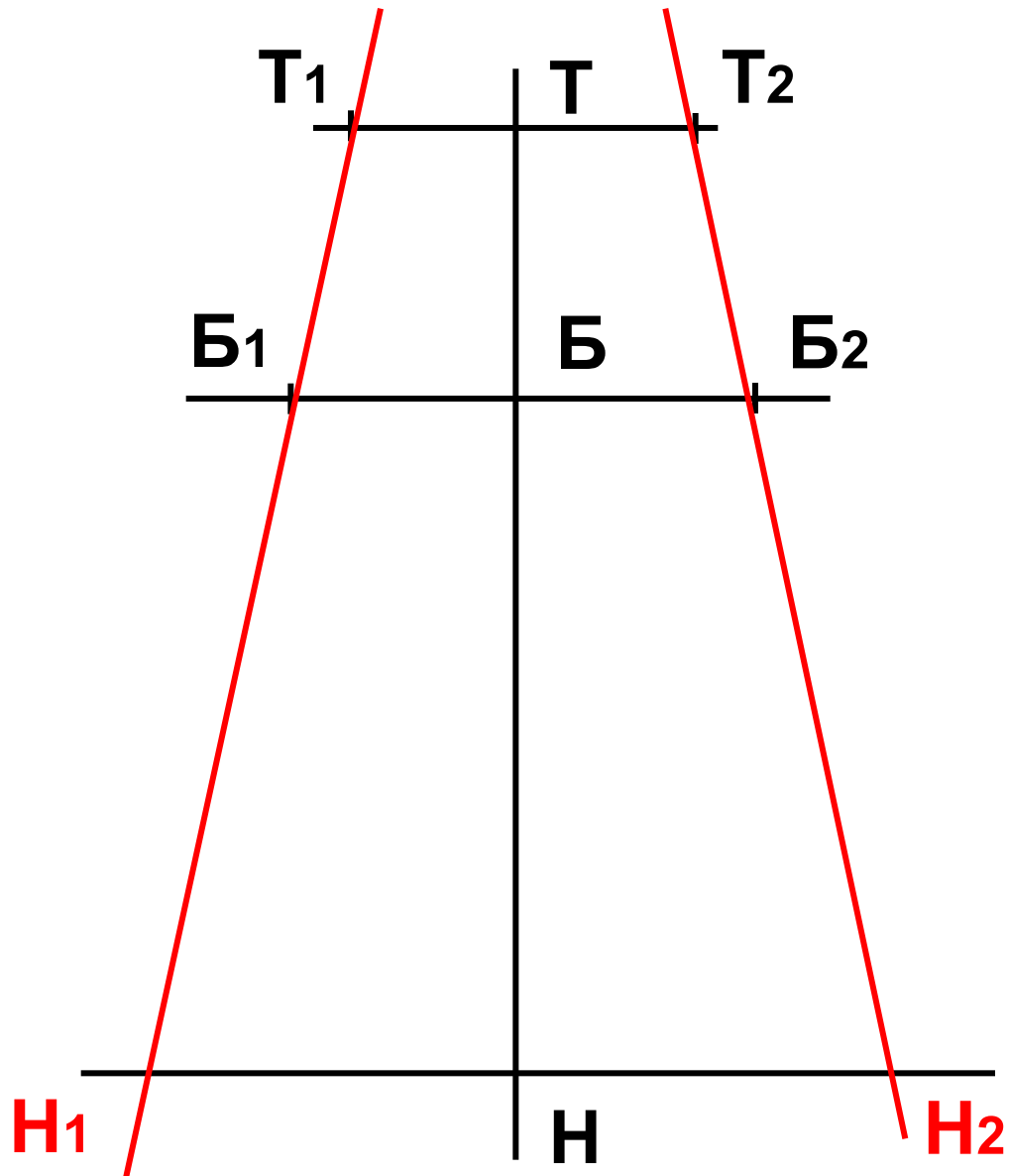
7		<p>Рассчитать ширину клина по линии бёдер</p>	<p><b><math>B_1 B_2 = 2 * (C_6 + П_6) : N</math></b>  <b>1) <math>B_1 B_2 = 2 * (50 + 1) : 6 = 17</math></b></p>
8	<p><b>ББ1 ББ2</b></p>	<p>Отложить от т. Б влево и вправо <u>половину</u> <u>ширины</u> клина по линии бёдер, обозначить т. Б1 и т. Б2</p>	<p><b><math>ББ1 = ББ2 = B_1 B_2 : 2</math></b>  <b>1) <math>ББ1 = ББ2 = 17 : 2 = 8,5 \text{ см}</math></b></p>

# Чертеж юбки из шести клиньев в масштабе 1:4



<b>9</b>	<b>Н1</b>	<b>Провести прямую линию через т. Т1 и т. Б1 до пересечения с линией низа, обозначить т. Н1</b>	<b>Построение</b>
<b>10</b>	<b>Н2</b>	<b>Провести прямую линию через т. Т2 и т. Б2 до пересечения с линией низа, обозначить т. Н2</b>	<b>Построение</b>

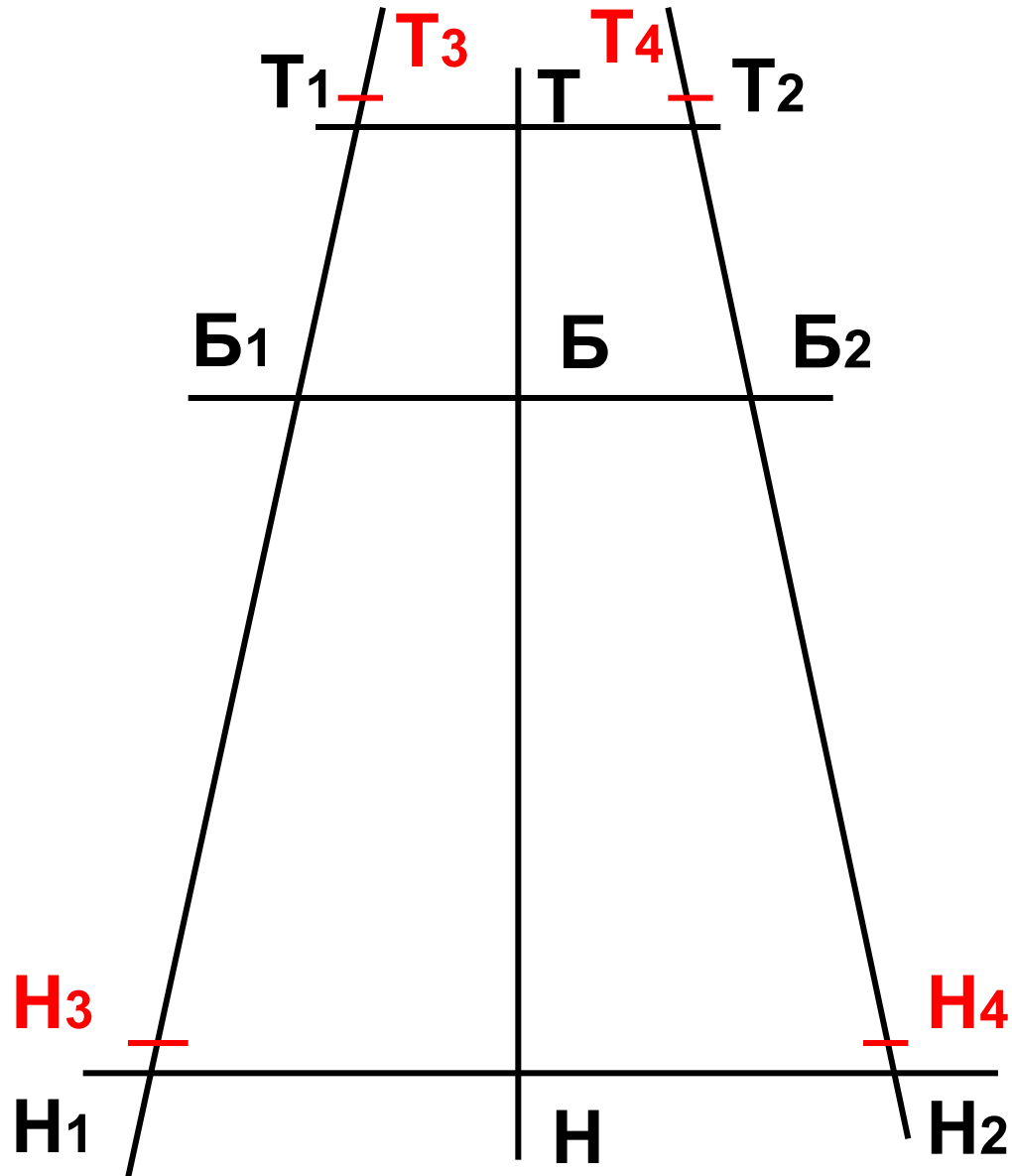
# Чертеж юбки из шести клиньев в масштабе 1:4





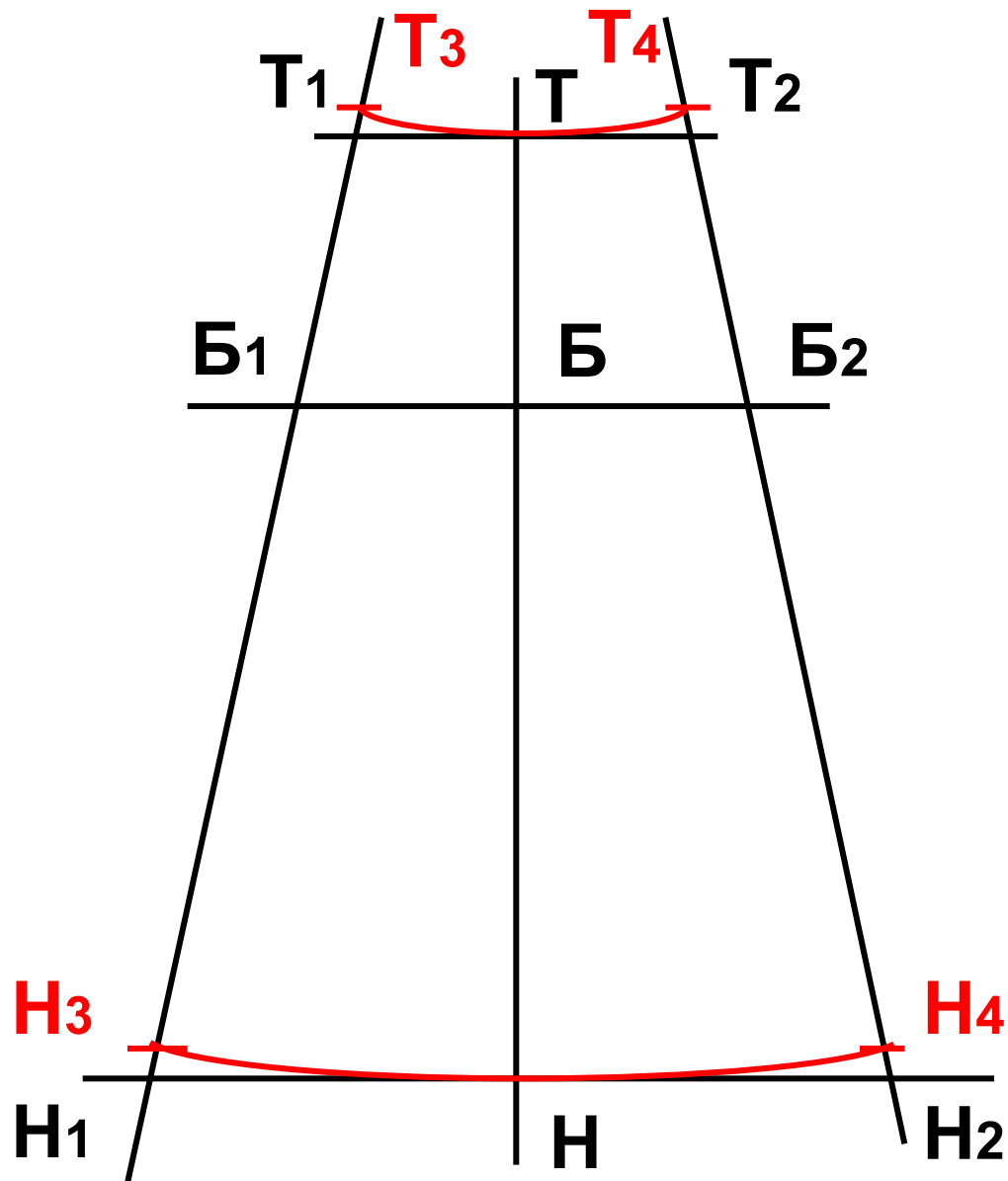
11	<p>T1T3 T2T4</p>	<p>Выполнить повышение по линии талии по боковым линиям, обозначить т. Т3 и т. Т4</p>	<p><math>\uparrow T1T3 = \uparrow T2T4 = 0,5\text{см}</math> 1) <math>\uparrow T1T3 = \uparrow T2T4 = 0,5\text{см}</math></p>
12	<p>H1H3 H2H4</p>	<p>Выполнить повышение по линии низа по боковым линиям, обозначить т. Н3 и т. Н4</p>	<p><math>\uparrow H1H3 = \uparrow H2H4 = 0,5\text{см}</math> 1) <math>\uparrow H1H3 = \uparrow H2H4 =</math> <math>= 0,5\text{см}</math></p>

# Чертеж юбки из шести клиньев в масштабе 1:4

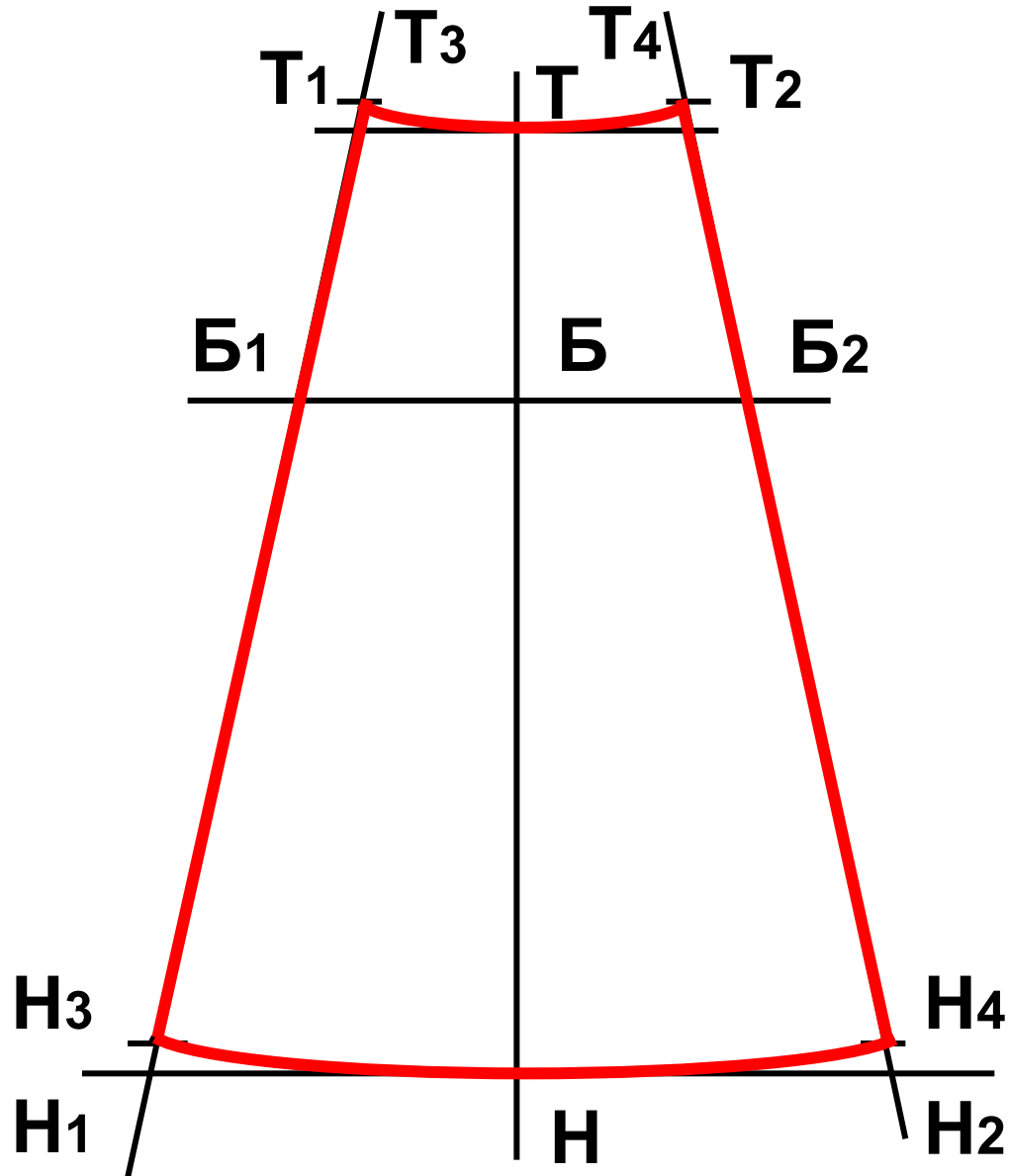


<b>13</b>	<b>Т3Т Т4</b>	<b>Провести <u>новую</u> <u>линию талии</u> через точки Т3 , Т , Т4</b>	<b>Построение</b>
<b>14</b>	<b>Н3НН4</b>	<b>Провести <u>новую</u> <u>линию низа</u> через точки Н3 , Н , Н4</b>	<b>Построение</b>
<b>15</b>		<b>Обвести контур чертежа сплошной основной линией</b>	

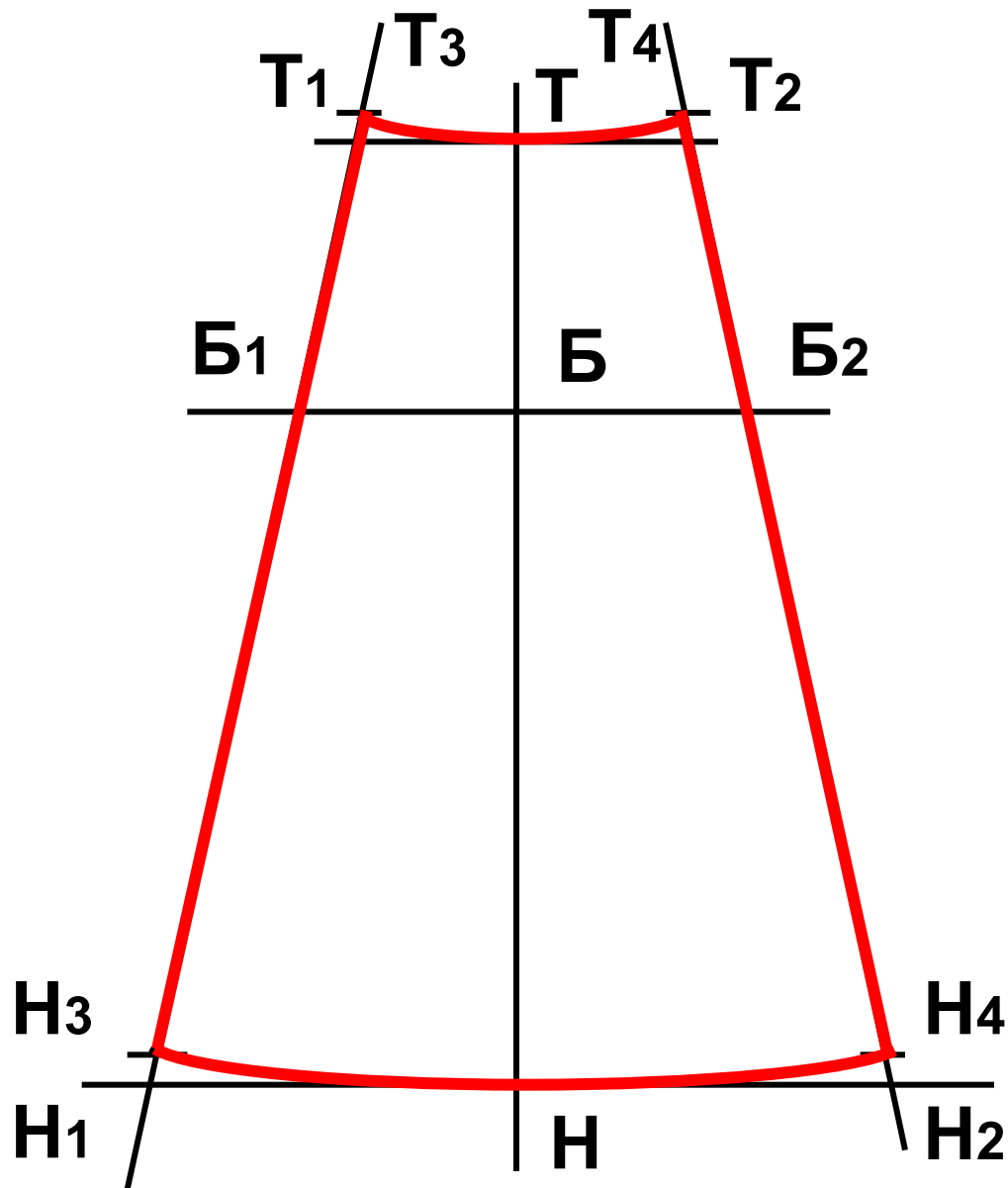
Чертеж юбки из шести клиньев  
в масштабе 1:4



**Чертеж юбки из шести клиньев  
в масштабе 1:4**



# Чертеж юбки из клиньев



***T3 T T4 - линия талии***

***B1 B2 - линия бёдер***

***H3 H4 - линия низа***

***T3 H3 - линия бока***

***T4 H4 - линия бока***