



Итоговый тест по математике

1 класс

Тест на основе шаблона Комаровского А.Н.

Введите фамилию и имя



Всего заданий

14

[Начать тестирование](#)

Время тестирования

10

мин.

Укажи, где числа **2, 8, 14, 16, 7, 11, 10, 20, 5** записаны в порядке убывания.

1 2, 5, 7, 8, 10, 11, 14, 16, 20

2 2, 8, 7, 5, 16, 14, 11, 10, 20

3 20, 16, 14, 11, 10, 8, 7, 5, 2

4 10, 11, 2, 14, 5, 16, 7, 8, 20



Назови соседей числа 17.

1 16 и 19

2 15 и 18

3 1 и 7

4 16 и 18



Найди сумму чисел 9 и 6.



1

$9 - 6$



2

$9 + 6$



3

$9 < 6$



4

$9 > 6$



Укажи, где записано
неравенство.



1

$3 + 6$



2

$6 = 6$



3

$7 > 5$



4

$4 + 6 = 10$



Какое неравенство верное?

1 $4 + 7 > 11$

2 $5 + 9 > 15$

3 $15 - 8 < 9$

4 $12 - 6 < 6$



В каком примере ответ равен
16?

1 $9 + 8$

2 $5 + 12$

3 $20 - 6$

4 $8 + 8$



Сколько прямых здесь изображено?



1

2



2

4



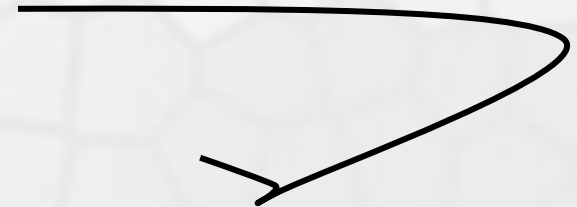
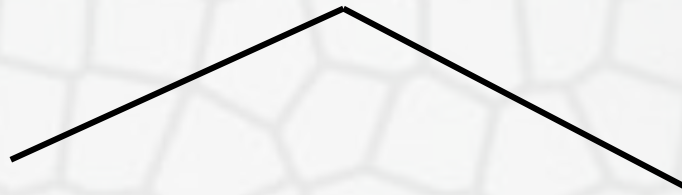
3

5



4

6



Где изображена ломаная,
состоящая из четырёх звеньев?



1

А



2

Б




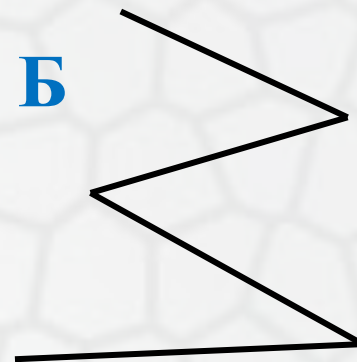
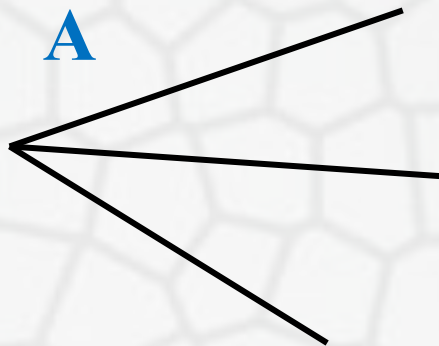
3

В



4

Г



Выберите верное решение задачи.

На уроке труда дети делали поздравительные открытки. Сколько всего открыток получилось, если девочки сделали 9 открыток, а мальчики – 7?

1 $9 + 7$

2 $9 - 7$

3 $9 - 7 + 9$

4 $9 + 7 - 9$



Найди ответ такой же, как в
примере $13 - 7 + 6$.



1 $7 + 7$



2 $13 - 8 + 7$



3 $8 + 8 - 5$



4 $7 + 3 + 3$



Какое число можно поставить
вместо пропуска в неравенство

$$1 \text{ дм } 5 \text{ см} > \square ?$$

1 18 см

2 15 см

3 10 см

4 2 дм



В какой паре примеров ответы
одинаковые?

1 $12 - 5$ и $16 - 8$

2 $6 + 6$ и $7 + 4$

3 $9 + 5$ и $7 + 7$

4 $13 - 8$ и $11 - 5$



Поставь вопрос к задаче так, чтобы она решалась в два действия.

Оля нашла 7 белых грибов, а Коля – на 4 гриба больше.

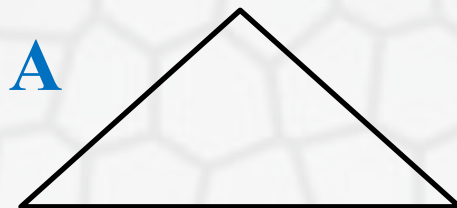
- 1 Сколько грибов нашёл Коля?
- 2 Сколько грибов нашли они вместе?
- 3 Сколько грибов нашла Оля?
- 4 Сколько грибов у них осталось?



Где изображена ломаная, состоящая из трёх звеньев?

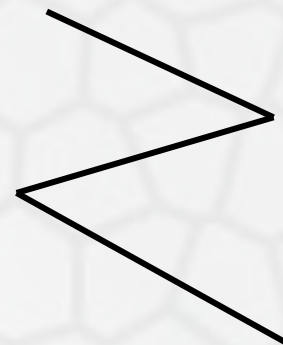
 1

А

 2

Б

В

 3

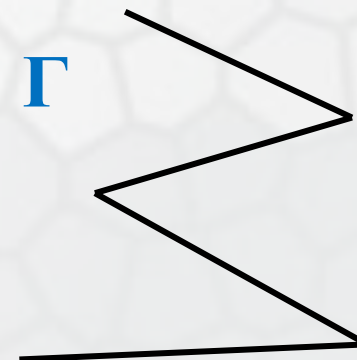
В

Б

 4

Г

Г



Результаты тестирования

Оценка

Правильных ответов

Набранных баллов

Ошибки в выборе
ответов на задания:



Всего заданий

бал.

Снова

Выход

Затрачено времени