

Дорожные знаки



Этот дорожный знак указывает:

- 1. Расстояние до конца тоннеля**
- 2. Расстояние до места аварийной остановки**
- 3. Направление движения к аварийному выходу и расстояние до него**

Правильный ответ: 3

В тоннеле применён новый дорожный знак 6.21.1 «Направление движения к аварийному выходу». Он указывает направление движения к аварийному выходу и расстояние до него.

(«Дорожные знаки»)



Этот знак разрешает Вам ставить на стоянку легковой автомобиль с использованием тротуара:

- 1. Только на правой стороне дороги до ближайшего по ходу движения перекрестка**
- 2. Только на правой стороне дороги до знака «Конец зоны регулируемой стоянки»**
- 3. На любой стороне дорог, расположенных в зоне регулируемой стоянки**

Правильный ответ: 3

Зона действия знака [5.29](#) «Зона регулируемой стоянки» - с места его установки до знака [5.30](#) «Конец зоны регулируемой стоянки».



Что запрещено в зоне действия этого знака?

- 1. Движение со скоростью более 20 км/ч**
- 2. Движение только механических транспортных средств**
- 3. Движение любых транспортных средств**

Правильный ответ: 3

Знак 5.33 «Пешеходная зона» обозначает место, с которого начинается территория (участок дороги), на которой разрешено движение только пешеходов и приравненных к ним лиц (это передвигающиеся в инвалидных колясках без двигателя, ведущие велосипед, мопед, мотоцикл, везущие санки, тележку, детскую и инвалидную коляску)



А



Б



В



Г

Какие из знаков устанавливают в начале дороги с односторонним движением?

- 1. Только А**
- 2. Только Б**
- 3. Б или Г**
- 4. Б или В**

Правильный ответ: 2

Знак «Б» - 5.5 «Дорога с односторонним движением». («Дорожные знаки»).



А



Б



В

Какие знаки запрещают поворот налево?

1. Только А
2. Только А и Б
3. Только А и В
4. Все

Правильный ответ: 3

На перекрёстке, перед которым установлен знак «А» - 5.13.1 «Выезд на дорогу с полосой для маршрутных транспортных средств», запрещается поворот налево других транспортных средств. Запрещает поворот всем видам транспортных средств и знак «В» - 6.3.1 «Место для разворота».



Разрешено ли Вам повернуть направо на этом перекрестке?

- 1. Да**
- 2. Нет**

Правильный ответ: 1

Знак 6.8.2 «Тупик» указывает, что примыкающая дорога не имеет сквозного проезда. Каких - либо ограничений он не вводит. («Дорожные знаки»).



А



Б



В

Какие знаки запрещают движение транспортных средств, скорость которых по технической характеристике или их состоянию менее 40 км/ч?

1. Только А
2. Только В
3. А и Б

Правильный ответ: 3

Что запрещено на дорогах, обозначенных знаком «А»

- [5.1](#) «Автомагистраль», - запрещено и на дорогах, обозначенных знаком «Б» [5.3](#) «Дорога для автомобилей». На данных дорогах запрещается движение транспортных средств, скорость которых



В каких направлениях Вам разрешено продолжить движение на перекрестке?

- 1. Только налево и в обратном направлении**
- 2. Только прямо, налево и в обратном направлении**
- 3. В любых**

Правильный ответ: 2

Знак 5.13.2 «Выезд на дорогу с полосой для маршрутных транспортных средств» запрещает поворот направо. Поэтому Вы можете продолжить движение прямо, налево или развернуться. («Дорожные знаки»).




О чем информирует водителя табличка, установленная под знаком?

- 1. Парковка оборудована пунктом технической помощи**
- 2. На парковке имеется место для осмотра автомобилей (эстакада или смотровая канава)**

Правильный ответ: 2

Табличка 8.10 «Место для осмотра автомобилей» указывает, что на площадке, обозначенной знаком 6.4 «Парковка» (парковочное место) имеется эстакада или смотровая канава. Обычно такие места оборудуются на дорогах вне населенных пунктов. Эта табличка может использоваться и со знаком 7.11 «Место отдыха»,



Эта табличка распространяет действие установленного с ней знака:

- 1. Только на легковые автомобили**
- 2. На легковые автомобили, а также на грузовые автомобили с разрешенной максимальной массой до 3,5 т**
- 3. На легковые автомобили и мотоциклы**

Правильный ответ: 2

Табличка 8.4.3 «Вид транспортного средства» распространяет действие знака на легковые автомобили, а также грузовые с р. м. м. до 3,5 т. («Дорожные знаки»).



А



Б



В

Какие знаки разрешают движение грузовым автомобилям с разрешенной максимальной массой до 3,5 т?

1. Только А
2. Только Б
3. Только А и В
4. Все

Правильный ответ: 3

Из данных знаков только знак «Б» - [3.1](#) «Въезд запрещён» - запрещает въезд всех транспортных средств. От требований знака отступают маршрутные транспортные средства: трамвай, троллейбус, автобус.

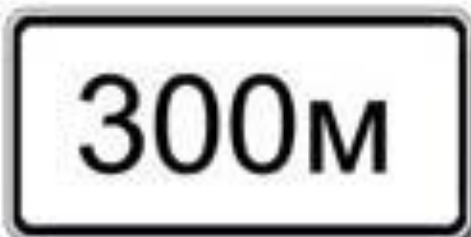


В каких направлениях Вы можете продолжить движение по крайней левой полосе на легковом автомобиле?


- 1. Только налево**
- 2. Только прямо или налево**
- 3. Прямо, налево или в обратном направлении**

Правильный ответ: 3


При наличии знаков, организующих направление движения по полосам или по полосе, как в данной ситуации, знаки, разрешающие поворот налево из крайней левой полосы, разрешают и разворот с этой полосы. Поэтому Вы можете продолжить движение прямо, налево или развернуться.



А



Б



В

Какие таблички указывают протяженность зоны действия знаков, с которыми они применяются?

- 1.Только А**
- 2.Только Б**
- 3.Б и В**

Правильный ответ: 3

Таблички 8.2.1, 8.2.2 «Зона действия» обозначенные «Б» и «В», указывают зону действия запрещающих знаков. Табличка 8.1.1 «Расстояние до объекта» указывает точное расстояние от знака до начала опасного участка, места введения какого-либо ограничения или определённого объекта, находящегося впереди



О чем информируют Вас эти знаки?

- 1. При влажном покрытии рекомендуемая скорость 40 км/ч**
- 2. При влажном покрытии разрешенная скорость не более 40 км/ч**

Правильный ответ: 1

Табличка 8.16 «Влажное покрытие» указывает, что действие знака 6.2 «Рекомендуемая скорость» распространяется на период времени, когда покрытие проезжей части влажное. В данном случае действие распространяется до ближайшего перекрёстка. («Дорожные знаки»).



По какой траектории Вам разрешено продолжить движение?

1. Только по А
2. Только по А или В
3. По любой
4. По любой, кроме Б

Правильный ответ: 4

Знак 6.3.1 «Место для разворота» запрещает поворот налево для всех видов транспортных средств. Из указанных направлений нельзя продолжать движение по траектории «Б». («Дорожные знаки»).



А



Б



В

Какие знаки информируют Вас, что на данной дороге действуют требования Правил, устанавливающие порядок движения в населенных пунктах?

- 1. Только А**
- 2. Только А и Б**
- 3. Все**

Правильный ответ: 2

Знаки «А» и «Б» - 5.23.1 и 5.23.2 «Начало населенного пункта» (с белым фоном). («Дорожные знаки»).



А



Б



В



Г

Какие знаки разрешают выполнить разворот?

1. Только Б
2. Только Б и В
3. Все

Правильный ответ: 3

Все из обозначенных знаков разрешают выполнить разворот на перекрёстках, перед которыми они установлены. Знаки «А» и «Б» - 5.7.1, 5.7.2 «Выезд на дорогу с односторонним движением». Знаки «В» и «Г» - 5.13.2, 5.13.1, «Выезд на дорогу с полосой для маршрутных транспортных средств». («Дорожные знаки»).



А



Б



В

Какой знак информирует о начале дороги с реверсивным движением?

- 1.А
- 2.Б
- 3.В

Правильный ответ: 3

Знак «В» - 5.8 «Реверсивное движение». («Дорожные знаки»).

вопрос без картинки

Где начинают действовать требования Правил, относящиеся к населенным пунктам?

- 1. Только с места установки дорожного знака с названием населенного пункта на белом фоне**
- 2. С места установки дорожного знака с названием населенного пункта на белом или синем фоне**
- 3. В начале застроенной территории, непосредственно прилегающей к дороге**

Правильный ответ: 1

Только с места установки знака 5.23.1 или 5.23.2 «Начало населённого пункта» с белым фоном. («Дорожные знаки»).



Двигаясь по средней полосе на легковом автомобиле, Вы можете продолжить движение:

- 1. Только прямо**
- 2. Только прямо или налево**
- 3. Прямо, налево или в обратном направлении**

Правильный ответ: 2

Со средней полосы, над которой расположен знак 5.15.2 «Направления движения по полосе», разрешается движение прямо и поворот налево. Разворот был бы разрешен, в случае расположения т. с. на крайней левой полосе. («Дорожные знаки»).



Этот знак указывает, что:

- 1. Вы должны повернуть направо или налево**
- 2. На пересекаемой дороге организовано реверсивное движение**
- 3. На пересекаемой дороге организовано одностороннее движение**

Правильный ответ: 2

Перед Вами перекрёсток, по пересекаемой дороге которого организовано реверсивное движение, о чём информирует знак 5.10 «Выезд на дорогу с реверсивным движением».

(«Дорожные знаки»).



Что означают эти дорожные знаки?

- 1. Стоянка разрешена только транспортным средствам оперативных служб**
- 2. Стоянка разрешена только с включенными габаритными огнями**
- 3. Стоянка разрешена только в праздничные, субботние и воскресные дни**

Правильный ответ: 3

Табличка 8.5.1 «Субботные, воскресные и праздничные дни» указывает, что знак, с которым она применяется, действует только в выше перечисленные дни. («Дорожные знаки»).



А



Б



В

Какой знак используется для обозначения границ искусственной неровности?

- 1. Только А**
- 2. Только Б**
- 3. Б и В**

Правильный ответ: 1

Знак 5.20 «Искусственная неровность» обозначает границу искусственной неровности («лежащий полицейский»). Знак устанавливается на ближайшей границе искусственной неровности относительно приближающихся Т. С. («Дорожные знаки»)



Управляя каким автомобилем, Вы можете опередить легковой автомобиль?

- 1. Только легковым**
- 2. Только легковым или грузовым с разрешенной максимальной массой менее 3,5 т**
- 3. Любым автомобилем**

Правильный ответ: 2

Этот знак в таком случае запрещает движение грузовых автомобилей с разрешённой максимальной массой более 3,5 т по левой полосе по ходу Вашего движения. («Дорожные знаки»).



А



Б



В

Какие знаки используются для обозначения номера, присвоенного дороге (маршруту)?

- 1. Только А**
- 2. Только Б**
- 3. Только А и Б**
- 4. Все**

Правильный ответ: 3

Знаки «А» и «Б» имеют общий номер и наименование: 6.14.1 «Номер маршрута». Знак «В» – 6.13 «Километровый знак» - обозначает расстояние до начала или конца дороги (км). («Дорожные знаки»).



Разрешено ли водителю поставить грузовой автомобиль на стоянку в этом месте указанным способом?

- 1. Да**
- 2. Да, если разрешенная максимальная масса автомобиля менее 3,5 т**
- 3. Нет**

Правильный ответ: 3

Водителям грузовых автомобилей при наличии знака 6.4 «Парковка (парковочное место)» с одной из табличек 8.6.2-8.6.9 «Способ постановки транспортных средств на стоянку» останавливаться и стоять в зоне действия этого знака



А



Б



В

Какими знаками обозначают участки, на которых водитель обязан уступать дорогу пешеходам, находящимся на проезжей части?

- 1. Только А и Б**
- 2. Только Б и В**
- 3. Всеми**

Правильный ответ: 2

Знаки: «Б» – 5.19.2 «Пешеходный переход», «В» – 5.21 «Жилая зона» предоставляют преимущество пешеходам на проезжей части на обозначенных ими участках дорог, территориях.

Предупреждающий знак «А» – 1.22 «Пешеходный переход» предупреждает о приближении к пешеходному переходу



А



Б



В

Какие знаки информируют Вас о приближении к началу участка дороги со встречным движением?

- 1.Только А**
- 2.Только А и Б**
- 3.Все**

Правильный ответ: 1

Только предупреждающий знак «А» - 1.21 «Двустороннее движение» - устанавливается перед проезжей частью с встречным движением, если ему предшествовал участок дороги с односторонним движением.



Вы буксируете неисправный автомобиль. По какой полосе Вы можете продолжить движение?

- 1. Только по правой**
- 2. По любой**

Правильный ответ: 1

Движение по полосе с изображением знака 4.6 «Ограничение минимальной скорости» допускается со скоростью не менее 60 км/ч. При буксировке скорость не должна превышать 50 км/ч.

Соответственно продолжать движение можете только по правой полосе. (пункт 10.4 ПДД).



А



Б



В

Какие знаки информируют Вас, что на перекрестке необходимо уступить дорогу транспортным средствам, приближающимся слева?

- 1.Только А**
- 2.Только Б**
- 3.Только А и Б**
- 4.Все**

Правильный ответ: 2

Порядок проезда транспортных средств на перекрестках определяется знаками приоритета, обозначенных в данном случае «А» и «Б». Знак «А» – 2.3.3 «Примыкание второстепенной



В каком из направлений Вам разрешено движение?

1. Только Б
2. Только А и Б
3. Только Б и В
4. Во всех из указанных

Правильный ответ: 4

Знак 5.7.2 «Выезд на дорогу с односторонним движением» запрещает поворот направо, т. е. встречное движение.

Разрешенные направления движения на таком пересечении - прямо, налево (в направлении стрелки на знаке) и разворот. («Дорожные знаки»).



А



Б

Какие знаки указывают протяженность зоны для разворота?

1. Только А
2. Только Б
3. Все

Правильный ответ: 2

Знак «Б» – [6.3.2](#) «Зона для разворота» применяется для обозначения места на участке дороги разрешающего разворот и его протяжённость. Комбинация знаков «А» – [6.3.1](#) «Место для разворота» и табличка [8.1.1](#) «Расстояние до объекта» указывают, что через 50 м от установки знаков по ходу движения, будет находиться место, предназначенное только для выполнения



А



Б



В

Какой из знаков используется для обозначения кемпинга?

1. Только А
2. Только Б
3. Только В
4. Б и В

Правильный ответ: 2

Знаки сервиса информируют о расположении соответствующих объектов. Обозначенные знаки: «Б» – 7.10 «Кемпинг»; «А» – 7.9 «Гостиница или мотель»; «В» – 7.11 «Место отдыха». («Дорожные знаки»).



Двигаясь по крайней левой полосе, Вы можете продолжить движение:

- 1. Только налево**
- 2. Только в обратном направлении**
- 3. Налево или в обратном направлении**

Правильный ответ: 3

Знаки, указывающие направление движения по полосам (полосе), разрешающие поворот налево из крайней левой полосы, разрешают и разворот. Вы, двигаясь по крайней левой полосе, согласно знаку 5.15.2 «Направления движения по полосе», можете повернуть налево или развернуться.



А



Б



В

Какие знаки разрешают выполнить поворот налево?

- 1. Только Б**
- 2. А и Б**
- 3. Б и В**

Правильный ответ: 3

Из обозначенных разрешают выполнить поворот налево знаки: «Б» – 6.8.3 «Тупик», «В» – 5.13.2 «Выезд на дорогу с полосой для маршрутных транспортных средств».



Кто из водителей нарушил правила стоянки?

- 1. Только водитель грузового автомобиля**
- 2. Водители мотоцикла и грузового автомобиля**
- 3. Все водители**
- 4. Никто не нарушил**

Правильный ответ: 1

Водителям грузовых автомобилей при наличии знака 6.4 «Парковка (парковочное место)» с любой из табличек 8.6.2 - 8.6.9 «Способ постановки транспортных средств» стоять в зоне действия комбинации этих знаков нельзя. Вместе с указанными знаками обязательна и установка



А



Б



В

Какие таблички распространяют действие установленных с ними знаков на грузовые автомобили с разрешенной максимальной массой менее 3,5 т?

- 1. Только Б**
- 2. Только В**
- 3. Б и В**
- 4. Все**

Правильный ответ: 3

Таблички 8.4.1 (А) и 8.4.3 (Б) «Вид транспортного средства» распространяют своё действие: »А»- на грузовые автомобили, в том числе с прицепом, с р. м.м. более 3,5 т, «Б» - на легковые



Какие транспортные средства можно поставить на стоянку указанным на табличке способом?

- 1. Только легковые автомобили и мотоциклы**
- 2. Все, кроме грузовых автомобилей с разрешенной максимальной массой более 3,5 т**
- 3. Любые транспортные средства**

Правильный ответ: 1

Табличка 8.6.3 «Способ постановки транспортного средства на стоянку» указывает, как должны располагаться легковые автомобили и мотоциклы на краю тротуара в месте, обозначенном знаком 6.4 «Парковка (парковочное место)».



Нарушил ли водитель грузового автомобиля правила стоянки?

1.Нарушил

2.Нарушил, если разрешенная максимальная масса автомобиля более 3,5 т

3.Не нарушил

Правильный ответ: 1

Знак 6.4 «Парковка» (парковочное место) и табличка 8.6.4 «Способ постановки транспортного средства на стоянку» указывают способ постановки легковых автомобилей и мотоциклов в месте уширения проезжей части.



Что обозначают эти дорожные знаки?

- 1. Парковочное место только автобусов**
- 2. Парковочное место для автобусов и троллейбусов**
- 3. Парковочное место для транспортных средств, в случае если для дальнейшего движения можно воспользоваться маршрутными транспортными средствами — автобусом или троллейбусом**

Правильный ответ: 3

Такое сочетание знаков показывает, что с этого места для дальнейшего движения можно воспользоваться маршрутными транспортными средствами - автобусом или троллейбусом, а

**Дорожные
знаки
Ваши вопросы по
теме?**