


Горы суши



«С умом ли, Капля, ты? Меня пробить взялась!
Меня, гранитную! Ты, право, стоишь смеха».
Но, Капля молча все кап, кап... и пробралась.
Настойчивость – залог успеха.

И. Дмитриев



Цель урока: расширить знания об одной из крупнейших форм рельефа суши – горных системах.

Задачи:

- ☞ формировать умения работать с контурными картами;
- ☞ знать виды гор по высоте и уметь их сравнивать;
- ☞ уметь работать с разными источниками географических знаний;
- ☞ научиться описывать географическое положение гор по плану;





Гора – это положительная форма рельефа с относительной высотой более 200 м.

Горы занимают 45% территории суши.

Различие гор по высоте

Высокие
(выше 2000 м):
Кавказские горы,
Алтай, Тянь –
Шань,
Гималаи

Средние
(1000 – 2000 м):
Карпаты,
Крымские горы

Низкие
(500 – 1000 м):
Уральские горы,
Хибины

Высокие горы



Средневысотные горы

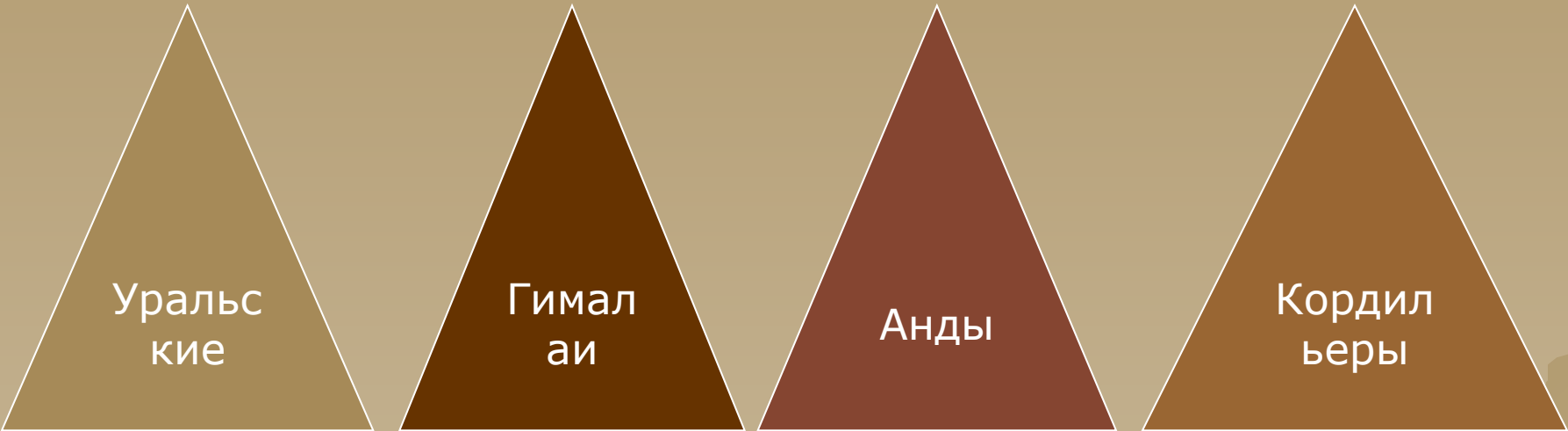


Низкие горы



Различие гор по высоте

«С давних пор привыкли горы
О высотах вести споры
Трудно это или просто
Нам расставить их по росту?»



Уральские

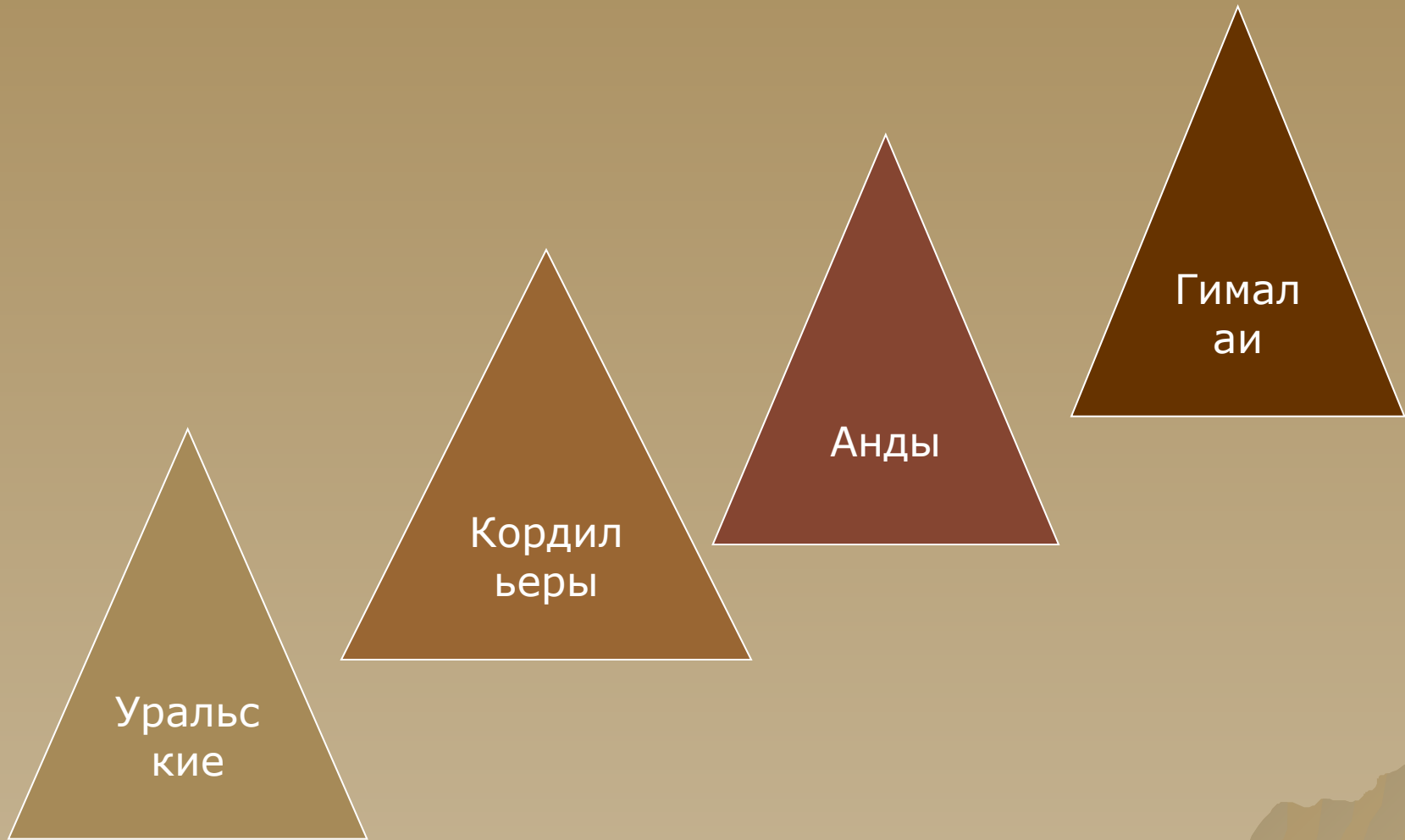
Гималаи

Анды

Кордильеры



Проверь себя



Игра «Третий лишний»



Австралия Австралия,
Африка Австралия, Африка,
гребень
север, перевал, восток
пик, Альпы, Гималаи
хребет, Камерун, Везувий

5. Аконкагуа, Эльбрус, нагорье

6. Волга, долина, Амазонка

7. горы, Япония, Мексика

Высочайшие горные системы

Материк	Горная система	Наивысшая вершина	Высота, м
Евразия	Гималаи	г. Джомолунгма	8848
Евразия	Памир	пик Коммунизма	7495
Евразия	Тянь-Шань	пик Победы	7439
Южная Америка	Анды	г. Аконкагуа	6960
Северная Америка	Кордильеры	Мак-Кинли	6193
Африка	Восточно-Африканское плоскогорье	влк. Килиманджаро	5895
Евразия	Кавказ	г. Эльбрус	5648
Евразия	Альпы	г. Монблан	4807
Австралия	Австралийские Альпы	г. Косцюшко	2230

Определите общее направление, протяженность гор, координаты самых высоких горных точек. Ответы занесите в таблицу:

<i>Горы</i>	<i>Направление</i>	<i>Протяженность</i>	<i>Координаты</i>
Кавказ			
Урал			
Анды			

Домашнее задание: § 20,



Задание!



обозначьте на к/к следующие объекты:

- Гималаи
- Кордильеры
- Анды
- Аппалачи
- Скандинавские
- Уральские
- Карпаты
- Хибины
- Бырранга

