

Урок математики 1 класс



Проверь, дружок, готов ли ты
начать урок?

Всё ли на месте, всё ли в
порядке:

Книги, ручки, карандаши,
линейки и тетрадки.



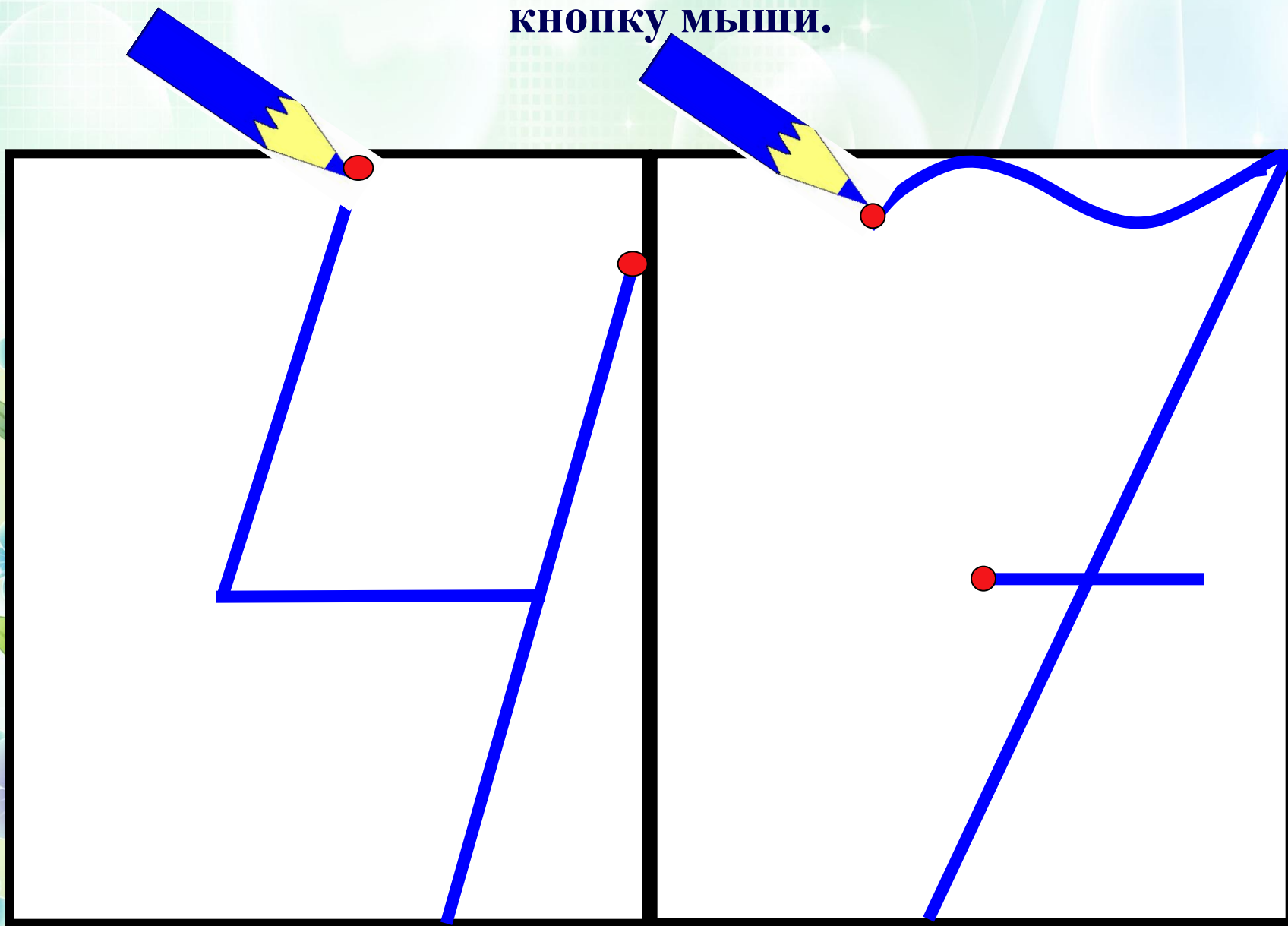
1. Открой тетрадь по математике.
2. От прошлой работы отступи 4 клеточки вниз.
3. И отступи 10 клеток вправо, в одиннадцатой клетке поставь точку.
4. Запиши дату.
3. От даты отступи 1 клетку вниз, на середине рабочей строки запиши классная работа

2 апреля

Классная работа



**Посмотри внимательно, как правильно пишется цифра,
чтобы карандаш начал двигаться, надо нажать левую
кнопку мыши.**




Минутка чистописания



**На следующей рабочей
строке пропиши через
клеточку цифры 4 и 7**



*Посмотрите на геометрические
фигуры и скажите, какая лишняя?*



Из каких геометрических фигур состоит
солнышко? Цыплёнок?



Данные примеры реши и запиши в тетрадь.

$6 + 1 = \text{А}$

$4 + 0 = \text{Д}$

$7 - 6 = \text{З}$

$5 - 2 = \text{А}$

$3 + 3 = \text{Ч}$

$6 - 1 = \text{А}$

На следующей рабочей строке, запиши ответы в порядке возрастания, через клеточку.

А теперь под каждым числом, запиши букву которая соответствует числу, буквы отмечены зеленым цветом в примерах.

Прочитай слово, которое у тебя получилось.

-Проверь правильно ли ты записал буквы, нажимая левую кнопку мыши.

1 3 4 5 6 7
З А Д А Ч А



Физминутка

Зайцы утром рано встали,
Весело в лесу играли.
По дорожкам прыг-прыг-прыг!
Кто к зарядке не привык?



Подскажи, пожалуйста,
что такое задача?

А ты знаешь из чего
состоит задача?





**В задаче всегда
должны быть
составные
части, а
именно:**



ОТВЕТ



решение



вопрос



условие



Задача № 1.

У Пина было 5 шаров.

Два шарика ему подарил Лосяш.



Сколько

Пин

Ребята, давайте
построим домик
и решим задачу!

?

$$5 + 2 = 7 ($$

Ответ: 5 шаров у

Пина

ответ

решение

вопрос

условие



Пальчиковая гимнастика

Этот мальчик маленький.

Этот пальчик слабенький.

Этот пальчик длинненький.

Этот пальчик сильненький.

Этот пальчик – толстячок,

Ну, а вместе – кулачок.



**Ребята,
решите
задачу!**



**Но прежде,
чем решить
задачу,
ее надо
прочитать
и понять о чем
идет речь в
задаче!**



Задача № 2.

Бараш написал 7 стишков. Крош написал 3 стишка. Сколько стишков Бараш и Крош написали вместе?

Что, сейчас ты прочитал?

Правильно!

ЗАДАЧУ

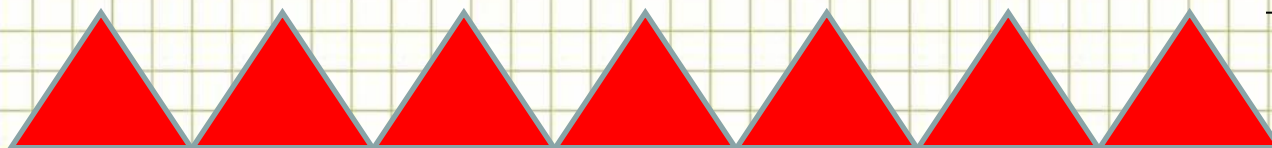
А теперь, чтобы правильно решить задачу, надо в тетрадь записать:



Краткую запись в виде рисунка.


При составлении краткой записи, надо ответить на вопросы.

Сколько Бараш написал стишков? Значит рисуем аккуратно в тетради на следующей рабочей строке, через клеточку 7 красных треугольников



- А сколько Крош написал стишков?

Значит рисуем аккуратно в тетради на следующей рабочей строке, через клеточку 3 зеленых треугольника



?

- А как мы обозначим вопрос задачи?

Правильно! Красиво рисуем фигурную скобочку и ставим ?

- Молодец! Ты записал краткую запись задачи, а теперь нужно записать на следующей рабочей строке решение задачи.



Решение задачи.

Чтобы записать решение задачи, нужно решить с помощью какого математического действия ты решишь задачу.

Для того, чтобы узнать сколько Бараш и Крош написали стишков вместе, каким математическим действием ты решишь задачу?

Правильно! С помощью сложения!

Запиши решение задачи на следующей рабочей строке.

$$7 + 3 = 10 ($$

Подскажи, пожалуйста, ты нашел ответ на вопрос задачи?
Значит, что нужно записать?

Правильно! Ответ!

На следующей рабочей строке запиши ответ задачи.

Ответ: 10 стишков.



Спасибо за внимание
Молодцы!!!



Домашнее задание

Реши любые

карточки по

математике на

платформе [учи.ру](https://uchi.ru)



**Теперь вы умеете
решать задачи!
Удачи вам, ребята !**

