

Решение задач и выражений.



Урок № 93



УСТНЫЙ СЧЁТ

$$2 + 2 =$$

$$6 - 4 =$$



18



12

4

-

+

10

19

8

14

Составь задачи по решению.



$$5 + 3 = 8$$

$$5 - 3 = 2$$

$$8 - 3 = 5$$



Карандаш стоит 4 рубля, тетрадь 5 рублей. А маркер столько, сколько карандаш и тетрадь вместе. Сколько стоит маркер?



9 рублей

$$4 + 5 = 9$$

?




4 рубля


5 рублей

У Вики было 8 цветных карандашей. После того, как она отдала несколько брату, у неё осталось их 5. Сколько Вика карандашей отдала брату?

3 карандаша



$$8 - 5 = 3$$



НОВЫЙ МАТЕРИАЛ



Как удобнее сосчитать примеры?



$$6 + 5 + 4 =$$

$$6 + 4 + 5 = 15$$



$$7 + 5 + 3 =$$

15

$$9 + 4 + 1 =$$

14

$$8 + 3 + 2 =$$

13

$$5 + 8 + 5 =$$

18

Как удобнее сосчитать примеры?



$$14 - 6 - 4 =$$

$$14 - 4 - 6 = 4$$



$$14 - 7 - 4 =$$

3

$$12 - 5 - 2 =$$

5

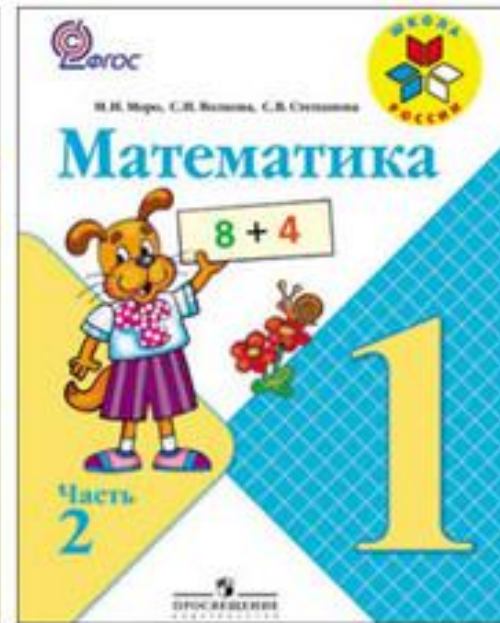
$$11 - 7 - 1 =$$

3

$$17 - 9 - 7 =$$

1

ЗАДАНИЯ ПОВЫШЕННОЙ ТРУДНОСТИ



Во дворе гуляют куры и петух. У каждой курицы по 2 цыплёнка. Всего птиц 7. Сколько кур гуляет во дворе?

2 курицы



В двух корзинах 9 кг овощей. Сколько овощей в каждой корзине, если во второй корзине на 1 кг овощей больше, чем в первой?

4 кг и 5 кг



9 кг





Что напутал художник? Найди десять отличий между картинками.



конец