



5



7



3



7 апреля.

Приём вычитания вида

12 -



Числовая разминка

Запишите в строчку числа, которые на **2** меньше, чем числа

9

10

12

2

Проверим!

7

8

10

0

5



7



3





Числовая разминка

Запишите в строчку числа,
которые на **3** больше, чем числа

6

9

10

0

Проверим!

9

12

13

3

5



7




3





Табличное вычитание



12 -

12

3	<input type="text"/>
4	<input type="text"/>
5	<input type="text"/>
6	<input type="text"/>



Выучи таблицу вычитания



12

3 9

4 8

5 7

6 6



$$12 - 3 = 9$$

$$12 - 4 = 8$$

$$12 - 5 = 7$$

$$12 - 6 = 6$$


$$12 - 7 = 5$$

$$12 - 8 = 4$$


$$12 - 9 = 3$$




$$12 - 5 = 7$$



$$12 - 8 = 4$$



$$12 - 3 = 9$$





Работа по учебнику с. 83

Выполни в тетради примеры №3

5




7

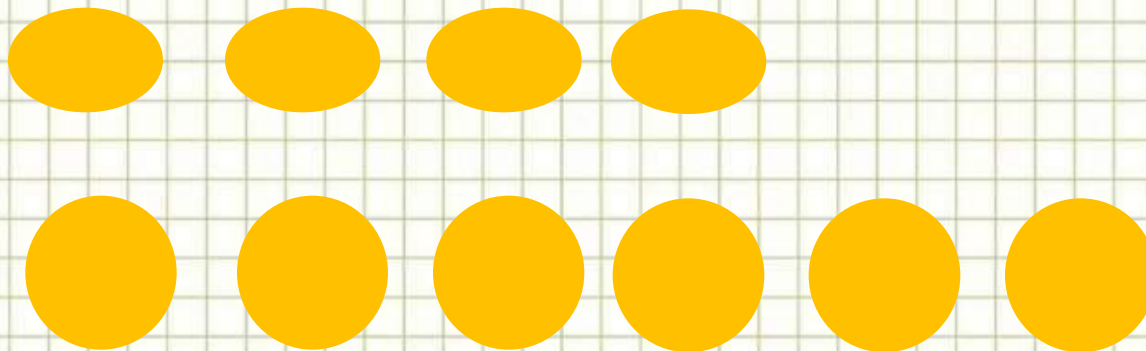


3





Решаем задачу!



С. 83 з.4

$$1).4 + 2 = 6 \text{ (ИГ.)}$$

- на другом
диске

$$2).4 + 6 = 10 \text{ (ИГ.)}$$

- всего

$$4 + 2 + 4 = 10 \text{ (ИГ.)}$$

Ответ: **10** игр.





5



7



3



Спасибо за урок!