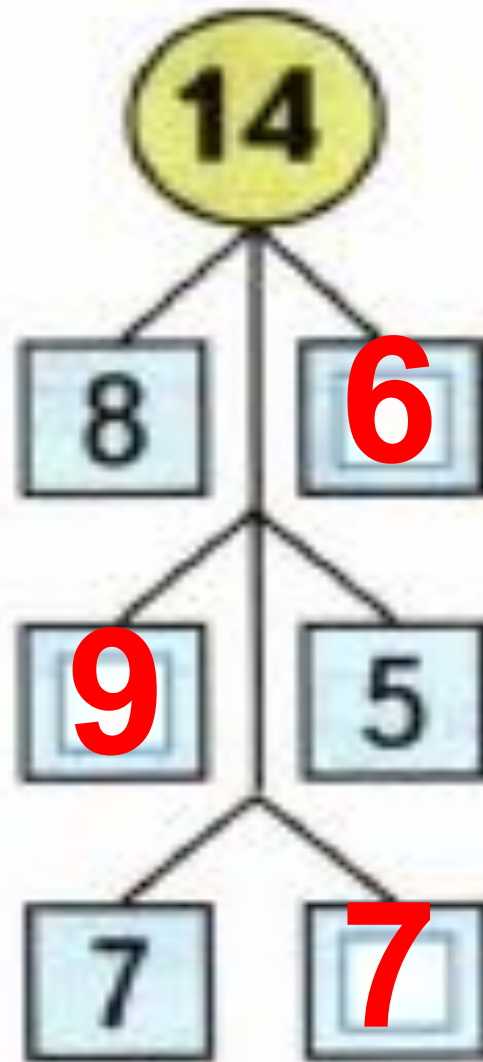


Случай вычитания 16-□







15	7	6
	8	9

16	8	7
	8	9



Найди число, которое на 6 меньше, чем

13

14

12

11

10

7

8

6

5

4



Найди число, которое на 6 больше, чем

6

9

7

8

10

12

15

13

14

16



1) Коля и Витя составляли слова из букв слова **ПРОГУЛКА**. Коля составил 10 слов, а Витя — на 2 слова больше. Сколько слов составил Витя?



Коля

10 слов



Витя

?

на 2 сл. >



2) Когда Коля и Витя вычеркнули слова, которые встретились у обоих, у Коли осталось 1 слово. Сколько слов осталось у Вити?



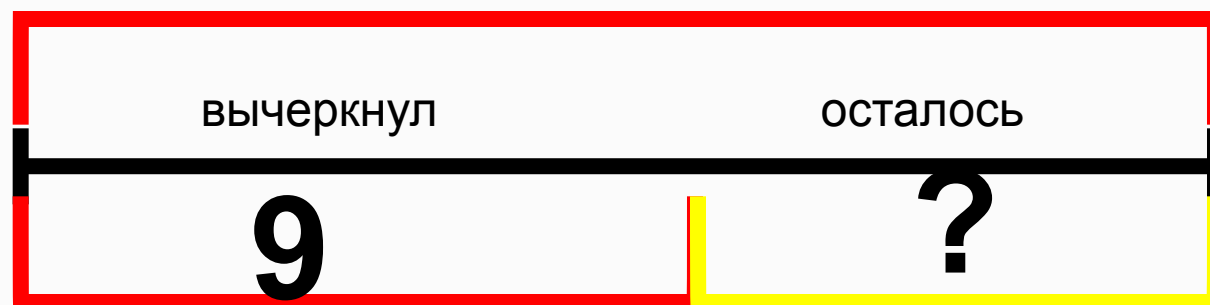
10 слов

Коля



12 слов

Витя



- 1) $10 - 1 = 9$ (сл.) – вычеркнул Коля
- 2) $12 - 9 = 3$ (сл.) – осталось у Вити





12



на 3 <



?



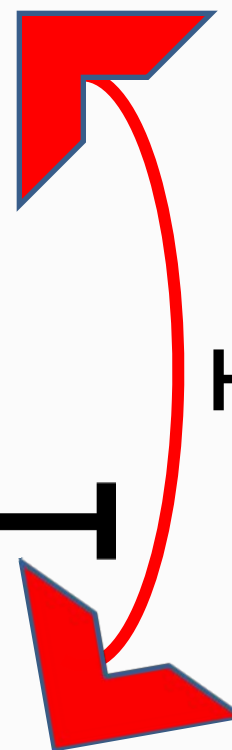
Коля

11 стр.



Вася

7 стр.



на ? >





9 кг



13 кг



на ? <





14





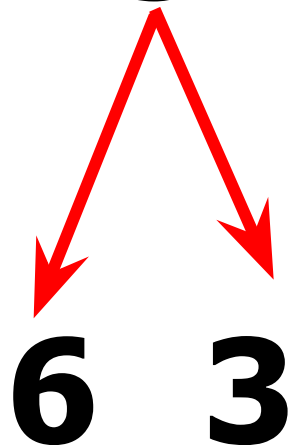
$$16 - 9$$

$$\begin{array}{r} 16 - 9 \\ \hline 16 - 6 - 3 \end{array}$$

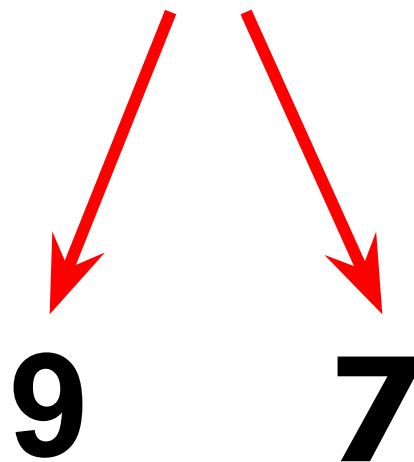


КАК РАССУЖДАЛИ ПРИ ВЫЧИТАНИИ?

$$16 - 9 = 7$$



$$16 - 9 = 7$$



Вычисли и запомни.

$16 - 7$

$16 - 8$

$16 - 9$



ЗАПОМНИ!

$$16 - 7 = 9$$

$$16 - 8 = 8$$

$$16 - 9 = 7$$



1. $15 - 6$

$15 - 8$

$14 - 9$

$15 - 9$

$15 - 7$

$13 - 8$

$7 + 6$

$9 + 8$

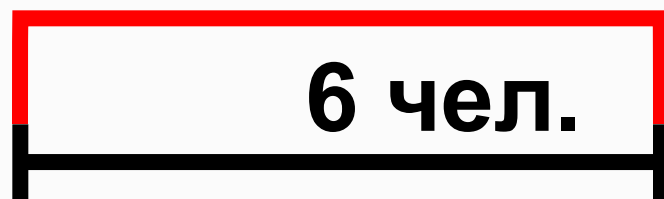
$8 + 6$



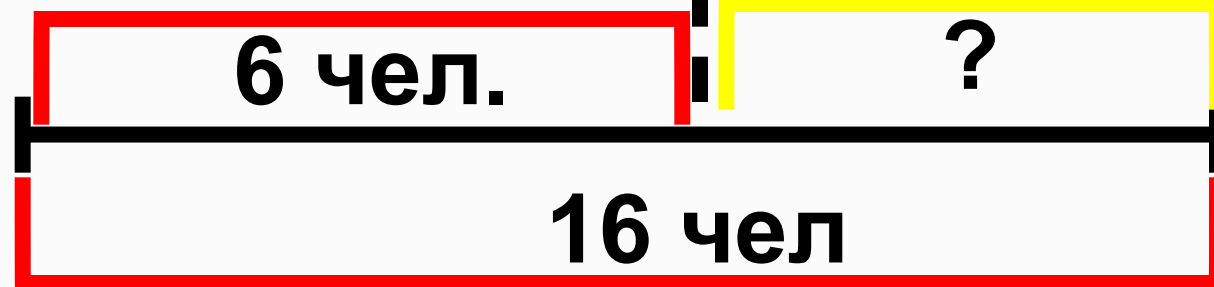
2. В начале зимы только 6 человек из нашего класса умели кататься на лыжах, а к концу зимы на лыжах катались уже 16 человек. Сколько ребят научились кататься на лыжах этой зимой?



В начале



К концу



$$16 - 6 = 10 \text{ (чел.)}$$



1 В коробке было 12 счётных палочек. Из трёх палочек Костя построил треугольник, а из четырёх — квадрат. Сколько палочек осталось в коробке?



Было - 12 пал.

Потратил - ? 3 пал. и 4 пал.

Осталось - ? пал.



САМОСТОЯТЕЛЬНАЯ РАБОТА

$13 - 6 =$

$14 - 8 =$

$16 - 8 =$

$16 - 7 =$



Домашнее задание

16
7
8



$$\begin{array}{r} 16 - 9 \\ 16 - 6 - 3 \end{array}$$

Вычисли и запомни.

$16 - 7$	$16 - 8$	$16 - 9$
----------	----------	----------

- | | | | |
|----------|----------|---------|-------------|
| $15 - 6$ | $15 - 9$ | $7 + 6$ | $6 + 6 - 7$ |
| $15 - 8$ | $15 - 7$ | $9 + 8$ | $8 + 5 - 9$ |
| $14 - 9$ | $13 - 8$ | $8 + 6$ | $7 + 6 - 4$ |

- В начале зимы только 6 человек из нашего класса умели кататься на лыжах, а к концу зимы на лыжах катались уже 16 человек. Сколько ребят научились кататься на лыжах этой зимой?

- В группе фигурного катания занимаются 6 девочек из младших классов, а из старших на 2 девочки меньше. Сколько девочек из старших классов занимаются в группе? Сколько всего девочек ... ?

4. Игра в слова

1) Коля и Витя составляли слова из букв слова **ПРОГУЛКА**. Коля составил 10 слов, а Витя — на 2 слова больше. Сколько слов составил Витя?

2) Когда Коля и Витя вычеркнули слова, которые встретились у обоих, у Коли осталось 1 слово. Сколько слов осталось у Вити?

$9 = 6 + \square$	$7 = 6 + \square$	$8 = 6 + \square$
$16 - 9 = \square$	$16 - 7 = \square$	$16 - 8 = \square$

$16 - \square$



Рефлексия

 Всё понял, могу объяснить товарищу.

 Многое понял, но мне ещё нужна помощь.

 Мне трудно было на уроке.

