

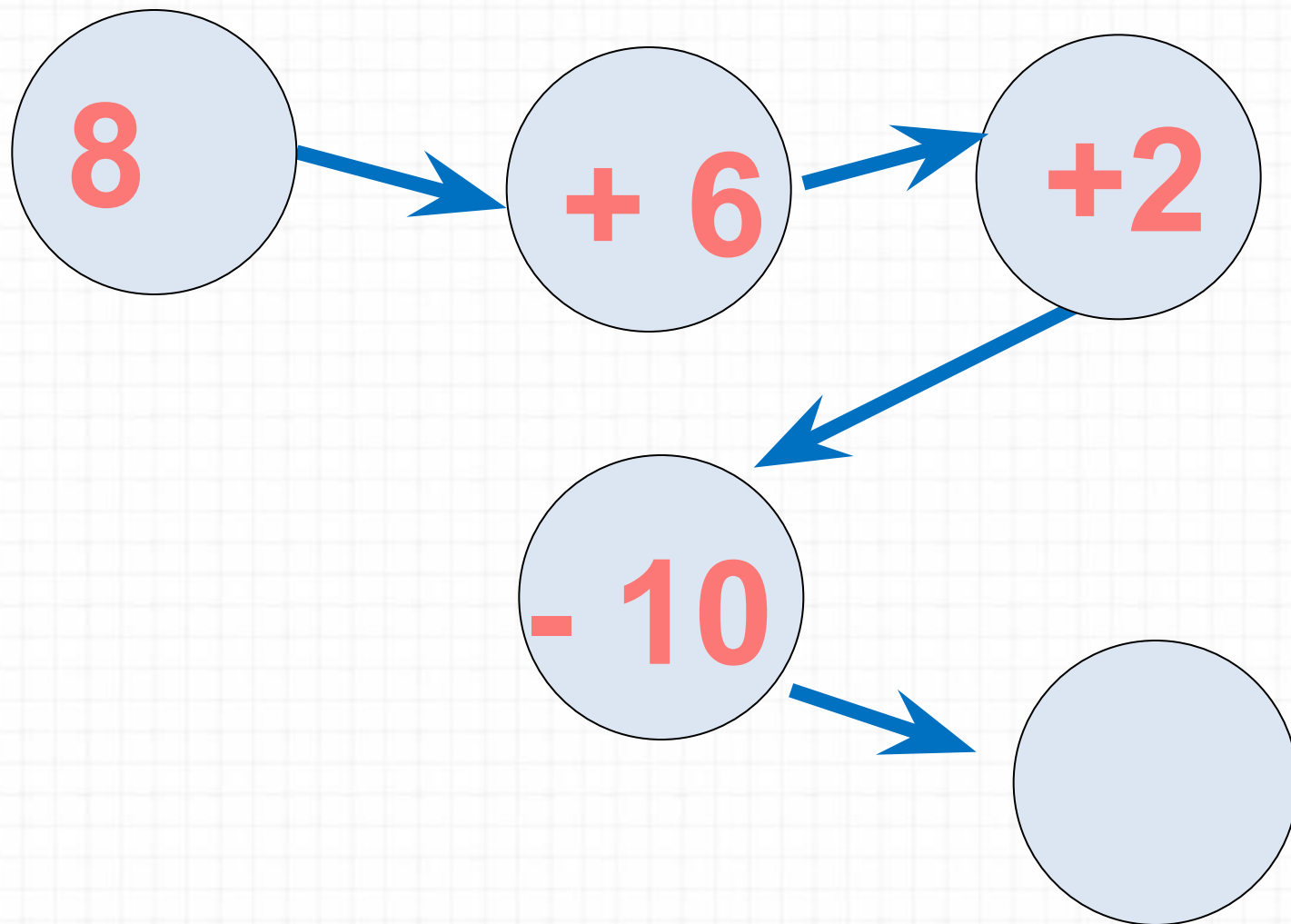
Случаи сложения вида $+ 7$ стр. 70



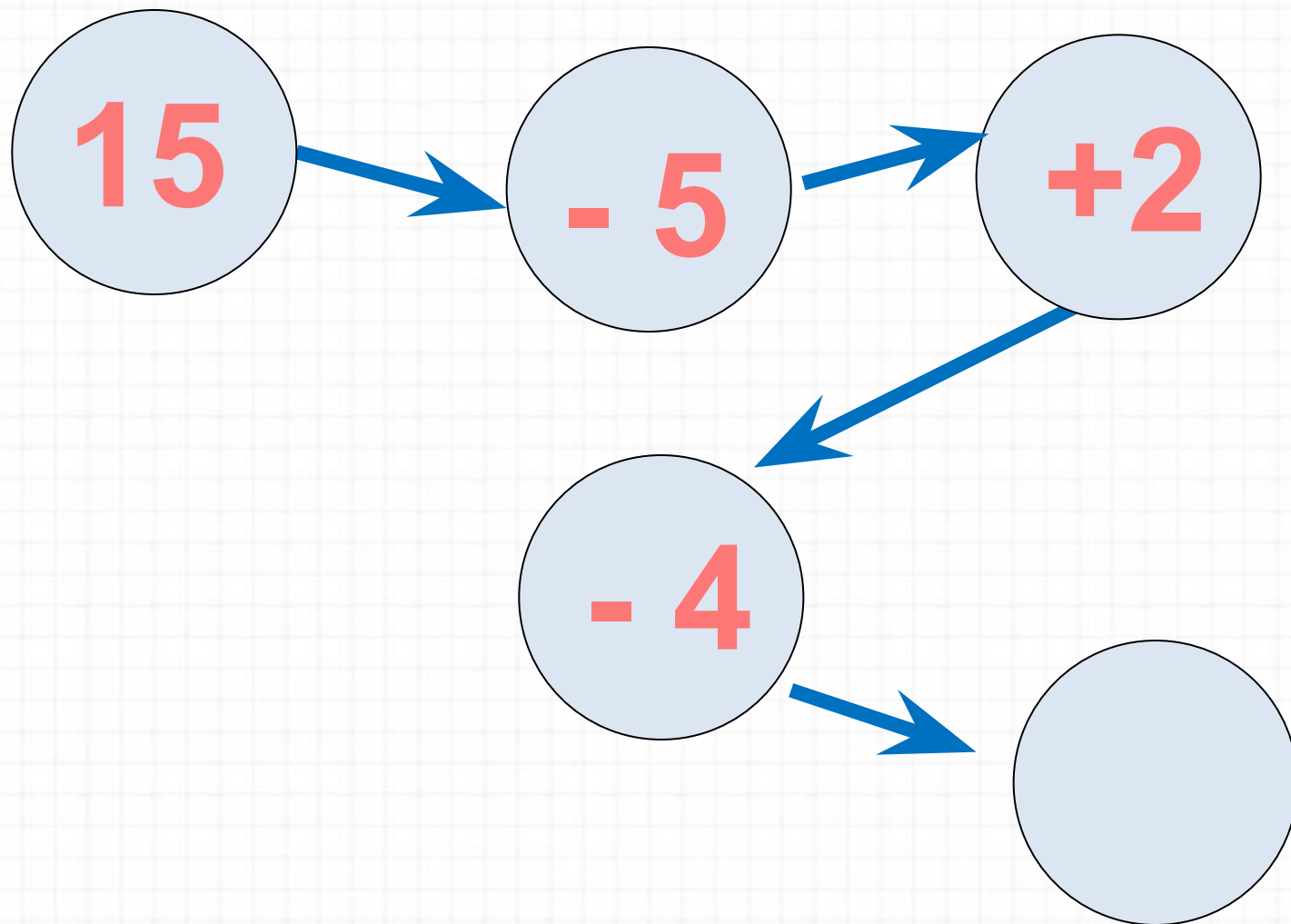
Школа России
Математика 1 класс



Реши цепочку примеров(устно).



Реши цепочку примеров(устно).



Реши примеры(устно).

5

7

8

6

+ 6

9

4

10


Дима для украшения класса сделал уже **9** флажков. Ему осталось сделать ещё **6**. Сколько нужно всего сделать флажков Диме?(устно)



Диме надо вырезать **15** флажков. Он вырезал уже **10** флажков. Сколько ему осталось вырезать?(устно)



Дима сделал для класса **9** красных и **6** жёлтых флажков. На сколько больше он сделал красных, чем жёлтых флажков?(устно)


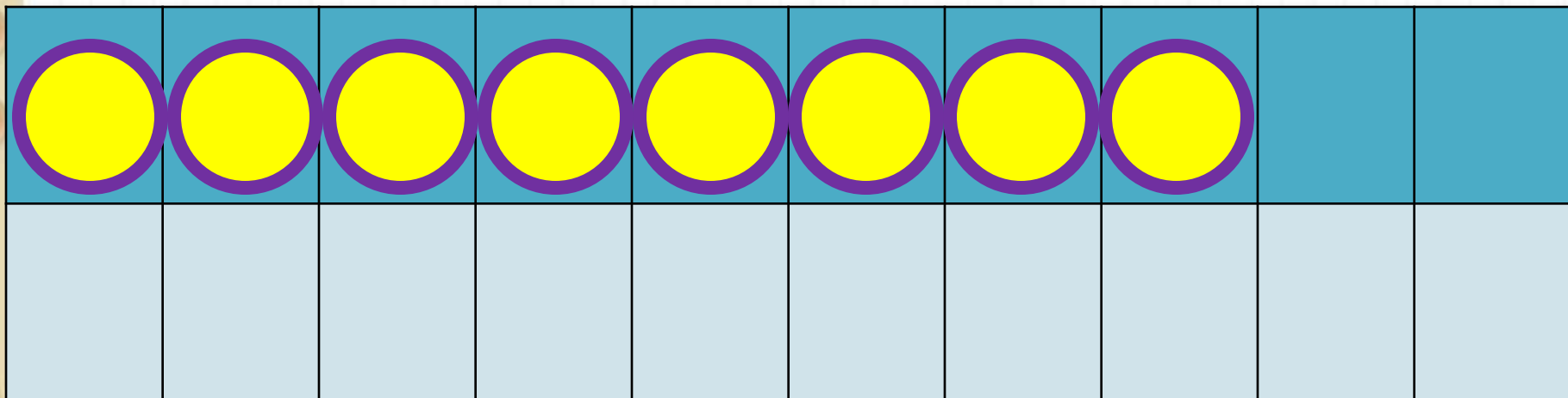


Расскажи, как удобнее прибавить второе слагаемое. (устно)

$$7 + 6 = 7 + \underline{\quad} + \underline{\quad}$$


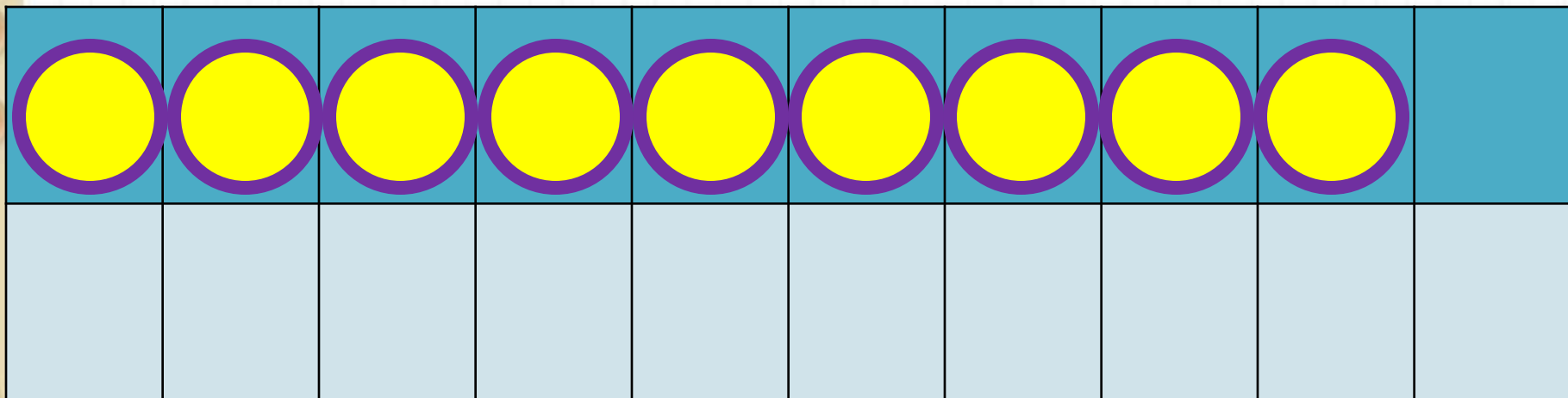
$$8 + 4 = 8 + \underline{\quad} + \underline{\quad}$$

$$9 + 3 = 9 + \underline{\quad} + \underline{\quad}$$




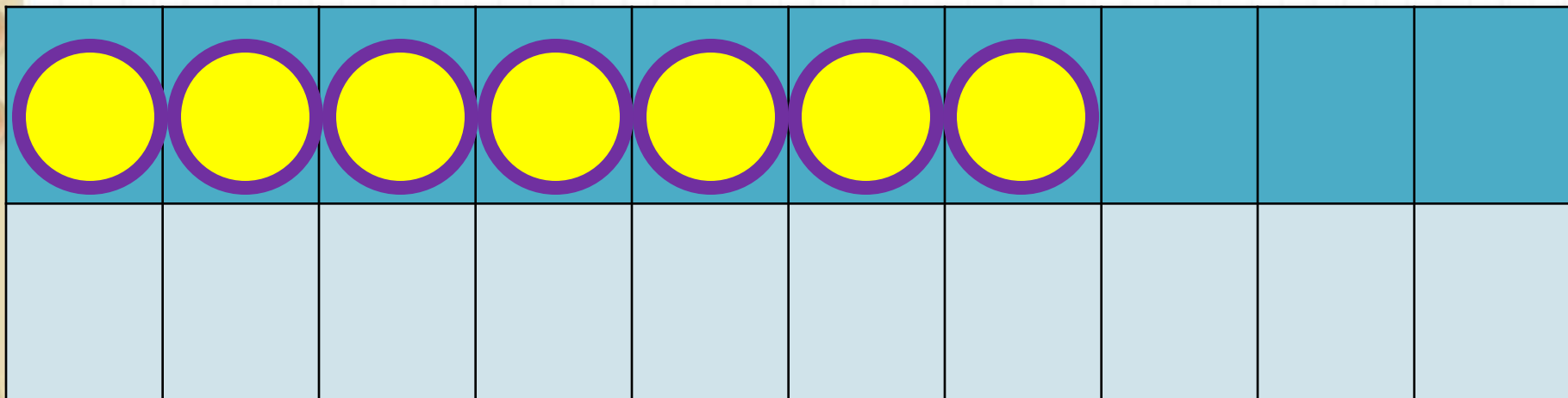
$$8 + 7$$

$$8 + 2 + 5$$



$$9 + 7$$

$$9 + 1 + 6$$



$$7 + 7$$

$$7 + 3 + 4$$

Выучи наизусть!

$$7 + 7 = 14$$

$$8 + 7 = 15$$

$$9 + 7 = 16$$

Какое число учились прибавлять?

Работа по учебнику, стр 70.

№ 1

№ 2

№ 3(у)

№ 4(у)

Стр. 78 №19,20

Работа в тетради

стр. 37 (1,2)



Вставь пропущенные числа.

$$9 + \square = 16$$

$$12 - \square = 6$$

$$\square + 8 = 15$$

Увеличь на 7 числа.

3

7

5

6

8

4

9

Задания на смекалку



У бабушки Даши внучка **Маша**, кот **Пушок**, собака **Дружок**. Сколько у бабушки внуков?



Мельник пришел на мельницу. В каждом углу он увидел по 3 мешка, на каждом мешке сидело по 3 кошки, у каждой кошки по 3 котёнка. Сколько ног было на мельнице?



Рефлексия

Чему научились сегодня на уроке?

Что для вас было самым интересным?

Какое задание вызвало у вас затруднение?

Как вы думаете, почему?

Оцените свою работу на уроке.

