

# Счёт лет в истории

Практикум. Учимся решать задачи.

**365 дней** – год,  
**100 лет** – столетие или век,  
**1000 лет** – тысячелетие.

Как определяли год древние земледельцы?

Кто первым определил продолжительность года?

Как считали года в Древнем Египте?

Как считали года в Риме?

Стр. 30

# Линия времени

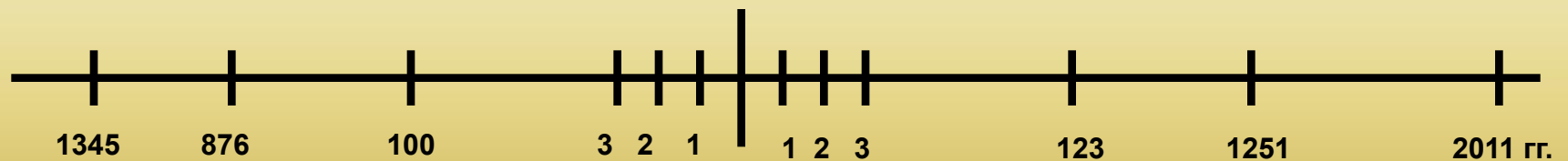
До нашей эры



Рождение  
Иисуса  
Христа



Наша эра



876 г. до н.э.

100 г. до н.э.

123 г. н.э. или 123 г.

2011 г. н.э. или 2011 г.

**Счет лет в истории:**

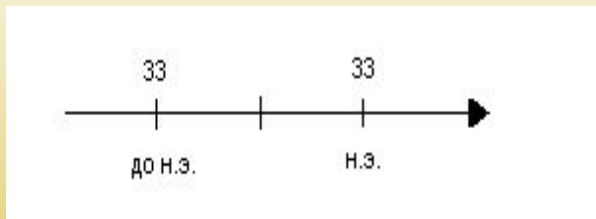
**Какой год был раньше?** – тот, который находится левее на линии времени.

**На сколько раньше?** – если года находятся в одной эре, то из большего надо вычесть меньший;

- если в разных эрах, то года надо сложить.

# Учимся решать задачи

*1. Какой год был раньше и на сколько был раньше:  
33г. до н.э. или 33г. н.э.?*



Первый шаг - с помощью простого карандаша и линейки чертим линию времени;

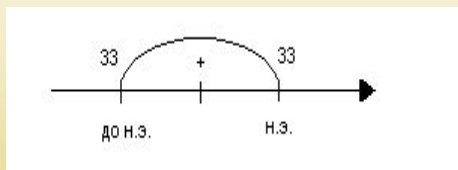
Второй шаг - если события произошли в разные эры, то делим линию времени на 2 части и подписываем их - с левой стороны - до н. э., а с правой стороны - н.э.;

Третий шаг - на линии времени отмечаем нужные даты;

Четвертый шаг - записываем решение задачи;

Пятый шаг - записываем ответ.

# Ответ

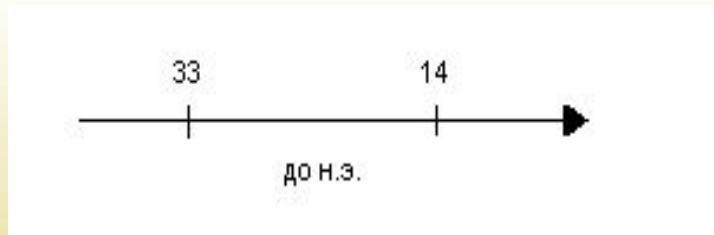


33г. до н.э. + 33г. н.э. = 66 лет

*Ответ: 33г до н.э. был раньше на 66 лет*



2. Какой год был раньше и на сколько раньше: 33г. до н.э. или 14г. до н.э. ?



Первый шаг - с помощью простого карандаша и линейки чертим линию времени;

Второй шаг - если события произошли в одну эру, то делить линию времени не нужно;

Третий шаг - на линии времени отмечаем нужные даты;

Четвертый шаг - записываем решение задачи;

Пятый шаг - записываем ответ.

## Задания:

1. Какой год был раньше и на сколько: 5 год до н.э. или 34 год н.э.?

**Ответ: раньше был 5 год до н.э. на 39 лет.**



**Левее на линии времени 5 г. до н.э.**

Так как в разных эрах, то  **$5+34=39$  лет**



## Задания:

1. Какой год был раньше и на сколько: 25 год н.э. или 2019 год н.э.?

Ответ: раньше был 25 год н.э. на 1984 года.



Левее на линии времени 25 г. н.э.

Так как в одной эре, то  $2019 - 25 = 1994$  лет.



## Практикум

1. 1240 год = 13 веку. Чтобы определить какой это век, нужно закрыть две последние цифры. Остается цифра – 12, значит прошло 12 полных веков, а идет 13-й, значит 1240 г = это 13 век.

2. 2015 =

3. 882 =

$$I=1$$

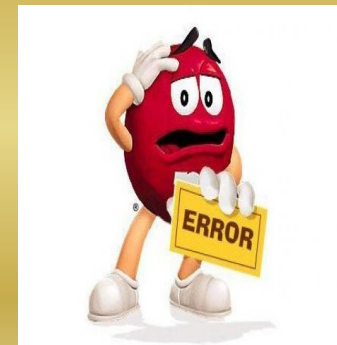
$$X=10, \text{ его половина } V=5$$

Например - 9 век, как IX (10-1)



# Практикум

- 1. Сколько лет тому назад (т.н.) произошла Марафонская битва ?*
- 2. Какое событие было раньше и на сколько раньше: Куликовская битва (1380г) или основание Санкт-Петербурга (1703г)?*
- 3. Сколько лет тому назад (т.н.) закончилась Северная война ?*



# Ответ

1. 490г. до н.э. + 2015г. н.э. = 2505 г. т.н.

*Ответ: Марафонская битва произошла 2502 г. т.н.*

2. 1703г. н.э. - 1380г.н.э. = 323г

*Ответ: Куликовская битва была раньше на 323 года.*

3. 2015г. н.э. - 1721г. н.э. = 294 г. т.н.

*Ответ: Северная война закончилась 291 г. т.н.*



# На двойном листе в клетку письменно сделать следующие задания:

1. Записать римскими цифрами:

6 - ...9 - ...11 - ...13 - ...17 -

2. Записать арабскими цифрами:


V - ...VIII - ...XIX - ...IV - ...III - ...XVI - ...

3. Определить век:

1132 год - ...567 год - ...48 год - ...38 год до н.э. - ...

4. Решить задачи на ленте времени.

Смотри следующий слайд.



## 4. Реши задачи на ленте времени.

1. Какой год был раньше и на сколько: 3 год н.э. или 166 год н.э.?
2. Какой год был раньше и на сколько: 200 год н.э. или 100 год н.э.?
3. Какой год был раньше и на сколько: 1 год до н.э. или 1 год н.э.?
4. Какой год был раньше и на сколько: 1345 год до н.э. или 120 год до н.э.?
5. Какой год был раньше и на сколько: 345 год до н.э. или 100 год н.э.?

**Обязательно к каждой задаче нарисуй ленту времени.**

**Буду проверять и поставлю оценку. Выполнить до 28.09.2020**