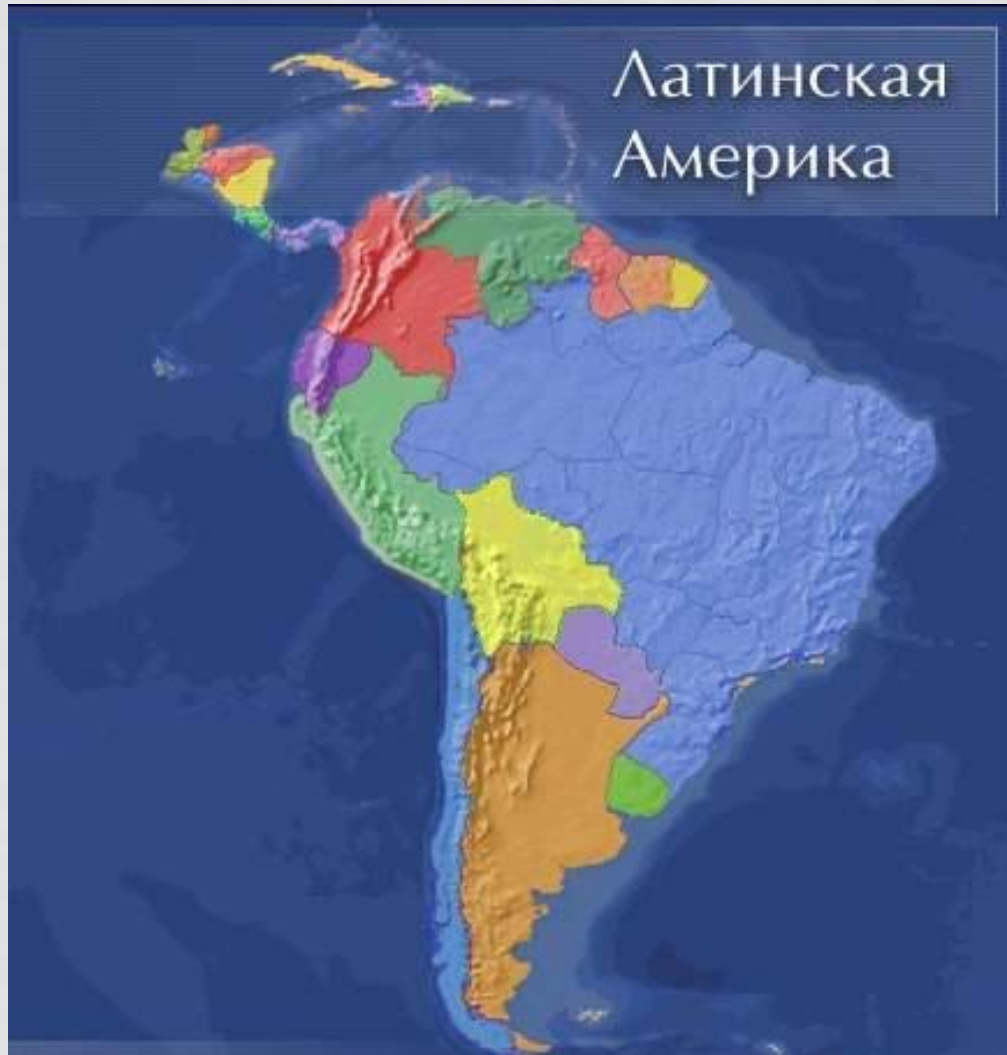


ДОБРЫЙ ДЕНЬ!

Задание на сегодня просмотреть презентацию, самое важно законспектировать и сделать задания, которые встретятся вам по ходу презентации. Задания оформляете в тетради.

Латинская Америка



Латинская Америка



Латинская Америка – регион, расположенный между США и Антарктидой.

В него входят:


- 1) Мексика
- 2) страны Центральной Америки
- 3) Вест-Индия
- 4) Южная Америка

Площадь – 21 млн.кв.км

Население – 520 млн.человек

Политическая карта

Латинская Америка



33
суверенных
государства

владения
Великобритании
(7) и США (1)

заморские
департаменты
Франции (3)

Заморские части
Королевства
Нидерландов (2)

Свободно
ассоциированное
с США государство
(1)

Страны Южной Америки

- 1) Аргентина
- 2) Бразилия
- 3) Боливия
- 4) Венесуэла
- 5) Гайана
- 6) Гвиана
(Французская)
- 7) Колумбия
- 8) Парагвай
- 9) Перу
- 10) Суринам
- 11) Уругвай
- 12) Чили
- 13) Эквадор



Политическая карта

Мексика и Центральная Америка

- Мексика
- Белиз
- Гватемала
- Гондурас
- Коста-Рика
- Никарагуа
- Панама
- Сальвадор



Политическая карта

Вест-Индия (Карибские страны)

- 1) Багамские острова
- 2) Гаити
- 3) Доминиканская республика
- 4) Куба
- 5) Ямайка



Административно-территориальное устройство

В Латинской Америке преобладают *унитарные государства*, но самые крупные страны - *федерации*



Аргентина



Венесуэла



Мексика

Бразилия



*Сент-Китс
и Невис*

ОБЩАЯ ХАРАКТЕРИСТИКА СТРАН ЛАТИНСКОЙ АМЕРИКИ

Страны Латинской Америки –
бывшие колонии Португалии и
Испании

Страны Латинской Америки
стали независимыми в начале
XIX в.

Этнический состав: индейцы,
европейские переселенцы
(креолы), африканцы

Высокие темпы роста
населения, большая доля
молодежи



Экономическая зависимость
от США

Религиозный состав – в
большинстве католики

ПРИРОДНЫЕ РЕСУРСЫ ЛАТИНСКОЙ АМЕРИКИ

Богатые природные ресурсы

Нефть

Венесуэла, Мексика, Эквадор

Железная руда

Бразилия, Венесуэла, Чили, Перу,
Мексика

Медная руда

Чили, Перу, Мексика

Бокситы

Ямайка, Суринам, Бразилия

Драг. металлы

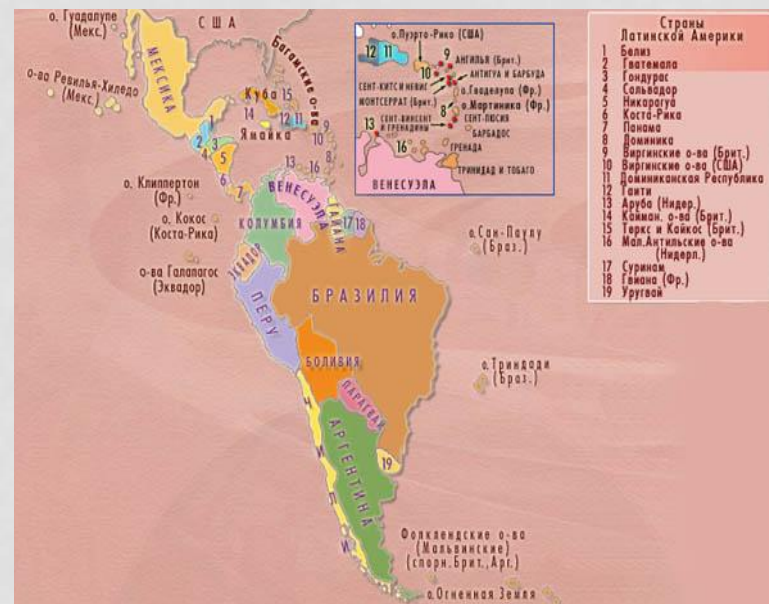
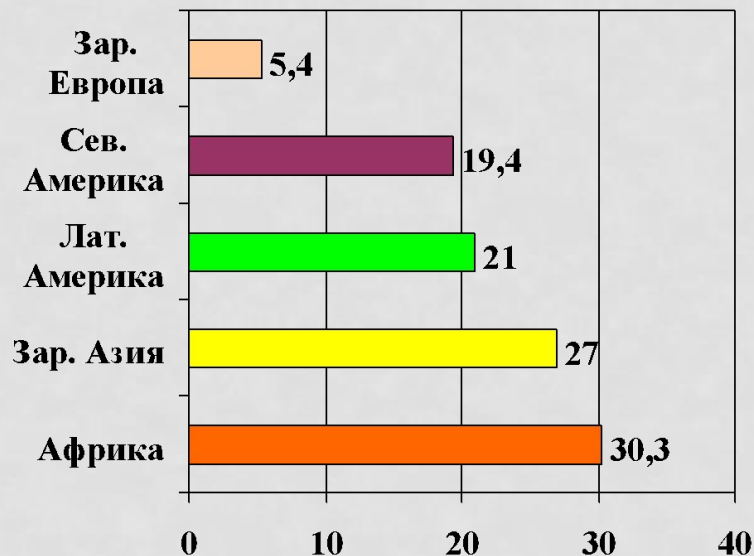
Колумбия, Бразилия, Перу

Значительные
гидроресурсы

Тропические
леса

Рекреационные
ресурсы

Площадь Латинской Америки.



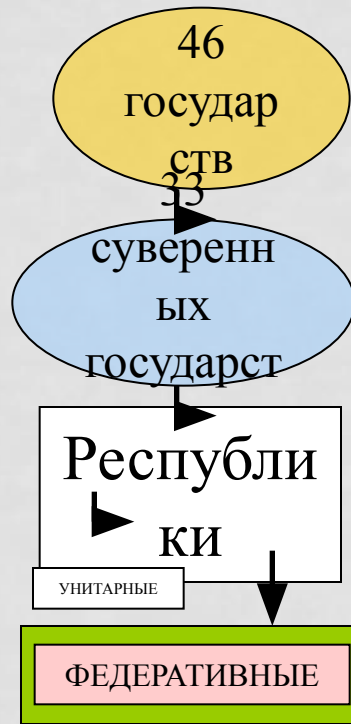
Состав. Политическая карта

Состав субрегионов Латинской Америки.

Мексика	Центральная Америка	Вест-Индия	Андские страны	Страны бассейна Ла-Платы	Бразилия
<i>Мексика</i>	<i>Гватемала Сальвадор Гондурас Белиз Никарагуа Коста-Рика Панама</i>	<i>Куба, Гаити, Доминиканская Республика, Багамские острова, Ямайка, Барбадос, Суринам и др.</i>	<i>Венесуэла Колумбия Эквадор Перу Боливия Чили</i>	<i>Парагвай Уругвай Аргентина</i>	<i>Бразилия</i>

Страны	Государственный флаг	Площадь, тыс. км²	Население, млн. чел.	Столицы	Форма правления	Форма террит.-р-т. устр-ва
Гаити		28	7,6	Порт-о-Пренс	Р	У
Доминик. Республ.		49	8,4	Санто-До-Минго	Р	У
Ямайка*		11	2,6	Кингстон	Р	У
Тринидад и Тобаго		5	1,4	Порт-оф-Спейн	Р	У
Колумбия		1139	38,5	Санте-Фе-Богота	Р	У
Венесуэла		912	23,7	Каракас	Р	Ф
Эквадор		284	12,5	Кито	Р	У
Перу		1285	25	Лима	Р	У
Боливия		1097	8,3	Сукре (Ла-Пас)	Р	У
Чили		757	15,3	Сантьяго	Р	У
Бразилия		8512	170	Бразилиа	Р	Ф
Парагвай		407	5,4	Асунсьон	Р	У
Уругвай		178	3,5	Монтевидео	Р	У
Аргентина		2777	36,5	Буэнос-Айрес	Р	Ф
Мексика		1973	98	Мехико	Р	Ф
Гватемала		109	11,8	Гватемала	Р	У
Гондурас		112	6,3	Тегусигальпа	Р	У
Сальвадор		21	6,2	Сан-Сальвадор	Р	У
Никарагуа		130	4,6	Манагуа	Р	У
Коста-Рика		51	3,8	Сан-Хосе	Р	У
Панама		77	2,8	Панама	Р	У
Куба		111	11,3	Гавана	Р	У

Политическая карта региона.



В настоящее время в пределах региона расположено 46 государств и владений некоторых стран Европы и США. Независимых государств в регионе 33.

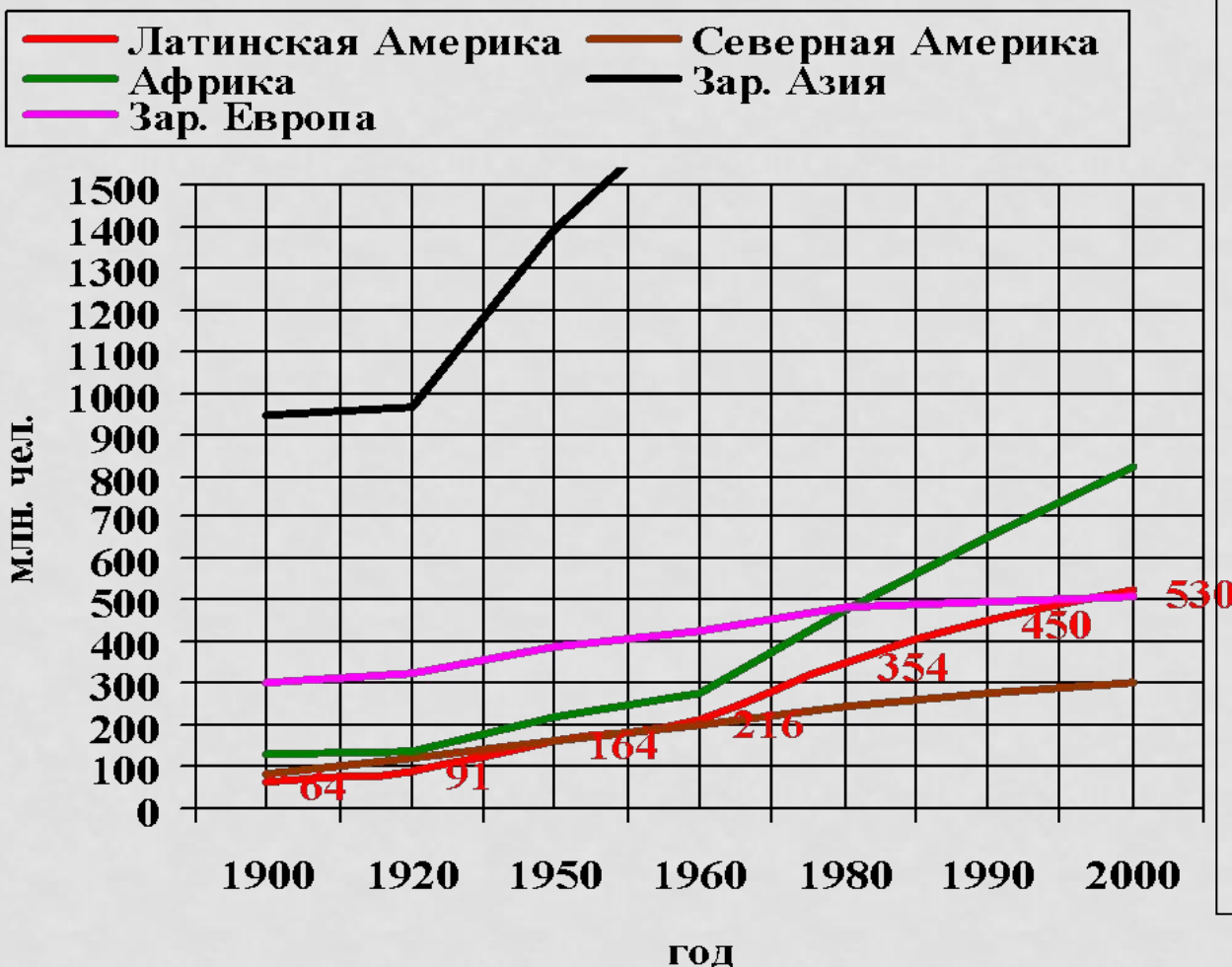
По форме правления страны Латинской Америки отличаются большой однородностью. Все они являются республиками. Особое место занимает Куба – единственная страна региона, относящаяся к социалистическим государствам.

По форме административно-территориально-го устройства в Латинской Америке преобладают унитарные государства. Четыре самых крупных её страны и одно государство Вест-Индии имеют федеративное устройство.

Бразилия, Мексика, Аргентина, Венесуэла, Сент-Китс и Невис.

Население Латинской Америки

График. Динамика роста численности населения Латинской Америки.



ЗАДАНИЕ.

Проанализируйте график динамики роста численности населения Латинской Америки и ответьте на следующие вопросы:

1. Какова численность населения Латинской Америки?
2. Во сколько раз возросла численность населения региона с начала XX века?
3. Сравните динамику роста численности населения Латинской Америки с другими регионами.

Воспроизводство населения и естественный прирост.

Карты атласа стр. 10-11.



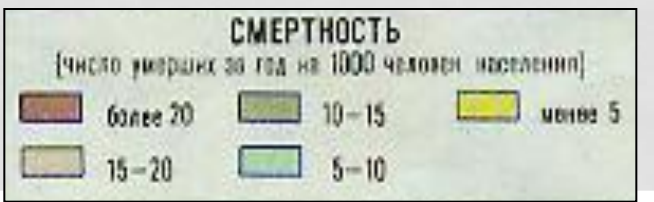
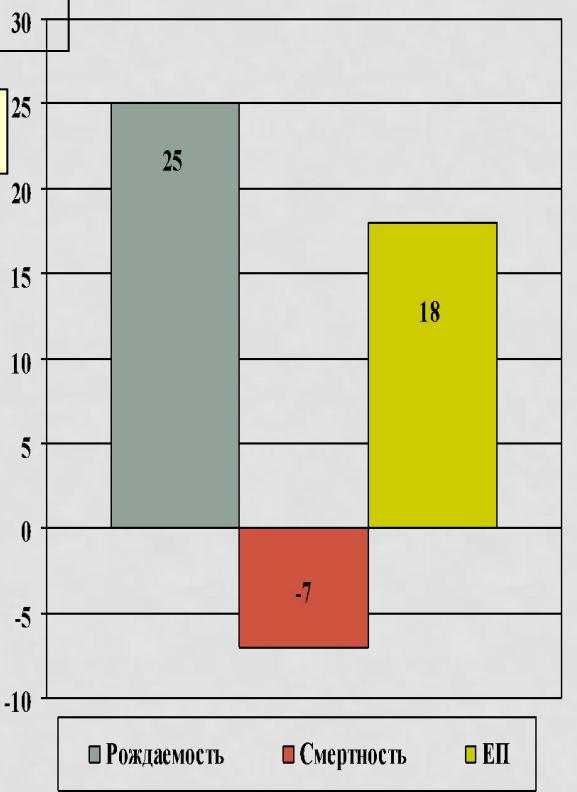
Щелкни мышкой 2 раза.

2. Рассмотрим тематическую карту «Смертность». Как видно, на карте преобладает светло-зелёная окраска, следовательно, число умерших за год на 1000 жителей Лат. Америки составляет в среднем 7 чел.

тематическую карту «Рождаемость». Как видно, на карте преобладающий цвет – желтый, следовательно, число родившихся за год на 1000 жителей Лат. Америки составляет в среднем 25 чел. (Рассмотрев карту, щелкни мышку 2 раза).

Теперь проанализируем, полученные сведения из карт и рассмотрим диаграмму «Естественный прирост». Зелёный столбик показывает количество родившихся за год на 1000 жителей (25), синий столбик – количество умерших за год на 1000 жителей (7). А сиреневый столбик показывает разницу между числом родившихся и умерших ($25 - 7 = 18$). Значит численность населения Лат. Америки растет со скоростью 18 чел. на 1000 жителей в год.

Естественный прирост населения Латинской Америки.



Проанализировав карты и диаграмму, можно сделать вывод, что для Лат. Америки характерен II тип воспроизводства. Это влияет на численность и возрастную структуру населения региона.

ЭтНИЧЕСКИЙ СОСТАВ НАСЕЛЕНИЯ.

Для этнического расового состава населения Латинской Америки ха-рактерна большая сложность, что связано с особенностью её историчес-кого развития. Многие представители крупных этносов образовались в этом регионе уже в новое время. В их формировании участвовали три главных элемента: коренное индейское население, эмигранты из стран Европы и рабы, вывозившиеся из Африки.



Древний храм ацтеков.



Сохранившиеся памятники доколумбового периода свидетельствуют о высоком уровне развития культуры ацтеков, майя и инков.

Эта культура была полностью разрушена испано-португальскими завоевателями.

Эрнандес Кортес в 1521 г. с невероятной жестокостью разрушил государство ацтеков. Франциско Писсаро с такой же жестокостью уничтожил государство инков. В 1532 г. он обманным путем захватил Верховного Инку Атаульпу, который в обмен на свою свободу предложил неслыханный выкуп: заполнить золотом комнату, в которой он был в заключении. Верховный Инка сдержал свое слово, но испанцы, получив золото, казнили его.

До прибытия Колумба численность коренного населения составляла 20 млн. чел., а в 1521 г. – 7,3 млн. чел.



Мачу-Пикчу – древний город инков.



Этнический состав населения.

Почти полное истребление индейцев поставило перед колонизаторами вопрос о рабочей силе, который был разрешен путем ввоза негров-рабов из Африки. Общая численность привезенных в Америку негров составила 10 млн. чел.

Так сложились три главных расово-этнических элемента.



Языковой состав.



Более однородный. Преобладает испанский и португальский языки. Испанский язык служит государственным в 18 странах (250 млн. чел.). Португальский язык в одной стране Бразилии - 170 млн. чел. В Мексике, Боливии, Парагвае наряду с испанским языком официаль-

ДОМАШНЕЕ ЗАДАНИЕ:

В атласах отметить все страны Латинской Америки на контурной карте: отметить границы, подписать название страны и ее столицу.