

Случаи сложения

вида $+ 7$

стр. 70

Урок № 110



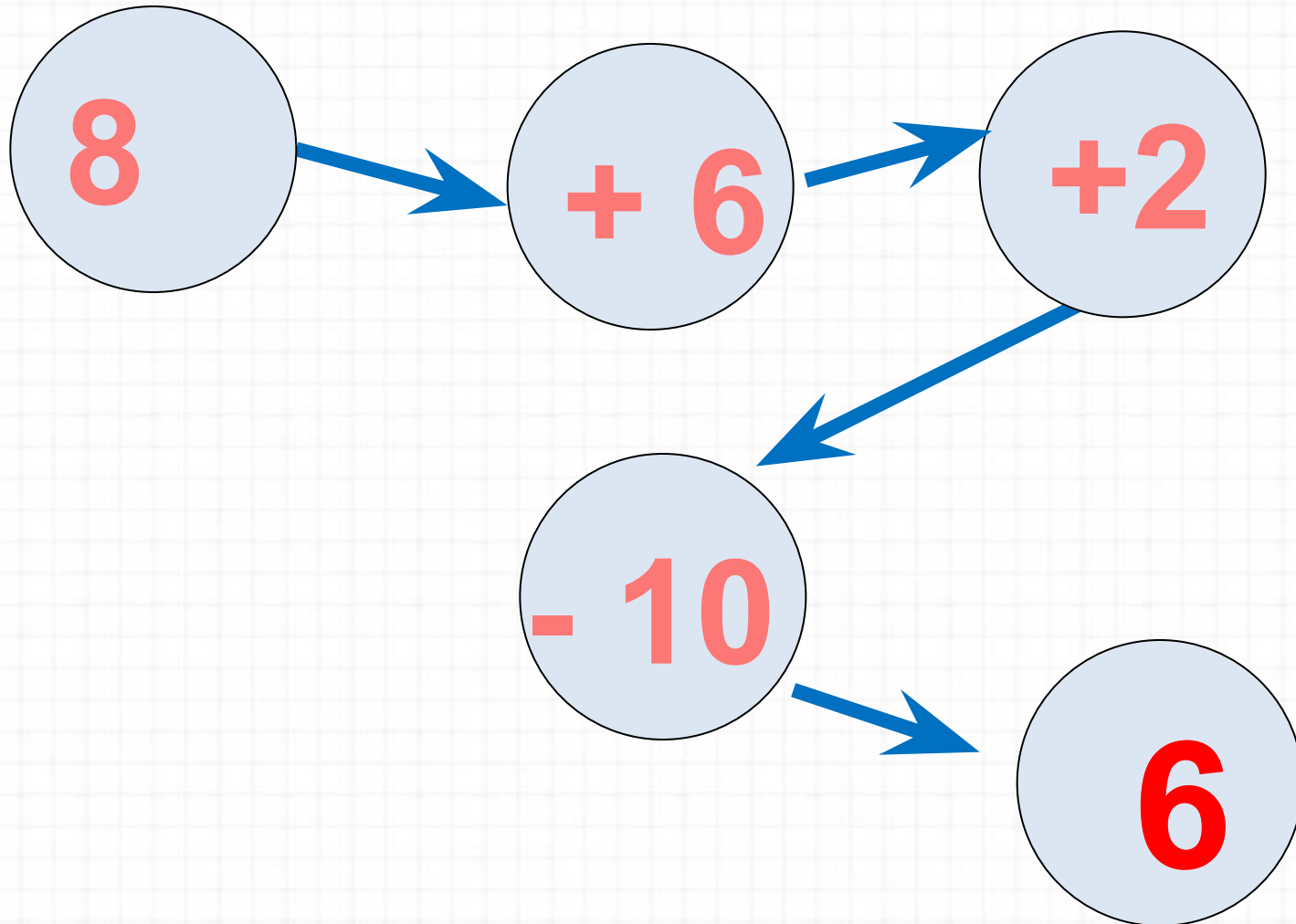
Школа России
Математика 1 класс



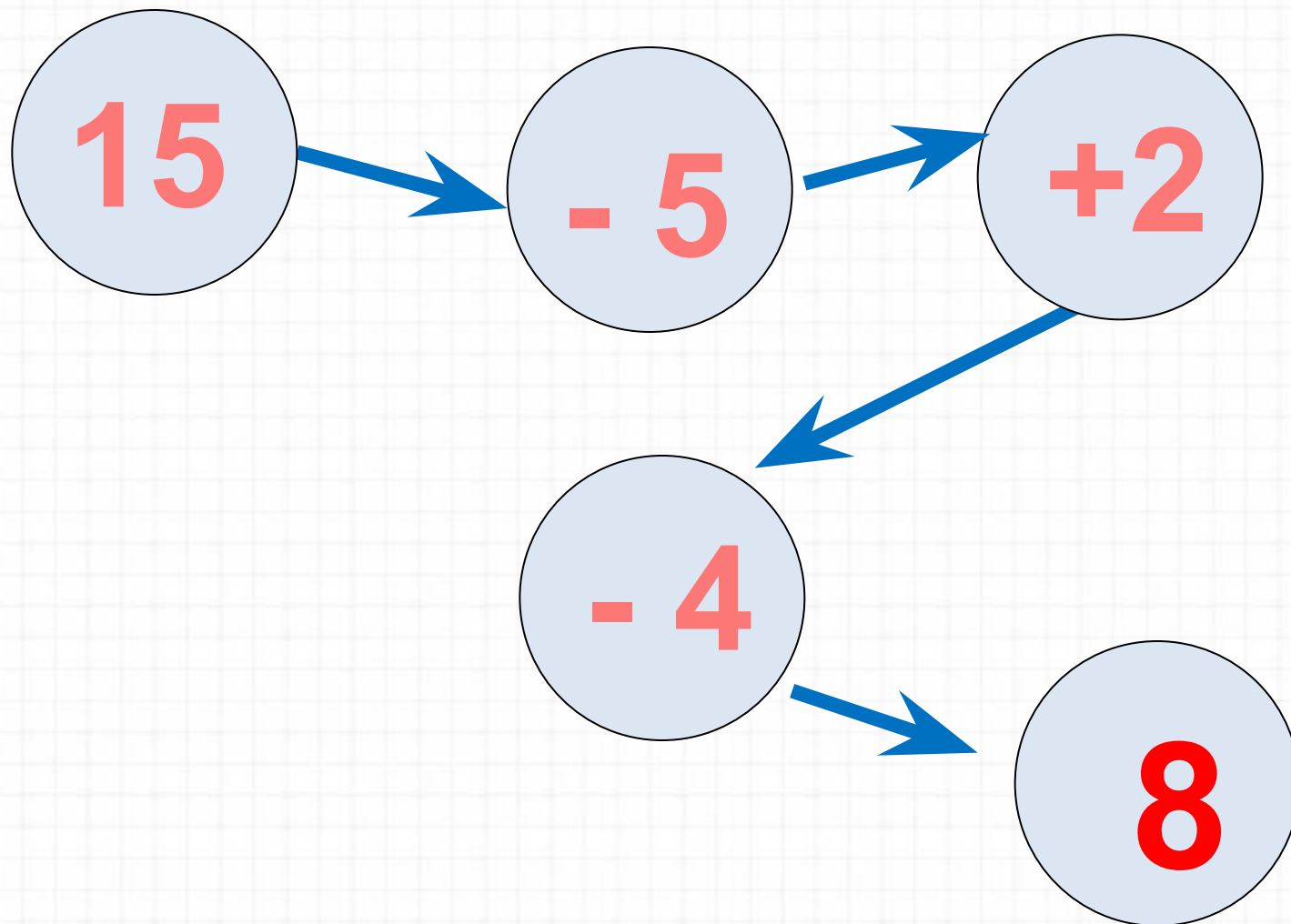


Устный счёт

Реши цепочку примеров.



Реши цепочку примеров.



5

7

8

6

+ 6

9

4

10

Дима для украшения класса сделал уже **9** флажков. Ему осталось сделать ещё **6**. Сколько нужно всего сделать флажков Диме?



15

$$9 + 6 = 15$$



Диме надо вырезать **15** флажков. Он вырезал уже **10** флажков. Сколько ему осталось вырезать?



5

флажков

$$15 - 10 = 5$$


Дима сделал для класса **9** красных и **6** жёлтых флажков. На сколько больше он сделал красных, чем жёлтых флажков?



на 3

флажка

$$9 - 6 = 3$$



Расскажи, как удобнее прибавить 2 слагаемое.


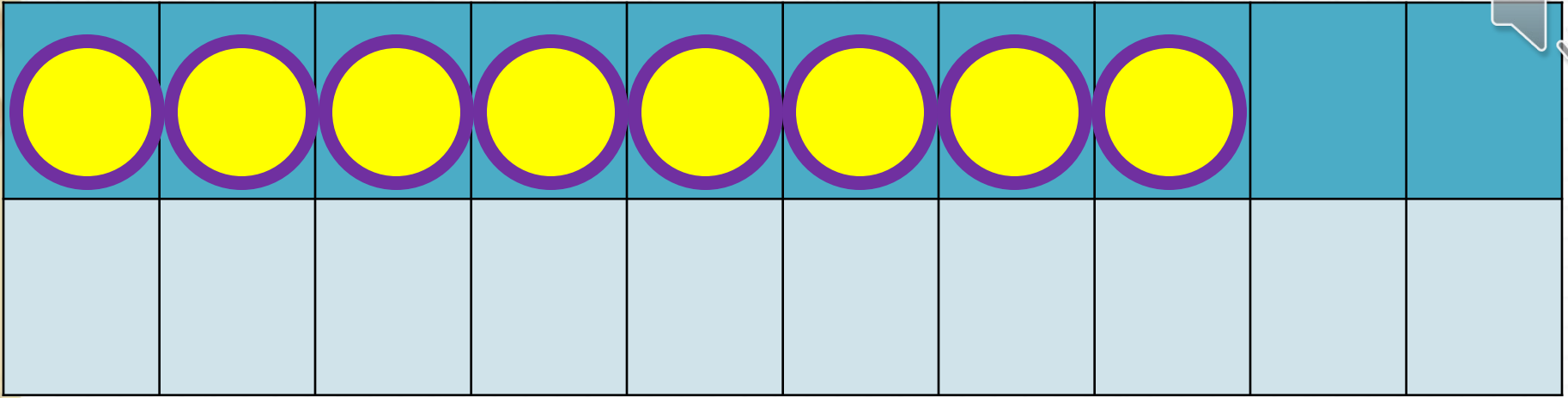
$$7 + 6 = 7 + \underline{\quad} + \underline{\quad}$$

$$8 + 4 = 8 + \underline{\quad} + \underline{\quad}$$

$$9 + 3 = 9 + \underline{\quad} + \underline{\quad}$$


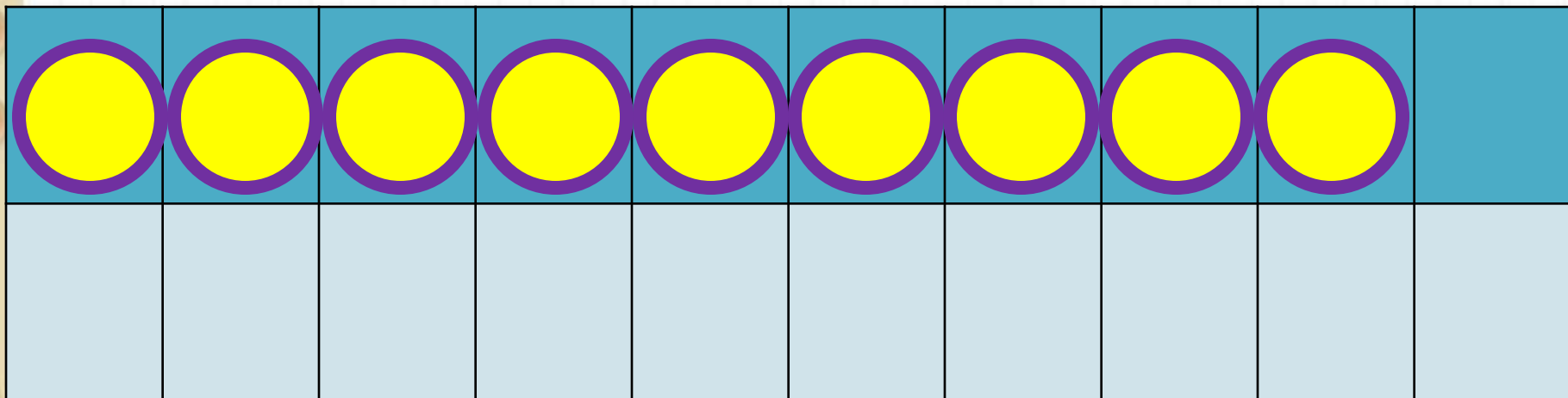
Новый материал






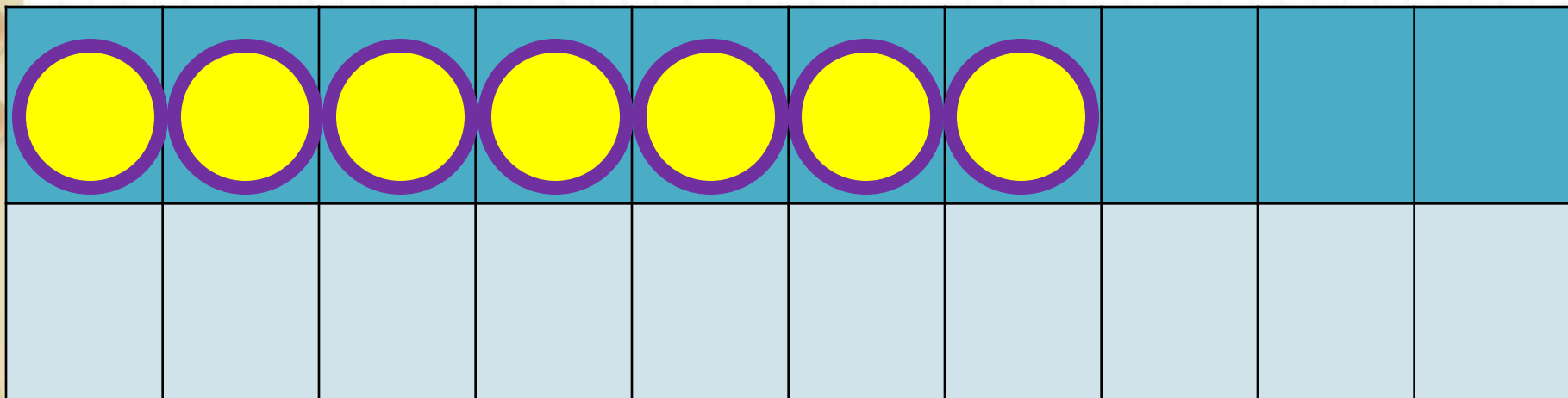
$$8 + 7$$

$$8 + 2 + 5$$



$$9 + 7$$

$$9 + 1 + 6$$



$$7 + 7$$

$$7 + 2 + 5$$

Запомни!

$$7 + 7 = 14$$

$$8 + 7 = 15$$

$$9 + 7 = 16$$

Какое число учились прибавлять?

Закрепление изученного



Вставь пропущенные числа.



$$9 + \square = 16$$

$$12 - \square = 6$$

$$\square + 8 = 15$$

Увеличь на 7 числа.



3	7	5	6	8	4	9

Задания на смекалку



У бабушки Даши внучка **Маша**, кот **Пушок**, собака **Дружок**. Сколько у бабушки внуков?



1

Мельник пришел на мельницу. В каждом углу он увидел по 3 мешка, на каждом мешке сидело по 3 кошки, у каждой кошки по 3 котёнка. Сколько ног было на мельнице?



Две ноги,
у кошек

папы