

# Случай вычитания

16 –

стр. 87



*Школа России*  
*Математика 1 класс*






Устный счёт

Запиши ответы (*выполни это задание по желанию*).

1. Первое слагаемое **7**, второе **6**. Вычисли сумму.
2. Уменьшаемое **14**, вычитаемое **5**. Чему равна разность?
3. Увеличь **6** на **5**.
4. Из какого числа вычли **8** и получили **8**?
5. Какое число при счёте называют за числом **19** ?
6. На сколько число **8** меньше, чем **18** ?
7. Вычисли разность **13** и **9**.
8. Запиши число, в котором **1** десяток и **7** единиц.
9. Запиши число, которое при счёте идёт перед **14**.

**13 9 11 16 20 10 4 17 13**

У клоуна было **8** мячиков . Он достал из-под фуражки ещё **5** и из рукава **2**. Сколько мячей стало у клоуна ?



**15**

$$8 + 5 + 2 = 15$$

На арене выступало **9** собачек. **7** собачек село на тумбочки, а остальные запрыгнули в домик. Сколько собачек оказалось в домике?



**2**

$$9 - 7 = 2$$

На велосипедах ездил **5** медведей, а обезьян на **2** больше. Сколько всего обезьян ездил на велосипеде?

**7**


$$5 + 2 = 7$$

Сколько медведей и обезьян ездил всего на велосипеде?



**12**

$$5 + 7 = 12$$



Найди примеры с ответом 16.



$$8 + 8$$



$$9 + 8$$



$$9 + 7$$



$$7 + 8$$




$$9 + 9$$



$$9 + 5$$




$$10 + 6$$



$$7 + 9$$

# Физкультминутка

На зарядку солнышко поднимает нас,  
Поднимаем руки мы по команде раз,  
А над нами весело шелестит листва,  
Опускаем руки мы по команде два.  
Соберём в корзину ягоды, грибы –  
Дружно наклоняемся по команде три.  
На четыре и на пять  
Будем дружно мы скакать.  
Ну, а по команде шесть  
Всем за парты тихо сесть!





# Новый материал



# Состав числа

16

9

8

7

16

7

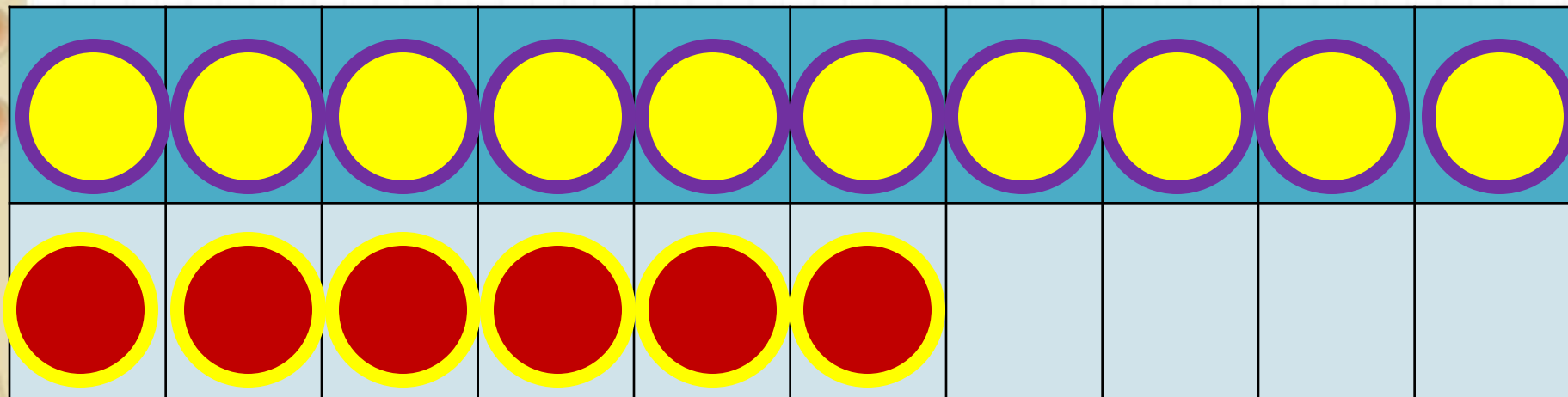
8

9

1

Из какого числа будем  
учиться вычитать?

состав

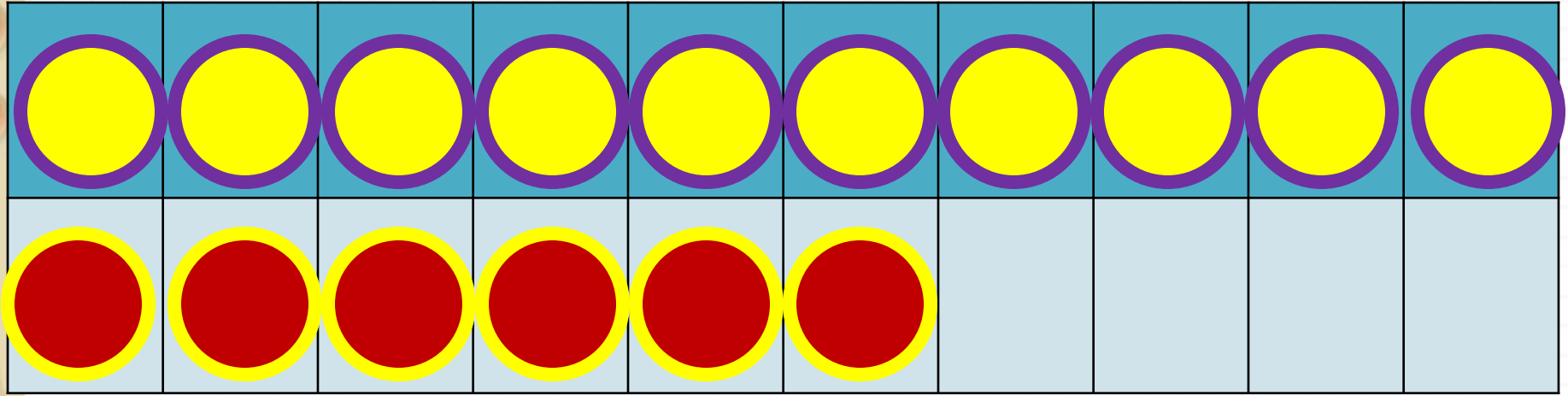


2

способ

$$16 - 7$$

$$16 - 6 - 1$$



$$16 - 8$$

$$16 - 6 - 2$$

# Запомн

# и!

$$16 - 7 = 9$$

$$16 - 8 = 8$$

$$16 - 9 = 7$$

# Работа в тетради

с. 44 з. 1, 2, 3  
(внизу)

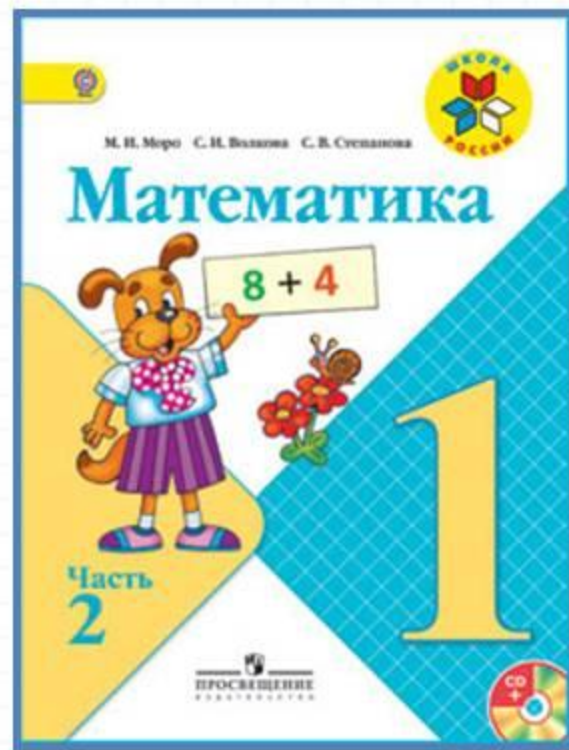


# Физкультминут

На реке живёт **енот**.  
Чешет лапкой он живот.  
Своим хвостиком виляет,  
Кверху лапки поднимает.  
Шустро он по кочкам скачет.  
Под корнём запасы прячет.  
Он среди воды живёт  
Добродушный наш енот.



# Работа по учебнику



**стр. 87 П. 1** - запиши в тетради число и реши примеры (**выполни это задание по желанию**).



# Проверь себя!

= 9

= 6

= 13

= 5

= 7

= 8

= 17

= 4

= 5

= 5

= 14

= 9

## Оценим свою работу



**5**

и менее

верных ответов

**6-8**

верных ответов

**9**

и более

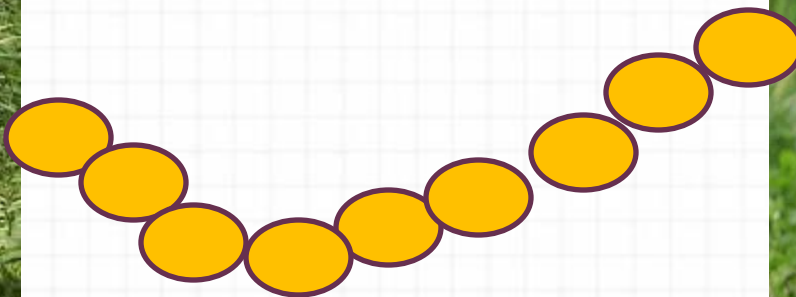
верных ответов

# Задания на смекалку



Бульдог и такса едят связку из **9** сосисок с двух сторон. Пока такса ест **1** сосиску, бульдог съедает **2**. Сколько сосисок достанется бульдогу, а сколько таксе?

**Таксе -3, бульдогу –  
6.**



# Рефлексия

**С каким вычислительным приёмом мы познакомились сегодня на уроке?**

**Ты запомнил таблицу вычитания из числа 16?**

**Какое задание было трудно выполнять?**



Благодарю за работу!