

Второй этап Республиканской олимпиады по учебному предмету
«География» 2014/2015 учебный год.

МУЛЬТИМЕДИЙНЫЙ ТЕСТ

9 КЛАСС

Уважаемый участник олимпиады!

На выполнение заданий мультимедийного теста олимпиадной работы отводится 1 час (60 минут).

Ты имеешь право воспользоваться интерактивными возможностями пакета PowerPoint (уменьшать и увеличивать рисунки и фотографии; просматривать слайды в произвольном порядке и в свободном ритме и т.п.).

Ответы на задания мультимедийного теста необходимо вписать в предлагаемый бланк ответов.

По результатам мультимедийного тестирования Вы можете получить максимум 50 баллов.

ЖЕЛАЕМ ТЕБЕ УДАЧИ!

Вопрос 1. Кто из путешественников первым высадился на берегах современной Бразилии?



А) Х. Колумб



В) В. да Гама




Б) Ф. Магеллан




Г) П А Кабрал

Вопрос 2. Каким из приборов можно измерить температуру и влажность воздуха?



А) Термометр



Б) Гигрометр





В) Психрометр



Г) Барометр

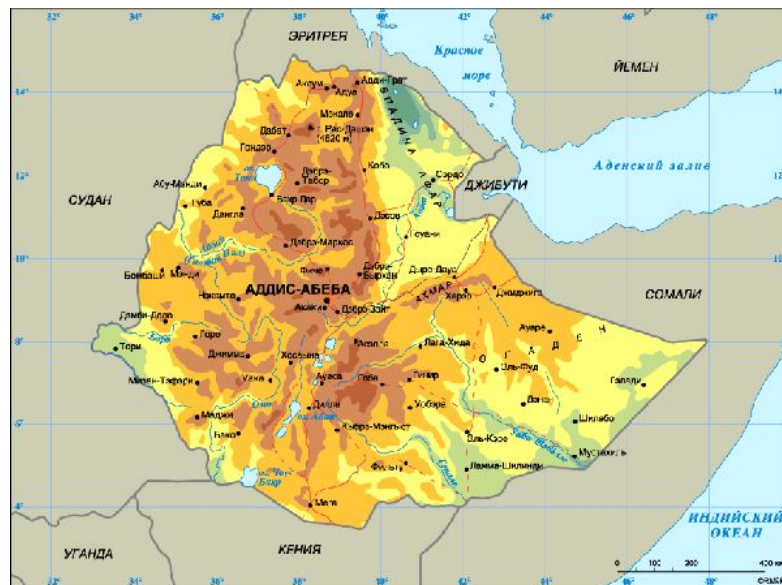
Вопрос 4. Какая страна занимает первое место в мире по доле альтернативных источников электроэнергии в ее общем производстве?

- А) Дания**
- Б) Китай**
- В) Япония**
- Г) Германия**




Вопрос 5. Страна с самым многочисленным населением – Китай. А вот Эфиопия – крупнейшая по населению страна среди этих стран. Каких?

- А) Среди развивающихся стран**
- Б) Стран, не имеющих выхода к морю**
- В) Среди стран с преобладающим чернокожим населением**
- Г) Среди стран – производителей кофе**




Вопрос 6. На шарообразность Земли первым указал:



А) Аристотель



Б) Эратосфен



В) Птолемей



Г) Ломоносов


Вопрос 7. В отличие от плана местности на географической карте:

- А) обязательно обозначается масштаб
- Б) способом отображения сторон горизонта является координатная сетка
- В) Объекты изображаются с помощью условных знаков
- Г) в масштабе изображаются все гидрографические объекты




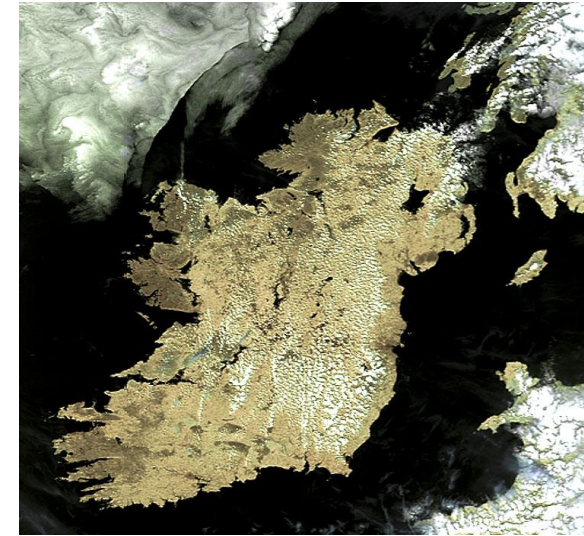
Вопрос 8. Природная зона степей умеренного географического пояса характеризуется:

- А) Зимними температурами до -20°C**
- Б) Летними температурами около $+15^{\circ}\text{C}$**
- В) Коричневыми почвами**
- Г) Сезонным увлажнением с зимним максимумом**




Вопрос 9 Большими размерами и разнообразным рельефом отличаются острова

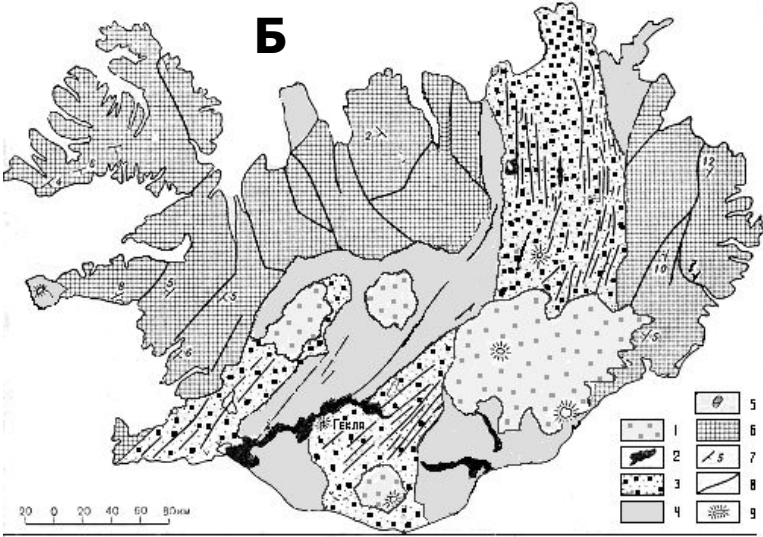
- А) Барьерные рифы
- Б) Атоллы
- В) Материковые
- Г) Вулканические



Вопрос 10. Определить государство



Вопрос 11. На каком из островов находятся территории двух государств (запишите название острова и названия государств, владеющих его частями)



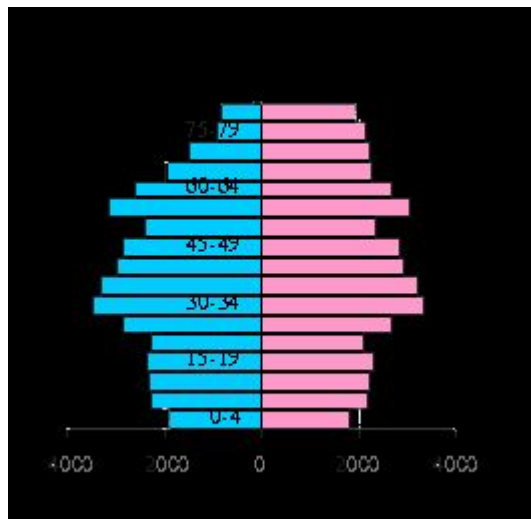
A

Г

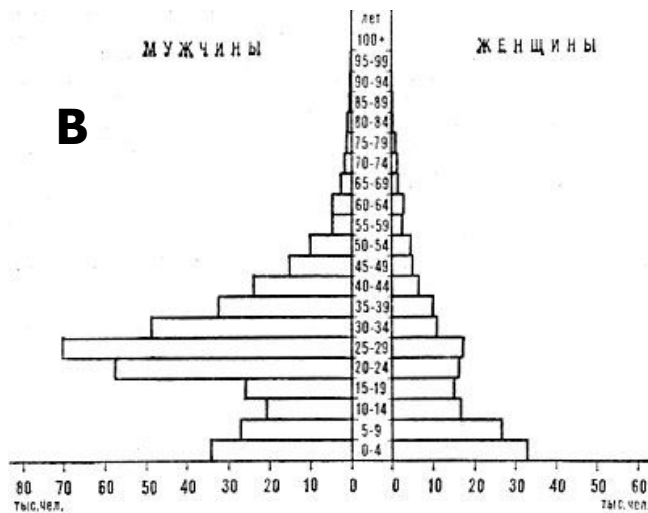
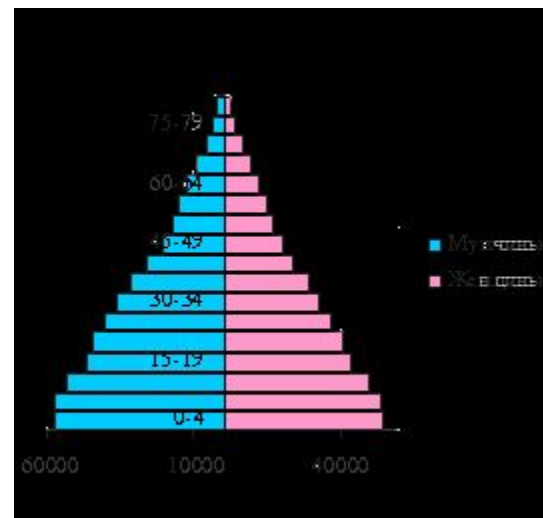
В

Вопрос 12. какая из половозрастных пирамид характеризует демографическую ситуацию в ОАЭ

А



Б



Вопрос 13. Какой из производственных процессов, изображенных на фото, планомерно сокращается в настоящее время в высокоразвитых странах

А



Б




В



Г



Вопрос 14. какой из видов пальм выращивают на юге Испании



А



Б



В

Вопрос 15. Определите государство Южной Европы, население которого преимущественно исповедует православие.



Вопрос 16. Определите объект историко-культурного наследия Беларуси, где он размещен?



Вопрос 17. Какая горная система является наиболее протяженной в Евразии?

- А) Альпы
- Б) Гималаи
- В) Кунь-Лунь




Вопрос 18. Самая многонациональная страна в Евразии

- А) Китай
- Б) Индия
- В) Россия
- Г) Казахстан



Вопрос 19. Какая из стран имеет наибольшую плотность населения?

- А) Дания**
- Б) Италия**
- В) Мальта**
- Г) Греция**




Вопрос 20. Лидером по добыче ювелирных алмазов в мире является:

- А) Австралия**
- Б) Бразилия**
- В) ЮАР**
- Г) Ботсвана**



Вопрос 21. Японию называют страной «восходящего солнца». А какое государство называют «страной заходящего солнца»?



Вопрос 22. Какая из стран не является членом ЕС

- А) Франция
- Б) Бельгия
- В) Австрия
- Г) Швейцария




Вопрос 23. Какая особо охраняемая природная территория создана не с целью охраны природного комплекса.

- А) Березинский биосферный заповедник**
- Б) Полесский радиационно-экологический заповедник**
- В) Национальный парк «Припятский»**
- Г) Национальный парк «Беловежская пуца»**



Вопрос 24. Гербы каких городов относятся к Брестской области.

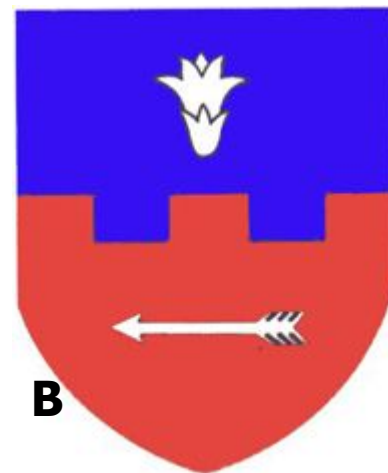
Дополнительно. Дайте подписи всем городам, гербы которых Вы видите.



А



Б



В



Г



Д

Вопрос 25. Установите соответствие между промышленными центрами РБ и товарами, производимыми в них.

- А) Брест**
- Б) Лида**
- В) Рогачев**
- Г) Борисов**

1



2



3

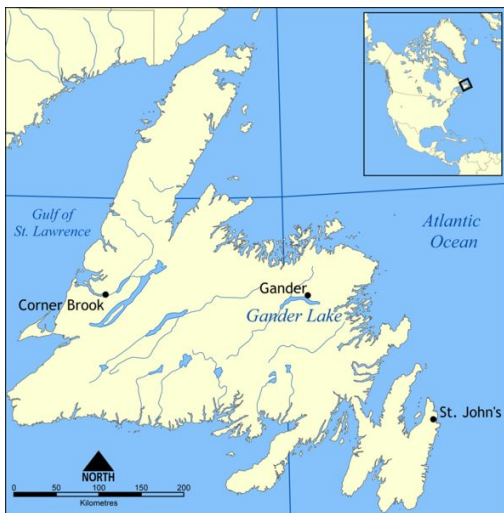


4



Вопрос 26. По очертаниям определите острова и определите их государственную принадлежность.

A



Б



В



Комментарии к фото на NewsInPhoto.ru

Вопрос 28. Определите, панорамы какого города изображены на фото:



Вопрос 29. В какой стране основными религиями являются даосизм, синтоизм и буддизм?

- А) Китай**
- Б) Япония**
- В) Шри-Ланка**
- Г) Республика Корея**



Спасибо за участие