

Сложение рациональных чисел

Ваганова Е.Р.
МОУ «Новокулындинская СОШ»



Вопрос 1. Найди сумму чисел

$$-3,5 + (-1,75)$$

5,25

-5,25

-4,25

-1,75



Вопрос 2. Найди сумму чисел

$$8,13 + (-32,49)$$

– 24,36

24,36

– 40,62

40,62



Вопрос 3. Найди сумму чисел

$$-12,67 + 24,13$$

-11,46

11,46

36,8

-36,8



Вопрос 4. Найди сумму чисел

$$-12,365 + (-0,98)$$

-13,345

13,345

-22,165

-11,485



Вопрос 5. Найди сумму чисел

$$-1,358 + 12,35$$

-0,123

13,708

-10,992

10,992



Вопрос 6. Найди сумму чисел

$$-165,3 + (-23,59)$$

188,89

401,2

-188,89

-141,71



Вопрос 7. Найди сумму чисел

$$-325,7 + 82,76$$

50,19

242,94

-50,19

-242,94



Вопрос 8. Найди сумму чисел

$$6,257 + 15,39 + (-32,58)$$

-10,933

54,227

-12,356

34,68



Вопрос 9. Найди сумму чисел

$$-6,23 + 7,3 - 9,8$$

8,73

-8,73

-23,33

23,33



Вопрос 10. Найди сумму чисел

$$-6,32 - (-22,36) - (+15,3)$$

31,34

-0,74

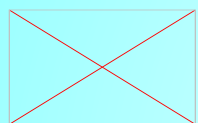
0,74

-31,34



Вопрос 11. Вычислить

$$(-3,7 - 2,4) - \left(\frac{7}{15} - \frac{2}{3} \right)$$



5,9

-5,9

6,3



Вопрос 12. Найди расстояние между точками

$A(6,9)$ и $B(-3,4)$

3,5

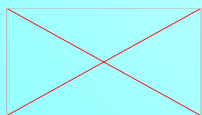
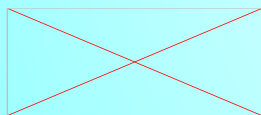
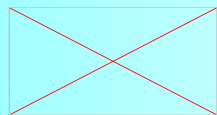
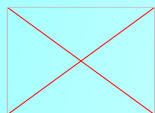
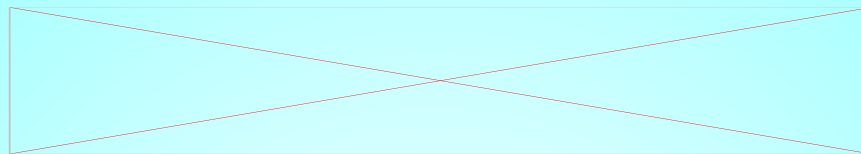
-10,3

10,3

-3,5

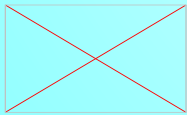

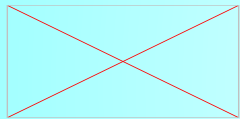
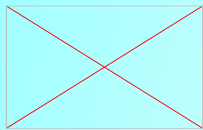


Вопрос 13. Найди сумму чисел



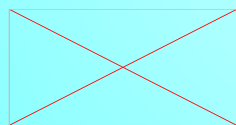
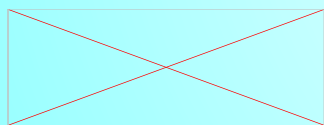
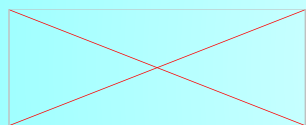
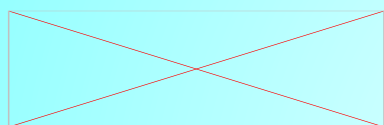
Вопрос 14. Найди сумму чисел

$$\left(\frac{6}{35} - \frac{4}{7}\right) - (-1,8 - 4,3)$$

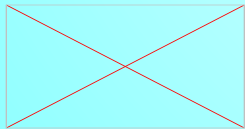
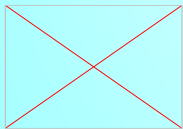
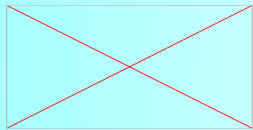
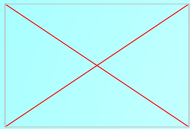
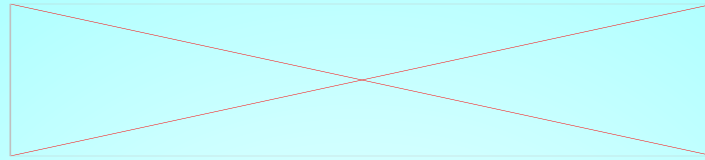


Вопрос 15. Найди расстояние между точками

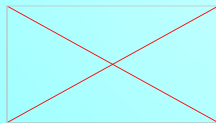
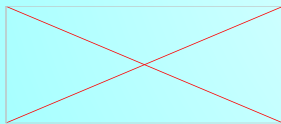
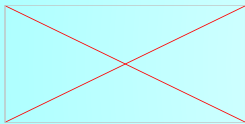
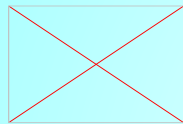
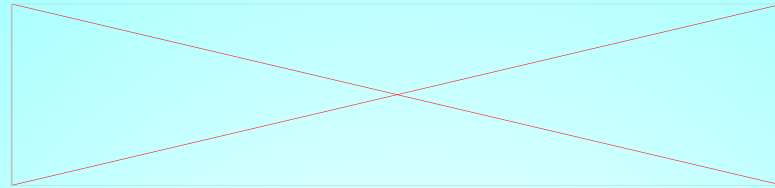
С(-23,5) и Д(-16,36)



Вопрос 16 Решить уравнение



Вопрос 17 Решить уравнение



Правильных ответов:

ВЫХО

Д

В начало