

**ПОДГОТОВКА К ОГЭ  
по географии  
вопрос 7  
Особенности населения  
России**

# Карты атласа

## 9 класс

- Плотность населения
- Административно-территориальное устройство России
- Качество жизни населения

# Основные темы

- Плотность населения
- Основная полоса расселения
- Факторы, влияющие на плотность населения

# **ЗАДАНИЕ № 7**

**В КАКОМ РЕГИОНЕ РОССИИ**

**- ПЛОТНОСТЬ НАСЕЛЕНИЯ:**

**НАИБОЛЬШАЯ,**

**НАИМЕНЬШАЯ**

**- ПРЕОБЛАДАЕТ ГОРОДСКОЕ  
НАСЕЛЕНИЕ, ПРЕОБЛАДАЕТ  
СЕЛЬСКОЕ НАСЕЛЕНИЕ**

**- ВЫСОКАЯ РОЖДАЕМОСТЬ**

- **Чем благоприятнее природные условия, тем выше численность и показатели средней плотности.**
- В географии плотность населения определяется количеством человек на единицу площади (1 км<sup>2</sup>).

**Плотность населения — количество людей, проживающих на 1 кв.км. территории.**

- Плотность населения в России- 8,58 чел./км<sup>2</sup> (2018 г).
- Самая низкая плотность населения в Российской Федерации - в Эвенкийском районе Красноярского края - 0,02 чел/км<sup>2</sup>, среди субъектов РФ - в Чукотском автономном округе - 0,07 чел/км<sup>2</sup>.
- Самая высокая плотность населения в Российской Федерации - в Московской области (включая Москву) - 409 чел/км<sup>2</sup>; в Московской области без Москвы - 160 чел/км<sup>2</sup>, в самой же Москве - 4822 чел/км<sup>2</sup>.
- Второе место у Ингушетии - 125 чел/км.
- Плотность населения европейской части России - 27 чел/км<sup>2</sup>;
- Плотность населения центрального экономического района, где проживает одна

# Население России размещено по территории страны **крайне**

**неравномерно**

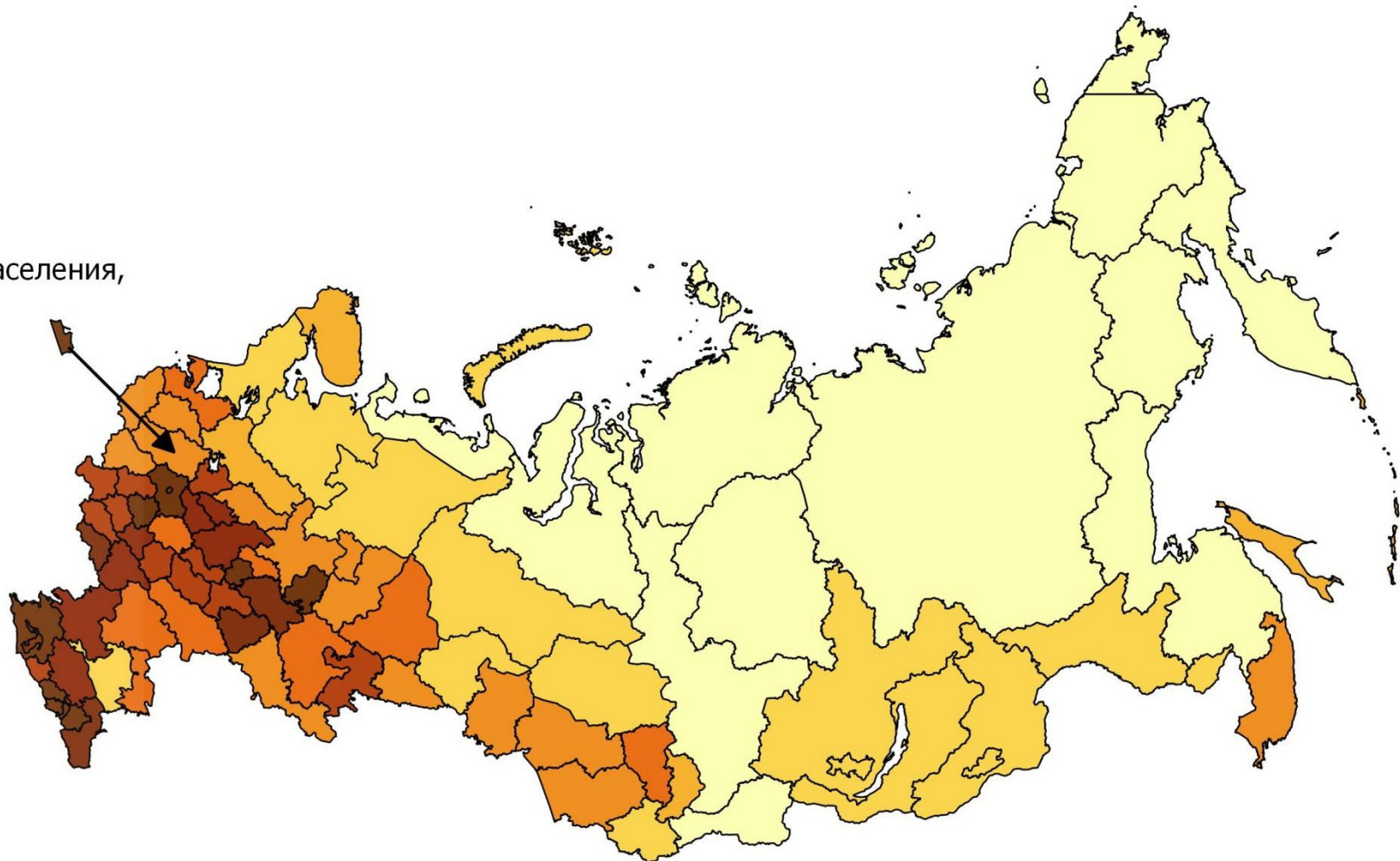
Территория России, разделенная на 3 части с одинаковым количеством населения.



# Плотность населения

Плотность населения,

чел/км<sup>2</sup>



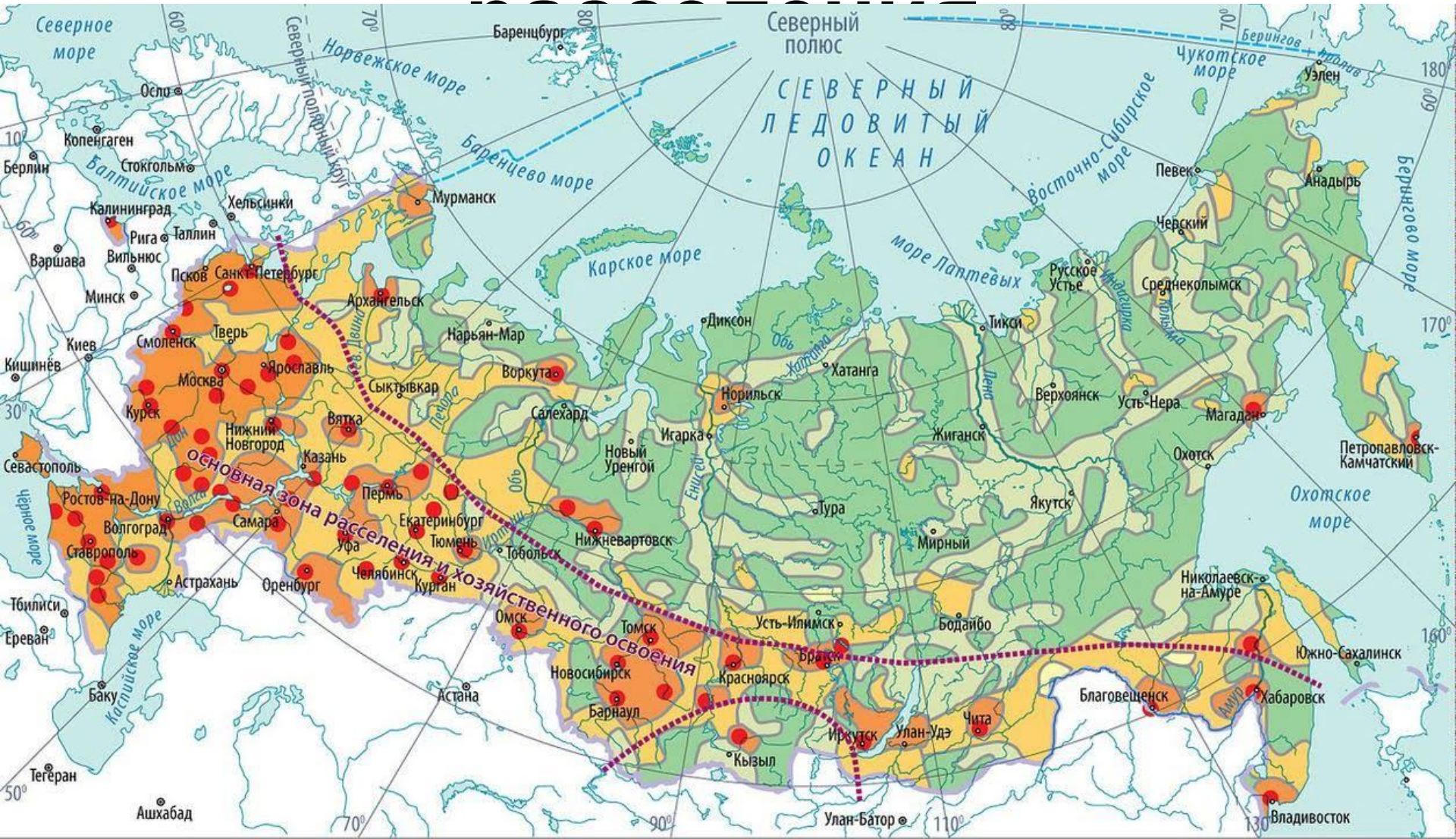


# Плотность населения в разных регионах России





# Основная полоса



## ГРУППОВЫЕ СИСТЕМЫ НАСЕЛЁННЫХ МЕСТ

- Крупные
- Прочие
- Районы очагового расселения
- Районы сезонного и экспедиционного освоения
- Граница основной зоны расселения и хозяйственного освоения
- Региональные центры





**СТЕПЕНЬ БЛАГОПРИЯТНОСТИ УСЛОВИЙ ЖИЗНИ НАСЕЛЕНИЯ РОССИИ**

- Крайне неблагоприятные
- Неблагоприятные
- Малоблагоприятные
- Благоприятные
- Наиболее благоприятные

# ***Основная полоса расселения России***

- занимает всего 35% территории нашей страны;
- на ее территории проживает 126 млн. человек;
- характеризуется «старым освоением» (большое количество «старых» городов)
- высокая плотность населения;
- большое число крупных городов и городских агломераций.

# **Факторы, влияющие на плотность населения территорий**

## **Прямые факторы:**

- **размер территории.** При одинаковом количестве населения, плотность населения там выше, где меньше размер территории, которую занимает это население.
- **количество населения.** При одинаковом количестве территории, плотность населения тем выше, чем больше количество населения, которое занимает эту территорию.

# Факторы, влияющие на плотность населения территорий

## Косвенные факторы:

- **климатический фактор.** Люди с древности селились в районах с наиболее благоприятными условиями для жизни — теплым и мягким климатом, плодородными почвами для ведения сельского хозяйства. Теплый климат также обеспечивал собирательство (до введения сельского хозяйства), позволял меньше беспокоиться о теплоте жилья и одежды, а также меньше болеть простудными заболеваниями.
- **геолого-географический фактор.** Формы рельефа (горы, равнины и т.д.), а также географические области (пустыни, леса, степи и т.д.) влияют (чаще всего как ограничитель) на возможность расселения людей по территории и на порядок ее освоения.
- **исторический фактор.** На плотность населения отдельных стран влияет порядок освоения и заселения территорий этих стран.
- **социально-экономический фактор.** Последнее время этот фактор выходит на первое место, постепенно оставляя позади предыдущие факторы. Люди селятся близко к административным центрам: в городах с развитой

**1. В каком из перечисленных регионов России средняя плотность населения наибольшая?**

**1) Республика Карелия**

**2) Мурманская область**

**3) Ростовская область**

**4) Камчатский край**

Данное задание можно решить двумя способами:

1. Воспользоваться атласом за 9 класс, а именно картой «Плотность населения» и, найдя там указанные регионы, сравнить плотность их населения (при помощи легенды карты).
2. Можно рассуждать логически, так как нам уже известны факторы, влияющие на плотность населения.



1. В каком из перечисленных регионов России средняя плотность населения наибольшая?

1) Краснодарский край 2) Архангельская область

3) Мурманская область 4) Республика Коми

2. В каком из перечисленных регионов России средняя плотность населения наибольшая?

1) Ростовская область 2) Мурманская область

3) Республика Коми 4) Магаданская область

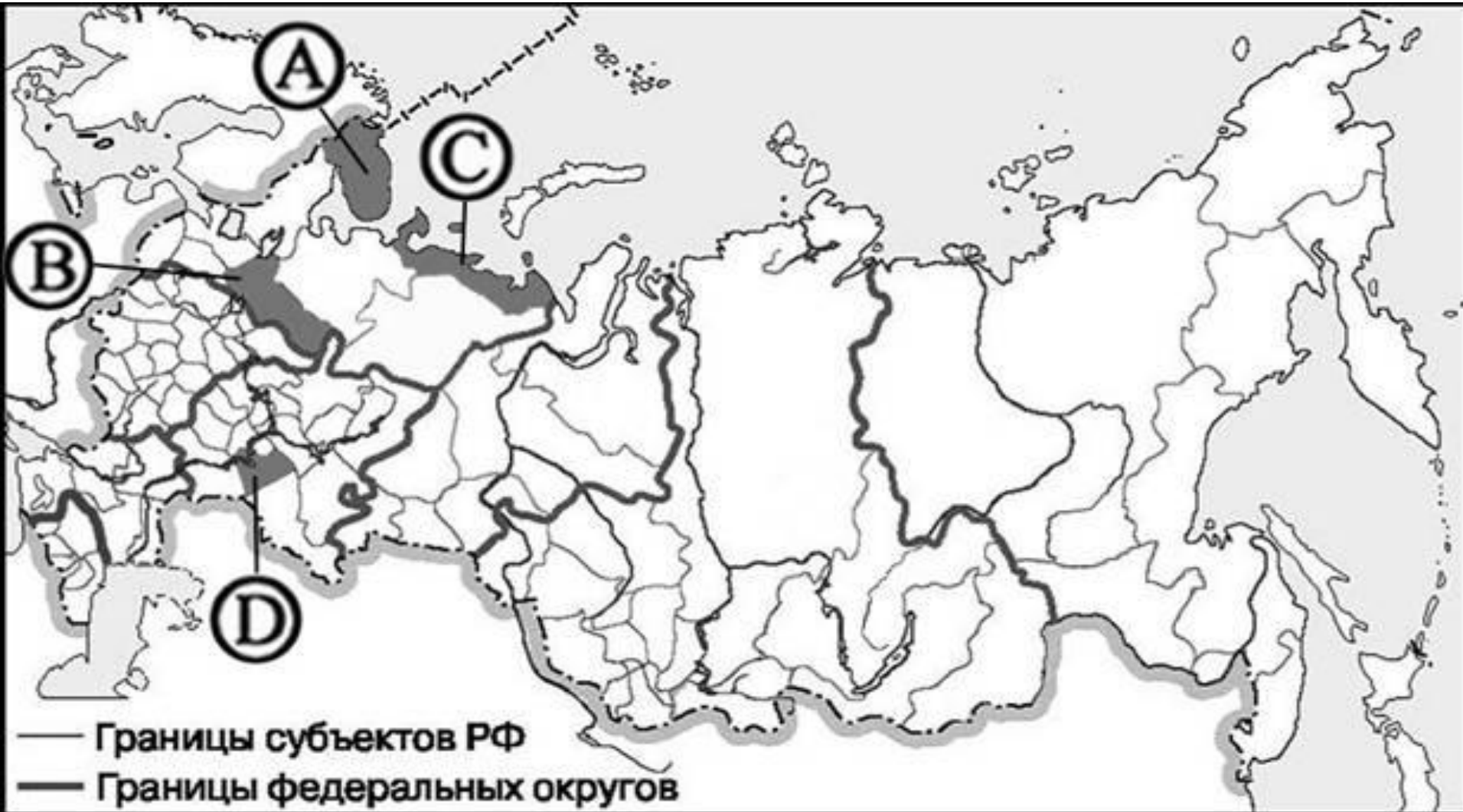
3. В каком из регионов, обозначенных буквами на карте России, средняя плотность населения **наименьшая**?

- 1) А      2) В      3) С      4) D



4. В каком из регионов, обозначенных буквами на карте России, средняя плотность населения наибольшая?

- 1) А      2) В      3) С      4) D



5. Какой из перечисленных городов является наибольшим по численности населения?

1) Кемерово

2) Ставрополь

3) Екатеринбург

4) Петрозаводск.

6. Какой из перечисленных городов является наибольшим по численности населения?

1) Оренбург

2) Пермь

3) Нальчик

4) Петрозаводск.

# ОТВЕТЫ

1. 1

2. 1

3. 4