



**Евразия:
географическое положение
и история исследования
материка**



Цель:

- **Определить географическое положение материка, познакомиться с историей исследования материка.**





Баренцево море

Карское море

Море Лаптевых

Берингов пролив

оз. Байкал

Черное море

Желтое море

Красное море

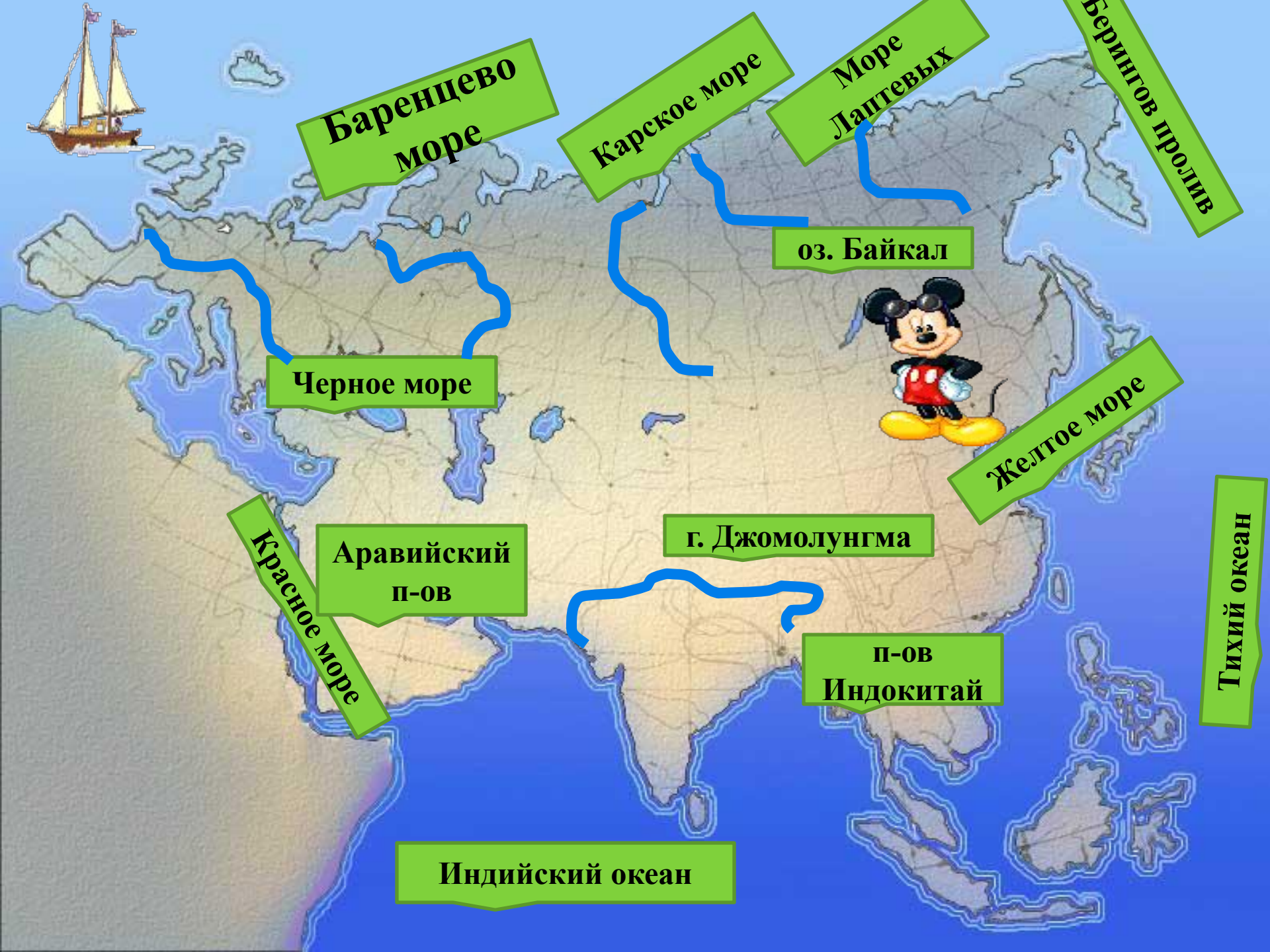
Аравийский п-ов

г. Джомолунгма

п-ов Индокитай

Тихий океан

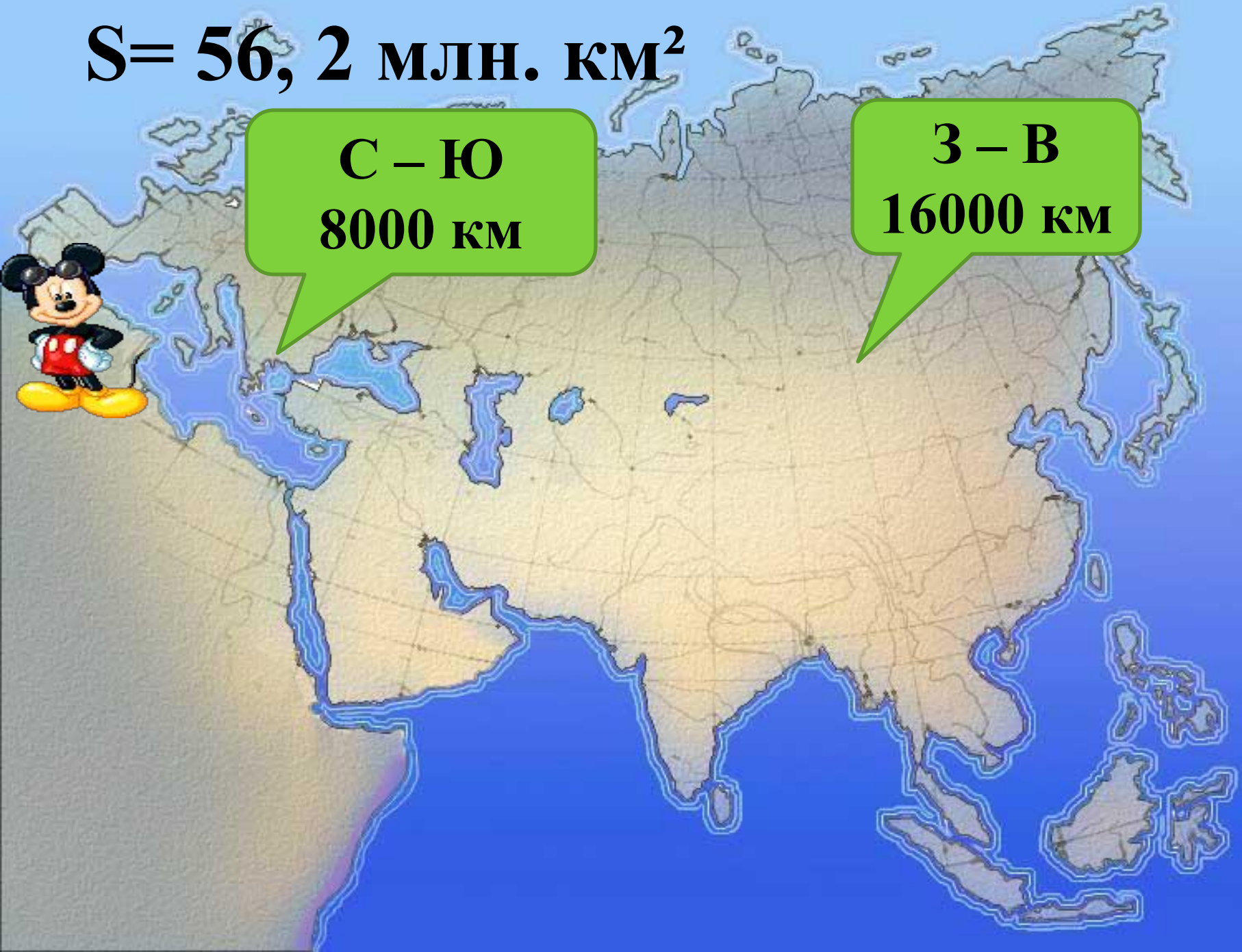
Индийский океан



$S = 56,2 \text{ млн. км}^2$

**С – Ю
8000 км**

**З – В
16000 км**



План описания географического положения материка

- 1. Определите, как расположен материк относительно экватора, тропиков (полярных кругов) и нулевого меридиана.**
- 2. Найдите крайние точки материка. Определите их координаты.**
- 3. В каких климатических поясах расположен материк.**
- 4. Определите, какие океаны и моря омывают материк.**
- 5. Как расположен материк относительно других материков.**




Дата	Имя ученого	
		<p data-bbox="1257 1025 1431 1222">Пр</p> 



крайняя западная точка

Правильные Объекты

1. Море – Северное
2. Море – Баренцево 
3. Остров - Новая Земля
4. Пролив – Берингов
5. Океан – Тихий
6. Полуостров – Индокитай
7. Океан – Индийский
8. Полуостров – Аравийский
9. Море – Средиземное
10. Крайняя западная точка – мыс Рока

Критерий оценивания

- 10 -9 объектов – «5»
- 8 – 7 объектов – «4»
- 6 – 5 объектов – «3»



Правильные Ответы

I вариант



1. А
2. Г
3. Б
4. В
5. А – 3
Б – 2
В – 1,

II вариант

1. Г
2. А
3. Белое, Красное,
Желтое, Черное
4. В
5. А – 3
Б – 2
В – 1



Критерий оценивания

Кол – во правильных ответов	Оценка
5	5
4	4
3	3

Домашнее задание:

Всем:

с. 134 – 135 прочитать

По желанию:

Составить экскурсию по материку Евразия.



Ответьте на вопросы:



- **Что было главным на уроке?**
- **Что нового узнали на уроке?**
- **Что вызвало наибольшее затруднения: работа с контурной картой, тест, работа по заданиям?**