

Пермский край

# Знатоки Правил дорожного движения



# Знатоки Правил дорожного движения




## вопрос 1

Картинку вы увидите на 25 секунд



# Определите очередность проезда перекрестка



# Знатоки Правил дорожного движения




## вопрос 2

Картинку вы увидите на 25 секунд



# Определите очередность проезда перекрестка



# Знатоки Правил дорожного движения

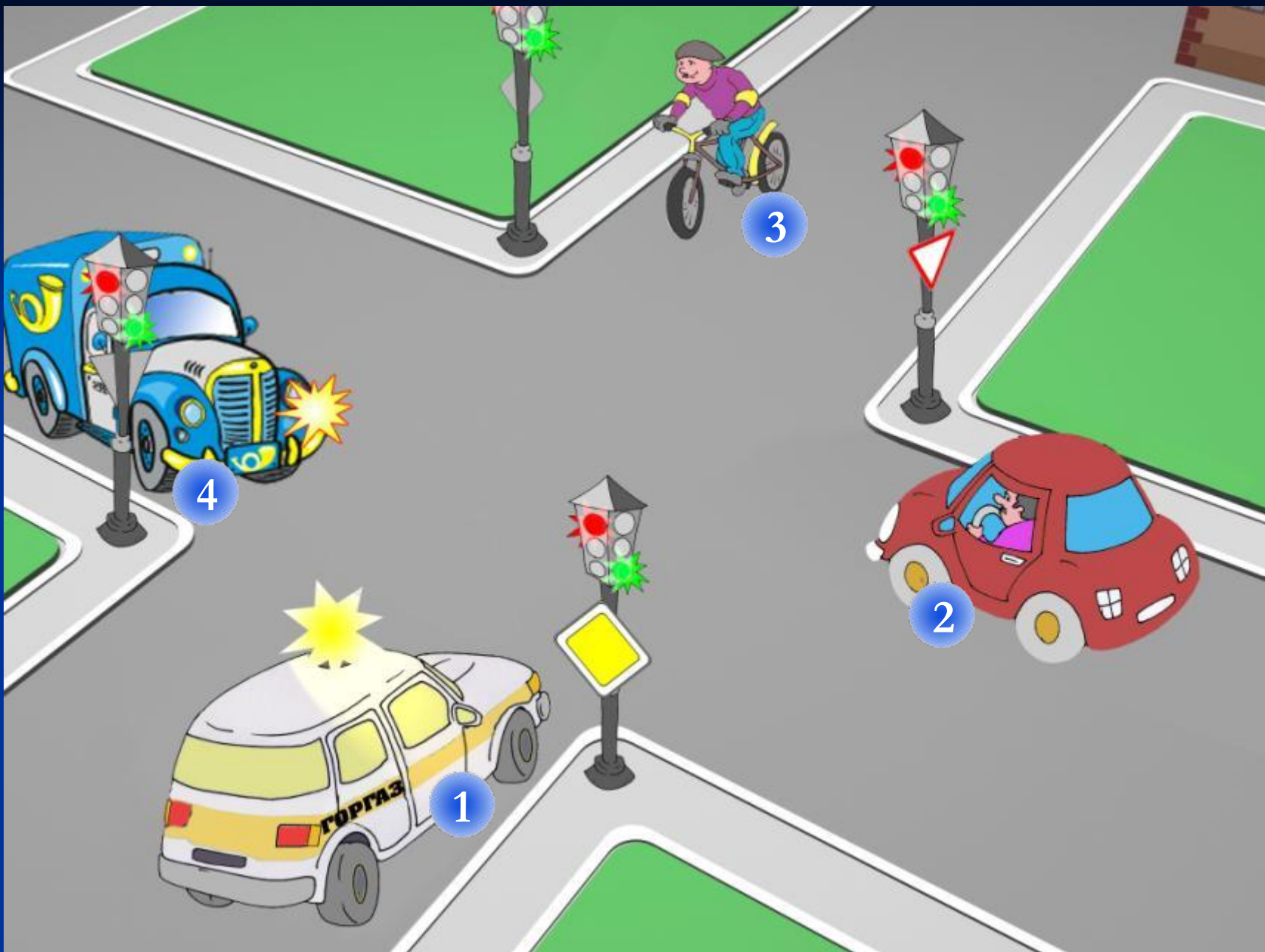


## вопрос 3

Картинку вы увидите на 25 секунд



# Кто и в каком порядке может проехать перекрёсток?



# Знатоки Правил дорожного движения



## вопрос 4

Картинку вы увидите на 25 секунд





# Кто и в каком порядке может проехать перекрёсток?



# Знатоки Правил дорожного движения



## вопрос 5

Картинку вы увидите на 25 секунд



# Определите очередность проезда перекрестка



# Знатоки Правил дорожного движения




## вопрос 6

Картинку вы увидите на 25 секунд



# Определите очередность проезда перекрестка



# Знатоки Правил дорожного движения



## вопрос 7

Картинку вы увидите на 25 секунд



# Определите порядок проезда перекрестка



# Знатоки Правил дорожного движения



## вопрос 8

Картинку вы увидите на 25 секунд





# Кто и в каком порядке может проехать перекрёсток?



# Знатоки Правил дорожного движения



## вопрос 9

Фотографию вы увидите на 20 секунд

Блоки вы увидите на 10 секунд




# ВНИМАТЕЛЬНО ПОСМОТРИТЕ НА ФОТОГРАФИЮ




# Выпишите 2 лишних фрагмента




А



Б



В



Г



# Знатоки Правил дорожного движения



## вопрос 10

Фотографию вы увидите на 20 секунд


Блоки вы увидите на 10 секунд



# ВНИМАТЕЛЬНО ПОСМОТРИТЕ НА ФОТОГРАФИЮ



# Выпишите 2 лишних фрагмента



# Знатоки Правил дорожного движения



## вопрос 11

Фотографию вы увидите на 20 секунд

Блоки вы увидите на 10 секунд





# ВНИМАТЕЛЬНО ПОСМОТРИТЕ НА ФОТОГРАФИЮ



# Выпишите 2 лишних фрагмента



А



Б



В



Г



# Знатоки Правил дорожного движения



## вопрос 12

Картинку вы увидите на 20 секунд

Блоки вы увидите на 10 секунд




# ВНИМАТЕЛЬНО ПОСМОТРИТЕ НА ФОТОГРАФИЮ



# Выпишите 2 лишних фрагмента



А



Б



В



Г



# Знатоки Правил дорожного движения



## вопрос 13

Картинку вы увидите на 20 секунд

Блоки вы увидите на 10 секунд



# ВНИМАТЕЛЬНО ПОСМОТРИТЕ НА ФОТОГРАФИЮ



# Выпишите 2 лишних фрагмента





# Знатоки Правил дорожного движения



## вопрос 14

Картинку вы увидите на 20 секунд


Блоки вы увидите на 10 секунд



# ВНИМАТЕЛЬНО ПОСМОТРИТЕ НА ФОТОГРАФИЮ



# Выпишите 2 лишних фрагмента



# Знатоки Правил дорожного движения



Конец

