

# Задание 21. Экономическая задача

2022 год. Тренажер

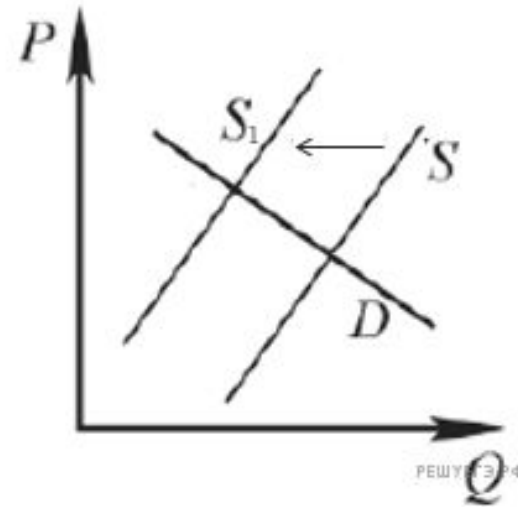
На графике изображено изменение ситуации на потребительском рынке рыбы и морепродуктов в стране Z. Кривая предложения переместилась из положения S в положение S<sub>1</sub> при неизменном спросе D. (На графике P – цена товара; Q – количество товара).

Как изменилась равновесная цена?

Что могло вызвать изменение предложения?

Укажите любое одно обстоятельство (фактор) и объясните его влияние на предложение. (Объяснение должно быть дано применительно к рынку, указанному в тексте задания.)

Как изменятся спрос и равновесная цена на данном рынке, если вырастет число потребителей при прочих равных условиях?



Алгоритм решения задачи:

1. Определим о чем идет речь в задаче: спрос или предложение. На каком рынке меняется ситуация?

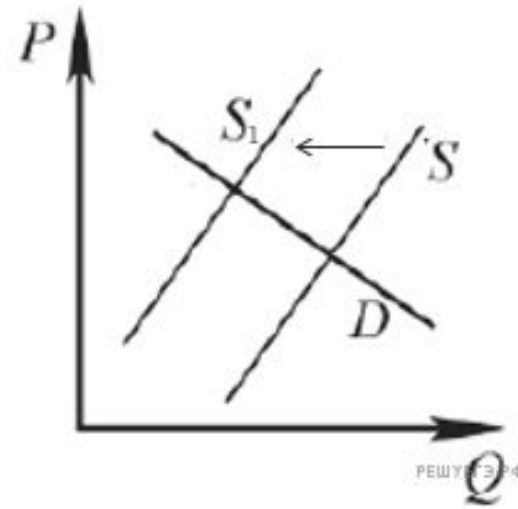
На графике изображено изменение ситуации на потребительском рынке рыбы и морепродуктов в стране Z. Кривая предложения переместилась из положения S в положение S<sub>1</sub> при неизменном спросе D. (На графике P – цена товара; Q – количество товара).

Как изменилась равновесная цена?

Что могло вызвать изменение предложения?

Укажите любое одно обстоятельство (фактор) и объясните его влияние на предложение. (Объяснение должно быть дано применительно к рынку, указанному в тексте задания.)

Как изменятся спрос и равновесная цена на данном рынке, если вырастет число потребителей при прочих равных условиях?



Алгоритм решения задачи:

1. Определим о чем идет речь в задаче: спрос или предложение. На каком рынке меняется ситуация?

Речь идет о предложении на потребительском рынке рыбы и морепродуктов

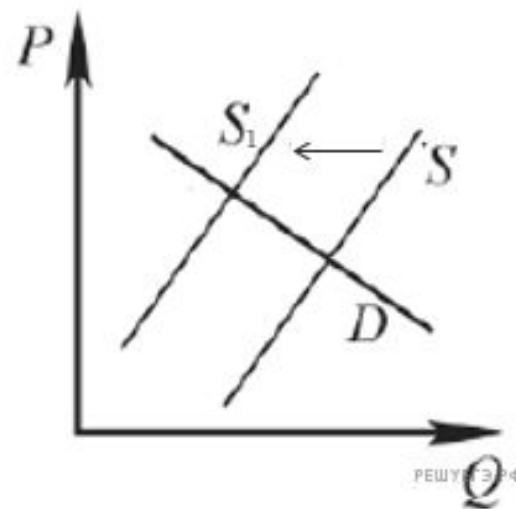
На графике изображено изменение ситуации на потребительском рынке рыбы и морепродуктов в стране Z. Кривая предложения переместилась из положения S в положение S<sub>1</sub> при неизменном спросе D. (На графике P – цена товара; Q – количество товара).

Как изменилась равновесная цена?

Что могло вызвать изменение предложения?

Укажите любое одно обстоятельство (фактор) и объясните его влияние на предложение. (Объяснение должно быть дано применительно к рынку, указанному в тексте задания.)

Как изменятся спрос и равновесная цена на данном рынке, если вырастет число потребителей при прочих равных условиях?



Алгоритм решения задачи:

1. Определим о чем идет речь в задаче: спрос или предложение. На каком рынке меняется ситуация?

**Речь идет о предложении на потребительском рынке рыбы и морепродуктов**

2. Что происходит со спросом или с предложением: уменьшается или увеличивается (стрелка на графике движется от нуля – увеличивается; к нулю – уменьшается)

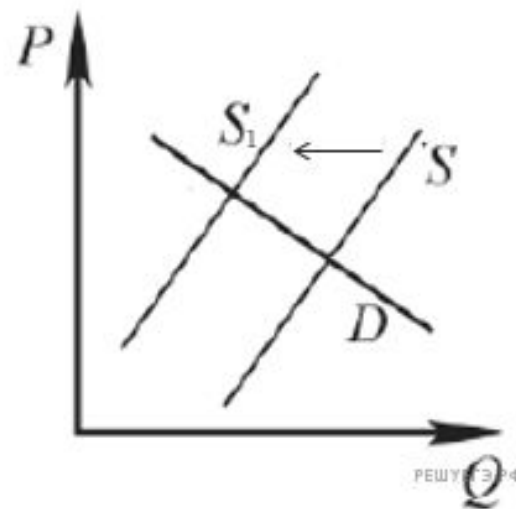
На графике изображено изменение ситуации на потребительском рынке рыбы и морепродуктов в стране Z. Кривая предложения переместилась из положения S в положение S<sub>1</sub> при неизменном спросе D. (На графике P – цена товара; Q – количество товара).

Как изменилась равновесная цена?

Что могло вызвать изменение предложения?

Укажите любое одно обстоятельство (фактор) и объясните его влияние на предложение. (Объяснение должно быть дано применительно к рынку, указанному в тексте задания.)

Как изменятся спрос и равновесная цена на данном рынке, если вырастет число потребителей при прочих равных условиях?



Алгоритм решения задачи:

1. Определим о чем идет речь в задаче: спрос или предложение. На каком рынке меняется ситуация?

**Речь идет о предложении на потребительском рынке рыбы и морепродуктов**

2. Что происходит со спросом или с предложением: уменьшается или увеличивается (стрелка на графике движется от нуля – увеличивается; к нулю – уменьшается)

**Предложение сокращается**

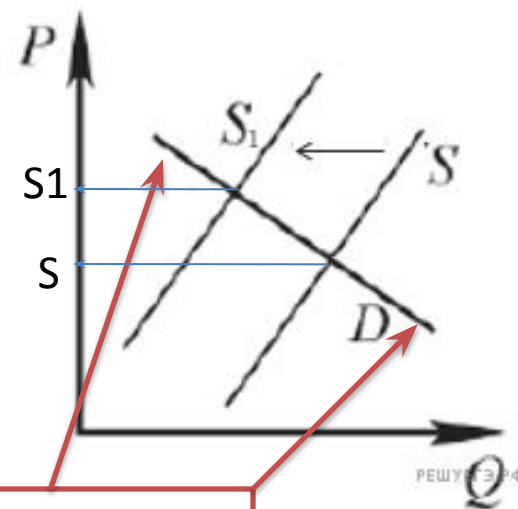
На графике изображено изменение ситуации на потребительском рынке рыбы и морепродуктов в стране Z. Кривая предложения переместилась из положения S в положение S1 при неизменном спросе D. (На графике P – цена товара; Q – количество товара).

Как изменилась равновесная цена?

Что могло вызвать изменение предложения?

Укажите любое одно обстоятельство (фактор) и объясните его влияние на предложение. (Объяснение должно быть дано применительно к рынку, указанному в тексте задания.)

Как изменятся спрос и равновесная цена на данном рынке, если вырастет число потребителей при прочих равных условиях?



Равновесная  
цена

Алгоритм решения задачи:

1. Определим о чем идет речь в задаче: спрос или предложение. на каком рынке меняется ситуация?

**Речь идет о предложении на потребительском рынке рыбы и морепродуктов**

2. Что происходит со спросом или с предложением: уменьшается или увеличивается (стрелка на графике движется от нуля – увеличивается; к нулю – уменьшается)

**Предложение сокращается**

3. Так как по условиям задачи, предложение переместилось из положения S в положение S1, то определяем по графику: какая цена была на пересечении равновесной цены D и линии, обозначенной S – фиксируем эту точку на оси P; определяем цену на пересечении равновесной цены и линии, обозначенной S1 – фиксируем эту точку на оси P. (см. график)

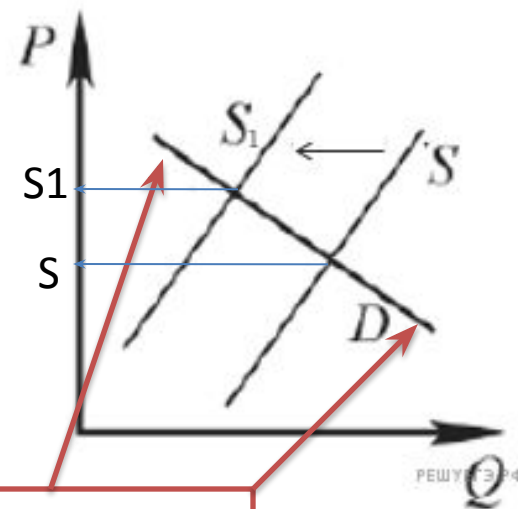
На графике изображено изменение ситуации на потребительском рынке рыбы и морепродуктов в стране Z. Кривая предложения переместилась из положения S в положение S1 при неизменном спросе D. (На графике P – цена товара; Q – количество товара).

Как изменилась равновесная цена?

Что могло вызвать изменение предложения?

Укажите любое одно обстоятельство (фактор) и объясните его влияние на предложение. (Объяснение должно быть дано применительно к рынку, указанному в тексте задания.)

Как изменятся спрос и равновесная цена на данном рынке, если вырастет число потребителей при прочих равных условиях?



Алгоритм решения задачи:

1. Определим о чем идет речь в задаче: спрос или предложение. на каком рынке меняется ситуация?

**Речь идет о предложении на потребительском рынке рыбы и морепродуктов**

2. Что происходит со спросом или с предложением: уменьшается или увеличивается (стрелка на графике движется от нуля – увеличивается; к нулю – уменьшается)

**Предложение сокращается**

3. Определяем по графику: какая цена была на пересечении равновесной цены D и линии, обозначенной S – фиксируем эту точку на оси P; определяем цену на пересечении равновесной цены и линии, обозначенной S1 – фиксируем эту точку на оси P. (см. график)

4. Так как ось P обозначает изменение цены, делаем вывод: что произошло с ценой? Она стала выше или ниже?



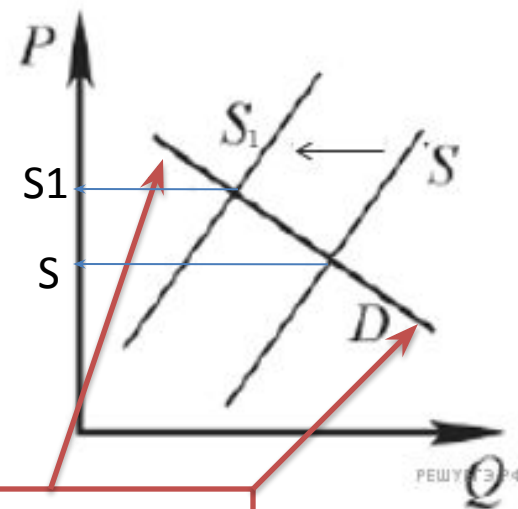
На графике изображено изменение ситуации на потребительском рынке рыбы и морепродуктов в стране Z. Кривая предложения переместилась из положения S в положение S1 при неизменном спросе D. (На графике P – цена товара; Q – количество товара).

Как изменилась равновесная цена?

Что могло вызвать изменение предложения?

Укажите любое одно обстоятельство (фактор) и объясните его влияние на предложение. (Объяснение должно быть дано применительно к рынку, указанному в тексте задания.)

Как изменятся спрос и равновесная цена на данном рынке, если вырастет число потребителей при прочих равных условиях?



Равновесная  
цена

Алгоритм решения задачи:

1. Определим о чем идет речь в задаче: спрос или предложение. На каком рынке меняется ситуация?

**Речь идет о предложении на потребительском рынке рыбы и морепродуктов**

2. Что происходит со спросом или с предложением: уменьшается или увеличивается (стрелка на графике движется от нуля – увеличивается; к нулю – уменьшается)

**Предложение сокращается**

3. Определяем по графику: какая цена была на пересечении равновесной цены D и линии, обозначенной S – фиксируем эту точку на оси P; определяем цену на пересечении равновесной цены и линии, обозначенной S1 – фиксируем эту точку на оси P. **(см. график)**

4. Так как ось P обозначает изменение цены, делаем вывод: что произошло с ценой? Она стала выше или ниже? **Пишем ответ на первый вопрос: цена**



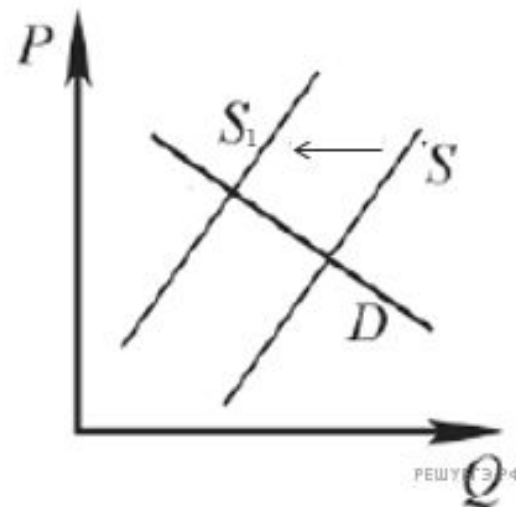
На графике изображено изменение ситуации на потребительском рынке рыбы и морепродуктов в стране Z. Кривая предложения переместилась из положения S в положение S<sub>1</sub> при неизменном спросе D. (На графике P – цена товара; Q – количество товара).

Как изменилась равновесная цена?

Что могло вызвать изменение предложения?

Укажите любое одно обстоятельство (фактор) и объясните его влияние на предложение. (Объяснение должно быть дано применительно к рынку, указанному в тексте задания.)

Как изменятся спрос и равновесная цена на данном рынке, если вырастет число потребителей при прочих равных условиях?



Алгоритм решения задачи:

5. Ответ на второй вопрос: что могло вызвать изменения предложения? Здесь нужно вспомнить ....

В нашем случае предложение сокращается...

## Факторы, влияющие на предложение

- Количество продавцов
- Технология производства
- Стоимость производства
- Налоги и субсидии
- Ожидания продавцов
- Появление альтернативных возможностей получения прибыли

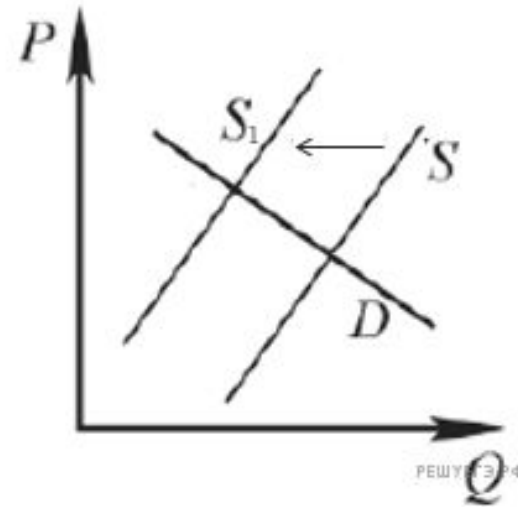
На графике изображено изменение ситуации на потребительском рынке рыбы и морепродуктов в стране Z. Кривая предложения переместилась из положения S в положение S<sub>1</sub> при неизменном спросе D. (На графике P – цена товара; Q – количество товара).

Как изменилась равновесная цена?

Что могло вызвать изменение предложения?

Укажите любое одно обстоятельство (фактор) и объясните его влияние на предложение. (Объяснение должно быть дано применительно к рынку, указанному в тексте задания.)

Как изменятся спрос и равновесная цена на данном рынке, если вырастет число потребителей при прочих равных условиях?



Алгоритм решения задачи:

5. Ответ на второй вопрос: что могло вызвать изменения предложения?

Укажем обстоятельство:

**Например, в стране Z правительство увеличило тарифы на топливо, укажем влияние на предложение: так как топливом заправляются рыболовецкие суда, следовательно у производителей выросли издержки, а значит заниматься добычей рыбы и морепродуктов становится не выгодным, что приведет к уменьшению предложения на данном рынке**

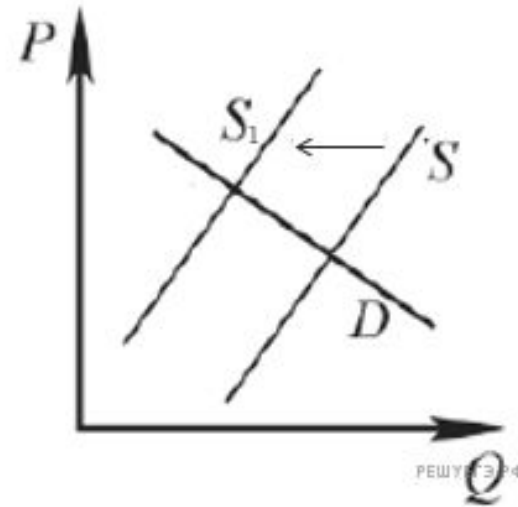
На графике изображено изменение ситуации на потребительском рынке рыбы и морепродуктов в стране Z. Кривая предложения переместилась из положения S в положение S<sub>1</sub> при неизменном спросе D. (На графике P – цена товара; Q – количество товара).

Как изменилась равновесная цена?

Что могло вызвать изменение предложения?

Укажите любое одно обстоятельство (фактор) и объясните его влияние на предложение. (Объяснение должно быть дано применительно к рынку, указанному в тексте задания.)

Как изменятся спрос и равновесная цена на данном рынке, если вырастет число потребителей при прочих равных условиях?



Алгоритм решения задачи:

6. Как изменится спрос и равновесная цена на данном рынке, если вырастет число потребителей при прочих равных условиях?

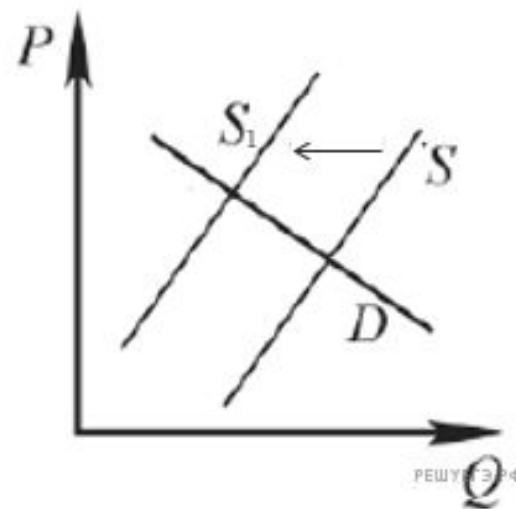
На графике изображено изменение ситуации на потребительском рынке рыбы и морепродуктов в стране Z. Кривая предложения переместилась из положения S в положение S1 при неизменном спросе D. (На графике P – цена товара; Q – количество товара).

Как изменилась равновесная цена?

Что могло вызвать изменение предложения?

Укажите любое одно обстоятельство (фактор) и объясните его влияние на предложение. (Объяснение должно быть дано применительно к рынку, указанному в тексте задания.)

Как изменятся спрос и равновесная цена на данном рынке, если вырастет число потребителей при прочих равных условиях?



Алгоритм решения задачи:

6. Как изменится спрос и равновесная цена на данном рынке, если вырастет число потребителей при прочих равных условиях?

**Количество потребителей – неизменно фактор, влияющий на спрос. Если потребителей становится больше, это даже при высокой цене (мы помним, что по условиям нашей задачи цена выросла) на рыбу и морепродукты однозначно спрос вырастет. А вместе с спросом (вспоминаем закон спроса) вырастет и цена товара**

**ВАЖНО!** Если вы просто напишите:  
если вырастет количество  
потребителей, это приведет к росту  
спроса и повышению цены – то ответ  
вам не засчитают!!!

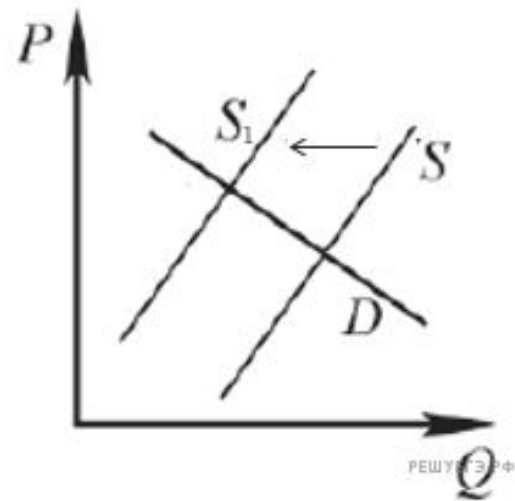
На графике изображено изменение ситуации на потребительском рынке рыбы и морепродуктов в стране Z. Кривая предложения переместилась из положения S в положение S<sub>1</sub> при неизменном спросе D. (На графике P – цена товара; Q – количество товара).

Как изменилась равновесная цена?

Что могло вызвать изменение предложения?

Укажите любое одно обстоятельство (фактор) и объясните его влияние на предложение. (Объяснение должно быть дано применительно к рынку, указанному в тексте задания.)

Как изменятся спрос и равновесная цена на данном рынке, если вырастет число потребителей при прочих равных условиях?



#### Пояснение.

В правильном ответе должны быть следующие элементы:

1) ответ на первый вопрос: равновесная цена выросла;

2) ответ на второй вопрос (одно обстоятельство (фактор) с объяснением влияния), например: благодаря резкому удорожанию топлива для рыболовецких траулеров и судов издержки на улов рыбы и морепродуктов выросли, что привело к сокращению объемов их производства;

(Может быть названо и объяснено другое обстоятельство / другой фактор.)

Засчитывается только объяснение, данное применительно к рынку, указанному в тексте задания.

Ответ на второй вопрос засчитывается только при правильном указании обстоятельства/фактора и объяснения).

3) ответ на третий вопрос: рост числа потребителей приведёт к увеличению спроса и увеличению равновесной цены.

Ну а так должен выглядеть ответ на  
бланке ответов № 2



Решим еще несколько задач?



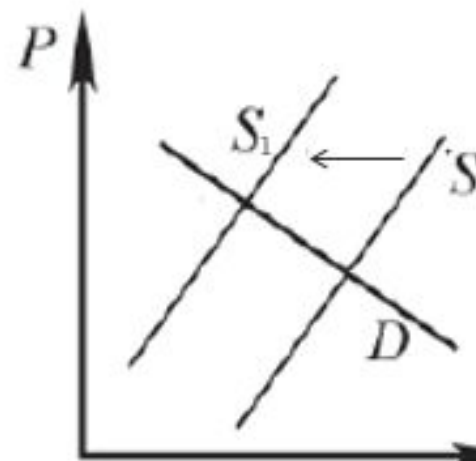
На графике изображено изменение ситуации на потребительском рынке цветов в стране Z. Кривая предложения переместилась из положения S в положение S<sub>1</sub> при неизменном спросе D. (На графике P – цена товара; Q – количество товара).

Как изменилась равновесная цена?

Что могло вызвать изменение предложения?

Укажите любое одно обстоятельство (фактор) и объясните его влияние на предложение. (Объяснение должно быть дано применительно к рынку, указанному в тексте задания.)

Как изменятся спрос и равновесная цена на данном рынке в период Международного женского дня, когда жители страны по традиции дарят женщинам цветы при прочих равных условиях?



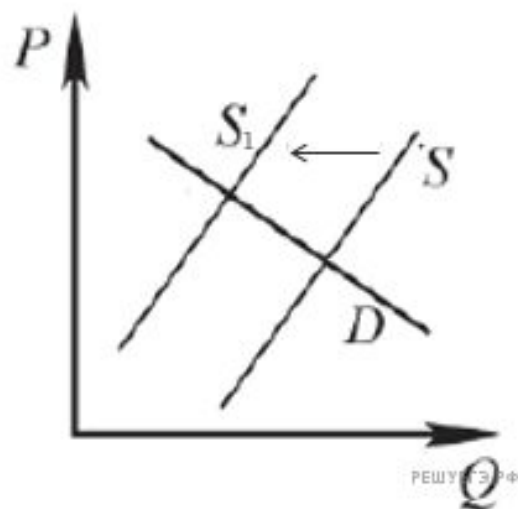
На графике изображено изменение ситуации на потребительском рынке цветов в стране Z. Кривая предложения переместилась из положения S в положение S1 при неизменном спросе D. (На графике P – цена товара; Q – количество товара).

Как изменилась равновесная цена?

Что могло вызвать изменение предложения?

Укажите любое одно обстоятельство (фактор) и объясните его влияние на предложение. (Объяснение должно быть дано применительно к рынку, указанному в тексте задания.)

Как изменятся спрос и равновесная цена на данном рынке в период Международного женского дня, когда жители страны по традиции дарят женщинам цветы при прочих равных условиях?



#### Пояснение.

В правильном ответе должны быть следующие элементы:

1) ответ на первый вопрос: равновесная цена выросла;

2) ответ на второй вопрос (одно обстоятельство (фактор) с объяснением влияния), например: из-за роста налогов на прибыль организаций производство цветов стало менее выгодным, что привело к сокращению их предложения; (Может быть названо и объяснено другое обстоятельство / другой фактор.)

Засчитывается только объяснение, данное применительно к рынку, указанному в тексте задания.

Ответ на второй вопрос засчитывается только при правильном указании обстоятельства/фактора и объяснения).

3) ответ на третий вопрос: традиция дарить цветы женщинам на праздник приведёт к увеличению спроса и увеличению равновесной цены.

(Ответ на третий вопрос засчитывается только при правильном указании изменения спроса и равновесной цены.)

Элементы ответа могут быть представлены в других формулировках



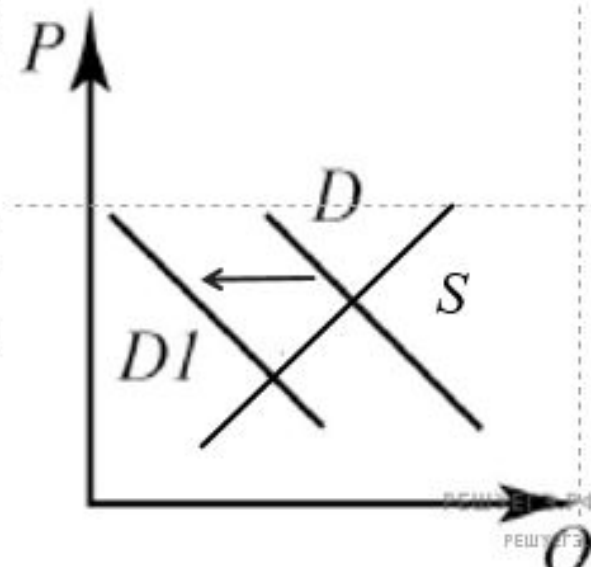
На графике изображено изменение ситуации на потребительском рынке овощей в стране Z. Кривая спроса переместилась из положения D в положение D1 при неизменном предложении S. (На графике P – цена товара; Q – количество товара).

Как изменилась равновесная цена?

Что могло вызвать изменение спроса?

Укажите любое одно обстоятельство (фактор) и объясните его влияние на спрос. (Объяснение должно быть дано применительно к рынку, указанному в тексте задания.)

Как изменятся предложение и равновесная цена на данном рынке в условиях удорожания минеральных удобрений при прочих равных условиях?



## Факторы, влияющие на спрос потребителей

- Количество покупателей
- Мода, вкусы, традиции
- Цены взаимосвязанных товаров (заменителей и дополняющих)
- Ожидания потребителей
- Доход потребителей

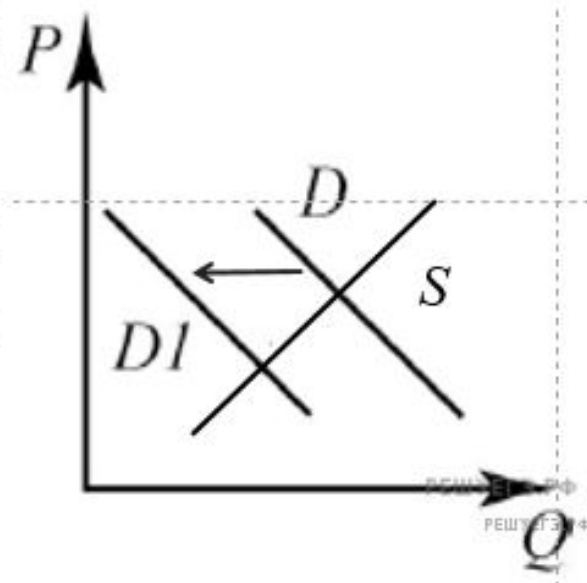
На графике изображено изменение ситуации на потребительском рынке овощей в стране Z. Кривая спроса переместилась из положения D в положение D1 при неизменном предложении S. (На графике P – цена товара; Q – количество товара).

Как изменилась равновесная цена?

Что могло вызвать изменение спроса?

Укажите любое одно обстоятельство (фактор) и объясните его влияние на спрос. (Объяснение должно быть дано применительно к рынку, указанному в тексте задания.)

Как изменятся предложение и равновесная цена на данном рынке в условиях удорожания минеральных удобрений при прочих равных условиях?



### Пояснение.

В правильном ответе должны быть следующие элементы:

1) ответ на первый вопрос: равновесная цена сократилась;

2) ответ на второй вопрос (одно обстоятельство (фактор) с объяснением влияния), например: в государстве Z экономический кризис — происходит падение реальных доходов населения, это приводит к тому, что люди начинают экономить на покупке овощей, сокращается спрос на них;

(Может быть названо и объяснено другое обстоятельство / другой фактор.)

Засчитывается только объяснение, данное применительно к рынку, указанному в тексте задания.

Ответ на второй вопрос засчитывается только при правильном указании обстоятельства/фактора и объяснения).

3) ответ на третий вопрос: удорожание минеральных удобрений приведёт к сокращению предложения и увеличению равновесной цены.

(Ответ на третий вопрос засчитывается только при правильном указании изменения спроса и равновесной цены.)

Элементы ответа могут быть представлены в других формулировках

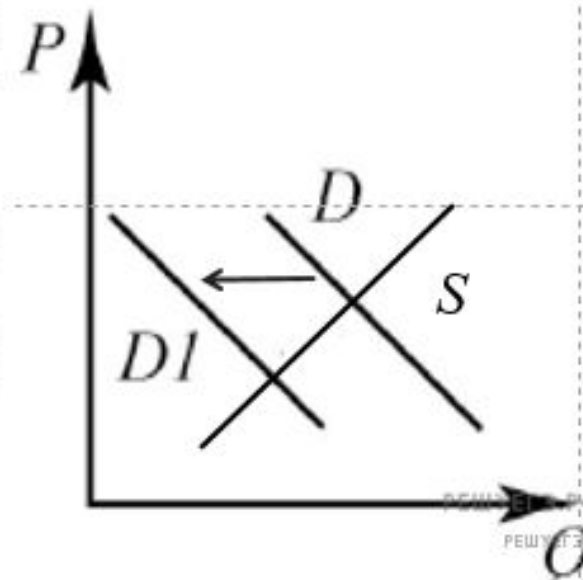
На графике изображено изменение ситуации на потребительском рынке стационарных компьютеров в стране Z. Кривая спроса переместилась из положения D в положение D1 при неизменном предложении S. (На графике P – цена товара; Q – количество товара).

Как изменилась равновесная цена?

Что могло вызвать изменение спроса?

Укажите любое одно обстоятельство (фактор) и объясните его влияние на спрос. (Объяснение должно быть дано применительно к рынку, указанному в тексте задания.)

Как изменятся предложение и равновесная цена на данном рынке в условиях появления нового крупного производителя компьютерной техники на рынке государства Z при прочих равных условиях?



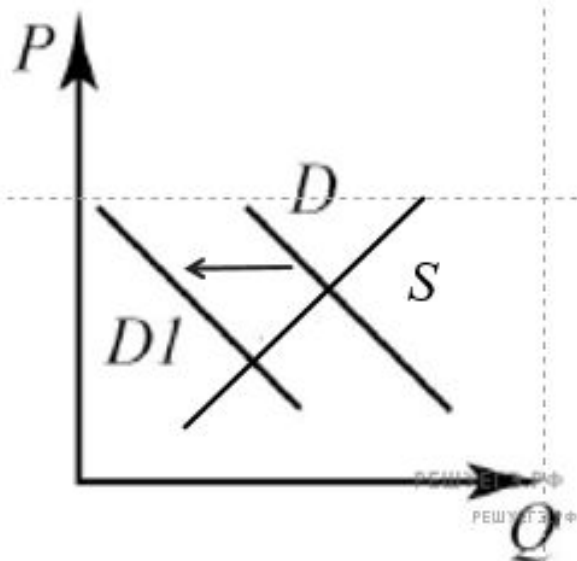
На графике изображено изменение ситуации на потребительском рынке стационарных компьютеров в стране Z. Кривая спроса переместилась из положения D в положение D1 при неизменном предложении S. (На графике P – цена товара; Q – количество товара).

Как изменилась равновесная цена?

Что могло вызвать изменение спроса?

Укажите любое одно обстоятельство (фактор) и объясните его влияние на спрос. (Объяснение должно быть дано применительно к рынку, указанному в тексте задания.)

Как изменятся предложение и равновесная цена на данном рынке в условиях появления нового крупного производителя компьютерной техники на рынке государства Z при прочих равных условиях?



#### Пояснение.

В правильном ответе должны быть следующие элементы:

1) ответ на первый вопрос: равновесная цена сократилась;

2) ответ на второй вопрос (одно обстоятельство (фактор) с объяснением влияния), например: в государстве Z сократилась средняя стоимость на ноутбуки, это приводит к тому, что люди начинают меньше покупать стационарные компьютеры, отдавая предпочтение их субститутам (товарам-заменителям) — ноутбукам, в итоге сокращается спрос на стационарные компьютеры;

(Может быть названо и объяснено другое обстоятельство / другой фактор.)

Засчитывается только объяснение, данное применительно к рынку, указанному в тексте задания.

Ответ на второй вопрос засчитывается только при правильном указании обстоятельства/фактора и объяснения).

3) ответ на третий вопрос: появление нового крупного производителя компьютерной техники на рынке государства Z приведёт к увеличению предложения и сокращению равновесной цены.

(Ответ на третий вопрос засчитывается только при правильном указании изменения спроса и равновесной цены.)

Элементы ответа могут быть представлены в других формулировках



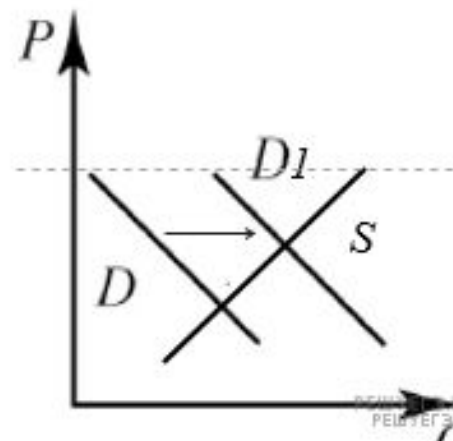
На графике изображено изменение ситуации на потребительском рынке отечественных автомобилей в стране Z. Кривая спроса переместилась из положения D в положение D1 при неизменном предложении S. (На графике P – цена товара; Q – количество товара).

Как изменилась равновесная цена?

Что могло вызвать изменение спроса?

Укажите любое одно обстоятельство (фактор) и объясните его влияние на спрос. (Объяснение должно быть дано применительно к рынку, указанному в тексте задания.)

Как изменятся предложение и равновесная цена на данном рынке после начала выделения властями государства Z дотаций заводам-производителям отечественных автомобилей при прочих равных условиях?



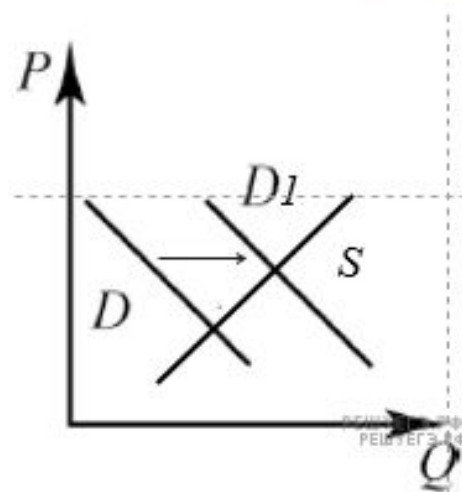
На графике изображено изменение ситуации на потребительском рынке отечественных автомобилей в стране Z. Кривая спроса переместилась из положения D в положение D1 при неизменном предложении S. (На графике P – цена товара; Q – количество товара).

Как изменилась равновесная цена?

Что могло вызвать изменение спроса?

Укажите любое одно обстоятельство (фактор) и объясните его влияние на спрос. (Объяснение должно быть дано применительно к рынку, указанному в тексте задания.)

Как изменятся предложение и равновесная цена на данном рынке после начала выделения властями государства Z дотаций заводам-производителям отечественных автомобилей при прочих равных условиях?



#### Пояснение.

В правильном ответе должны быть следующие элементы:

1) ответ на первый вопрос: равновесная цена выросла;

2) ответ на второй вопрос (одно обстоятельство (фактор) с объяснением влияния), например: в государстве Z из-за протекционистской политики властей выросла цена на иномарки. Это приводит к тому, что люди начинают меньше покупать иномарки, отдавая предпочтение их субститутам (товарам-заменителям) — отечественным автомобилям. В итоге растет спрос на отечественные автомобили;

(Может быть названо и объяснено другое обстоятельство / другой фактор.)

Засчитывается только объяснение, данное применительно к рынку, указанному в тексте задания.

Ответ на второй вопрос засчитывается только при правильном указании обстоятельства/фактора и объяснения).

3) ответ на третий вопрос: начало выделения властями государства Z дотаций заводам-производителям отечественных автомобилей позволило им покрыть долги и модернизировать оборудование, что сократило издержки на производство отечественных автомобилей и привело к увеличению их предложения и сокращению равновесной цены.

(Ответ на третий вопрос засчитывается только при правильном указании изменения спроса и равновесной цены.)

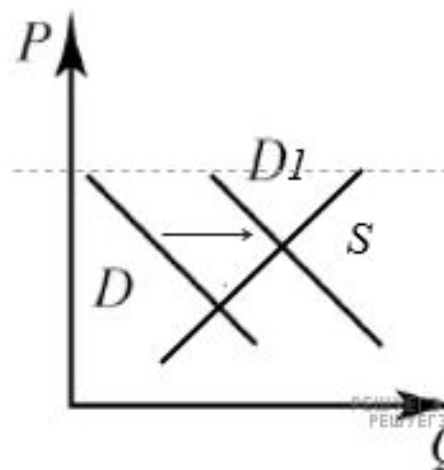
На графике изображено изменение ситуации на потребительском рынке бытовой химии в стране Z. Кривая спроса переместилась из положения D в положение D1 при неизменном предложении S. (На графике P – цена товара; Q – количество товара).

Как изменилась равновесная цена?

Что могло вызвать изменение спроса?

Укажите любое одно обстоятельство (фактор) и объясните его влияние на спрос. (Объяснение должно быть дано применительно к рынку, указанному в тексте задания.)

Как изменятся предложение и равновесная цена продукции бытовой химии на рынке государства Z после массового внедрения более экономичной технологии производства данной продукции при прочих равных условиях?





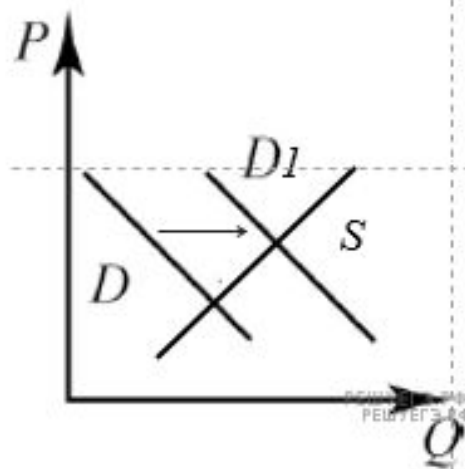
На графике изображено изменение ситуации на потребительском рынке бытовой химии в стране Z. Кривая спроса переместилась из положения D в положение D1 при неизменном предложении S. (На графике P – цена товара; Q – количество товара).

Как изменилась равновесная цена?

Что могло вызвать изменение спроса?

Укажите любое одно обстоятельство (фактор) и объясните его влияние на спрос. (Объяснение должно быть дано применительно к рынку, указанному в тексте задания.)

Как изменятся предложение и равновесная цена продукции бытовой химии на рынке государства Z после массового внедрения более экономичной технологии производства данной продукции при прочих равных условиях?



### Пояснение.

В правильном ответе должны быть следующие элементы:

1) ответ на первый вопрос: равновесная цена выросла;

2) ответ на второй вопрос (одно обстоятельство (фактор) с объяснением влияния), например: в государстве началась масштабная рекламная акция ведущих производителей продукции бытовой химии, это приводит к росту спроса на нее, так как люди охотнее покупают данный вид товаров;

(Может быть названо и объяснено другое обстоятельство / другой фактор.)

Засчитывается только объяснение, данное применительно к рынку, указанному в тексте задания.

Ответ на второй вопрос засчитывается только при правильном указании обстоятельства/фактора и объяснения).

3) ответ на третий вопрос :внедрение более экономичной технологии производства данной продукции сократит издержки на бытовую химию и привело к увеличению её предложения и сокращению равновесной цены.

(Ответ на третий вопрос засчитывается только при правильном указании изменения спроса и равновесной цены.)

Элементы ответа могут быть представлены в других формулировках

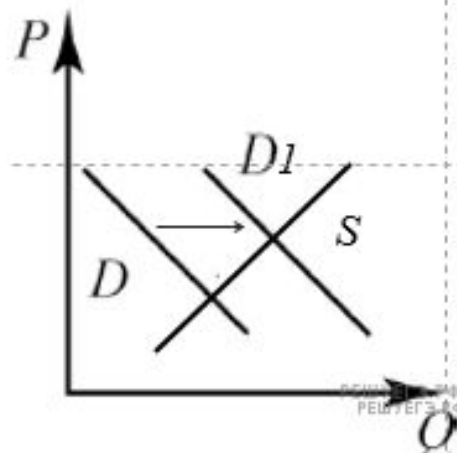
На графике изображено изменение ситуации на потребительском рынке одежды этнического стиля в стране Z. Кривая спроса переместилась из положения D в положение D1 при неизменном предложении S. (На графике P – цена товара; Q – количество товара).

Как изменилась равновесная цена?

Что могло вызвать изменение спроса?

Укажите любое одно обстоятельство (фактор) и объясните его влияние на спрос. (Объяснение должно быть дано применительно к рынку, указанному в тексте задания.)

Как изменятся предложение и равновесная цена одежды этнического стиля на рынке государства Z после удешевления стоимости тканей при прочих равных условиях?



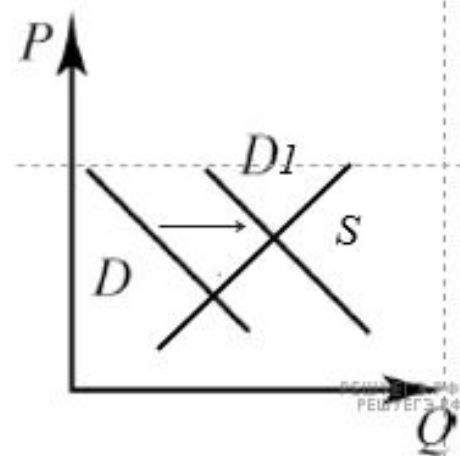
На графике изображено изменение ситуации на потребительском рынке одежды этнического стиля в стране Z. Кривая спроса переместилась из положения D в положение D1 при неизменном предложении S. (На графике P – цена товара; Q – количество товара).

Как изменилась равновесная цена?

Что могло вызвать изменение спроса?

Укажите любое одно обстоятельство (фактор) и объясните его влияние на спрос. (Объяснение должно быть дано применительно к рынку, указанному в тексте задания.)

Как изменятся предложение и равновесная цена одежды этнического стиля на рынке государства Z после удешевления стоимости тканей при прочих равных условиях?



### Пояснение.

В правильном ответе должны быть следующие элементы:

1) ответ на первый вопрос: равновесная цена выросла;

2) ответ на второй вопрос (одно обстоятельство (фактор) с объяснением влияния), например: в государстве Z наблюдается всплеск моды на одежду этнического кроя. Многие молодые люди начинают надевать такие вещи в повседневной жизни, это ведет к росту спроса на них;

(Может быть названо и объяснено другое обстоятельство / другой фактор.)

Засчитывается только объяснение, данное применительно к рынку, указанному в тексте задания.

Ответ на второй вопрос засчитывается только при правильном указании обстоятельства/фактора и объяснения).

3) ответ на третий вопрос: удешевления стоимости тканей сократило издержки на одежды этнического кроя и привело к увеличению её предложения и сокращению равновесной цены.

(Ответ на третий вопрос засчитывается только при правильном указании изменения спроса и равновесной цены.)

Элементы ответа могут быть представлены в других формулировках

..

На графике изображено изменение ситуации на потребительском рынке отечественных моторных лодок в стране Z. Кривая спроса переместилась из положения D в положение D1 при неизменном предложении S. (На графике P – цена товара; Q – количество товара).

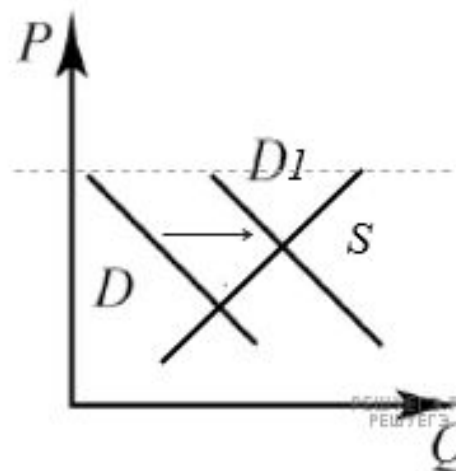
Как изменилась равновесная цена?

Что могло вызвать изменение спроса?

Укажите любое одно обстоятельство (фактор) и объясните его влияние на спрос.

(Объяснение должно быть дано применительно к рынку, указанному в тексте задания.)

Как изменятся предложение и равновесная цена на данном рынке после начала выделения властями государства Z дотаций заводам-производителям отечественных моторных лодок при прочих равных условиях?





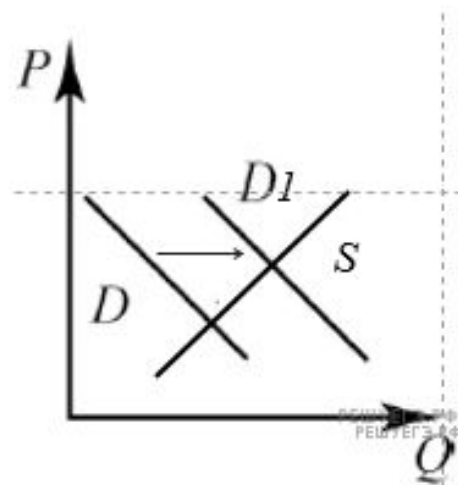
На графике изображено изменение ситуации на потребительском рынке отечественных моторных лодок в стране Z. Кривая спроса переместилась из положения D в положение D1 при неизменном предложении S. (На графике P – цена товара; Q – количество товара).

Как изменилась равновесная цена?

Что могло вызвать изменение спроса?

Укажите любое одно обстоятельство (фактор) и объясните его влияние на спрос. (Объяснение должно быть дано применительно к рынку, указанному в тексте задания.)

Как изменятся предложение и равновесная цена на данном рынке после начала выделения властями государства Z дотаций заводам-производителям отечественных моторных лодок при прочих равных условиях?



### Пояснение.

В правильном ответе должны быть следующие элементы:

1) ответ на первый вопрос: равновесная цена выросла;

2) ответ на второй вопрос (одно обстоятельство (фактор) с объяснением влияния), например: в государстве Z из-за протекционистской политики властей выросла цена на иностранные моторные лодки. Это приводит к тому, что люди начинают меньше покупать их, отдавая предпочтение их субститутам (товарам-заменителям) — отечественным моторным лодкам. В итоге растет спрос на отечественные моторные лодки;

(Может быть названо и объяснено другое обстоятельство / другой фактор.)

Засчитывается только объяснение, данное применительно к рынку, указанному в тексте задания.

Ответ на второй вопрос засчитывается только при правильном указании обстоятельства/фактора и объяснения).

3) ответ на третий вопрос: начало выделения властями государства Z дотаций отечественным заводам-производителям моторных лодок позволило им покрыть долги и модернизировать оборудование, что сократило издержки на производство отечественных моторных лодок и привело к увеличению их предложения и сокращению равновесной цены.

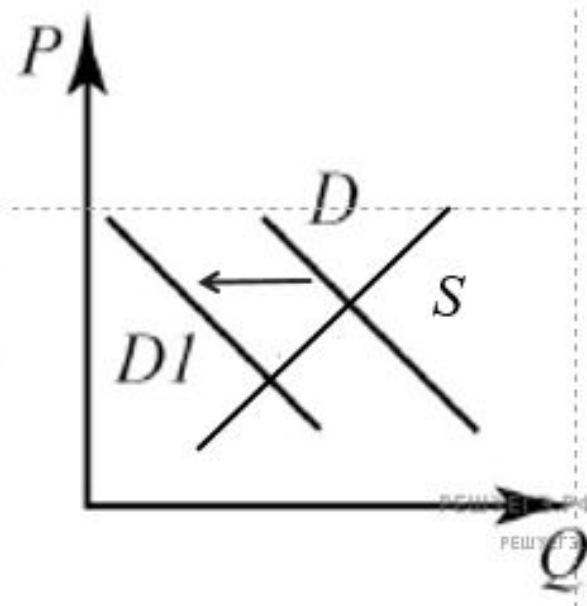
(Ответ на третий вопрос засчитывается только при правильном указании изменения спроса и равновесной цены.)

Элементы ответа могут быть представлены в других формулировках

Задача 1.1

На графике изображено изменение ситуации на потребительском рынке пассажирских железнодорожных перевозок в стране Z. Кривая спроса переместилась из положения D в положение D1 при неизменном предложении S. (На графике P – цена товара; Q – количество товара).

- Как изменилась равновесная цена?
- Что могло вызвать изменение спроса?
- Укажите любое одно обстоятельство (фактор) и объясните его влияние на спрос. (Объяснение должно быть дано применительно к рынку, указанному в тексте задания.)
- Как изменятся предложение и равновесная цена на данном рынке в условиях появления нового крупного оператора железнодорожных перевозок на рынке государства Z при прочих равных условиях?



### Задание 11.11.11

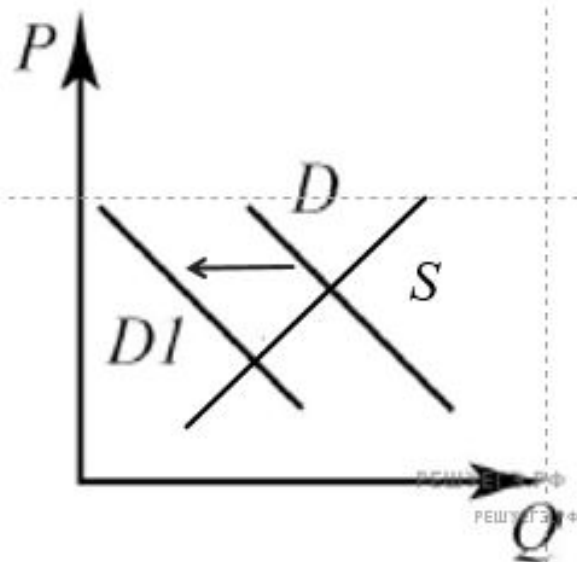
На графике изображено изменение ситуации на потребительском рынке пассажирских железнодорожных перевозок в стране Z. Кривая спроса переместилась из положения D в положение D1 при неизменном предложении S. (На графике P – цена товара; Q – количество товара).

Как изменилась равновесная цена?

Что могло вызвать изменение спроса?

Укажите любое одно обстоятельство (фактор) и объясните его влияние на спрос. (Объяснение должно быть дано применительно к рынку, указанному в тексте задания.)

Как изменятся предложение и равновесная цена на данном рынке в условиях появления нового крупного оператора железнодорожных перевозок на рынке государства Z при прочих равных условиях?



### Пояснение.

В правильном ответе должны быть следующие элементы:

1) ответ на первый вопрос: равновесная цена сократилась;

2) ответ на второй вопрос (одно обстоятельство (фактор) с объяснением влияния), например: в государстве Z произошла отмена льготных тарифов для пенсионеров и школьников на услуги, предоставляемые пассажирскими компаниями, специализирующимися на железнодорожных перевозках. Это приводит к тому, что люди начинают меньше покупать билеты на поезда, отдавая предпочтение их альтернативе, где действуют скидки, в итоге сокращается спрос на услуги пассажирских железнодорожных перевозок;

(Может быть названо и объяснено другое обстоятельство / другой фактор.)

Засчитывается только объяснение, данное применительно к рынку, указанному в тексте задания.

Ответ на второй вопрос засчитывается только при правильном указании обстоятельства/фактора и объяснения).

3) ответ на третий вопрос: появление нового крупного оператора железнодорожных перевозок на рынке государства Z приведёт к увеличению предложения и сокращению равновесной цены.

(Ответ на третий вопрос засчитывается только при правильном указании изменения спроса и равновесной цены.)

Элементы ответа могут быть представлены в других формулировках



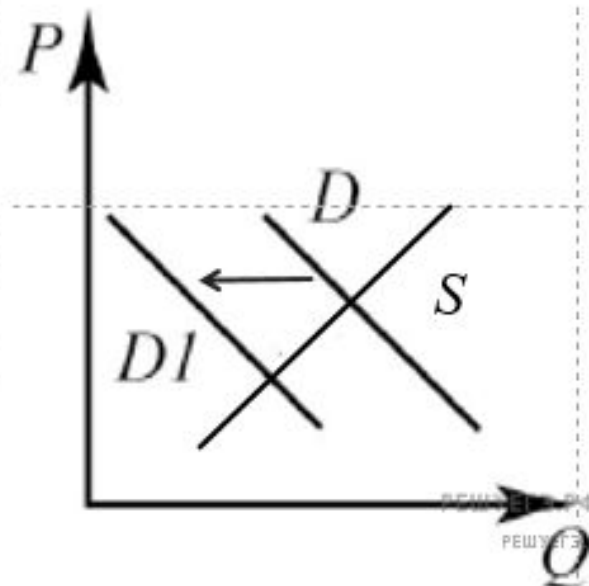
На графике изображено изменение ситуации на потребительском рынке вторичного жилья в стране Z. Кривая спроса переместилась из положения D в положение D1 при неизменном предложении S. (На графике P – цена товара; Q – количество товара).

Как изменилась равновесная цена?

Что могло вызвать изменение спроса?

Укажите любое одно обстоятельство (фактор) и объясните его влияние на спрос. (Объяснение должно быть дано применительно к рынку, указанному в тексте задания.)

Как изменятся предложение и равновесная цена на данном рынке в условиях увеличения числа риэлторских компаний при прочих равных условиях?



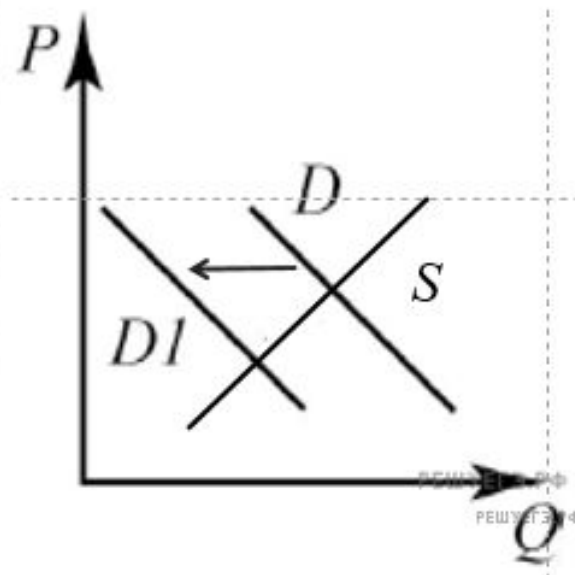
На графике изображено изменение ситуации на потребительском рынке вторичного жилья в стране Z. Кривая спроса переместилась из положения D в положение D1 при неизменном предложении S. (На графике P – цена товара; Q – количество товара).

Как изменилась равновесная цена?

Что могло вызвать изменение спроса?

Укажите любое одно обстоятельство (фактор) и объясните его влияние на спрос. (Объяснение должно быть дано применительно к рынку, указанному в тексте задания.)

Как изменятся предложение и равновесная цена на данном рынке в условиях увеличения числа риэлторских компаний при прочих равных условиях?



#### Пояснение.

В правильном ответе должны быть следующие элементы:

1) ответ на первый вопрос: равновесная цена сократилась;

2) ответ на второй вопрос (одно обстоятельство (фактор) с объяснением влияния), например: в государстве Z экономический кризис — происходит падение реальных доходов населения, это приводит к тому, что люди начинают отказываться от идеи покупки жилья на вторичном рынке, сокращается спрос на него;

(Может быть названо и объяснено другое обстоятельство / другой фактор.)

Засчитывается только объяснение, данное применительно к рынку, указанному в тексте задания.

Ответ на второй вопрос засчитывается только при правильном указании обстоятельства/фактора и объяснения).

3) ответ на третий вопрос: увеличение числа риэлторских компаний приведёт к увеличению предложения и уменьшению равновесной цены.

(Ответ на третий вопрос засчитывается только при правильном указании изменения спроса и равновесной цены.)

Элементы ответа могут быть представлены в другой формулировке.

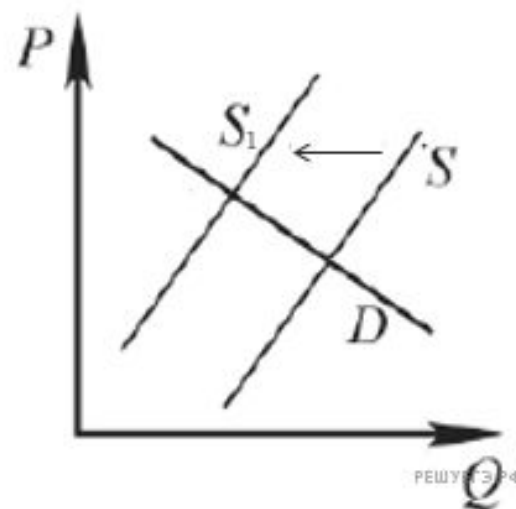
На графике изображено изменение ситуации на потребительском рынке ремонтно-строительных услуг в стране Z. Кривая предложения переместилась из положения S в положение S1 при неизменном спросе D. (На графике P – цена товара; Q – количество товара).

Как изменилась равновесная цена?

Что могло вызвать изменение предложения?

Укажите любое одно обстоятельство (фактор) и объясните его влияние на предложение. (Объяснение должно быть дано применительно к рынку, указанному в тексте задания.)

Как изменятся спрос и равновесная цена на данном рынке в условиях роста доходов потребителей при прочих равных условиях?



РЕШУЭГЭФ

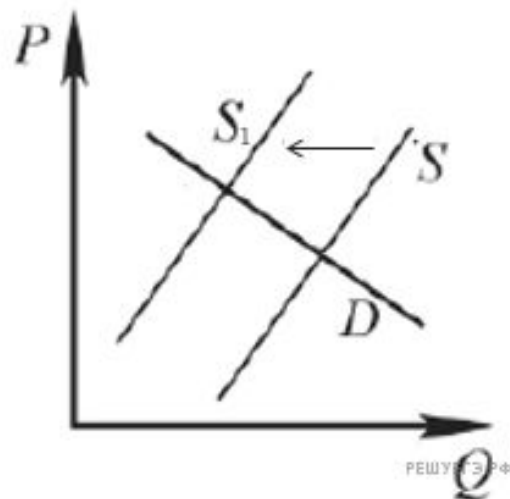
На графике изображено изменение ситуации на потребительском рынке ремонтно-строительных услуг в стране Z. Кривая предложения переместилась из положения S в положение S1 при неизменном спросе D. (На графике P – цена товара; Q – количество товара).

Как изменилась равновесная цена?

Что могло вызвать изменение предложения?

Укажите любое одно обстоятельство (фактор) и объясните его влияние на предложение. (Объяснение должно быть дано применительно к рынку, указанному в тексте задания.)

Как изменятся спрос и равновесная цена на данном рынке в условиях роста доходов потребителей при прочих равных условиях?



### Пояснение.

В правильном ответе должны быть следующие элементы:

1) ответ на первый вопрос: равновесная цена выросла;

2) ответ на второй вопрос (одно обстоятельство (фактор) с объяснением влияния), например: из-за закрытия государственной программы выдачи льготных кредитов организациям, занимающимся строительством и ремонтом, оказание их услуг стало менее выгодным, что привело к сокращению их предложения;

(Может быть названо и объяснено другое обстоятельство / другой фактор.)

Засчитывается только объяснение, данное применительно к рынку, указанному в тексте задания.

Ответ на второй вопрос засчитывается только при правильном указании обстоятельства/фактора и объяснения).

3) ответ на третий вопрос: рост доходов потребителей приведёт к увеличению спроса и увеличению равновесной цены.

(Ответ на третий вопрос засчитывается только при правильном указании изменения спроса и равновесной цены.)

Элементы ответа могут быть представлены в других формулировках

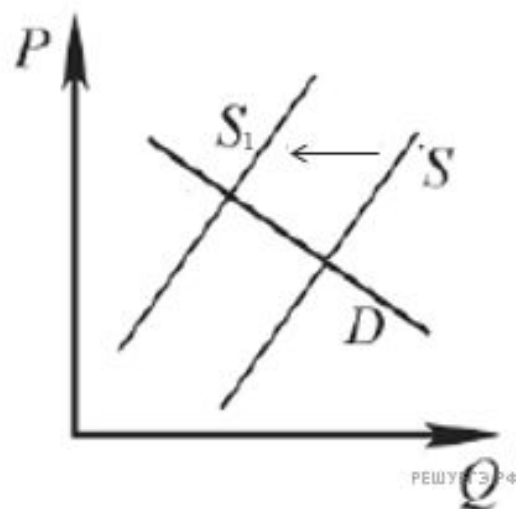
На графике изображено изменение ситуации на потребительском рынке обуви в стране Z. Кривая предложения переместилась из положения S в положение S1 при неизменном спросе D. (На графике P – цена товара; Q – количество товара).

Как изменилась равновесная цена?

Что могло вызвать изменение предложения?

Укажите любое одно обстоятельство (фактор) и объясните его влияние на предложение. (Объяснение должно быть дано применительно к рынку, указанному в тексте задания.)

Как изменятся спрос и равновесная цена на данном рынке, если вырастет число потребителей при прочих равных условиях?



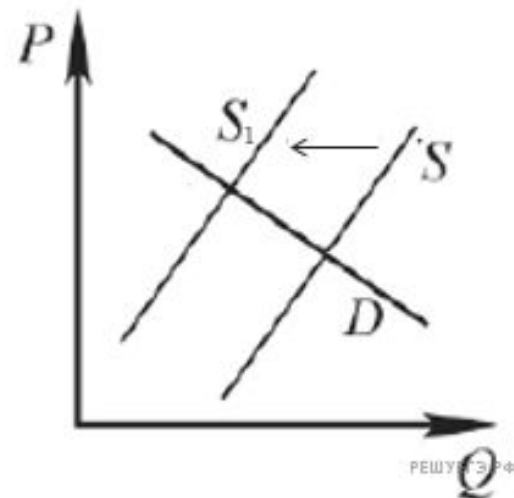
На графике изображено изменение ситуации на потребительском рынке обуви в стране Z. Кривая предложения переместилась из положения S в положение S1 при неизменном спросе D. (На графике P – цена товара; Q – количество товара).

Как изменилась равновесная цена?

Что могло вызвать изменение предложения?

Укажите любое одно обстоятельство (фактор) и объясните его влияние на предложение. (Объяснение должно быть дано применительно к рынку, указанному в тексте задания.)

Как изменятся спрос и равновесная цена на данном рынке, если вырастет число потребителей при прочих равных условиях?



#### Пояснение.

В правильном ответе должны быть следующие элементы:

1) ответ на первый вопрос: равновесная цена выросла;

2) ответ на второй вопрос (одно обстоятельство (фактор) с объяснением влияния), например: благодаря резкому удорожанию используемого сырья и фурнитуры издержки на производство обуви выросли, что привело к сокращению их предложения;

(Может быть названо и объяснено другое обстоятельство / другой фактор.)

Засчитывается только объяснение, данное применительно к рынку, указанному в тексте задания.

Ответ на второй вопрос засчитывается только при правильном указании обстоятельства/фактора и объяснения).

3) ответ на третий вопрос: рост числа потребителей приведёт к увеличению спроса и увеличению равновесной цены.

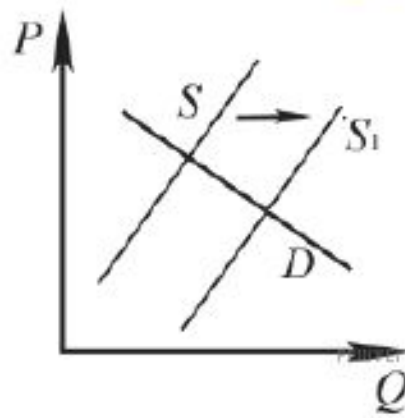
(Ответ на третий вопрос засчитывается только при правильном указании изменения спроса и равновесной цены.)

Элементы ответа могут быть представлены в других формулировках



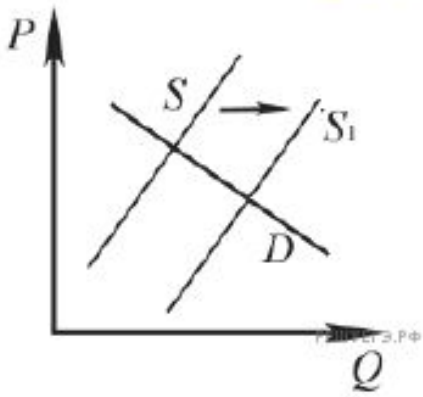
На графике изображено изменение ситуации на рынке парикмахерских услуг в стране Z. Кривая предложения переместилась из положения S в положение S1 при неизменном спросе D. (На графике P – цена товара; Q – количество товара).

- Как изменилась равновесная цена?
- Что могло вызвать изменение предложения?
- Укажите любое одно обстоятельство (фактор) и объясните его влияние на предложение. (Объяснение должно быть дано применительно к рынку, указанному в тексте задания.)
- Как изменятся спрос и равновесная цена на данном рынке, если вырастут доходы населения при прочих равных условиях?





На графике изображено изменение ситуации на рынке парикмахерских услуг в стране Z. Кривая предложения переместилась из положения S в положение S1 при неизменном спросе D. (На графике P – цена товара; Q – количество товара).



- Как изменилась равновесная цена?
- Что могло вызвать изменение предложения?
- Укажите любое одно обстоятельство (фактор) и объясните его влияние на предложение. (Объяснение должно быть дано применительно к рынку, указанному в тексте задания.)
- Как изменятся спрос и равновесная цена на данном рынке, если вырастут доходы населения при прочих равных условиях?

**Пояснение.**

- В правильном ответе должны быть следующие элементы:
- 1) ответ на первый вопрос: равновесная цена уменьшилась;
  - 2) ответ на второй вопрос (одно обстоятельство (фактор) с объяснением влияния), например: благодаря появлению на рынке более дешёвой и качественной косметики, которую используют в салонах красоты для оказания парикмахерских услуг, сократились издержки на них, что привело к росту предложения данных услуг; (Может быть названо и объяснено другое обстоятельство / другой фактор.) Засчитывается только объяснение, данное применительно к рынку, указанному в тексте задания. Ответ на второй вопрос засчитывается только при правильном указании обстоятельства/фактора и объяснения).
  - 3) ответ на третий вопрос: рост доходов населения приведёт к увеличению спроса и увеличению равновесной цены. (Ответ на третий вопрос засчитывается только при правильном указании изменения спроса и равновесной цены.) Элементы ответа могут быть представлены в других формулировках