

*Расположите числа в порядке
возрастания .*

- 13, 5, 18, 20, 15, 8

Расположите числа в порядке убывания.

- 13, 5, 18, 20, 15, 9

Сколько единиц в числе?

• 8, 12, 16, 10,

Сколько десятков в числе ?

- 12, 21, 34, 86, 40

Запишите числа.

- 1 дес. 5 ед.
- 7 ед.
- 2 дес. 3 ед.
- 1 дес.
- 5 дес. 5 ед.

Разложите числа на сумму разрядных слагаемых.

- 12 =
- 21 =
- 10 =
- 13 =

Реши задачи.

- В коробке было 20 конфет. 4 конфеты съели за завтраком. Сколько конфет осталось в коробке?
- У Миши 17 марок, ему подарили еще 3 марки. Сколько марок стало у Миши?
- Маша купила 8 пирожных, а Ира 7 пирожных. На сколько больше пирожных купила Маша, чем Ира?

Найди **сумму** чисел

- 12 и 4 8 и 5 7 и 6
- 5 и 5 9 и 8 6 и 5

Найди **разность** чисел

- 10 и 4 12 и 4 13 и 8
- 11 и 5 14 и 7 16 и 8

Вставь нужные знаки.





$$8 \dots 2 \dots 2 = 12$$




$$6 \dots 7 \dots 3 = 10$$




$$5 \dots 9 \dots 6 = 20$$

Заполни таблицы.

1 слагаемое	5	4	6
2 слагаемое	3 <input type="text"/>	5 <input type="text"/>	3 <input type="text"/>
сумма	<input type="text"/>	<input type="text"/>	<input type="text"/>

1 слагаемое	5	4	6
2 слагаемое	3 		
сумма		6	10

уменьшае мое	5	4	6
вычитаемо е	3 	2 	3 
разность			

уменьшае мое	5	4	
вычитаемо е			3
разность	2	1	4