

# Угол. Виды углов

## Урок № 69



*Школа России*  
*Математика 2 класс*





*Устный счёт*

Реши задачу: К пальто пришили **10** пуговиц, а к плащу на **2** пуговицы меньше. Сколько всего пуговиц пришили к пальто и плащу вместе?



$$10 + (10 - 2) = 18 \text{ (п.)}$$

**18**



**ПУГОВИЦ**

Для орнамента взяли **12** жёлтых пуговиц, **6** коричневых и **4** белых. На сколько больше пуговиц жёлтых, чем белых и коричневых?

$$12 - (6 + 4) = 2 \text{ (п.)}$$

на 2 пуговицы

больше



Найди ошибки.



$$\begin{array}{r} 78 \\ - 43 \\ \hline 35 \end{array}$$

$$\begin{array}{r} 26 \\ + 61 \\ \hline 98 \end{array}$$

$$\begin{array}{r} 78 \\ - 35 \\ \hline 33 \end{array}$$



|   | 1  | 2  | 3  | 4  | 5  | 6  |
|---|----|----|----|----|----|----|
| 1 | 10 | 27 | 30 | 36 | 20 | 40 |
| 2 | 19 | 57 | 40 | 37 | 23 | 56 |
| 3 | 15 | 67 | 50 | 39 | 25 | 84 |
| 4 | 18 | 37 | 60 | 34 | 29 | 33 |

Из каждого числа первого столбца вычитите **10** и  
результат

увеличьте на **2**

|   | 1  | 2  | 3  | 4  | 5  | 6  |
|---|----|----|----|----|----|----|
| 1 | 10 | 27 | 30 | 36 | 20 | 40 |
| 2 | 19 | 57 | 40 | 37 | 23 | 56 |
| 3 | 15 | 67 | 50 | 39 | 25 | 84 |
| 4 | 18 | 37 | 60 | 34 | 29 | 33 |

Из каждого числа третьего столбца вычитите **20** и  
результат

уменьшите на **5**

# Проверь ответы:

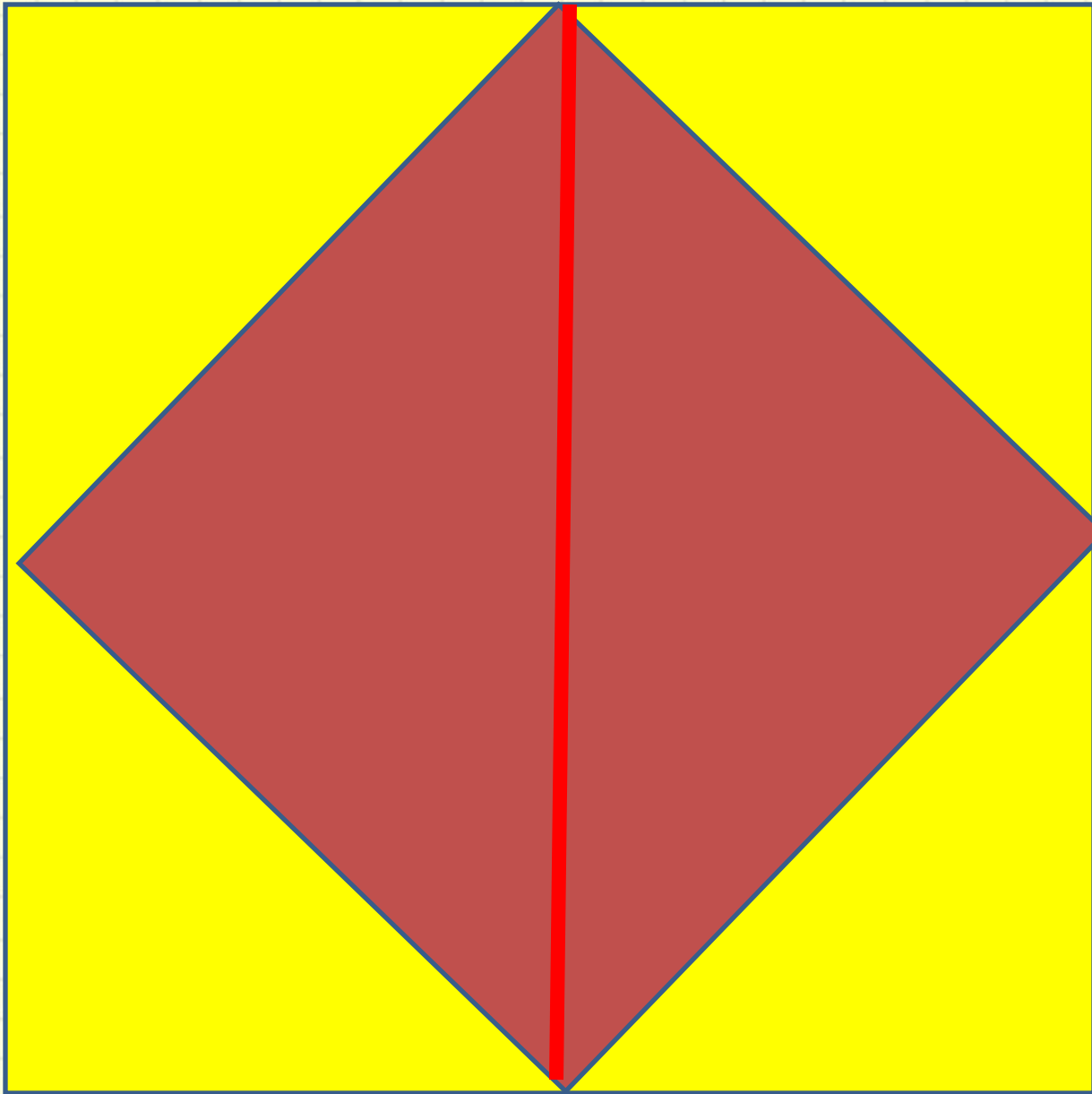


2 11 7 10

5 15 25 35


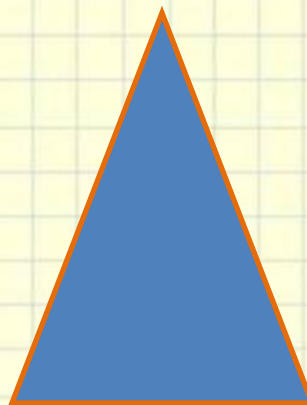








Сосчитай треугольники, квадраты. Какие ещё видишь фигуры?

На какие 2 группы можно разделить  
фигуры?



# Задания на смекалку




Разгадай ребус.



аист

А



100

# Физкультминутка

**Яблоня в моем саду  
Гнется низко на ветру.  
Наклонилась вправо, влево  
Покачаться захотела.  
Ветки вниз и вверх качнула  
И вперед их протянула.  
А как стихнет ветерок,  
Моя яблонька заснет.**

