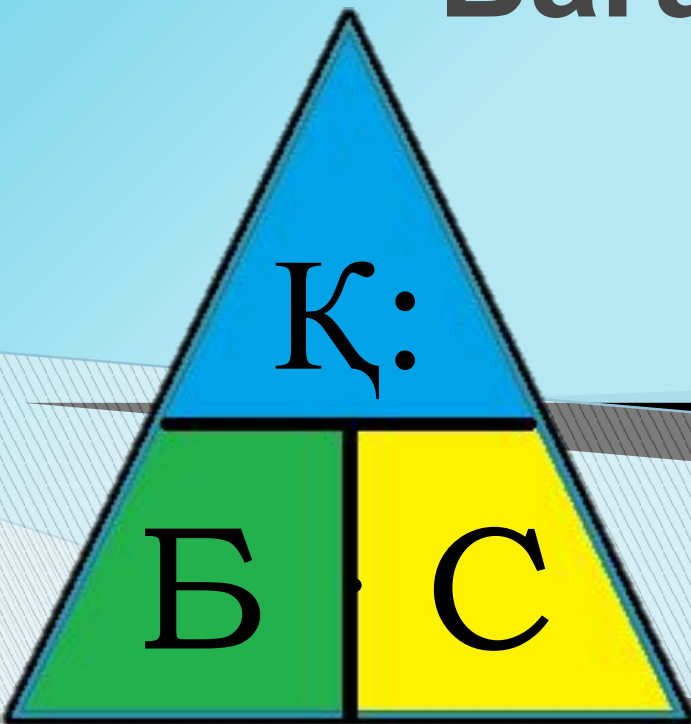


Бағасы. Саны. Құны

№ 58 сабақ



Ауызша есептеу «Қақпаға дөп соқ»

24



28

27

50 ТЕНГЕГЕ НЕ САТЫП АЛУҒА БОЛАДЫ?



40 ТҒ.



35 ТҒ.



40 ТҒ.



8 ТҒ.



4 ТҒ.



5 ТҒ.



50 ТЕНГЕГЕ НЕ САТЫП АЛУҒА БОЛАДЫ?



40 ТҒ.



8 ТҒ.



50 ТЕНГЕГЕ НЕ САТЫП АЛУҒА БОЛАДЫ?



40 ТҒ.



4 ТҒ.



5 ТҒ.



50 ТЕНГЕГЕ НЕ САТЫП АЛУҒА БОЛАДЫ?



40 ТТ.



4 ТТ.



5 ТТ.



50 ТЕНГЕГЕ НЕ САТЫП АЛУҒА БОЛАДЫ?



8 ТҒ.



40 ТҒ.



50 ТЕНГЕГЕ НЕ САТЫП АЛУҒА БОЛАДЫ?



35 ТҒ.



8 ТҒ.



5 ТҒ.

50 ТЕНГЕГЕ НЕ САТЫП АЛУҒА БОЛАДЫ?



35 ТҒ.



8 ТҒ.



4 ТҒ.



50 ТЕНГЕГЕ НЕ САТЫП АЛУҒА БОЛАДЫ?



35 ТҒ.



4 ТҒ.



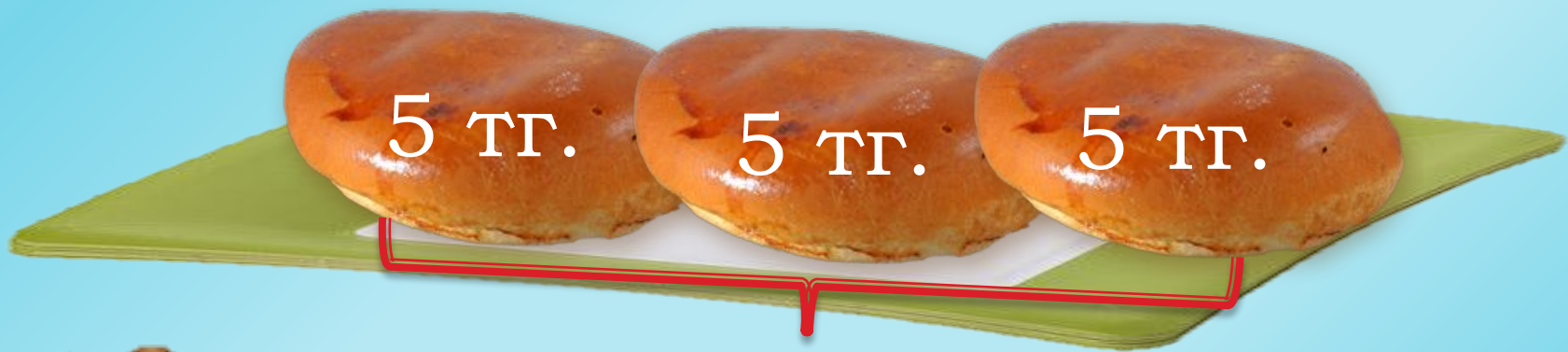
5 ТҒ.

Бір самсаның бағасы қанша?

Бағасы – 5 тг.

Неше самса сатып алды?

Саны – 3



Сатып алған 3 самсаға қанша ақша төледі?

$$5+5+5=15 \text{ (тг)}$$

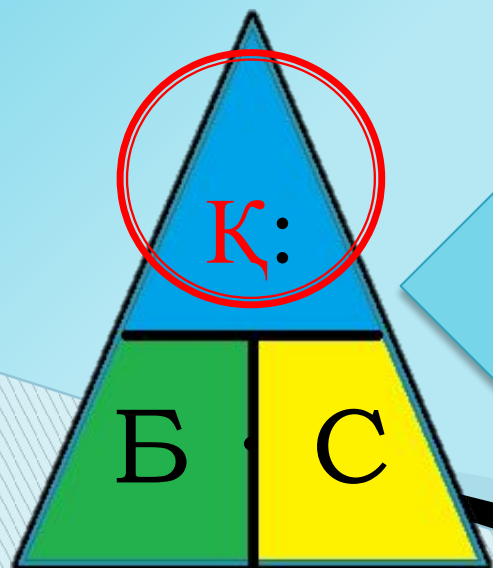
$$5 \cdot 3=15 \text{ (тг)}$$

Құны: 15 теңге



№2. Бір кәмпит **5 теңге** тұрады. 4 (6, 7, 8) кәмпит сатып алу үшін қанша ақша төлеу керек?

Бағасы	Саны	Құны
 5 теңге	4	$5 \cdot 4$
	6	$5 \cdot 6$
	7	$5 \cdot 7$
	8	$5 \cdot 8$



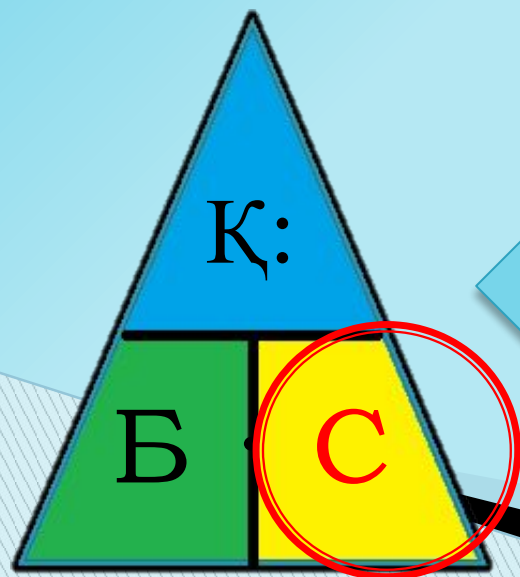
Тауардың **ҚҰНЫН** анықтау үшін, **БАҒАСЫН** оның **САНЫНА** көбейту керек.

$$Қ = Б \cdot С$$



№3. Сатып алынған тауарға 24 (32, 40, 48) теңге төленді.
Бір кәмпит 8 теңге тұрса, неше кәмпит сатып алынды?

Бағасы	Саны	Құны
 8 теңге	24 : 8	24 теңге
	32 : 8	32 теңге
	40 : 8	40 теңге
	48 : 8	48 теңге



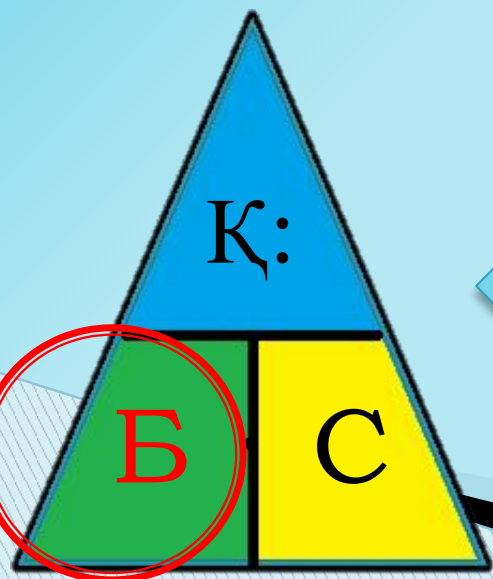
Сатып алынған тауардың
САНЫН анықтау үшін,
тауардың **ҚҰНЫН** оның
БАҒАСЫНА бөлу керек.

$$С = К : Б$$



№4. 4 кәмпитке 20 (28, 36, 32) теңге төленді.
Бір кәмпит қанша тұрады?

Бағасы	Саны	Құны
20 : 4		20 теңге
28 : 4		28 теңге
32 : 4		32 теңге
36 : 4		36 теңге



Сатып алынған тауардың
БАҒАСЫН анықтау үшін
тауардың **ҚҰНЫН** оның
САНЫНА бөлу керек.

$$Б = Қ : С$$



№5. Кесте бойынша есептер құрастырып, оларды шығар



	Бағасы	Саны	Құны
	9 теңге	3	9 · 3
	5 теңге	30 : 5	30 теңге
	48 : 6	6	48 теңге

№6. Сандардың арасындағы байланысты тап.
Көбейту мен бөлуге өрнектер құрастыр.

1	2	3	4	5	6	36	48	24
4	5	6						
7	8	9				54	42	32

$$6 \cdot 6 = 36$$

$$36 : 6 = 6$$



№7. Туісті сөзді таңда
(*артады/кемиді*)

<p>Саны бірдей</p>	<p>Бағасы артады</p> <p>Б1</p> <p>Б2</p>	<p>Құны артады</p> <p>Б1 Б1 Б1</p> <p>Б2 Б2 Б2</p>
<p>Бағасы бірдей</p> 	<p>Саны кемиді</p> <p>С1 Б Б Б Б</p> <p>С2 Б Б</p>	<p>Құны кемиді</p> <p>Қ1 Б Б Б Б</p> <p>Қ2 Б Б</p>
	<p>Құны кемиді</p> <p>Қ1 Б Б Б Б</p> <p>Қ2 Б Б</p>	<p>Саны кемиді</p> <p>С1 Б Б Б Б</p> <p>С2 Б Б</p>