



Математика

1 клас





Урок 32

СКЛАД ЧИСЛА 9. ПОРІВНЯННЯ ЧИСЕЛ У МЕЖАХ 9. ДОПОВНЕННЯ РІВНОСТЕЙ





Весела лічба

Сім зайчиків сидять
І траву вони їдять.
От іще два прискакали.
Скільки зайців порахували?



$$7 + 2 =$$

9





Весела лічба

Під дубочком п'ять
грибочків,
Під сосною їх чотири.
Скільки разом, полічили?

$$5 + 4 =$$

9





Весела лічба

Ось до класу на урок
Прилетіло 6 сорок.
Три пізніше прибуло.
Скільки всіх сорок було?

$$6 + 3 = 9$$





Робота з числовим віялом

Покажіть число
попереднє до числа 6.

Покажіть число, яке
наступне до числа 3.

Покажіть «сусідів» числа
8.

Покажіть наступне число
до числа 7.

Покажіть число,
попереднє до числа 5.





Гра «Знак загубився»

$$5 * 2 = 7$$

$$8 * 4 = 4$$

$$6 * 1 = 5$$

$$2 * 2 = 4$$

$$8 * 1 = 9$$

$$8 * 1 = 7$$



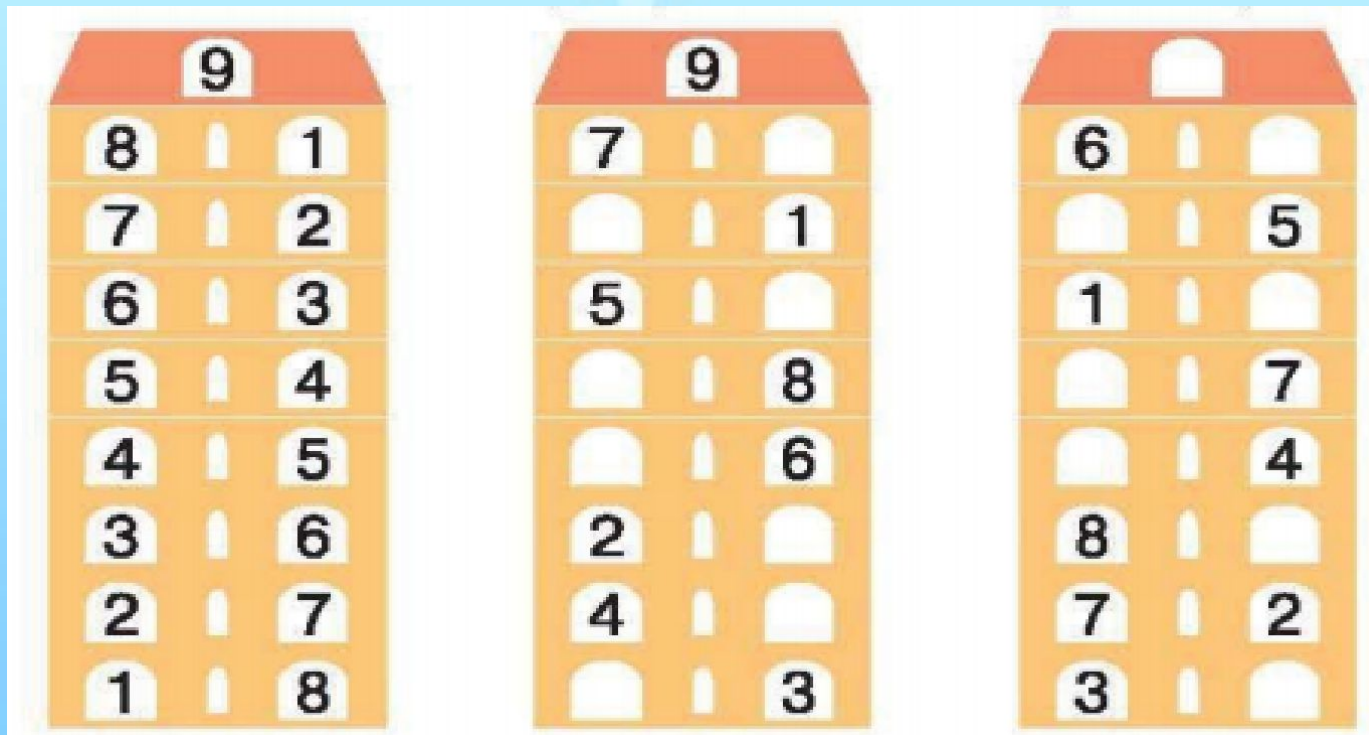
Повторення складу чисел 5-8



Завдання: розташувати парами яблука, що в сумі дають потрібне число, по деревах.



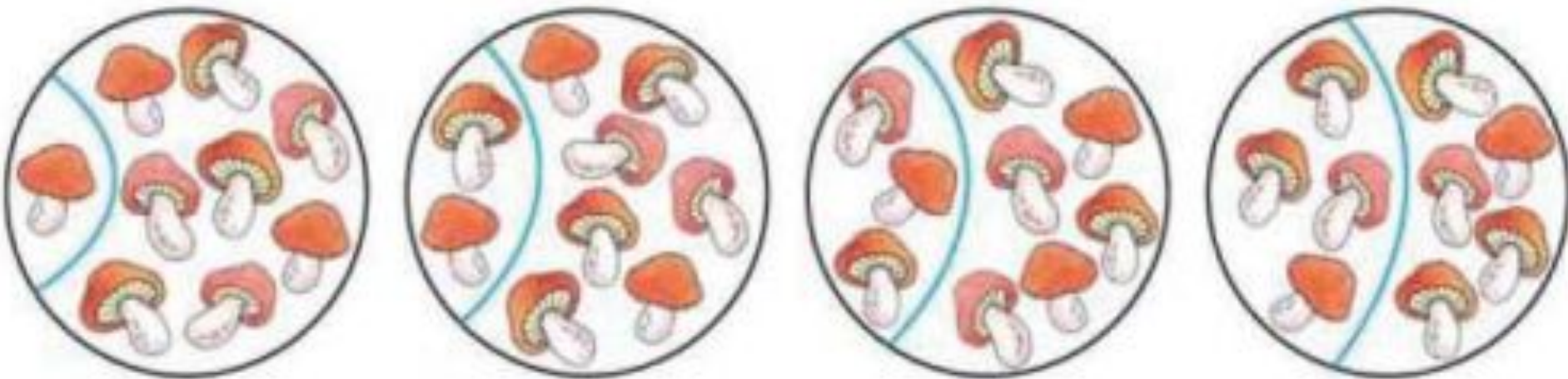
Числові будиночки



- 1) Які числа живуть у цих чарівних будиночках? Як ви здогадалися?
- 2) Перевірте, чи правильно заселили квартири у першому будиночку. Заселіть вільні квартири у другому будиночку.
- 3) Розгляньте третій будиночок. На якому поверсі немає вільних квартир?
- 4) Додайте числа, що мешкають на цьому поверсі.
- 5) Яке ж число живе у цьому будиночку? Заселіть вільні квартири.



Скільки грибочків у кожному кружечку?



На які два числа можна розкласти число 9?

•2 і 7

•3 і 6

•4 і 5



Склад числа 9. Робота з паличками різного кольору

Шляхом складання певної кількості паличок різного кольору визначити, як можна утворити число 9.

$$9=1+8$$

$$9=2+7$$

$$9=3+6$$

$$9=4+5$$

$$9=5+4$$

$$9=6+3$$

$$9=7+2$$

$$9=8+1$$





Порівняйте числа. Складіть нерівності. Запишіть їх у зошит.



$$2 < 6$$



Порівняйте числа. Складіть нерівності. Запишіть їх у зошит.



$$3 < 6$$



Порівняйте числа. Складіть нерівності. Запишіть їх у зошит.



$$4 > 2$$



Робота в парах

Порівняйте числа. Складіть нерівності. Запишіть їх у зошит

$$9 > 5$$

$$8 \bigcirc 9$$

$$7 \bigcirc 9$$

$$1 \bigcirc 9$$

$$9 \bigcirc 6$$

$$9 \bigcirc 9$$

Доповніть рівності. Які числа потрібно вставити?

$$7 + \square = 9$$


$$5 + \square = 9$$

$$4 + \square = 9$$

$$\square + 3 = 9$$



Куди повзе равлик?



- Скількома шляхами він може дістатися до сонечка?
- Яким шляхом равлик швидше дістанеться до сонечка?



Фізкультхвилинка




Музична фізкультхвилинка
«Розминка»



Гра «Яке число Загубилося»?

1 4 6 9

10 7 6 4 1



Гра «Чарівні фігурки». Робота з індивідуальним матеріалом

- Покладіть 9 квадратиків. Відсуньте 1 квадратик убік.
- Скільки квадратиків ліворуч? А скільки праворуч? Як можна одержати число 9?

Назвати усі випадки складу

$$9 = 8 + 1$$

$$9 = 7 + \square$$

$$9 = 6 + \square$$

$$9 = 5 + \square$$

Назвати, яке число згадується в лічилці, записати це число

Один я у тата й мами син.
Два в сорочці рукави.
Три цукерки у сестри.
Чотири — номер нашої квартири.
П'ять курчат в куточку сплять.
Шість котлет мій песик з'їсть.
Сім разів ударив грім.
Вісім груш знайшов я в лісі.
Дев'ять посадив дерев я.





Змагання «Хто спритніший»

Записати наступне число
до чисел

- 2
- 5
- 1
- 6
- 4
- 8
- 7
- 3

Записати попереднє число
для чисел

- 4
- 3
- 7
- 6
- 2
- 9





Порівняння чисел за ДОПОМОГОЮ малюнків

Записати числами кількість предметів, вставити між ними знак

$$9 > 5$$





Порівняння чисел за ДОПОМОГОЮ малюнків

Записати числами кількість предметів, вставити між ними знак

$$4 < 5$$





Логічна задача

В сім'ї 4 дітей: сестер стільки ж, скільки братів.
Скільки в сім'ї сестер?

$$4 = 2 + 2$$





РЕФЛЕКСІЯ

- Як одержати число 9?
- Назвіть всі відомі вам випадки

