

# КТО ЖИВЁТ В ВОДЕ


Фотоотчёт гр.  
«Подсолнушки»

Арсений Зинин

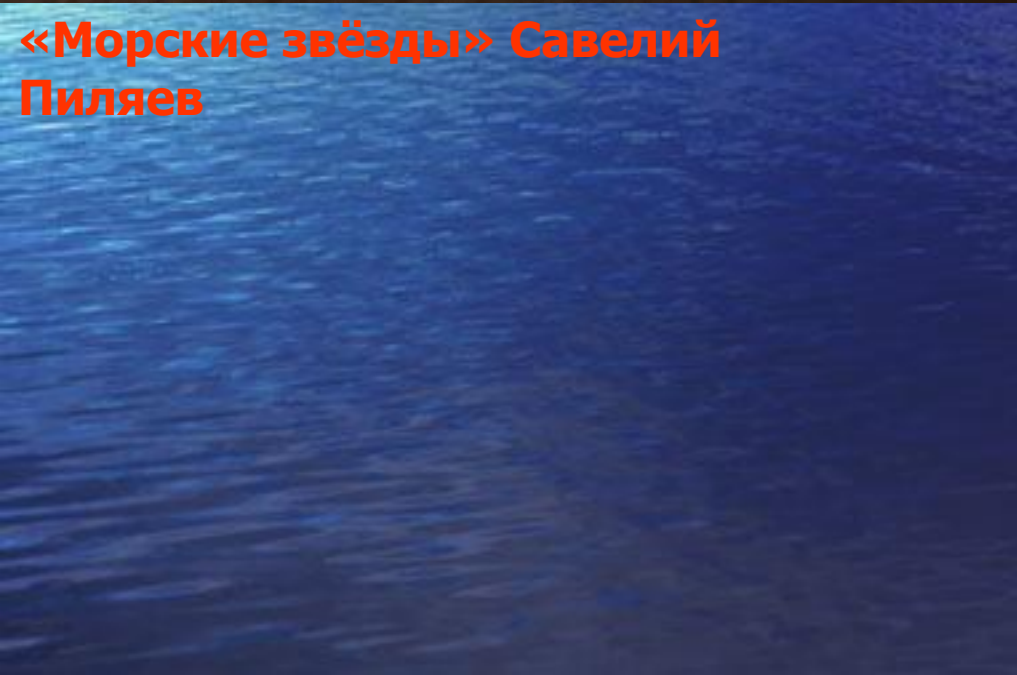


Иван Грисяк


**На морском дне**



**«Кораллы» Иван Грисяк**



**«Морские звёзды» Савелий  
Пиляев**





«Маша мечтает о море»

играем




читаем




# Домашнее задание по ФЭМП

Закрась только те геометрические фигуры, из которых состоит рыбка.

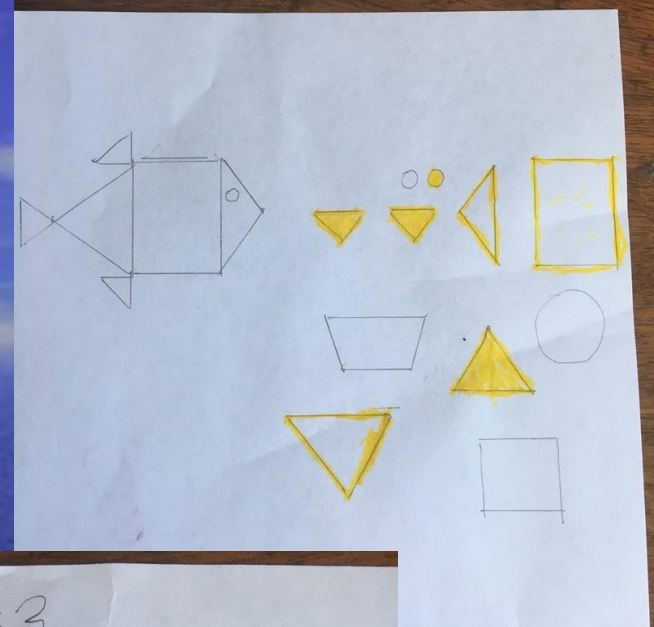


Раскрась ту башню, которая составлена из нарисованных слева геометрических фигур.



Зачеркни столько фигур, сколько обозначает вторая цифра. Напиши ответ.

	6-3=	<input type="text"/>
	7-2=	<input type="text"/>
	5-4=	<input type="text"/>
	9-1=	<input type="text"/>
	4-2=	<input type="text"/>
	6-1=	<input type="text"/>
	4-3=	<input type="text"/>
	7-5=	<input type="text"/>



Маша Игнатьева

• Реши примеры на сложение и вычитание.

	1+4=5	3+3=6
	5-3=2	6-3=3
	5-2=3	3+3=6
	3+2=5	6-3=3
	5+0=5	6-2=4
	5-4=1	4+2=6
	2+3=5	6-4=2
	4+1=5	6-5=1
	0+5=5	6-1=5
	5+1=6	1+5=6
	6+0=6	0+6=6

• Посчитай морских обитателей. Запиши результаты в квадратиках.

Морские звезды	<input type="text"/>	+	<input type="text"/>	=	<input type="text"/>
маленькие			большие		
Рыбки	<input type="text"/>	+	<input type="text"/>	=	<input type="text"/>
пятнастые			полосатые		
Медузы	<input type="text"/>	+	<input type="text"/>	=	<input type="text"/>
веселые			грустные		

6-3=3  
 7-2=5  
 5-4=1  
 9-1=8  
 4-2=2  
 0-1=5  
 4-3=1  
 7-5=2

Саша Мещер

МОЛОДИЦЫ!

