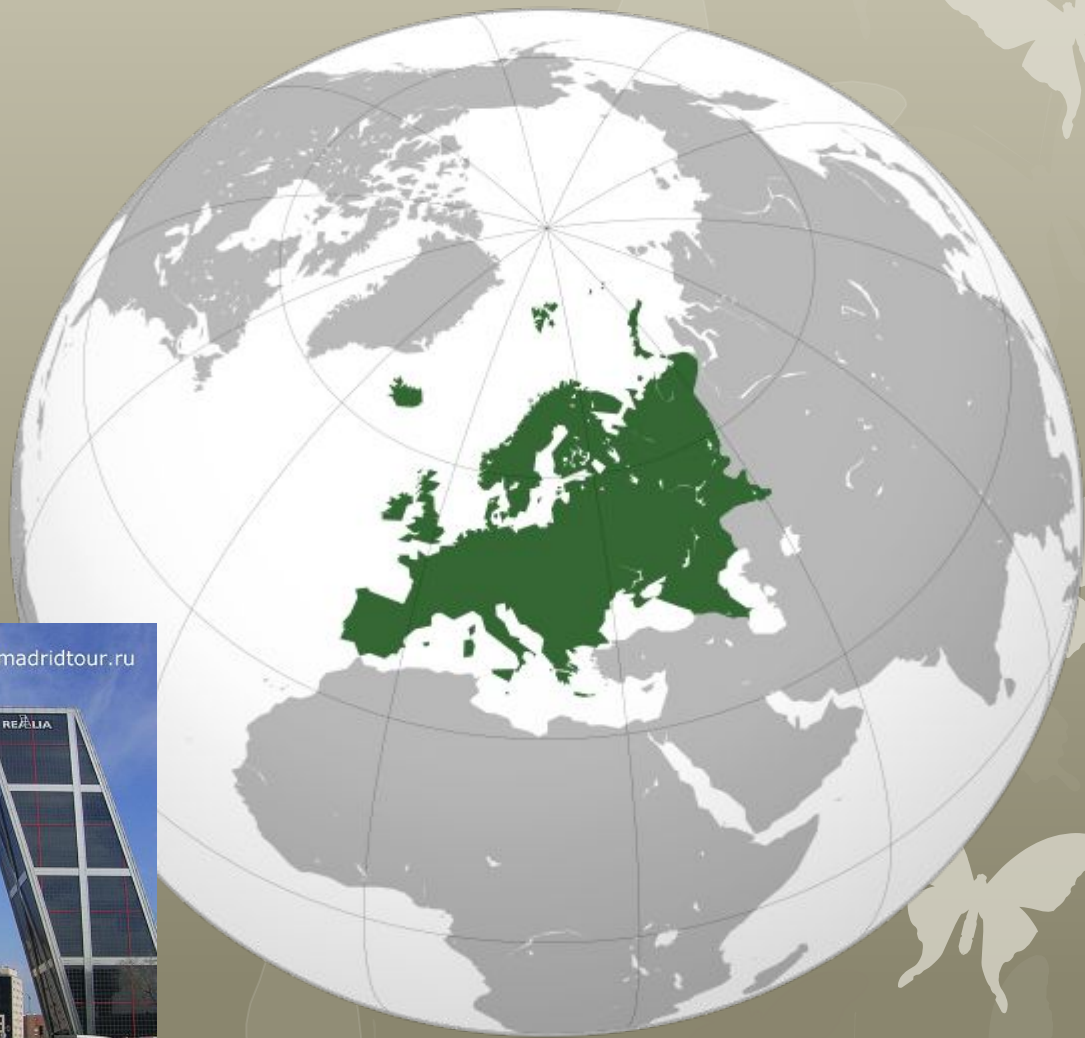


Країни Європи

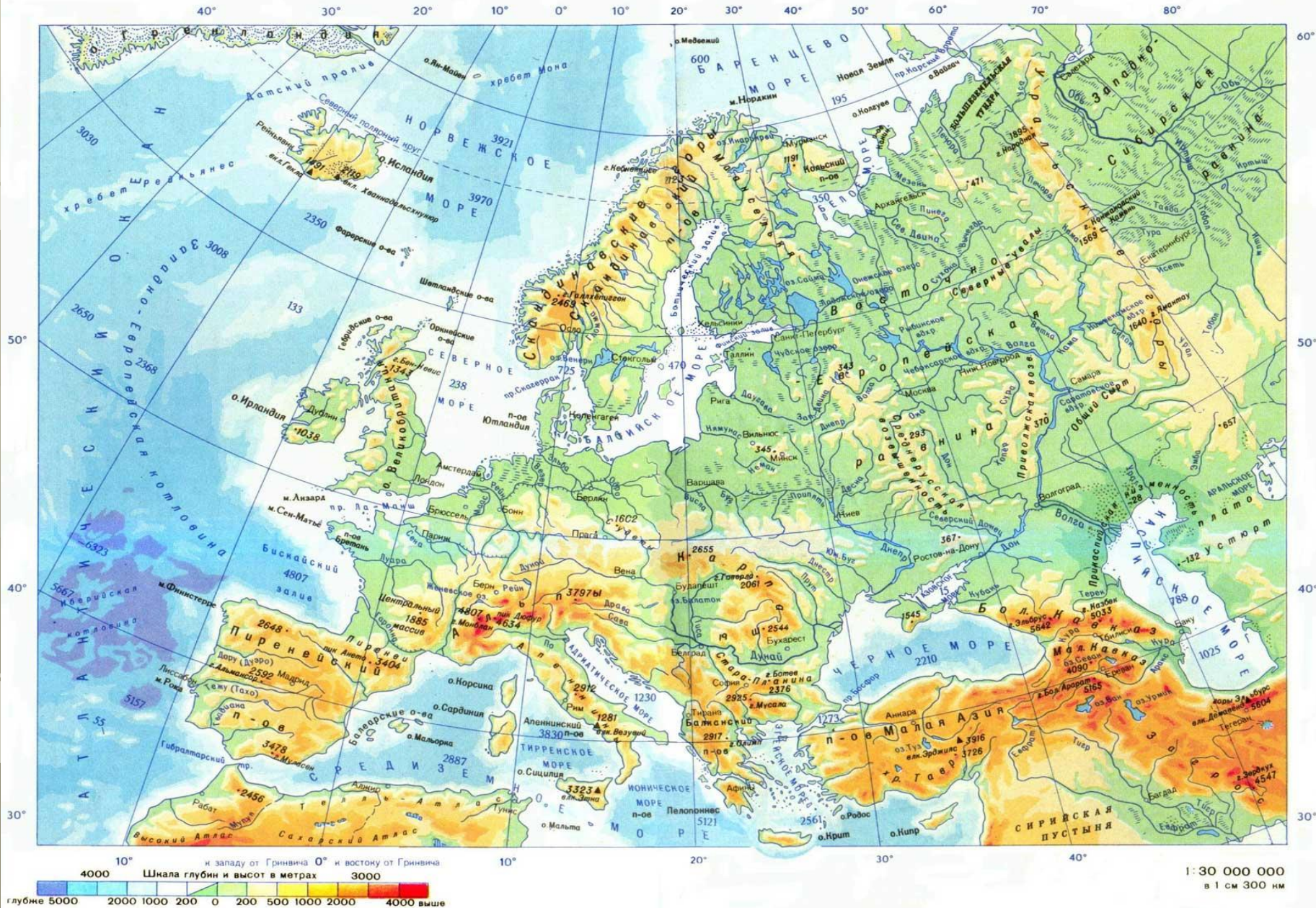
Вторинний та третинний сектори.



Мадрид Ворота в Європу



Фізична карта

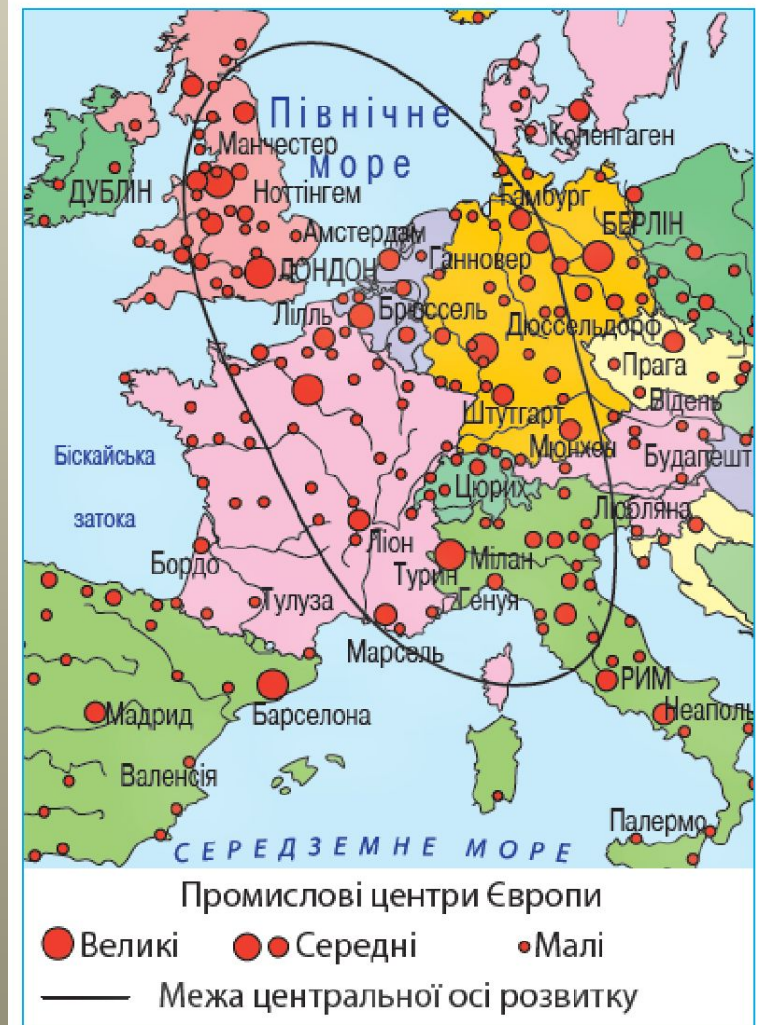


Пригадайде

1. Пригадайте основні ознаки регіональної інтеграції країн Європейського Союзу.
2. Поміркуйте, які особливості економіки країн Європи зумовлено регіональною інтеграцією.
3. Поясніть, як країни, що не входять до складу ЄС, залучені до загальноєвропейської економічної системи.
4. Знаючи особливості природних умов різних частин Європи, наведіть приклади країн з різними типами сільського господарства.
5. До якого типу найближче за все сільське господарство України?

Географічна розминка

1. Пригадайте основні ознаки регіональної інтеграції країн Європейського Союзу.
2. Поміркуйте, які особливості економіки країн Європи зумовлено регіональною інтеграцією.
3. Поясніть, як країни, що не входять до складу ЄС, залучені до загальноєвропейської економічної системи.




Мал. 16. Центральна вісь розвитку Європи

▶ За політичною картою Європи назвіть країни, територією яких проходить «центральна вісь розвитку».

ЗМІСТ УРОКУ

ПЛАН ЛЕКЦІЇ

1. Переробна промисловість Європи.
 - Виробництво електроенергії.
 - Металургійне виробництво.
 - Виробництво машин та устаткування.
 - Хімічне виробництво.
2. Виробництво деревини, паперу.
3. Виробництво тканин, одягу, взуття.
4. Виробництво харчових продуктів, напоїв.
5. Сфера послуг у країнах Європи:
 - Транспорт.
 - Фінансова діяльність
 - Освіта й наукова діяльність.
 - Міжнародний туризм.
 - Торгівля.
6. Основні регіони промисловості Європи.
7. Економічні зв'язки України з країнами Європи.



а)



б)



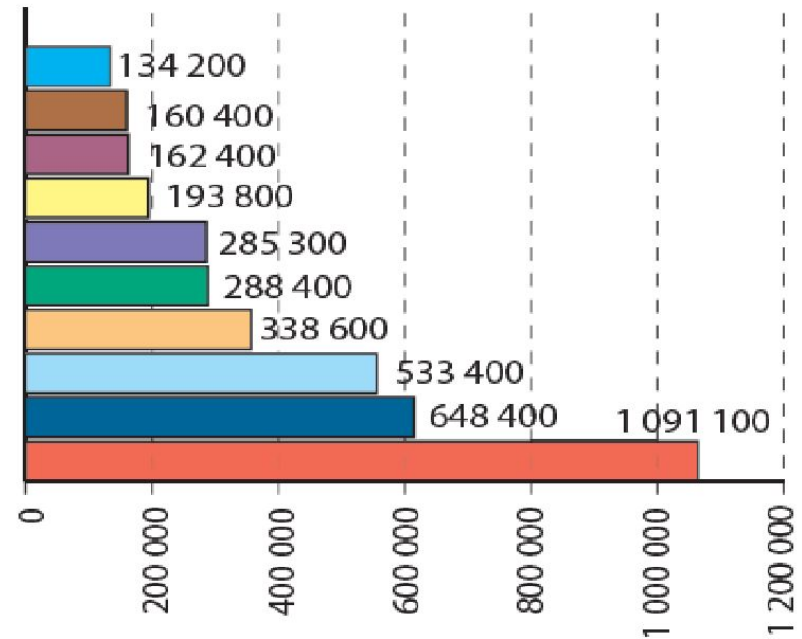
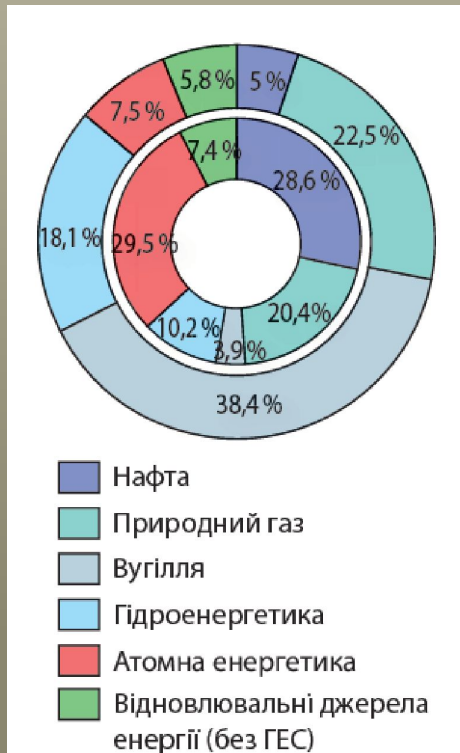
в)

- а) Салон сучасного літака «Airbus A380»
б) міні-електромобіль «Renault Twizy 2017»
в) вантажний автомобіль «Scania»

Вторинний сектор економіки

Проаналізуйте гістограму топ-10 країн Європи за виробництвом електроенергії

(мал. 19). З'ясуйте, в яких субрегіонах Європи розташовані ці країни.



- Росія – 4*
- Німеччина – 7
- Франція – 9
- Велика Британія – 11
- Італія – 14
- Іспанія – 15
- Україна – 22
- Польща – 24
- Швеція – 25
- Норвегія – 26

* Місце країни у світовому рейтингу за виробництвом електроенергії

Мал. 19. Топ-10 країн Європи за виробництвом електроенергії, ГВт·г



Назвіть відомі вам марки автомобілів. Чи знаєте ви, у яких країнах їх випускають?

Найбільші автомобільні компанії Європи

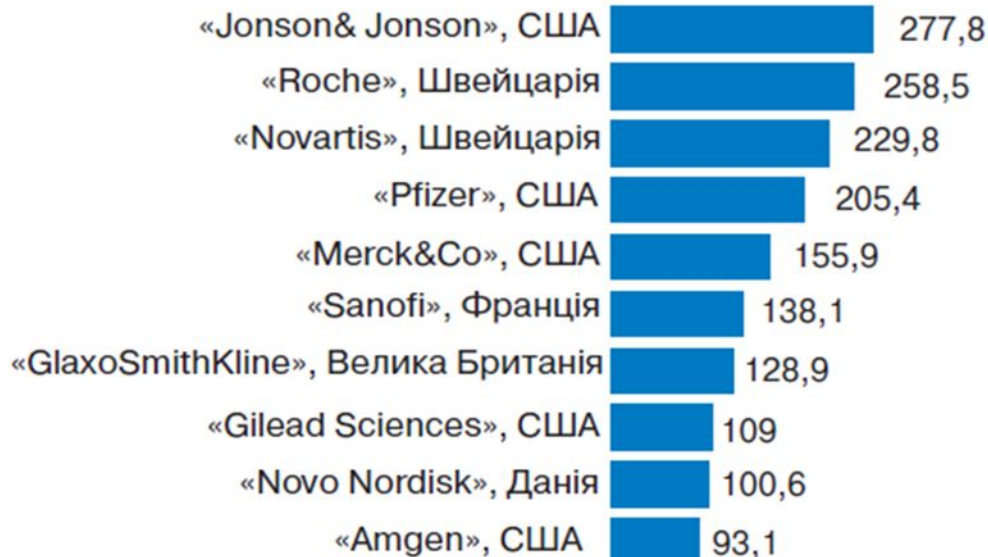
Ранг у Європі	Ранг у світі	Назва компанії	Країна	Випуск авто у 2015 р.
1	2	«Volkswagen Group»	Німеччина	9 872 424
2	7	«Fiat Chrysler»	Італія, США	4 865 233
3	10	«Renault»	Франція	3 032 652
4	11	«Groupe PSA»	Франція	2 982 035
5	12	BMW	Німеччина	2 279 503

Працюємо разом

Завдання 1 Користуючись картами атласу, діаграмами, підручником, охарактеризуйте провідні галузі вторинного сектора економіки країн Європи. Заповніть таблицю.

Галузь	продукція	Країна	Район, центри розвитку

Завдання 2 Назвіть причини нерівномірності економічного розвитку країн Європи на прикладі розвитку хімічної та фармацевтичної промисловості регіону



Мал. 18. Найбільші світові виробники у сфері фармацевтики за 2014 р. (млрд дол. США)

Країни Європи

Андора

Бельгія



Британія



Греція



Іспанія



Італія



Польща



Португалія



Франція



Швейцарія



Завдання 3. Назвіть держави Європи, природні умови яких дають можливість приймати значні туристичні потоки протягом року .

Іноземний туризм: кількість туристів*

Ранг	мільйонів осіб		зміни (%)	
	2015	2016*	15/14	16*/15
1. Франція	84,5	82,6	0,9	-2,2
2. США	77,5	75,6	3,3	-2,4
3. Іспанія	68,5	75,6	5,5	10,3
4. Китай	56,9	59,3	2,3	4,2
5. Італія	50,7	52,4	4,4	3,2
6. Велика Британія	34,4	35,8	5,6	4,0
7. Німеччина	35,0	35,6	6,0	1,7
8. Мехіко	32,1	35,0	9,4	8,9
9. Таїланд	29,9	32,6	20,6	8,9
10. Туреччина	39,5	...	-0,8	...

Іноземний туризм: кількість фінансових надходжень*

Ранг	У дол. США				У місцевій валюті	
	мільярдів		зміни		зміни (%)	
	2015	2016	15/14	16*/15	15/14	16*/15
1. США	205,4	205,9	7,0	0,3	7,0	0,3
2. Іспанія	56,5	60,3	-13,3	6,9	3,8	7,1
3. Таїланд	44,9	49,9	16,9	11,0	23,0	14,7
4. Китай	45,0	44,4	2,1	-1,2	3,6	5,3
5. Франція	44,9	42,5	-22,9	-5,3	-7,6	-5,1
6. Італія	39,4	40,2	-13,3	2,0	3,8	2,3
7. Велика Британія	45,5	39,6	-2,3	-12,9	5,2	-1,4
8. Німеччина	36,9	37,4	-14,8	1,4	2,0	1,7
9. Гонконг (Китай)	36,2	32,9	-5,8	-9,1	-5,8	-9,0
10. Австралія	28,9	32,4	-8,2	12,3	10,2	13,5

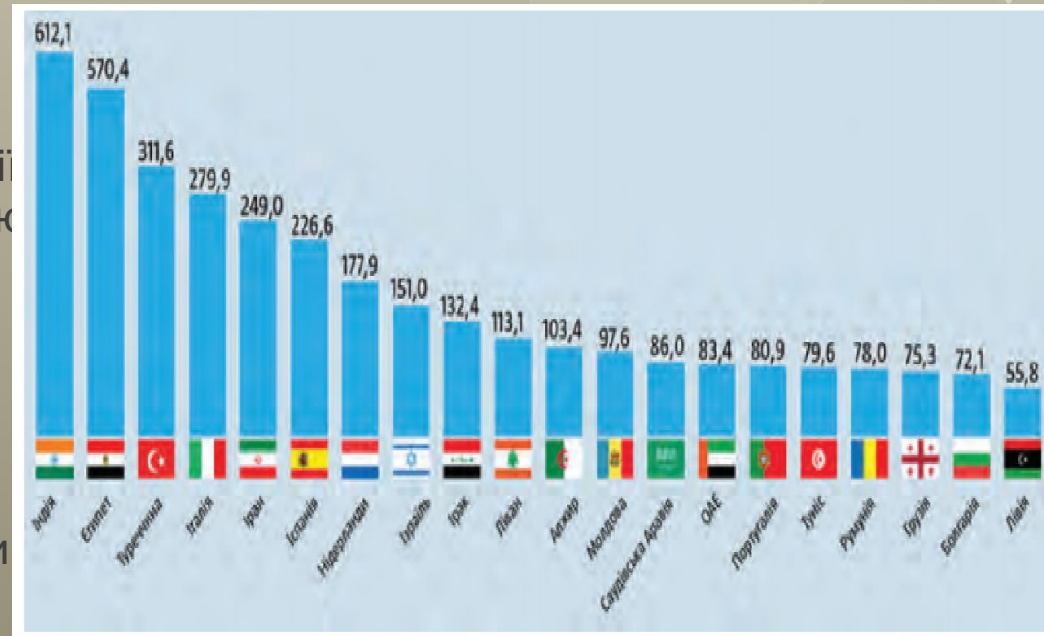
* За даними Всесвітньої туристичної організації (ВТО)

Обгунтуйте власну думку:

Поясніть, чим для України вигідне позитивне сальдо зовнішньої торгівлі

пригадайте

- **Реіндустріалізація** — це економічний, соціальний та політичний процес організації національних ресурсів з метою відновлення промисловості, який відбувається внаслідок необхідності активізації національних економік.
- **Сальдо** — різниця між надходженнями та витратами за певний проміжок часу.



Країни з найбільшим додатнім для України сальдо торгівлі товарами в млн дол. США І квартал 2017 р

УКРАЇНА



www.photoukraine.com



www.photoukraine.com



www.photoukraine.com



Творча лабораторія

- 1. Покажіть на карті країни, де третинний сектор економіки найбільше розвинений.
- 2. У яких країнах Європи розташовані найбільші морські й аеропорти? Столиці яких європейських країн зв'язують міжнародні транспортні коридори регіону?
- 3. За допомогою додаткових джерел доберіть інформацію про сучасні освітні послуги, які надають основні центри освіти й науки регіону.
- 4. Охарактеризуйте особливості надання туристичних послуг у Європі.
- 5. Поясніть причини нерівномірності економічного розвитку третинного сектора країн і субрегіонів Європи.
- 6. Спрогнозуйте позитивні ознаки та ризики вступу України до ЄС на прикладі розвитку торговельних відносин.

Картографічний практикум

- 1. За допомогою карт і додаткових джерел інформації визначте територію та напрями промислового розвитку Лотаринзького мегаполісу.
- 2. Покажіть на карті найбільші промислові регіони Європи: Рур, Лондон, Іль-де-Франс, Верхньосілезький, Придніпров'я, Центральну Росію, Урал.
- 3. Поясніть поняття «реіндустріалізація».
- 4. Поясніть причини розвитку практично всіх напрямів машинобудування в найбільш розвинених країнах регіону та причини вузької спеціалізації промислового виробництва економічно розвинених невеликих країн Європи.
- 5. Назвіть причини нерівномірності економічного розвитку країн Європи на прикладі розвитку хімічної та фармацевтичної промисловості регіону

Практична робота №1

- **Тема.** Порівняльна характеристика структури промислового виробництва двох економічно розвинених невеликих країн Європи (на вибір учнів).
- **Мета:** порівняти чинники міжнародної спеціалізації економічно розвинених країн; пояснити
- причини вузької спеціалізації промислового виробництва економічно розвинених невеликих країн Європи.
- **Завдання**
- 1. За допомогою карт шкільного географічного атласу порівняйте населення, природні умови та ресурси двох економічно розвинених невеликих країн Європи (в-1, Португалії та Бельгії ;в-2 Австрії та Іспанії).
- 2. За допомогою додаткових джерел охарактеризуйте структуру промислового виробництва цих країн.
- 3. Зробіть висновки щодо наявності та причини спеціалізації промислового виробництва обраних вами двох країн Європи.
- .

Домашнє завдання

- Повторити матеріал за темою 1 «Загальна характеристика Європи» (§3—8) до підсумкової КР
- **Орієнтовні теми для досліджень**
- 1. Інтеграційні та дезінтеграційні процеси в Європі.
- 2. Відновлювальна електроенергетика в країнах Європи: регіональні особливості та відмінності.
- 3. Структура й просторова організація виробництва чорних металів у країнах Європи

