

*“Біз не
үйрендік?”*



Слайд
22
Жаз

Күз

Көктем



Қыс



КӨКТЕМ

Тура және кері санау

0	1	2	3	4	5	6	7	8	9	10
10	9	8	7	6	5	4	3	2	1	0



Есептер шығару

$4 + 2 = \square$

$1 + 9 = \square$

$7 - 2 = \square$

$6 + 2 = \square$

$8 + 2 = \square$


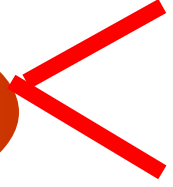


$5 - 2 = \square$

$6 - 3 = \square$

$4 + 4 = \square$



Салыстыр



Сергіту

- 1,2,3
- Қарлығаш боп ұш,
- 4,5,6
- Қарлығаш боп шалқы.
- 7,8,9,10
- Қарлығаш боп қон.



Жаз

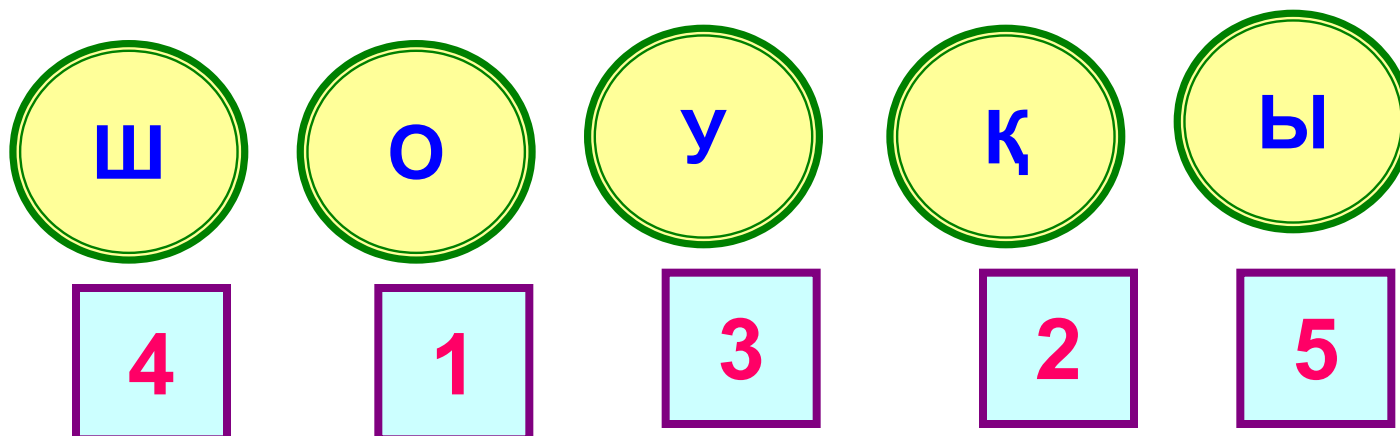
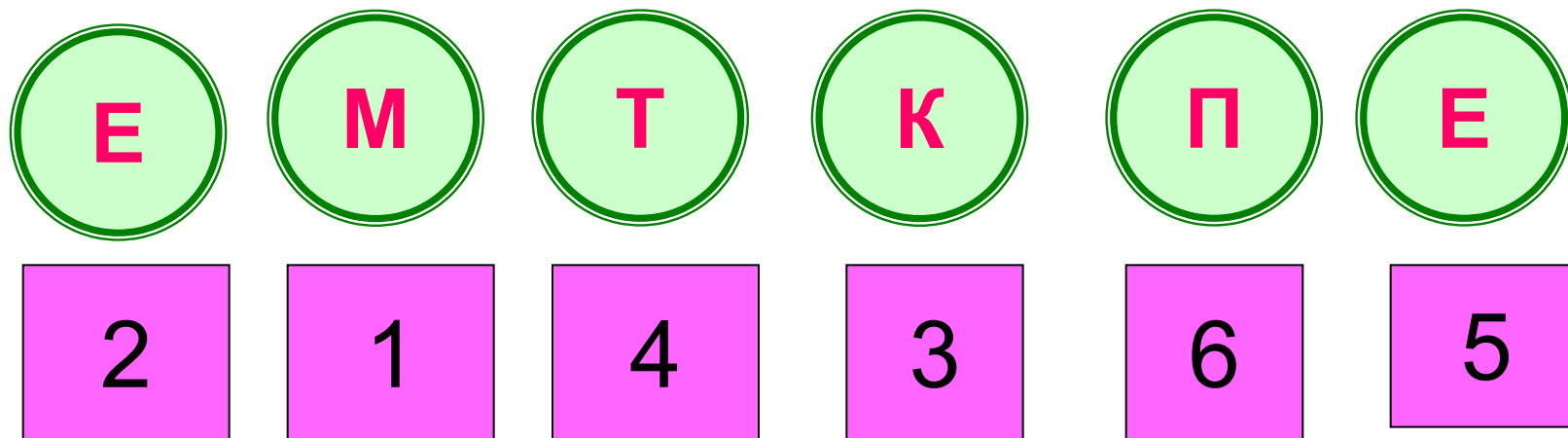
ЛОГИКАЛЫҚ ОЙЫН



Неңің суреті жасырылған?



АНАГРАММА



Күз

Жұмбақ

Ағаш толы сары шымшық,
Сілкіп көрсең түседі ұшып.



Жаптырақтар



Рольдік- сюжеттік ойын




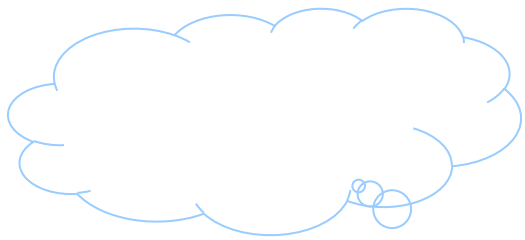





ДОСТЫК

ҚЫМБАТ ӨМІРДЕ








ҚЫС



Сурет салу



Сау болыңыздар!



