

Выберите правильный ответ:

Параллелограмм, у которого
все углы прямые - это

Ромб

Прямоугольник

Трапеция

Ответьте на вопросы:

Вопрос 1

Какая трапеция называется прямоугольной?

Трапеция, у которой один из углов равен 90°

Вопрос 2

Диагонали каких четырехугольников равны?

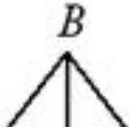
Квадрат, прямоугольник, равнобедренная трапеция

Вопрос 3

Чему равна средняя линия трапеции?

Полусумме её оснований

Найди лишнее:



Подумай! Трапеция

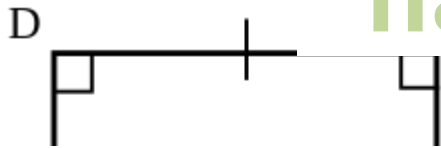
!

не является



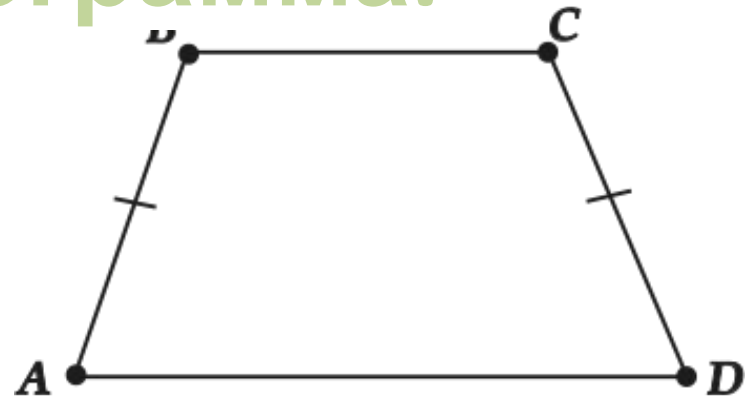
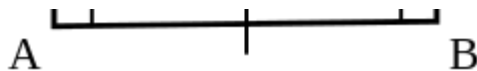
разновидностью

параллелограмма.



Подумай

!



Найди трапеции:

Молодец!



Молодец!



Подумай!



Подумай!




Молодец!



Подумай!



Подумай!



Подумай!



Подумай!



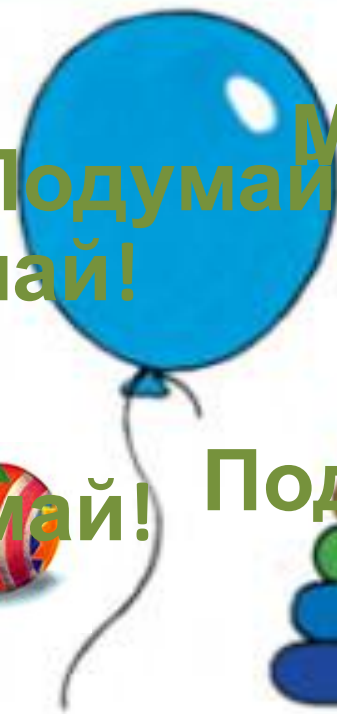
Молодец!



Подумай!



Подумай!



Молодец!



Подумай!



Подумай!



Подумай!




Подумай!

Молодец!



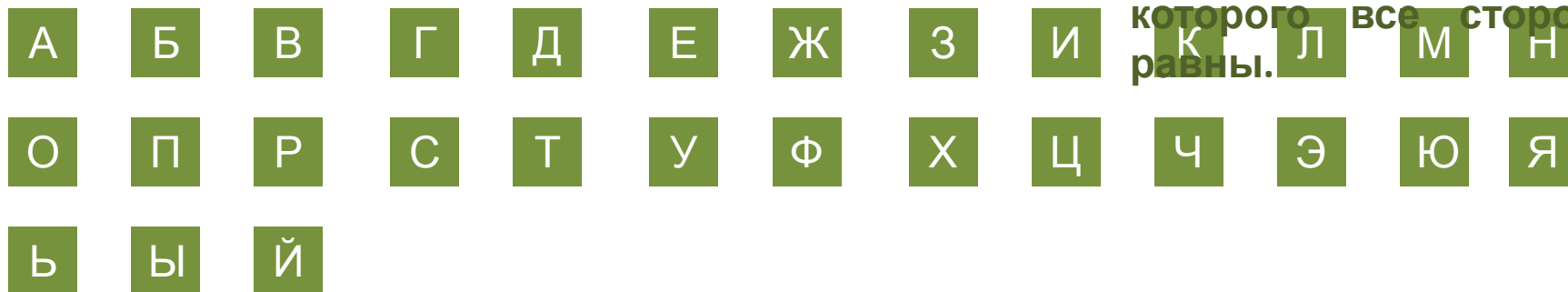
Гадайте кроссворд



1. Фигура, составленная из отрезков АВ, ВС, СД, ... , ЕФ, FA, так что смежные отрезки не лежат на одной прямой, а не смежные отрезки не имеют общих точек.

2. Как называется многоугольник, если он лежит по одну сторону от каждой прямой, проходящей через две его соседние вершины.

3. Прямоугольник, у которого все стороны равны. К Л М Н



Установите соответствия

