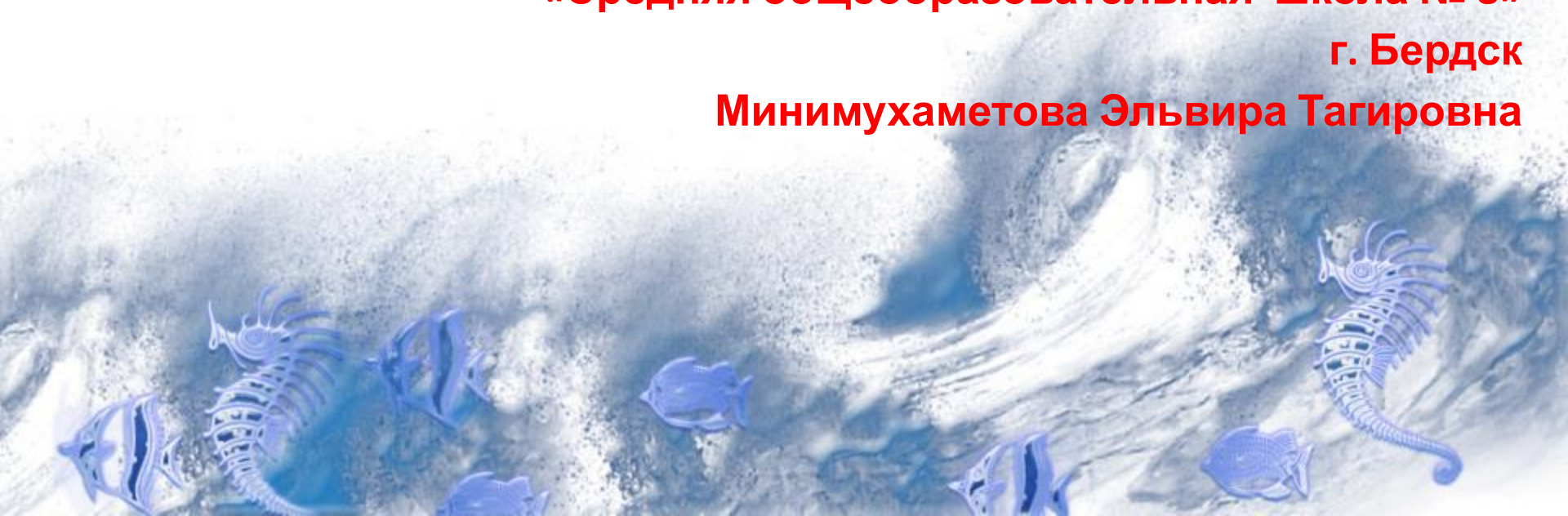


По волнам, по морям

Урок-путешествие в 6 классе

Учитель географии
муниципального общеобразовательного
учреждения
«Средняя общеобразовательная школа № 8»
г. Бердск
Минимухаметова Эльвира Тагировна



Цель урока:

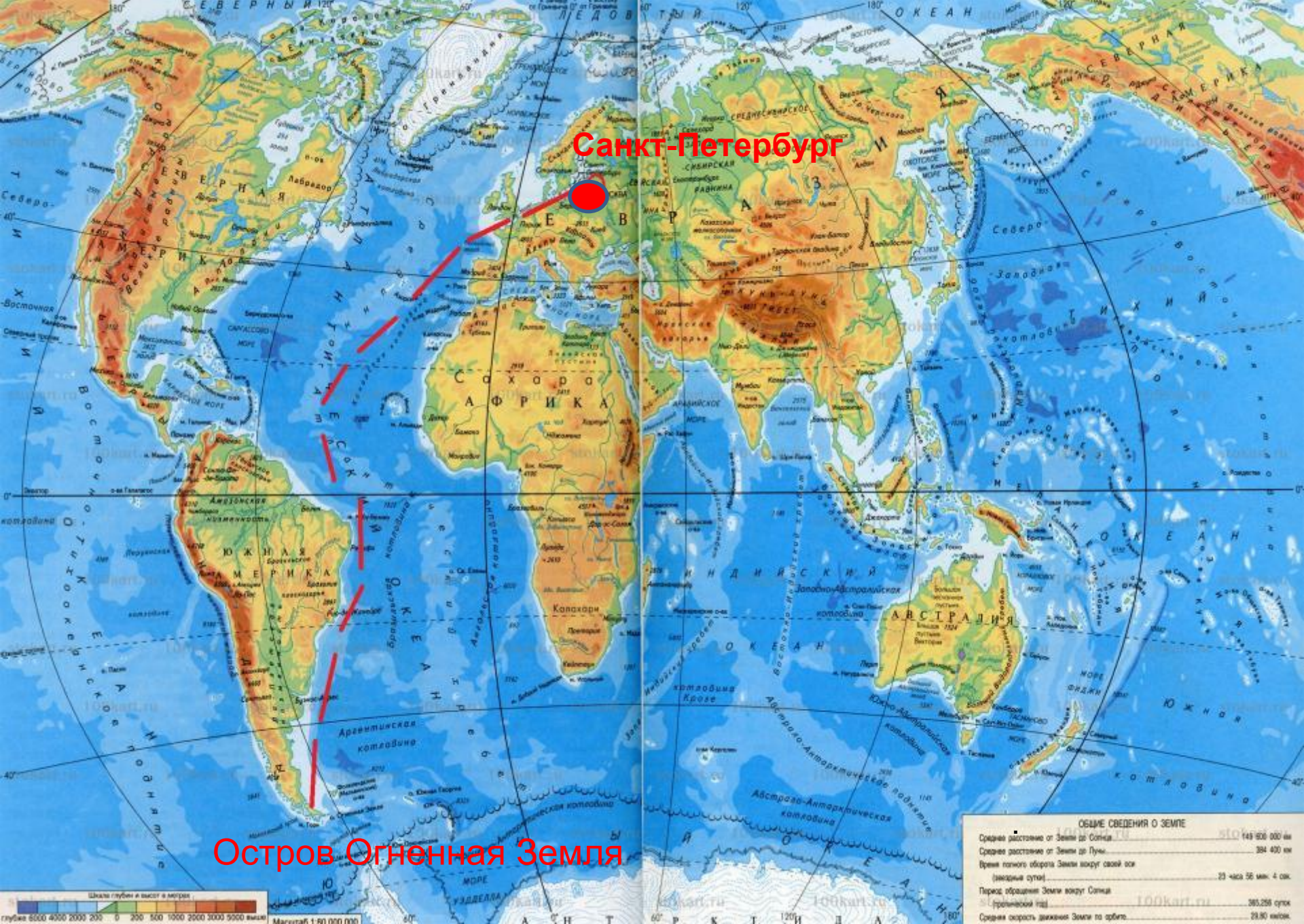
Закрепить знания по теме «Мировой океан и его части», «Свойства вод океана», «Океанские течения»



Океан – это единое водное пространство, которое нигде не прерывается

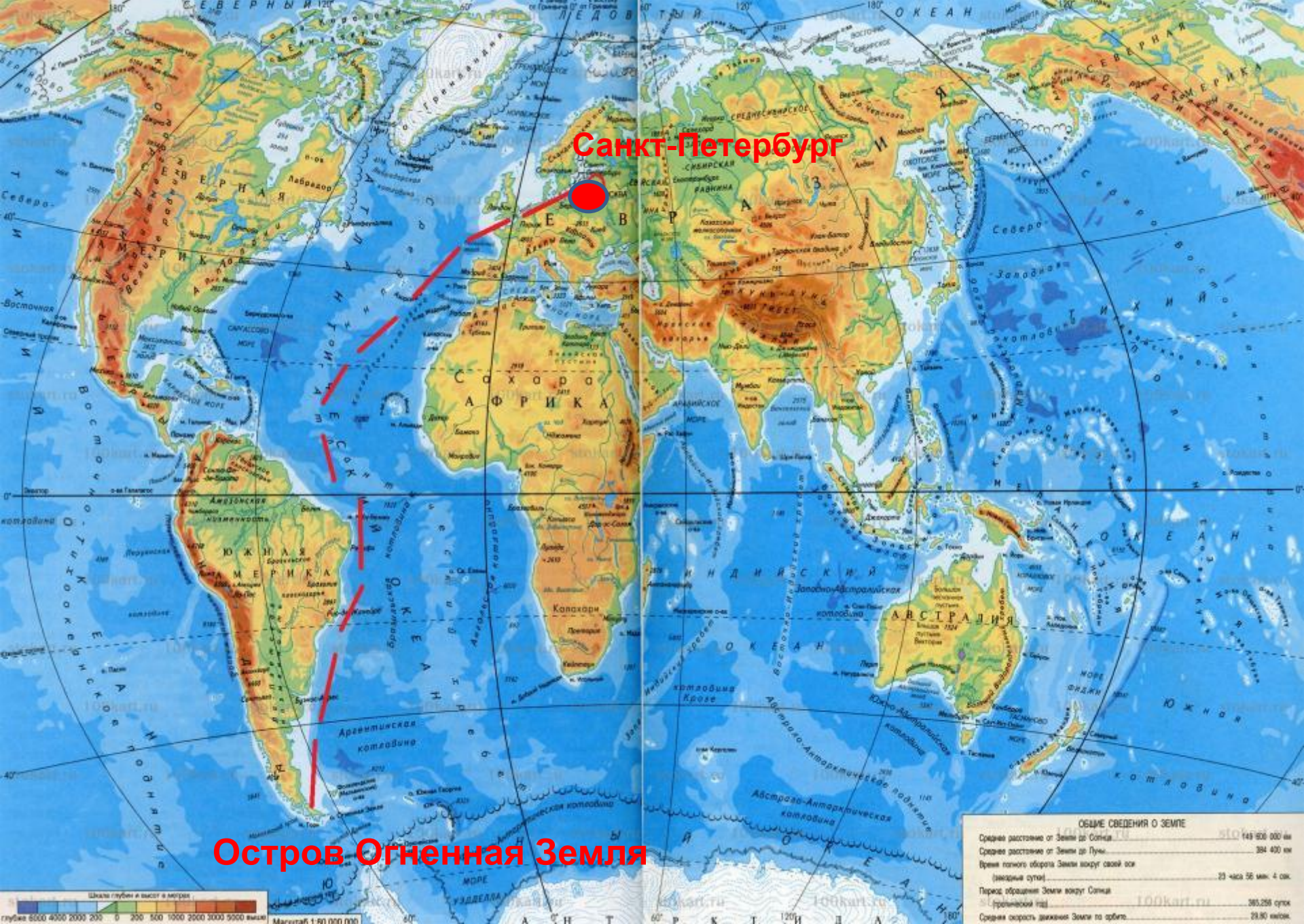
Есть два разряда путешествий:
Один – пускаться с места вдаль,
Другой – сидеть себе на месте,
Листать обратно календарь.





Задание 1. Правильный ответ





С именем какого
мореплавателя связано
открытие острова Огненная
Земля?



- Фернан Магеллан

Задание 2. Морская почта

Установите соответствия
между океанами и
географическими объектами



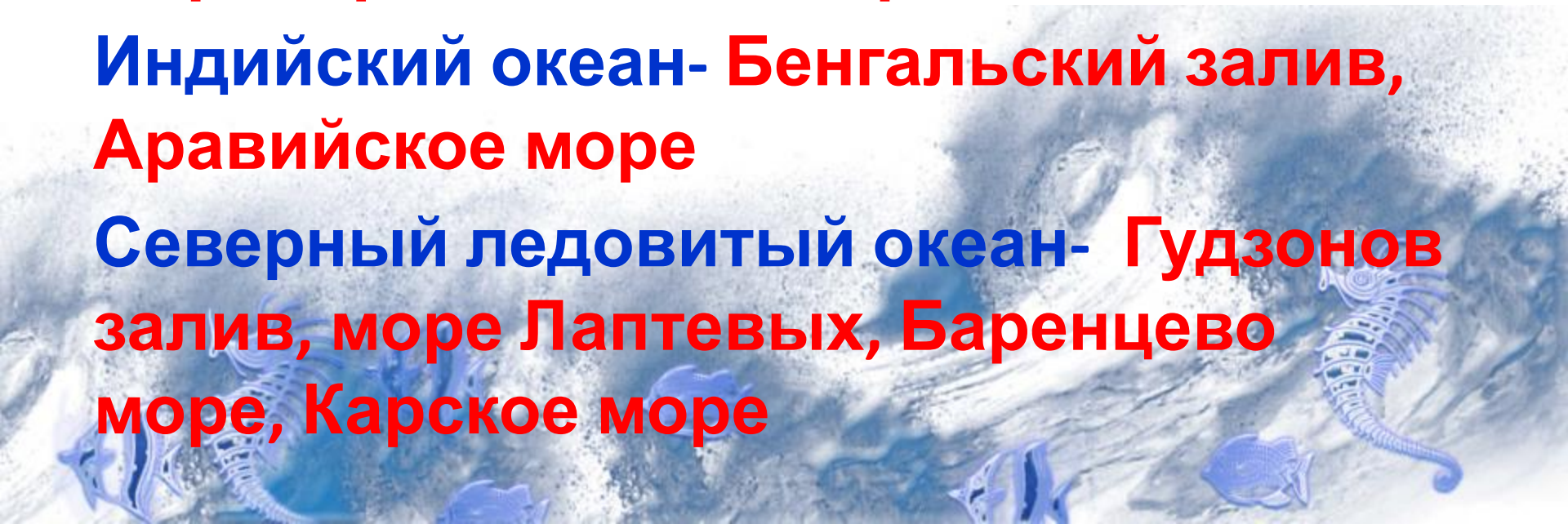
Правильные ответы

**Тихий океан- Японское море,
Берингово море**

**Атлантический океан- Мексиканский
залив, Карибское море, Балтийское
море, Средиземное море**

**Индийский океан- Бенгальский залив,
Аравийское море**

**Северный ледовитый океан- Гудзонов
залив, море Лаптевых, Баренцево
море, Карское море**



Что моряки называют « сороковые ревущие»?



Задание 3

Эрудит



Какое место по площади занимает Тихий океан среди других океанов?



Первое



Какое море – самое большое по площади?

Филиппинское

**Какой самый большой
архипелаг расположен в Тихом
океане?**



Малайский архипелаг


Название этому морю дано за цвет воды, который зависит от огромного количества лёсса (мельчайших частичек горных пород), выносимого в него рекой Хуанхэ.



Желтое море

**В 1741 году капитан – командор
возглавил Вторую Камчатскую
экспедицию. Какие объекты на карте
Мирового океана носят**

**Витус Беринг
Берингово
море, Берингов
пролив,
Командорские
острова, остров
Беринга**



**Задание 4. Как человек может
ИСПОЛЬЗОВАТЬ СОЛЕННЫЕ ВОДЫ
океана?**

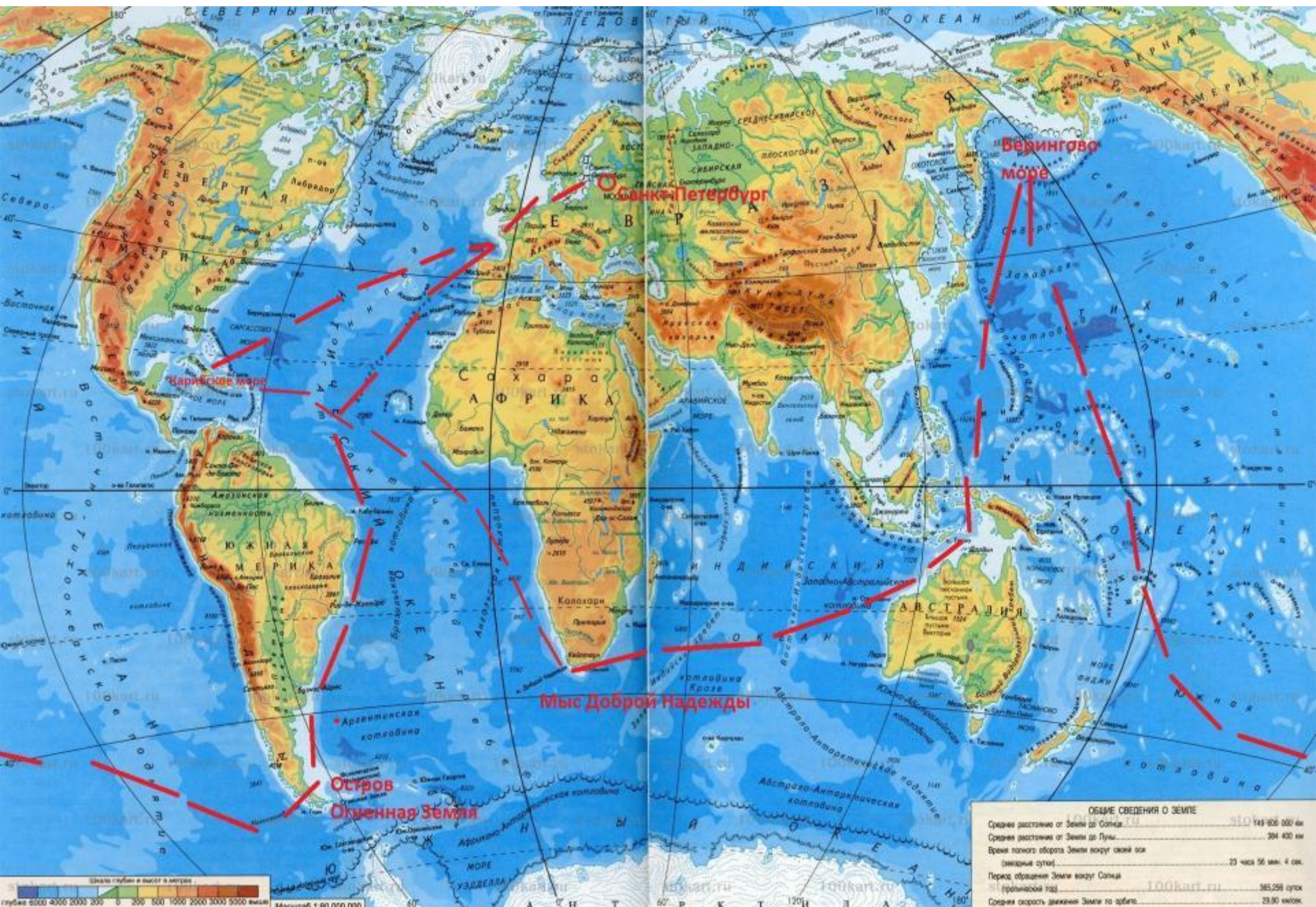


Задание 5. Норвежский путешественник Тур Хейердал хотел доказать, что между Старым и Новым Светом существовали древние связи еще задолго до плавания Колумба.

С этой целью Т. Хейердал переплыл океан на папирусной лодке, копии древних египетских лодок. Он совершил плавание из порта Сафи (33° с.ш 8° з.д) до острова Барбадос- 18° с.ш. 59° з.д.). Изучите по атласу маршрут экспедиции и запишите названия течений, которые способствовали этому путешествию. В каком море находится остров Барбадос?



В Карибском море



ОБЩИЕ СВЕДЕНИЯ О ЗЕМЛЕ

Среднее расстояние от Земли до Солнца	149 600 000 км
Среднее расстояние от Земли до Луны	384 400 км
Время полного оборота Земли вокруг своей оси (звездные сутки)	23 часа 56 мин. 4 сек.
Период обращения Земли вокруг Солнца (тропический год)	365,256 суток
Средняя скорость движения Земли по орбите	29,80 км/сек.

Задание 7. Составить характеристику географическому положению Карибского моря

- **Название моря**
- **В каком океане находится**
- **Между какими параллелями и меридианами находится.**
- **Берега каких материков, островов, полуостровов омывает**
- **Как соединяется с океаном или другими частями**
- **Течения, проходящие в море**

