



# Тест

для мастер-класса

Введите фамилию и имя

Всего заданий **11**

[Начать тестирование](#)

Время тестирования **5** мин.

# Эта планета названа в честь бога земледельцев и урожая

Задание на единственный выбор



1

Меркурий




2

Нептун




3

Сатурн



4

Уран



Задание

1

2 бал.



Далее



# Отметьте элементы Рабочего стола

Задание на множественный выбор

- 1 Кнопка Пуск
- 2 Кнопка Закрывать
- 3 Кнопка Свернуть
- 4 Панель задач
- 5 Корзина
- 6 Строка заголовка
- 7 Строка меню
- 8 Значок Мой компьютер

2

2 бал.

Выберите все правильные ответы!



Далее



Как называется животное,  
изображенное на фото?

Задание на ввод текстового ответа



Введите ответ:

Задание

3

1 бал.



Далее




Чему приблизительно равно  
отношение длины окружности к  
диаметру?

Задание на ввод числового ответа

$$\pi = \frac{C}{d}$$

*d*

Введите ответ:



Задание

4

1 бал.



Далее



# Восстановите текст детской песенки, заполнив пропуски

Задание на заполнение пропусков в тексте

В лесу родилась \_\_\_\_\_ ,  
В лесу \_\_\_\_\_ росла.  
Зимой и \_\_\_\_\_ стройная,  
\_\_\_\_\_ была.



Задание

5

2 бал.

Заполните все пропуски в тексте!



Далее



# Расположите понятия в логической последовательности от общего к частному:

Задание на упорядочение

1

2

3

Термометр

Прибор

Измерительный прибор

Задание

6

1 бал.

Выберите все правильные ответы!



Далее



# Досочините четверостишие

Задание на соответствие один к одному

Чтобы спеть нам ,  
 нужна,  
А ещё для   
 важна.

**ПОЭЗИЯ      МУЗЫКА      ПЕСНИ      ПЕСНЮ**

Задание  1 бал.

Выберите все правильные ответы!



Далее





# Вставьте пропущенные буквы:

Задание на соответствие один ко многим

Карма      ый, **песча**      ый, **ране**      ый,  
построе      ый, **утре**      ий  
броше      ый, **ноше**      ый, **сви**      ой

**НН**

**Н**



# Положите на левый поднос костянковые плоды, а на правый – ягодовые

Задание на соответствие многие к одному



Задание

9

5 бал.

Выберите все правильные ответы!

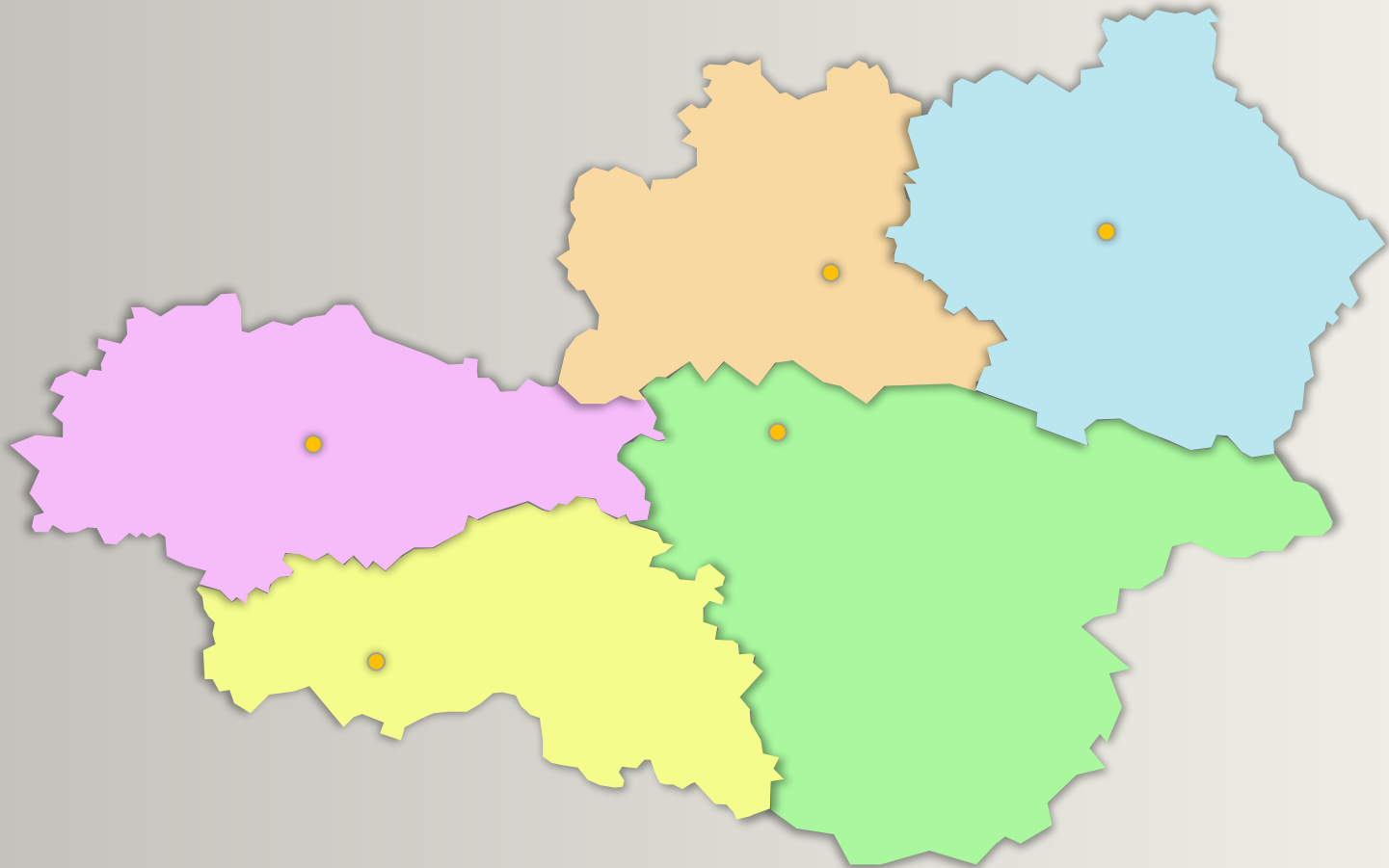


Далее



# На контурной карте Центрального Черноземья отметьте Воронежскую область

Задание на выбор одной активной области



Задание **10** 1 бал.




Далее



# Отметьте изображения овощей среди представленных фотографий

Задание на выбор нескольких активных областей



Задание **11** 1 бал.

Выберите все правильные ответы!



Итоги



# Результаты тестирования

Оценка

Правильных ответов

Набранных баллов

Ошибки в выборе  
ответов на задания:

Всего заданий  бал.

Снова

Выход

Затрачено времени