

ТЕМА УРОКА :

Доли.

Обыкновенные дроби.




Записи вида $\frac{5}{6}$ называют

обыкновенными дробями.

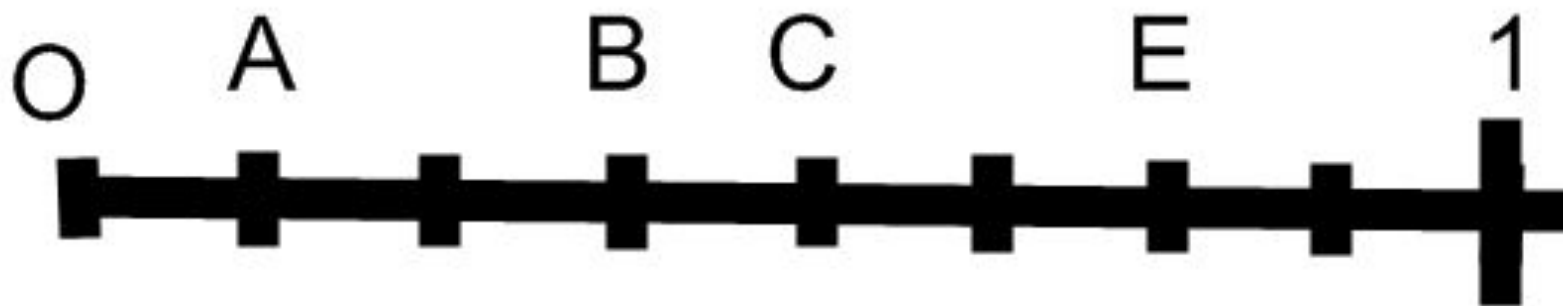
Числитель дроби $\frac{5}{6}$

Знаменатель дроби $\frac{5}{6}$

Знаменатель дроби показывает
на сколько долей делят, а
числитель дроби
показывает —
сколько таких долей взято.



определить координаты точек



- 1. Как называется шестидесятая доля часа?
- 2. Какую долю составляет килограмм от тонны?
- 3. Какую долю составляют сутки от недели?
- 4. В кувшин входит 4 л. Какую часть объема кувшина занимает один литр?
- 5. Какую часть периметра квадрата составляет длина одной стороны?
- 6. Какую часть часа составляет 1 минута?

3) Двадцать пять шестидесятых

4) Сорок восемь девяносто

Запишите дроби:

15) одна девятнадцатых

26) тридцать одна сотых

37) Двадцать пять вторых

4) Сорок восемь девяносто шестых

5) семь девятнадцатых

6) одиннадцать сотых

7) Четыре тысяча вторых

ТЕСТ

1. Какую долю тонны составляет килограмм?

А) $\frac{1}{10}$

Б) $\frac{1}{100}$

В) $\frac{1}{1000}$

2. Как называется десятая доля сантиметра?

А) метр Б) дециметр В) миллиметр

3. Сколько сантиметров составляет $\frac{1}{4}$ м?

А) 50 см

Б) 20 см

В) 25 см

4. Круг разделили на шесть равных долей. Четыре доли покрасили. Какая часть круга осталась не покрашенной?

А) $\frac{4}{6}$

Б) $\frac{2}{6}$

В) $\frac{1}{6}$

5. Как называется тысячная доля килограмма?

А) грамм Б) тонна В) центнер

6. Сколько метров в $\frac{1}{5}$ км?

А) 500 м Б) 200 м В) 100 м

7. Как называется тысячная доля метра?

А) сантиметр Б) дециметр В) миллиметр

Проверь себя

№	1	2	3	4	5	6	7
ответ	В	В	В	Б	А	Б	В

ОЦЕНИ СВОЮ РАБОТУ!


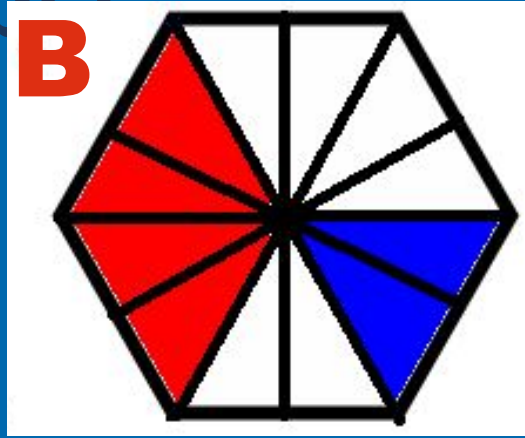
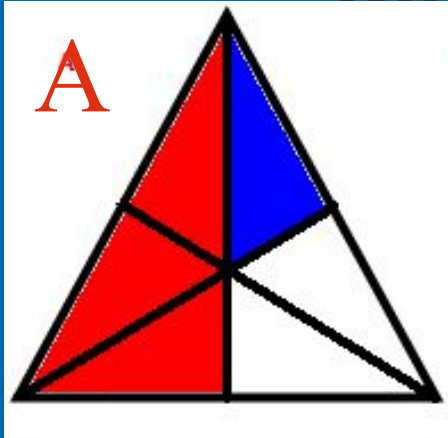
Критерии оценок:

За **7** правильных ответов – **«5»**

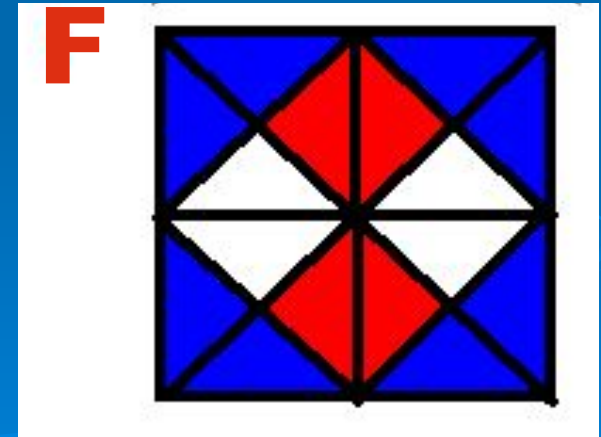
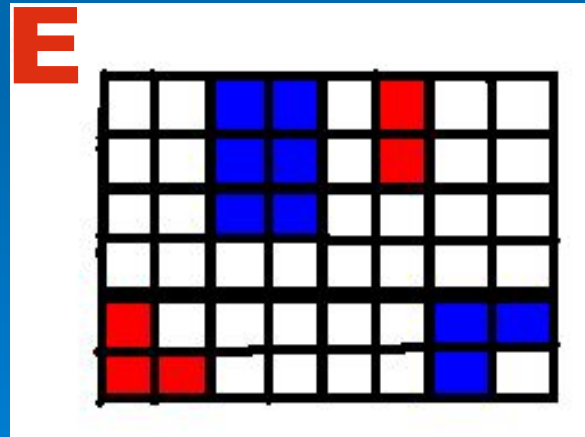
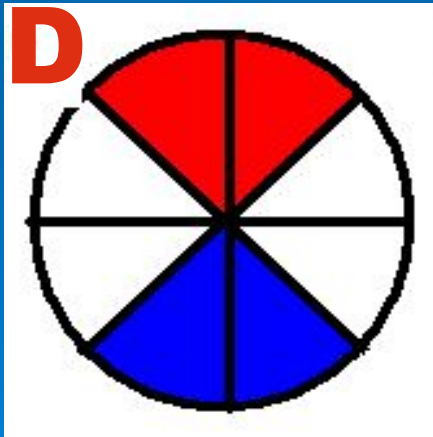
За **6** правильных ответов – **«4»**

За **5** правильных ответов – **«3»**

Укажите дробью часть
фигуры:



Закрашенную красным цветом
закрашенную белым цветом



Проверь себя

	А	В	С	Д	Е	Ф
Закрашенную Синим цветом	$\frac{1}{6}$	$\frac{2}{12}$	$\frac{2}{10}$	$\frac{2}{8}$	$\frac{9}{48}$	$\frac{8}{16}$
Закрашенную красным цветом	$\frac{3}{6}$	$\frac{4}{12}$	$\frac{3}{10}$	$\frac{2}{8}$	$\frac{5}{48}$	$\frac{4}{16}$
закрашенную белым цветом	$\frac{2}{6}$	$\frac{6}{12}$	$\frac{5}{10}$	$\frac{4}{8}$	$\frac{34}{48}$	$\frac{4}{16}$

ОЦЕНИ СВОЮ РАБОТУ!

Критерии оценок:

За **18** правильных ответов – **«5»**

За **15-17** правильных ответов – **«4»**

За **12-14** правильных ответов – **«3»**