

Математика

3 класс

Тема:

Приёмы устных вычислений в пределах 1000.
($260 + 310$, $670 - 140$).

Цели урока:

1. Научить новым приёмам устных вычислений для примеров вида: $260 + 310$, $670 - 140$.
2. Закрепить умение решать задачи.

Урок 108

















Настрой на урок

Громко прозвенел звонок –
Начинается урок.
Наши ушки на макушке,
Глазки широко открыты.
Слушаем, запоминаем,
Ни минутки не теряем.



Считаем устно

Попробуй сосчитай!

$420 + 50$	470 	920 
$420 + 500$	470 	920 
$830 - 300$	530 	800 
$830 - 20$	810 	630 
$650 - 50$	150 	600 
$240 + 60$	300 	840 
$120 - 20 - 40$	50 	60 
$230 - 30 - 50$	150 	50 

Дополните до 100 каждое из чисел:

$40 + \quad 60 = 100$

$90 + \quad 10 = 100$

$20 + \quad 80 = 100$

$70 + \quad 30 = 100$

$50 + \quad 50 = 100$



Вычислите удобным способом:

$$40 + (60 + 30) = (40 + 60) + 30 = 130$$

$$70 + (10 + 30) = (70 + 30) + 10 = 110$$

$$90 + (50 + 10) = (90 + 10) + 50 = 150$$

$$80 + (70 + 20) = (80 + 20) + 70 = 170$$



Классная работа..



Выполни преобразования:

1) Замени суммой разрядных слагаемых:

• $589 =$

• $754 =$

• $623 =$

• $938 =$

2) Вырази в м, дм, см:

• $828 \text{ см} =$

• $316 \text{ см} =$

• $935 \text{ см} =$

• $682 \text{ см} =$

Учимся считать



$$840 + 110 = (840 + 100) + 10 = 950$$

$$840 + 110 = (800 + 100) + (40 + 10) = 950$$

$$570 - 140 = (570 - 100) - 40 = 430$$

$$570 - 140 = (500 - 100) + (70 - 40) = 430$$

Работа по учебнику



**Мы хлопаем в ладоши, хлоп, хлоп
(хлопки над головой)**

**Мы топаем ногами, топ, топ (высоко
поднимаем колени)**

**Качаем головой (головой вперед
назад подвигать)**

**Мы руки поднимаем, мы руки
опускаем (руки поднять, опустить)**

**Мы низко приседаем и прямо мы
встаем (присесть и подпрыгнуть)**





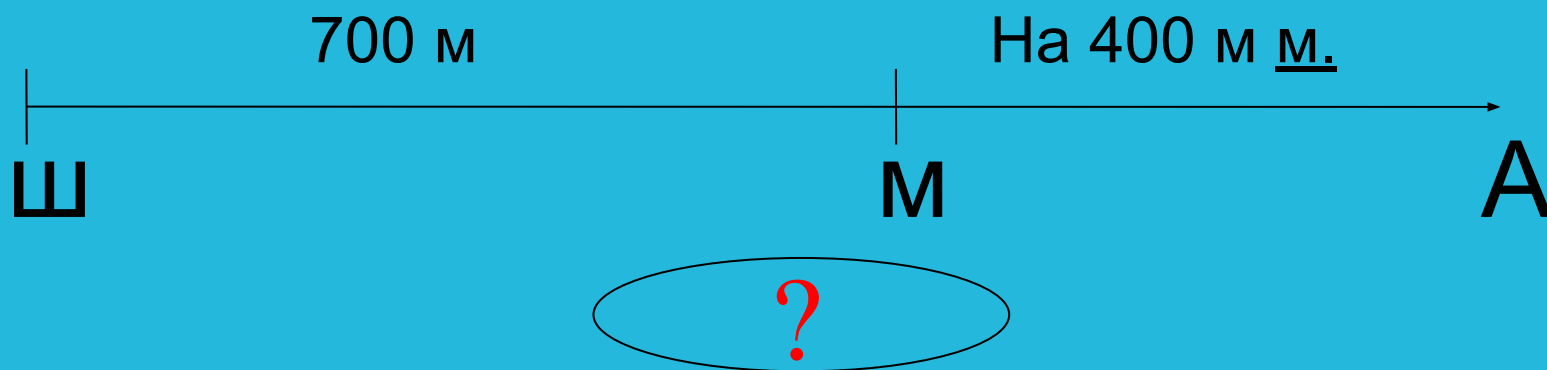
Решите задачу:



с. 69, № 4



Школа, магазин и аптека расположены на одной стороне улицы. От школы до магазина 700 м, от магазина до аптеки на 400 м меньше. Какое расстояние от школы до аптеки?



Работа по учебнику

с. 69, №6 - самостоятельно






-было всё понятно;

На уроке **МНЕ** было трудно;

-было интересно;

-прибавилось знаний ...

Оцените свою работу



Домашнее задание!...

