

5. Укажіть твердження, що правильно характеризують країни Латинської Америки.

- А. Серед країн регіону немає монархій
- Б. Ряд країн регіону спеціалізуються на вирощуванні однієї сільськогосподарської культури
- В. Найбільш високим рівень розвитку промисловості в Чилі й Венесуелі
- Г. У перевезеннях вантажів найбільшу роль відіграє залізничний транспорт

6. Укажіть твердження, яке правильно характеризує сільське господарство країн Північної Америки.

- А. Найбільший виробник продукції галузі — Аргентина
- Б. Головна зернова культура Канади — кукурудза
- В. Господарства США мають високу продуктивність тваринництва
- Г. Найбільші площі під сільськогосподарськими культурами розташовані на півночі регіону

7. Укажіть твердження, які правильно характеризують країни Латинської Америки.

- А. У регіоні є нові індустріальні країни
- Б. Для населення більшості країн характерною є демографічна криза
- В. У промисловості регіону більше значення має видобувна промисловість
- Г. Головна зернова культура — кукурудза

1. Яка країна розташована в Латинській Америці?

А. Індонезія Б. США В. Парагвай Г. Нідерланди

2. Укажіть країни, які належать до нових індустріальних країн.

А. Мексика Б. Канада В. Німеччина Г. Афганістан

3. Яке твердження є правильним?

А. Мексика добуває найбільше вугілля в Америці

Б. Бразилія вирощує найбільше рису у світі

В. Аргентина спеціалізується на точному машинобудуванні

Г. США вирощує найбільше кукурудзи у світі

4. Яке твердження є неправильним?

А. Мексика імпортує машини й устаткування

Б. У сільському господарстві Бразилії найбільші обсяги продукції дає тваринництво

В. У статевому складі населення Канади переважають жінки

Г. Мексика є великим експортером нафти

приклади)

А. понад 150 млн осіб

Б. від 50 до 150 млн осіб

В. від 10 до 50 млн осіб

9. Наведіть приклади країни Америки, ...

А. де є міста з населенням понад 10 млн осіб

Б. де добувається велика кількість нафти

В. де в перевезенні вантажів велику роль відіграє внутрішній водний транспорт

10. Укажіть три відмінні риси Англо-Америку й Латинської Америки (можуть стосуватися географічного положення, природних умов і ресурсів, населення й господарства).

11. Укажіть три відмінні риси Англо-Америку й Західної Європи (можуть стосуватися географічного положення, природних умов і ресурсів, населення й господарства).

12. Укажіть три подібні риси Англо-Америку й Латинської Америки (можуть стосуватися географічного положення, природних умов і ресурсів,

населення й господарства).



Загальні відомості

- Загальне число держав та залежних територій в Африці — **62** (з них **54** незалежних). Серед них **10** островних, **15** внутрішньоконтинентальних та **37** держав з виходом до морів і океанів.
- Залежні та спірні території (всього 8): *Західна Сахара* (Марокко – Мавританія) *Канарські Острови* (Іс) *Сеута* (Іс) *Мадейра* (П) *Майотта* (Ф) *Мелілья* (Іс) *Острів Святої Єлени* (ВБ) *Реюньйон* (Ф)).



Загальні відомості

- Площа – 30,3 МЛН КМ²
- Населення 900 млн осіб (14% від населення Землі)
- Пересічний ВВП на душу населення - \$653.



СКЛАД ТЕРИТОРІЇ АФРИКИ

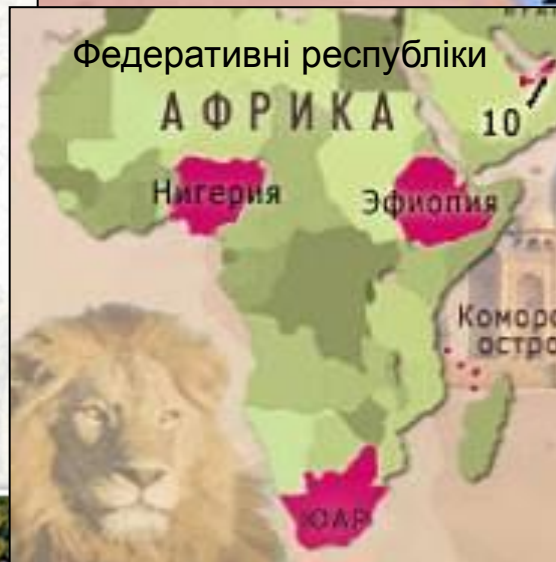
54
держави

44
материко
вих

10
острівни
х

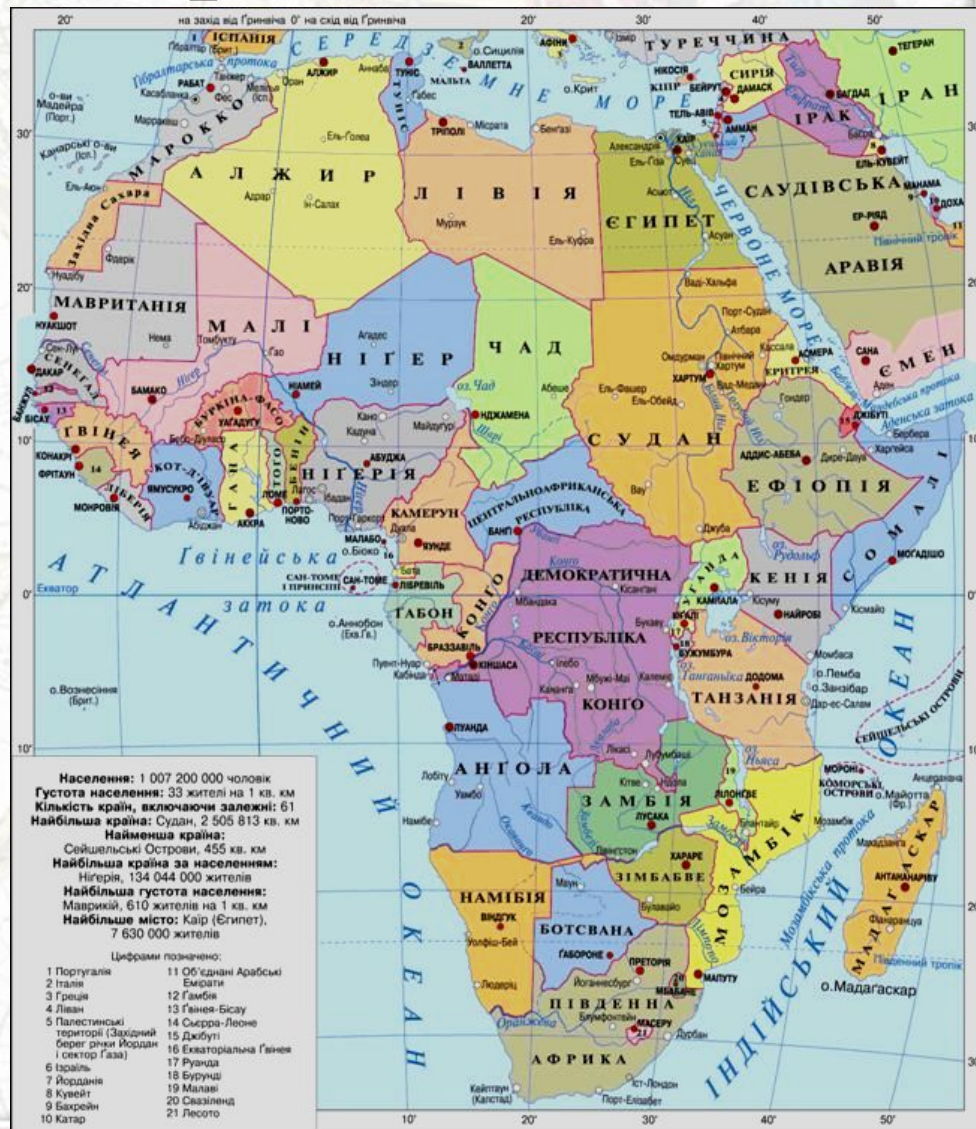
За державним ладом тільки три держави мають монархічну форму правління, інші республіки.

За адміністративним устроєм - чотири федеративні республіки, інші унітарні.



Головні риси ЕГП

- Має вихід до Атлантичного океану
- Вихід до Середземного моря
- Вихід до Червоного моря
- Вихід до Індійського океану
- Близькість до політично нестабільного регіону (Ближнього Сходу)
- 15 країн Африки не мають виходу до моря



Природно-ресурсний потенціал

- Поверхня – переважно рівнинна
- Різноманітні кліматичні умови
- Має 30% світових корисних копалин
- Значні водні ресурси
- Неродючі ґрунти
- Високий рекреаційний потенціал



Мінеральні ресурси.



- 4/5 світових запасів хромітів
- 2/3 світових запасів фосфоритів
- 3/5 світових запасів титану
- 2/5 світових запасів марганцю
- 1/3 світових запасів урану, міді, кобальту

МИНЕРАЛЬНЫЕ РЕСУРСЫ

Условные обозначения:
Полезные ископаемые:

- - энергетические
- - металлические
- - неметаллические
- ▨ - важнейшие горно-промышленные районы
- - каменный уголь
- ▲ - нефть
- ▲ - природный газ
- ▲ - железные руды
- ▲ - марганцевые руды
- ▲ - хромовые руды
- ▲ - кобальтовые руды
- - бокситы
- - медные руды
- ⊗ - полиметаллические руды
- - оловянные руды
- ▼ - никелевые руды
- - золото
- - платиноиды
- - урановые руды
- +
- - фосфориты
- * - алмазы
- - каменная соль
- ⊕ - флюорит

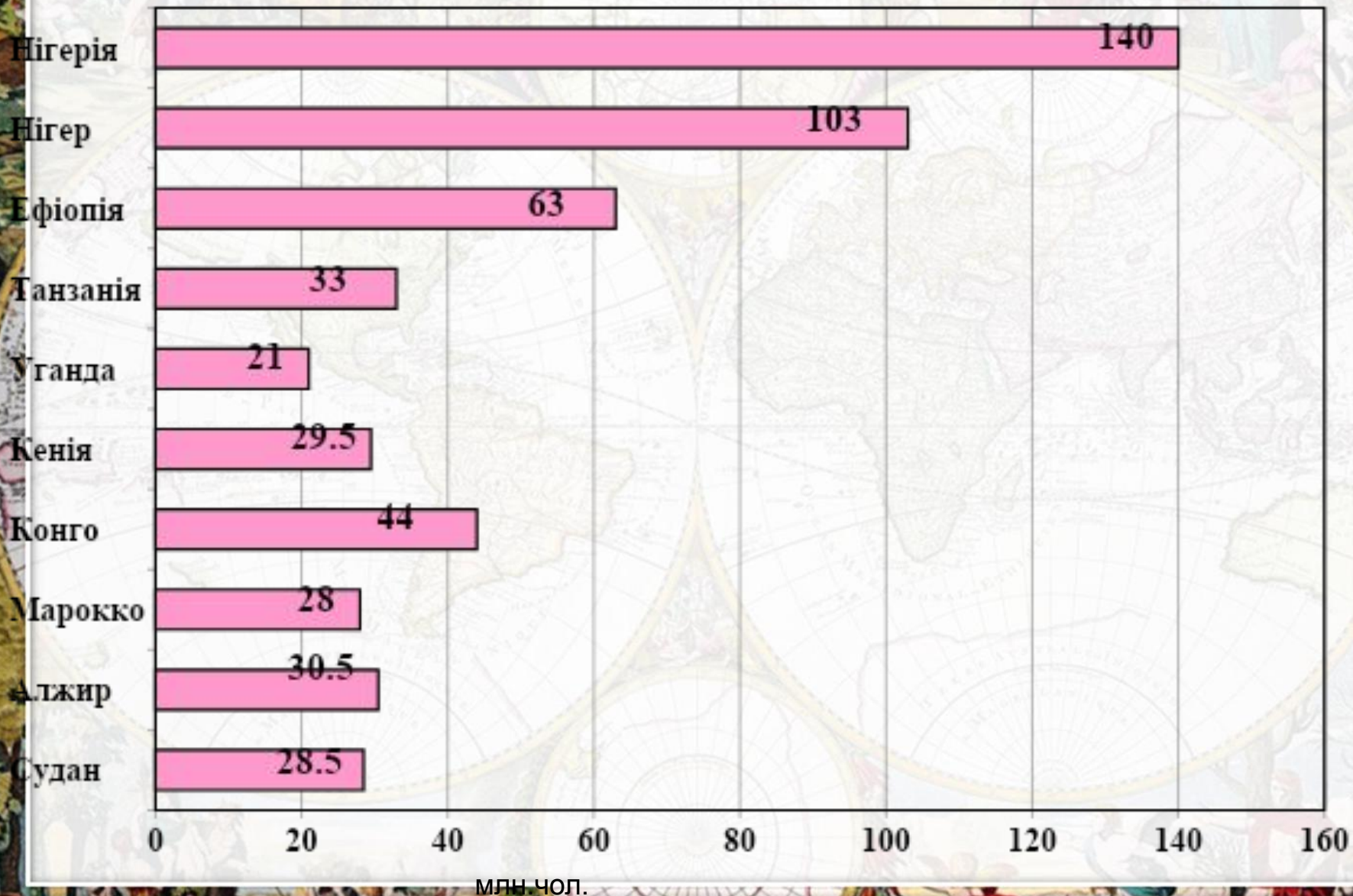


Загальні риси населення

- Раси: європеїдна, негроїдна, монголоїдна.
- Високий природний приріст: 44‰
населення діти та підлітки
- Нерівномірність розміщення
- Середній рівень урбанізації – 41%



Чисельність населення в деяких країнах Африки.



Статеві-віковий склад населення Африки.



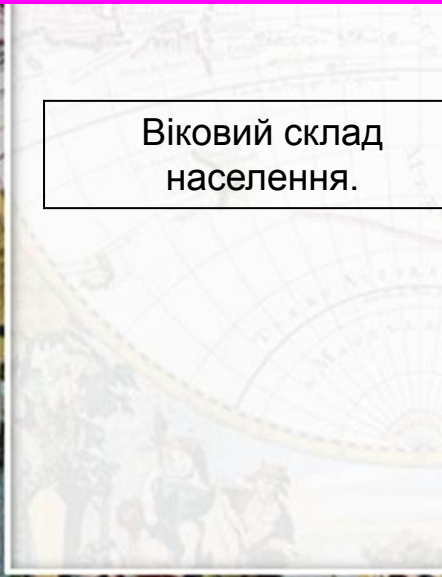
СООТНОШЕНИЕ МУЖЧИН И ЖЕНЩИН В НАСЕЛЕНИИ СТРАН МИРА

- примерное равенство мужчин и женщин
- преобладание женщин
- преобладание мужчин

Количество женщин в расчете на 100 мужчин

- 128 Бутан В странах со значительным преобладанием женщин
- 89 Оман В странах со значительным преобладанием мужчин

Віковий склад населення.



Расовый та етнічний склад населення Африки.

РАСЫ АФРИКИ



Негроидные расы

- Негры
- Негриллы (Пигмеи)
- Бушмены и готтентоты

Переходные группы между экваториальными и европеоидными расами


- Переходные группы Западного Судана
- Эфиопская раса
- Смешанные группы Судана
- Южноафриканские цветные

Европеоидные (Евразийские) расы

- Переходные
- Южные

Переходные группы между монголоидными и экваториальными расами

- Малагасийцы
- Незаселенные территории






Релігійний склад населення.

РЕЛИГИИ АФРИКИ



Конфессиональный состав населения Африки в 2000г.

Христиане

-  - Римо-католики
-  - Монофизиты
-  - Англикане, Лютеране, Кальвинисты, Методисты, Баптисты, Адвентисты, Пятидесятники

Мусульмане

-  - Сунниты
-  - Бахаисты
-  - Приверженцы традиционных верований
-  - Незаселенные территории

Розміщення населення.

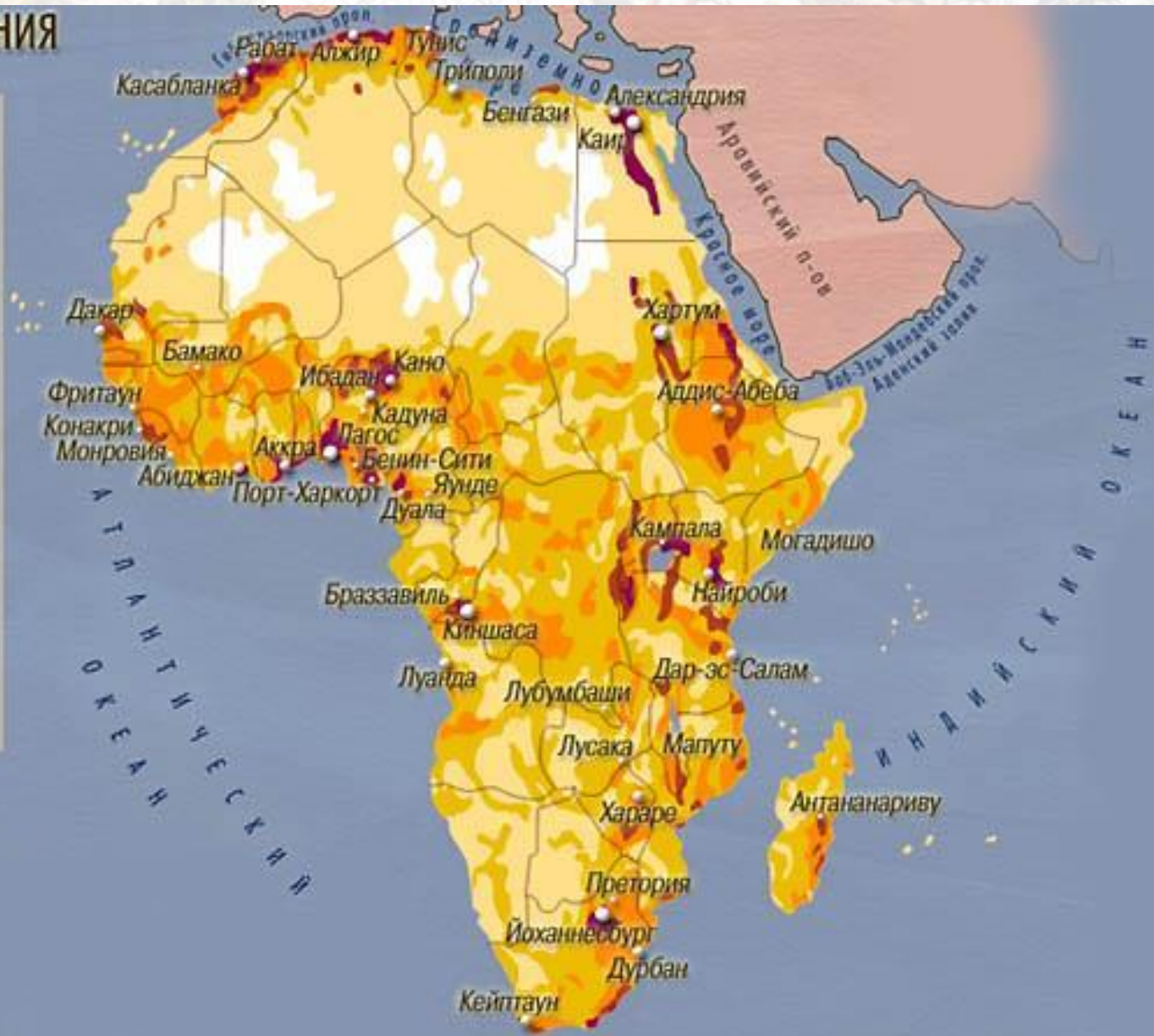
ПЛОТНОСТЬ НАСЕЛЕНИЯ

Плотность населения чел./на кв.км:

-  - более 100
-  - от 50 до 100
-  - от 10 до 50
-  - от 1 до 10
-  - менее 1
-  - незаселенные территории

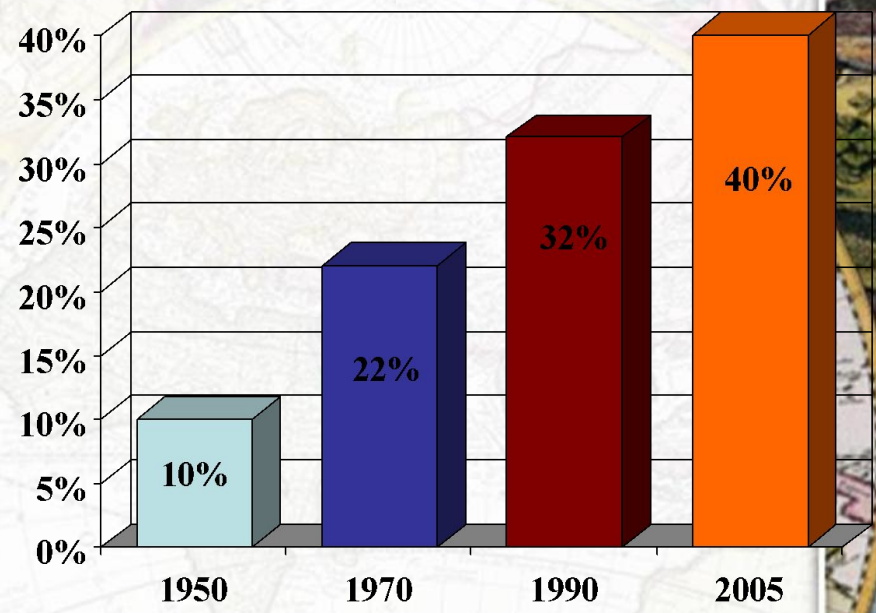
Численность населения в агломерациях на 2002 г.

-  - свыше 5 млн.чел.
-  - от 2 до 5 млн.чел
-  - от 1 до 2 млн.чел



Африка - регіон "міського вибуху"

Динаміка росту частки міського населення Африки.



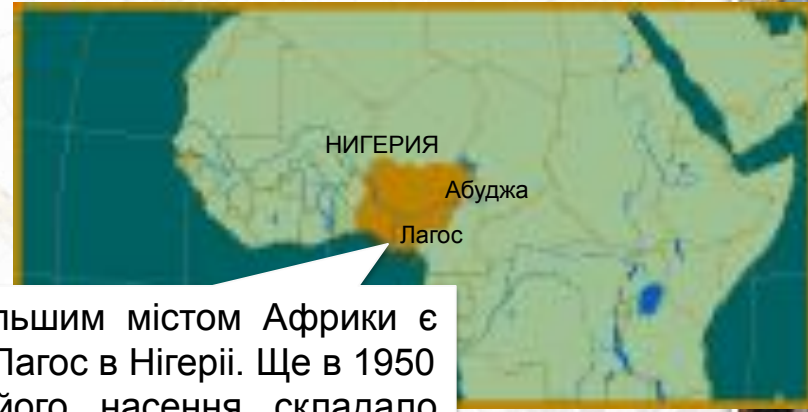
ДОЛЯ ГОРОДСКОГО НАСЕЛЕННЯ (в %)

менше 40	від 40 до 60	від 60 до 80	більше 80
----------	--------------	--------------	-----------

13 **Оман** Страны с минимальной долей городского населения (в%)
97 **Бельгия** Страны с максимальной долей городского населения (в%)

Города и городские агломерации с численностью населения:

● от 5 до 10 млн чел.	● более 10 млн чел.
--	--




Найбільшим містом Африки є місто Лагос в Нігерії. Ще в 1950 році його населення складало близько 300 тис. осіб, а зараз досягло 13 млн.

- У міжнародному поділі праці Африка виділяється як експортер сільськогосподарської сировини,
- мінерально-сировинних ресурсів (залізні руди, нафта, алмази, золото, мідь, уран).



Загальні риси господарства

- Низький рівень розвитку
- Вузька спеціалізація (окрім ПА, Марокко)
- Перевага екстенсивного сільського господарства
- Наслідки колонізації у територіальній структурі
- 4% от світового ВВП



Сільське господарство

- 65 % населення зайнято у сільському господарстві
- Екстенсивний шлях розвитку господарства
- Аграрні відносини у країнах Африки відрізняються винятковою складністю. Для них характерне переплетення дофеодальних, феодальних та капіталістичних форм землеволодіння та землекористування.



Сільське господарство Африки. Частка Африки в світовому господарстві.








- Какао-боби 54%
- Маніока 42%
- Сизаль 27%
- Кофе 21%
- Арахіс 20%
- Просо і сорго 20%
- Оливки 13%
- Чай 12%

СЕЛЬСКОЕ ХОЗЯЙСТВО

- 1 - Сеута и Мелилья (Исп.)
- 2 - Гамбия
- 3 - Гвинея-Бисау
- 4 - Кабо-Верде
- 5 - Сьерра-Леоне
- 6 - Либерия
- 7 - Того
- 8 - Бенин
- 9 - Экваториальная Гвинея
- 10 - Сан-Томе и Принсипи
- 11 - Лесото
- 12 - Свазиленд
- 13 - Малави
- 14 - Маврикий
- 15 - Бурунди
- 16 - Руанда
- 17 - Джибути
- 18 - Эритрея

Специализация сельского хозяйства:

-  - Потребительское хозяйство
-  - Неиспользуемые и малоиспользуемые земли
-  - Товарное земледелие и скотоводство
-  - Товарное земледелие
-  - Товарное скотоводство



ПРОМЫШЛЕННОСТЬ АФРИКИ



Промышленный район Витватерсранд

- 1 - Сеута и Мелилья (Исп.)
- 2 - Гамбия
- 3 - Гвинея-Бисау
- 4 - Кабо-Верде
- 5 - Сьерра-Леоне
- 6 - Либерия
- 7 - Того
- 8 - Бенин
- 9 - Экваториальная Гвинея
- 10 - Сан-Томе и Принсипи
- 11 - Лесото
- 12 - Свазиленд
- 13 - Малави
- 14 - Мадагаскар
- 15 - Бурунди
- 16 - Руанда
- 17 - Джибути
- 18 - Эритрея



Доля промышленности в ВВП:

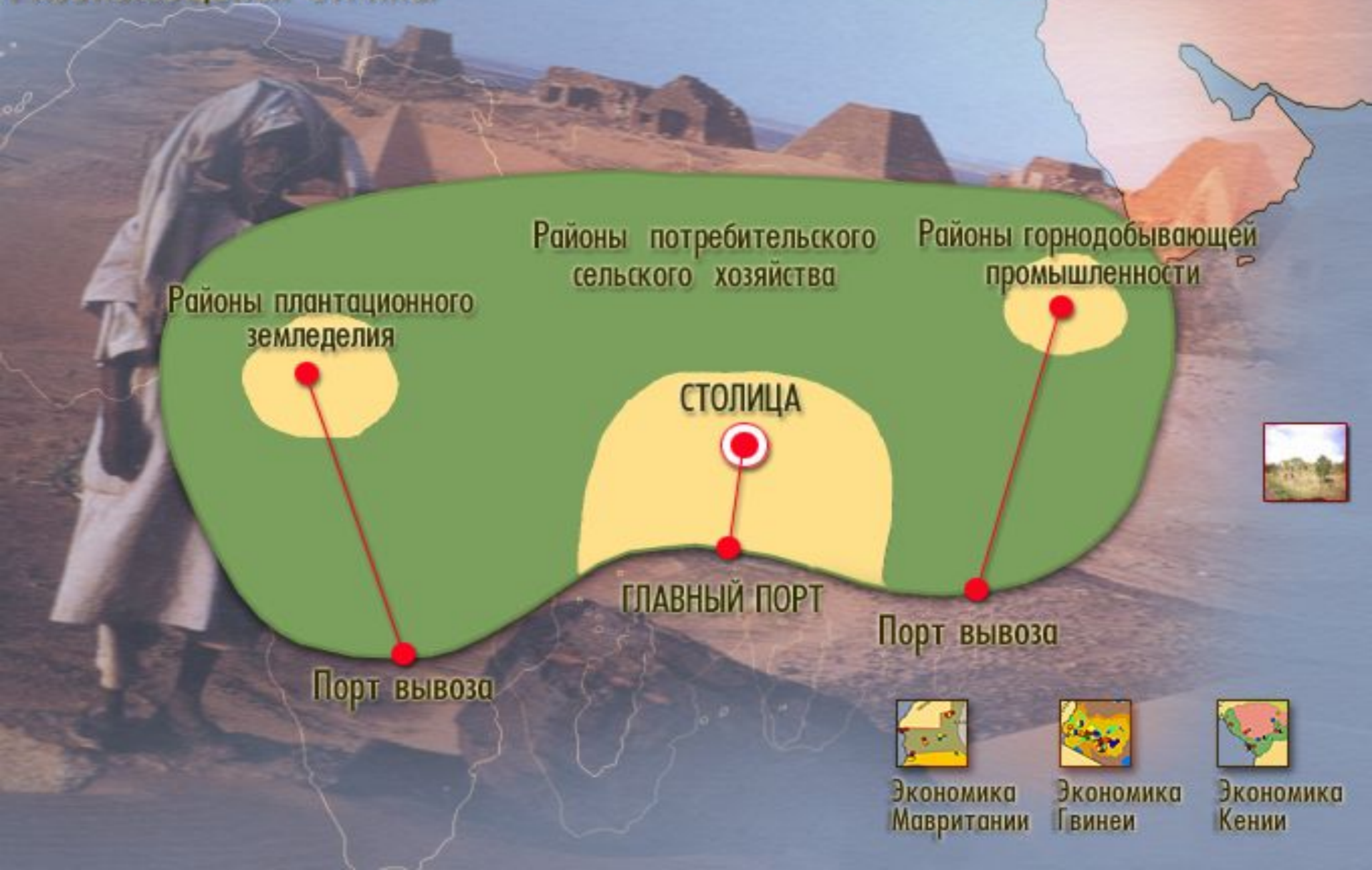
- свыше 40%
- от 25 до 40%
- от 15 до 25%
- менее 15%

Обрабатывающая промышленность:

- Черная металлургия
- Цветная металлургия
- Нефтеперерабатывающая
- Химическая
- Машиностроение и металлообработка
- Строительных материалов
- Текстильная
- Пищевая

АФРИКА

ТЕРРИТОРИАЛЬНАЯ СТРУКТУРА ХОЗЯЙСТВА РАЗВИВАЮЩЕЙСЯ СТРАНЫ



Транспорт

Средняя густота транспортной сети:

- Свыше 50
- От 31 до 50
- От 21 до 30
- От 11 до 20
- До 10

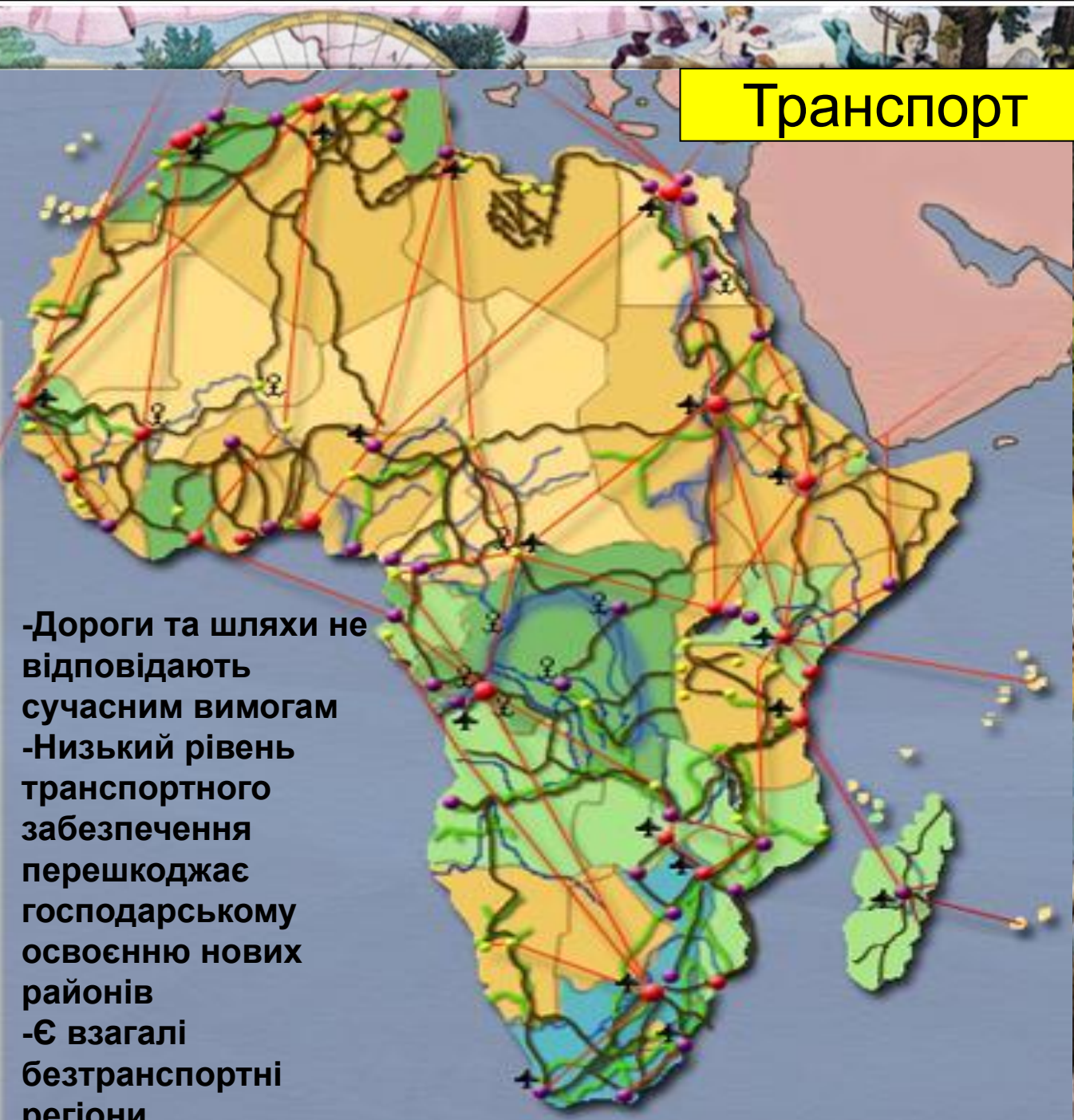
Крупнейшие транспортные узлы:

- Международные комплексные функциональные
- Прочие многофункциональные
- Монофункциональные

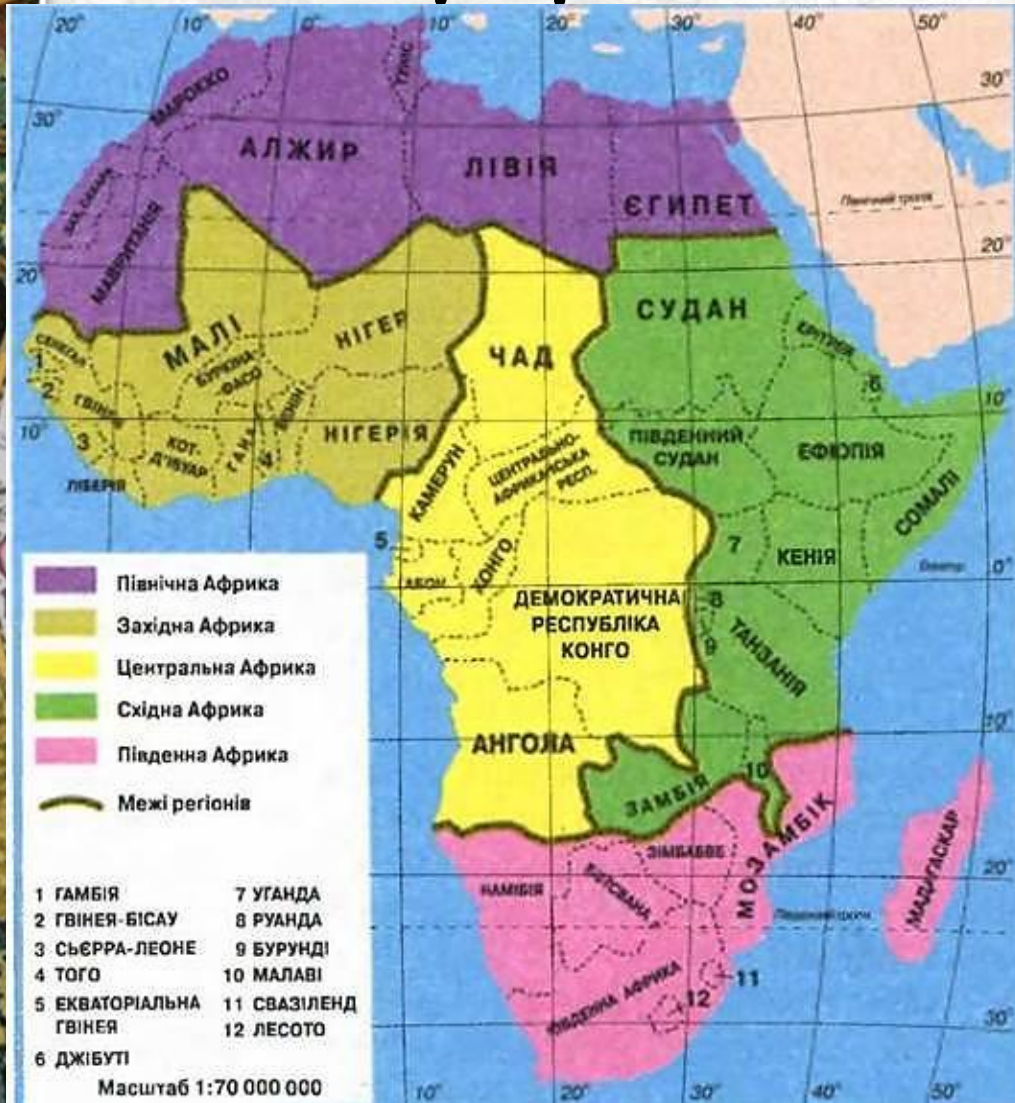
Транспортная сеть:



- Важнейшие авиалинии
- Автодороги
- Железные дороги
- Нефтегазопроводы
- Важнейшие судоходные участки рек
- Крупные аэропорты
- Речные порты и пристани

-Дороги та шляхи не відповідають сучасним вимогам
-Низький рівень транспортного забезпечення перешкоджає господарському освоєнню нових районів
-Є взагалі безтранспортні регіони



Субрегіони Африки.



-  Південна Африка
-  Східна Африка
-  Північна Африка
-  Західна Африка
-  Центральна Африка

Узагальнення. Перевір себе.

ЗАГАЛЬНА ХАРАКТЕРИСТИКА АФРИКИ

ЕГП країн, політична карта

**Які зміни і чому відбулися на політичній карті Африки після II світової війни?
Скільки країн на сучасній політичній карті Африки?**

Природні ресурси

**Як можна оцінити природно-ресурсний потенціал Африки?
Яка держава Африки володіє винятковим набором природних ресурсів?**

Населення

- **Яка чисельність населення регіону?**
- **Які країни Африки мають більше 100 млн. жителів?**
- **Які темпи відтворення населення?**
- **Який етнічний склад населення країн Африки?**
- **Які основні риси розміщення населення Африки?**
- **Які країни мають найвищий, а які найнижчий рівень урбанізації?**
- **Як проявляється в країнах Африки «міський вибух»?**
- **Назвіть найбільші міста Африки.**

Характеристика господарства

- **Які факти свідчать про економічну відсталість країн Африки?**
- **У чому полягають типові риси галузевої та територіальної структури господарства африканських країн?**
- **Що таке монотоварна спеціалізація?**
- **Де розташовані головні промислові райони цих країн?**
- **Які галузі обробної промисловості отримали в країнах Африки найбільший розвиток?**
- **Який тип сільського господарства переважає в цих країнах?**
- **За якими експортними с / г культурам вона займає провідне місце у світовому виробництві?**
- **Чи можна говорити, що Африка має загальноафриканські транспортну мережу?**
- **Чому більшість залізниць Африки має характер ліній проникнення?**