



ИНТЕЛЛЕКТУАЛЬНАЯ ИГРА

О правилах Дорожного
движения говорим с уважением!



[НАЧАТЬ ИГРУ](#)

ДОРОЖНАЯ РАЗМЕТКА

1
0

2
0

3
0

4
0

5
0

СВЕТОФОР

1
0

2
0

3
0

4
0

5
0

ДОРОЖНЫЕ ЗНАКИ

1
0

2
0

3
0

4
0

5
0

МЫ - ПАССАЖИРЫ

1
0

2
0

3
0

4
0

5
0

ДОРОЖНЫЕ СИТУАЦИИ

1
0

2
0

3
0

4
0

5
0



ССЫЛКИ



ДОРОЖНАЯ РАЗМЕТКА

10



Тротуар




ОТВЕТ




Какие бывают виды пешеходных переходов?



Наземный



Надземный



Подземный



ОТВЕТ



ДОРОЖНАЯ РАЗМЕТКА

30

Место пересечения, примыкания или разветвления дорог называется...




Перекрёсток

ОТВЕТ



ДОРОЖНАЯ РАЗМЕТКА

40



Пешеходы должны переходить регулируемые перекрёстки на разрешающие сигналы светофора или регулировщика


ОТВЕТ



ДОРОЖНАЯ РАЗМЕТКА

50

*Как переходить
нерегулируемый
перекрёсток?*



Переходить дорогу на нерегулируемом перекрёстке следует по обозначенному пешеходному переходу. Если его нет, тогда дорогу в этом месте надо переходить по воображаемой линии продолжения тротуаров.


ОТВЕТ



СВЕТОФОР

10

Перечислите значения поочередно загорающих сигналов светофора.



- разрешает движение, зеленый
- запрещает движение, в том числе и движение на перекрестке и предупреждает водителя о том, что будет включен запрещающий сигнал

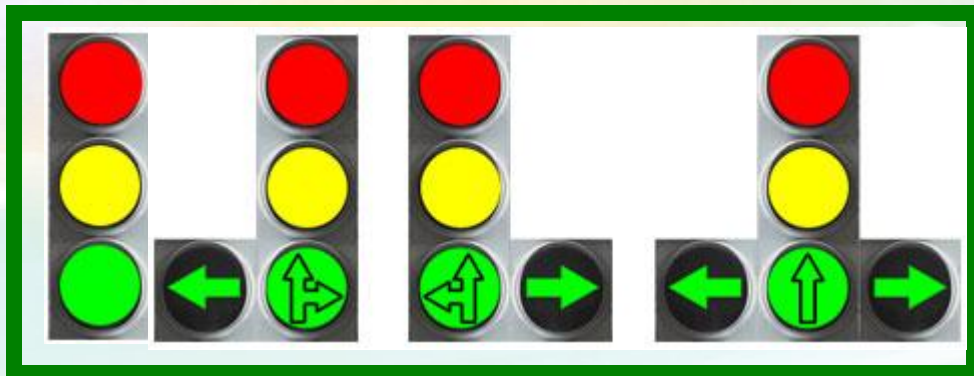
ОТВЕТ



СВЕТОФОР

20


Какие бывают виды дорожных светофоров?



Транспортные



Пешеходные

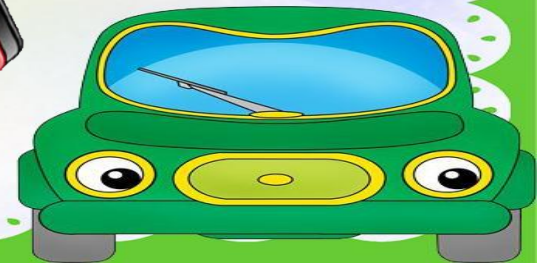


Для велосипедистов

ОТВЕТ




Уступи дорогу!



СВЕТОФОР

40



*Дорогу переходить на
красный сигнал светофора
строго запрещено!!!*



ОТВЕТ





СВЕТОФОР

50

*Какому сигналу светофора соответствует
каждое положение регулировщика?*

1



2



3



ОТВЕТ



КОТ В МЕШКЕ



*Какой дорожный знак называется
«Велосипедная дорожка»?*



ОТВЕТ



ДОРОЖНЫЕ ЗНАКИ

20

Отгадай загадку:

Знак ребят предупреждает

От несчастья ограждает:

«Переезд! Во всю гляди!

За шлагбаумом следи»

*«Железнодорожный переезд со
шлагбаумом»*



ОТВЕТ



ДОРОЖНЫЕ ЗНАКИ

30

Какой знак запрещает движение пешеходов? К какой группе он относится?



*Запрещающий дорожный знак
«Движение пешеходов запрещено»*

ОТВЕТ



ДОРОЖНЫЕ ЗНАКИ

40

К какой группе относятся знаки? Назови каждый знак.



«Скользкая дорога»



«Дорожные работы»



«Неровная дорога»

Предупреждающие знаки



ОТВЕТ



ДОРОЖНЫЕ ЗНАКИ

50

Какой знак лишний? Почему? Назови каждый знак.



ОТВЕТ



ДОРОЖНЫЕ ЗНАКИ

50

Лишний знак «Велосипедная дорожка», так как он относится к группе Предписывающих знаков, а остальные знаки Информационно – указательные:



«Подземный пешеходный переход»




«Место трамвайной остановки»



МЫ - ПАССАЖИРЫ


10



Трамвай



Автобус



Электрпоезд



Такси




Троллейбус



ОТВЕТ



*Где нужно стоять
в ожидании
пассажирского
транспорта?*



*Пассажир должен находиться на
автобусной остановке, посадочной
площадке. Если посадочная площадка
отсутствует, транспорт ожидают на
тротуаре или обочине.*




ОТВЕТ



Надо подождать,
пока транспорт
уедет, чтобы он не
мешал осмотру
проезжей части.

Как переходи
выходе из па
трансп




Внимательно
посмотри, нет ли
машин, а затем
переходи дорогу по
пешеходному
переходу.



ОТВЕТ





Когда трамвай прибыл на остановку, надо убедиться, что все машины остановились. После этого следует выходить на проезжую часть.





ОТВЕТ



Какие правила поведения в транспорте нарушат дети?

Вопрос - аукцион



ОТВЕТ



МЫ - ПАССАЖИРЫ

50



На железнодорожном транспорте важно соблюдать правила поведения пассажиров. Нельзя высовываться из окон и толкать других пассажиров.



ДОРОЖНЫЕ СИТУАЦИИ

10



*Кусты, деревья, забор мешают
осмотреть дорогу и скрывают идущий
по ней транспорт*



ОТВЕТ



ДОРОЖНЫЕ СИТУАЦИИ

20



Пешеход должен двигаться по обочине, придерживаться левой стороны, то есть идти навстречу движению транспорта.




ОТВЕТ



На тротуаре находится препятствие. Как его преодолеть?

*Нужно
часть
в од*



*езжей
гаясь
е и*




ОТВЕТ



ДОРОЖНЫЕ СИТУАЦИИ

40

Школьники подошли к проезжей части. Горит зелёный свет пешеходного светофора. В это время они услышали звуковой сигнал приближающейся машины с включённым маячком. Как пешеходы должны поступить?




Воздержаться от перехода, остановиться. Пропустить машину, потом перейти дорогу.



ОТВЕТ





Опасна. Стоящая у тротуара машина мешает осмотреть проезжую часть. Переходя дорогу, можно не заметить другую машину, которая едет за стоящей у тротуара.



ОТВЕТ



ИНТЕРНЕТ -РЕСУРСЫ

<http://http://автошколадома.рф>.

<http://vikafedotova38.ucoz.ru><http://vikafedotova38.ucoz.ru>_ Шаблоны презентаций ПДД

<http://ped-kopilka.ru>. Викторины для школьников по правилам дорожного движения, ПДД.

<http://nsportal.ru>. Классный час (3 класс) на тему: Викторина по ПДД.

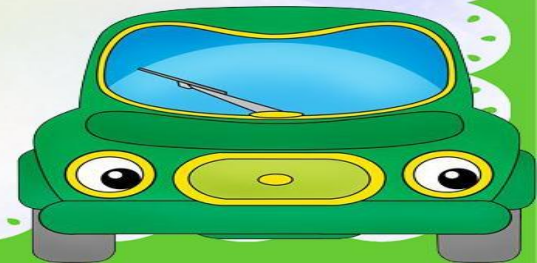
<http://kladraz.ru>. Викторина по ПДД для школьников.

<http://pedsovet.su>. Викторина ПДД для начальной школы.

<http://gradeschool.ucoz.ru>. Викторина по правилам дорожного движения.

<http://deti-online.com> Загадки про дорогу.

<http://kid-game.ru> Растём играючи.



ИНФОРМАЦИОННЫЕ РЕСУРСЫ

1. Бабина Р.П. Волшебник перекрёстка. 1 кл.: Учеб. пособие. – М.: Мнемозина, 2007.
2. Бабина Р.П. Волшебник перекрёстка. 3 кл.: Учеб. пособие. – М.: Мнемозина, 2007.
3. Бабина Р.П. Волшебник перекрёстка. 4 кл.: Учеб. пособие. – М.: Мнемозина, 2007.
4. Дорожная безопасность: Учебная книжка-тетрадь для 3 класса / Под общ. Ред. Главного государственного инспектора безопасности дорожного движения генерал – лейтенанта милиции В.Н.Кириянова. – М.: Издательский Дом Третий Рим, 2006.
5. Дорожная безопасность: Учебная книжка-тетрадь для 4 класса / Под общ. Ред. Главного государственного инспектора безопасности дорожного движения генерал – лейтенанта милиции В.Н.Кириянова. – М.: Издательский Дом Третий Рим, 2006.
6. Изучаем правила дорожного движения: разработки уроков и тематических занятий в 1-4 классах/авт.-сост. Е.Ю.Лавлинскова.- Волгоград: Учитель, 2008.

