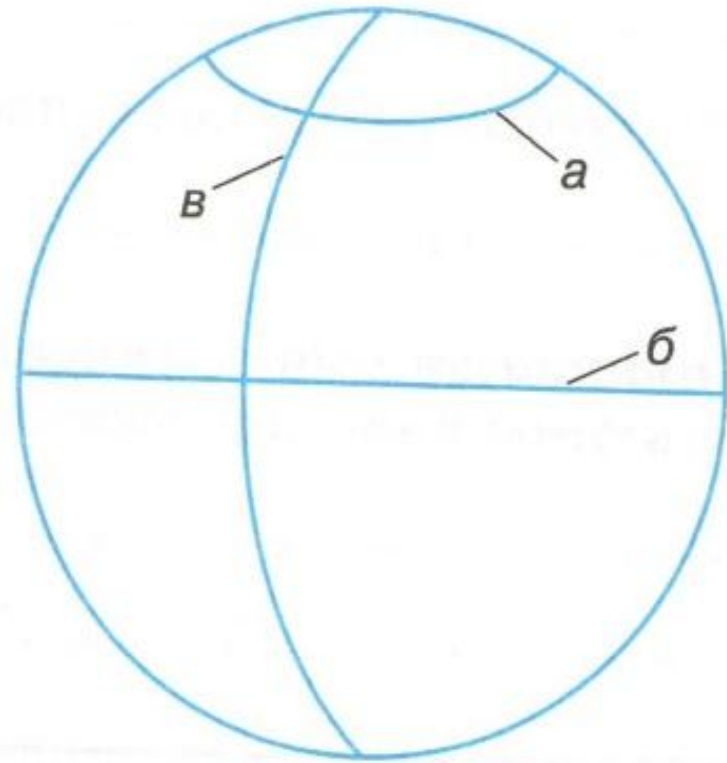


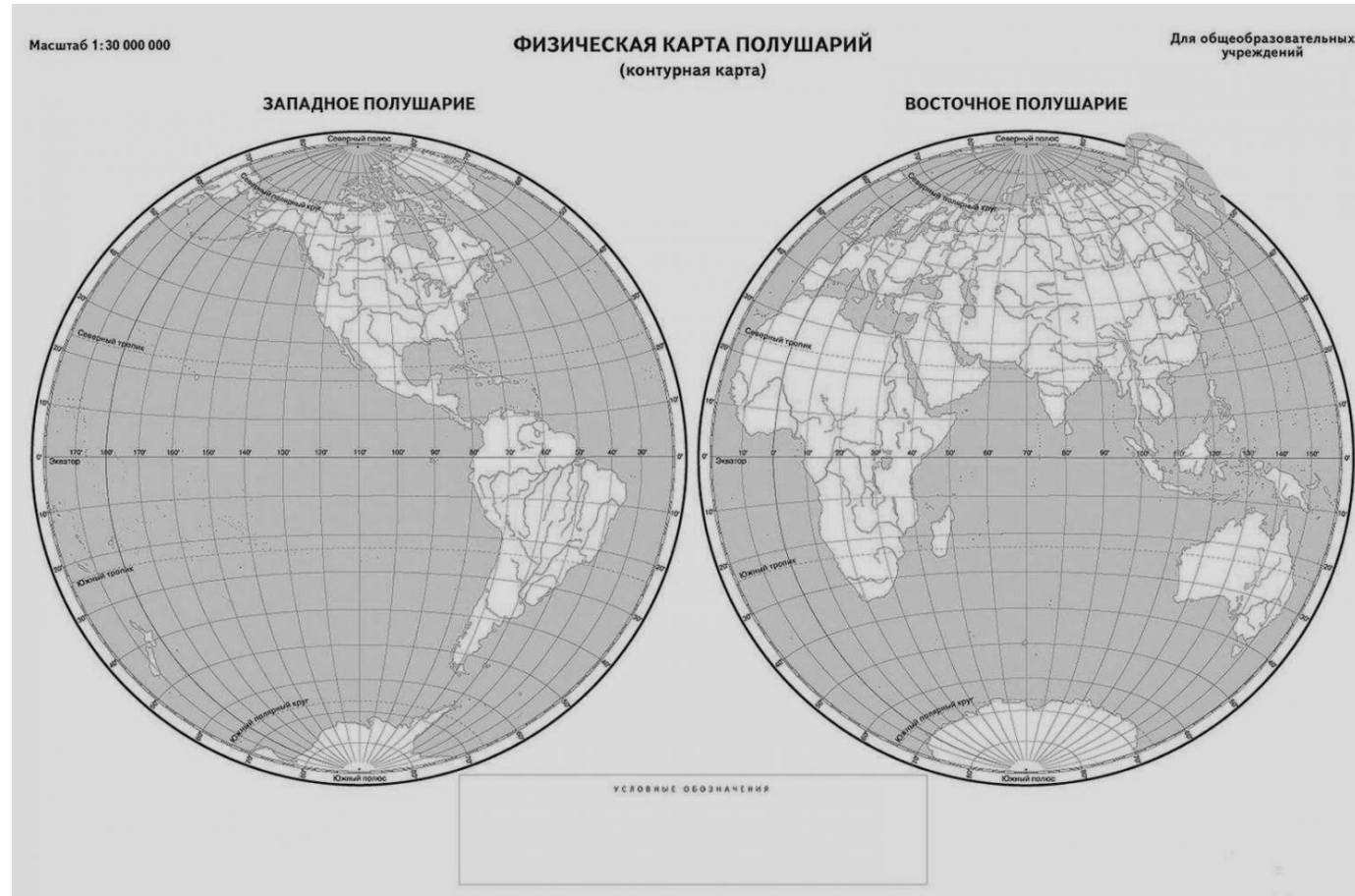
Типичные задания для
подготовки к итоговой
аттестации

5 класс

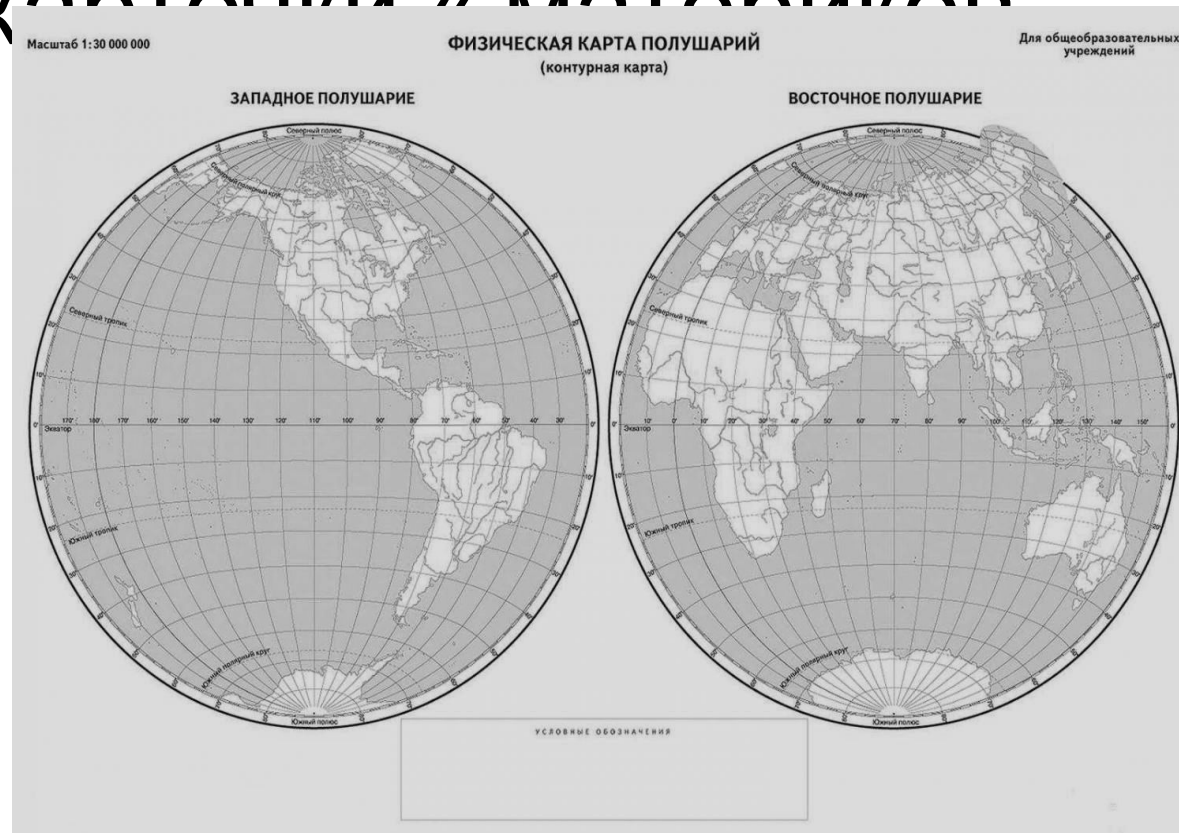
Укажите, какой буквой на рисунке обозначена параллель? Экватор? Меридиан?



Какие материки расположены в восточном полушарии? Подпиши их



На территории какого материка
расположились самые высокие горы?
Подпиши этот континент. Вспомни
«Визитные карты» материков



Прочитай учебник на стр. 83

- Чем отличается план местности от географической карты?
- Чем они похожи?

Прочитай параграф 22

Составь описание материка Африка

Составь описание материка Северная Америка

Составь описание материка Южная Америка




Составь описание материка Австралия

Составь описание материка Евразия

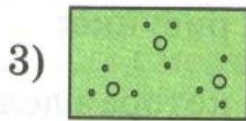

Составь описание материка Антарктида

Прочитай стр. 85 учебника, вспомни условные знаки , ответь на вопросы

1. Какой из указанных условных знаков обозначает луг?



2. Какой из указанных условных знаков обозначает заросли кустарника?



Прочитай параграфы 10, 11. Найди ответы на вопросы:

1. какие планеты относятся к земной группе? Почему?

2. Какие планеты мы относим к планетам-гигантам? Почему?

Прочитай параграфы 4,5,6. Найди ОТВЕТЫ на вопросы.

- 1. Чем знаменит Геродот?
- 2. кто впервые измерил длину экватора?
- 3. Марко Поло, Бартоломеу Диаш , Васко да Гама – кто из них побывал в Китае, а кто впервые достиг самой южной точки Африки?
- 4. Как зовут первооткрывателя Америки?
- 5. где плавал Фернан Магеллан?
- 6. Кук или Янсзон открыл Австралию?
- 7. Кто впервые ступил на землю Антарктиды?

Прочитай параграфы 4,5,6. Найди
ответы на вопросы.

- 8. За какие три моря плавал Афанасий Никитин?
- 9. что искал Семен Дежнев от устья Колымы до устья Анадыря?

Подпиши основные стороны горизонта
синим, промежуточные стороны – красным
карандашом

