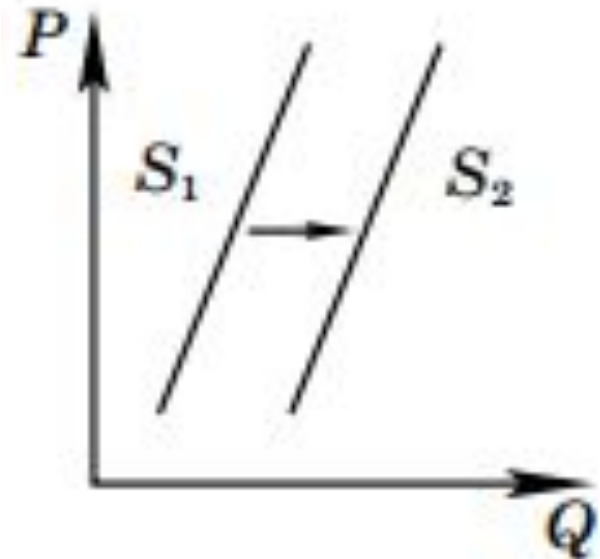


ЕГЭ. 10 класс.

Спрос и предложение

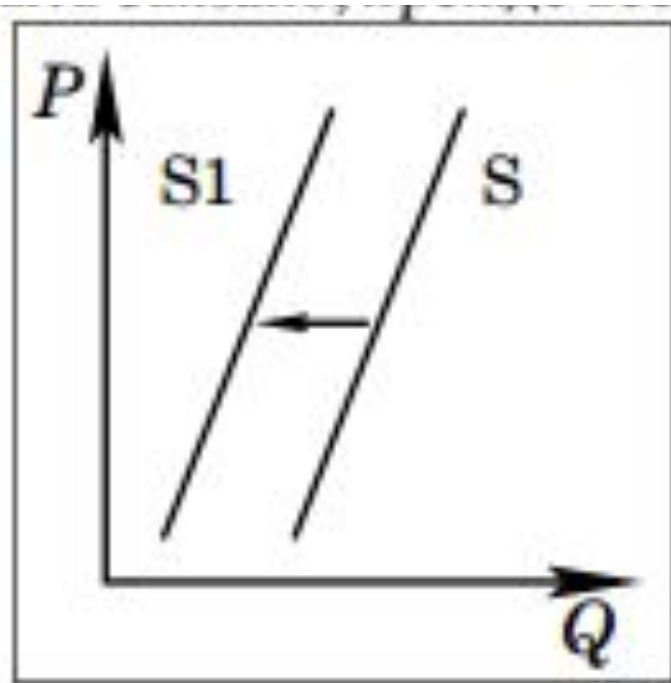
1. На графике изображено изменение предложения роликовых коньков на потребительском рынке. Что из приведённого ниже могло вызвать сдвиг кривой предложения из положения S_1 в положение S_2 ? (На графике P – цена товара, Q – количество товара.)

- 1) сокращение количества фирм, производящих роликовые коньки
- 2) внедрение новых технологий производства роликовых коньков
- 3) рост цен на комплектующие изделия для роликовых коньков
- 4) рост тарифов на электроэнергию



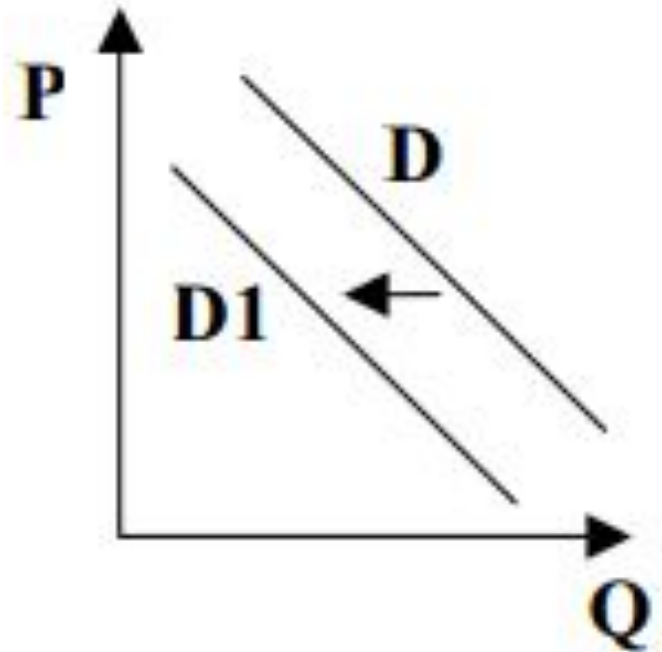
2. На рисунке отражена ситуация на рынке зерна: линия предложения S переместилась в новое положение S_1 (P – цена товара, Q – количество товара). Это перемещение может быть связано, прежде всего, с (со)

- 1) предоставлением производителям зерна налоговых льгот
- 2) снижением цен на топливо и удобрения
- 3) ростом числа хлебопекарных и кондитерских предприятий
- 4) ожиданиями низкого урожая зерна



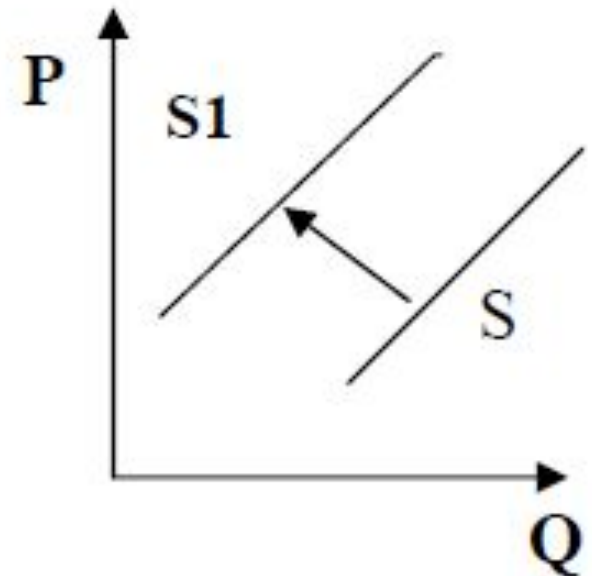
3. На рисунке отражена ситуация на рынке туристических услуг: линия спроса D переместилась в новое положение $D1$. (P – цена товара, Q – объем спроса товара) Это перемещение может быть связано, прежде всего, с

- 1) ожиданиями экономического подъема
- 2) завершением туристического сезона
- 3) увеличением доходов потребителей
- 4) ростом числа туристических фирм



4. На рисунке отражена ситуация на рынке экологически чистых продуктов питания: линия предложения S переместилась в новое положение S_1 . (P – цена товара, Q – объем предложения товара) Это перемещение может быть связано, прежде всего, с (со)

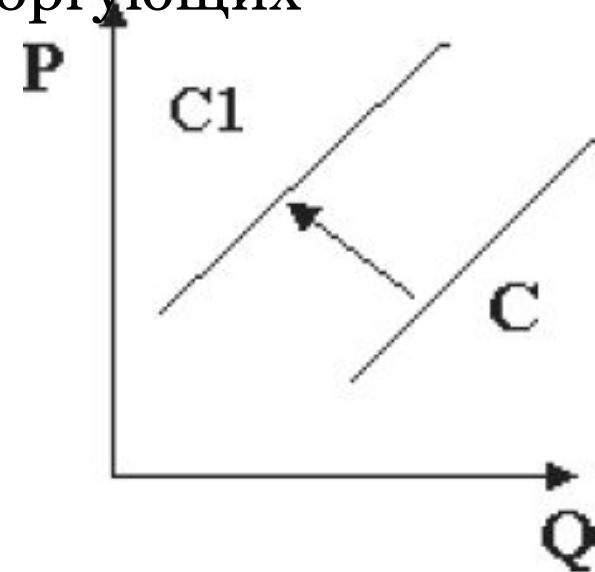
- 1) ростом доходов потребителей
- 2) сокращением числа хозяйств, не использующих химические удобрения
- 3) увеличением производства органических удобрений и гумуса
- 4) введением новой технологии производства экологических продуктов



5. На рисунке отражена ситуация на рынке электроники и бытовой техники: линия предложения S переместилась в новое положение S_1 . (P – цена товара, Q – объем предложения товара) Это перемещение может быть связано, прежде всего, с

(со)

- 1) существенным ростом доходов населения**
- 2) повышением пошлин на ввоз бытовой техники и электроники иностранного производства**
- 3) снижением себестоимости электроэнергии**
- 4) открытием новых сетевых магазинов, торгующих электроникой и бытовой техникой**



6. На рисунке отражена ситуация на рынке мобильных телефонов и гаджетов: линия спроса D переместилась в новое положение $D1$. (P – цена товара, Q – объем спроса товара) Это перемещение может быть связано, прежде всего, с (со)

- 1)** проведением широкомасштабных распродаж и бонусных акций
- 2)** повышением цен на новые модели
- 3)** закрытием заводов по производству комплектующих
- 4)** повышением пошлин на ввоз импортной электронной техники

