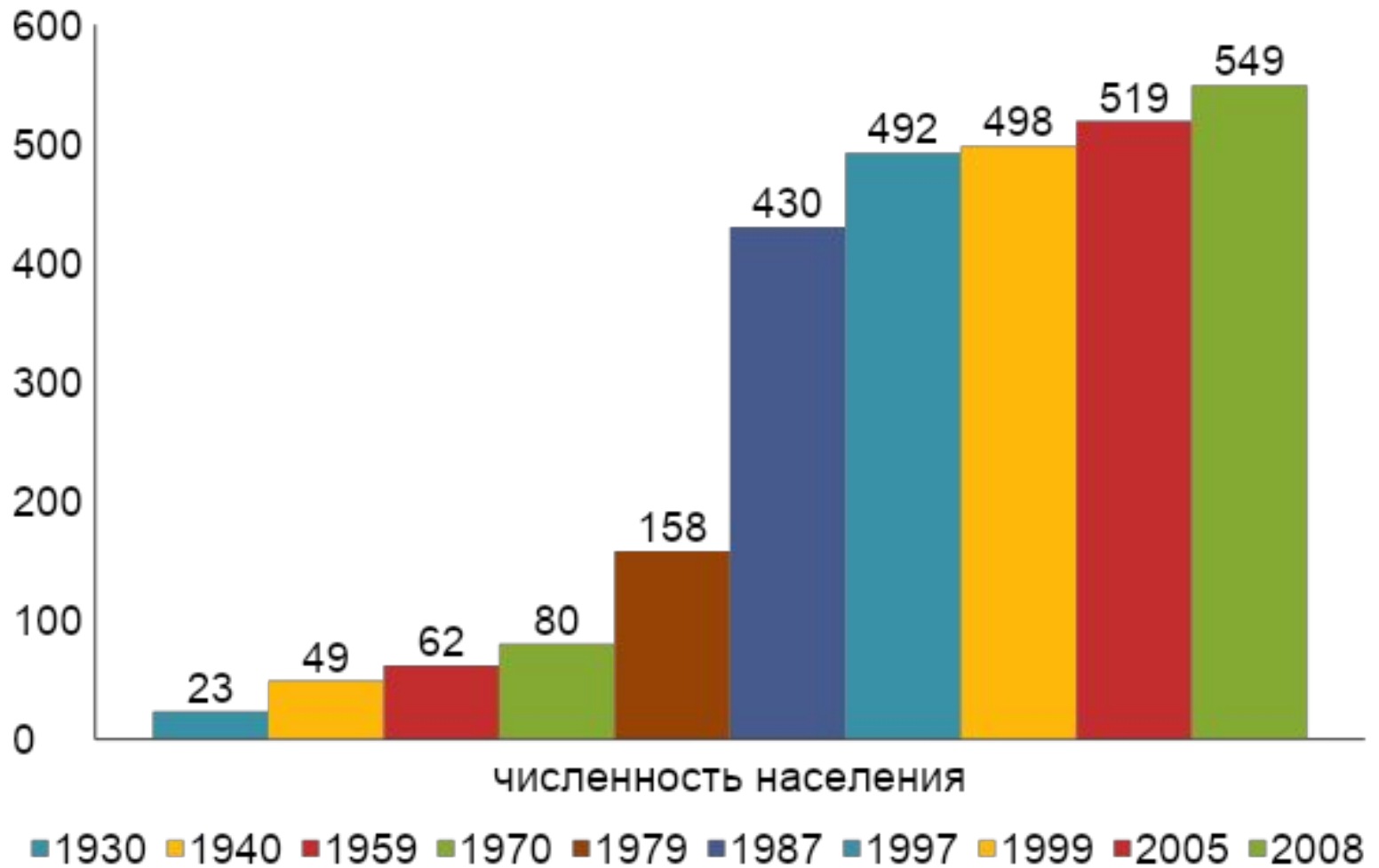


Тема: Численность населения, его динамика и структура занятости

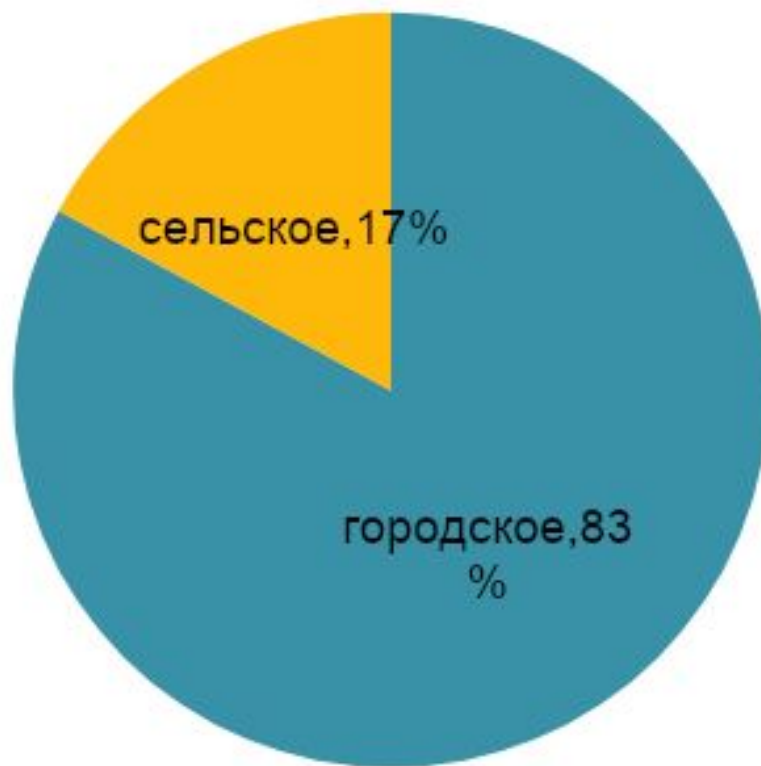
Учитель географии МОУ – Горковская СОШ:
Макеева Светлана Владимировна

Динамика роста численности населения ЯНАО с момента образования (тыс. чел)



Рост населения сопровождается увеличением численности городского населения

численность



Города нефтегазового комплекса



Надым





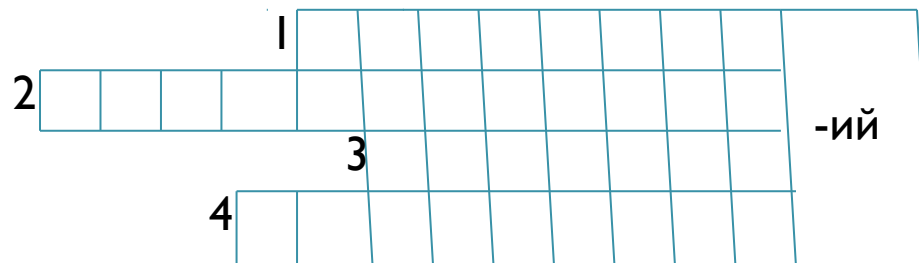





Муравленко



**Задание: Найдите географические
объекты на карте
С окончанием -ий**





Какие населенные пункты ЯНАО,
встречаются в стихотворении?

Развилка на мысу и город на мысу..
Здесь и сейчас семь лиственниц
стоят,
Лесной реки журчащий звук таят.



Это перевод на русский язык:

«Мыс на развилке» – Тарко-Сале;

«Город на мысу» – Салехард;

«Семь лиственниц» - Лабытнанги

Рассмотрите таблицу 3.2 на стр. 172

Структура занятости населения ЯНАО

1. В каких отраслях экономики самая высокая занятость населения?

2. Используя таблицу постройте круговую диаграмму «Структура занятости населения в основных отраслях экономики округа»

Ответьте на вопросы:

1. Город, расположенный на полярном круге?
2. Какой город до 1933 года назывался Обдорск?
3. Какой город просуществовал всего 100 лет?
4. Главное полезное ископаемое Ямала – это:
5. Почему, начиная с 1970 года, темпы прироста населения в округе были одними из самых высоких в Российской Федерации?
6. С чем связано преобладание в округе мужского населения?

Закончите предложения:

Работа с учебником стр. 170-171

1. В 1930-1950-х годах население округа пополнялось за счет _____;
2. Резкое увеличение численности населения округа наблюдалось в связи с _____;
3. Рост населения сопровождался _____;
4. Основная часть населения занята _____;
5. Сельское население занято _____.



Домашнее задание:

Стр. 170-172